

LÍNGUA PORTUGUESA MÓDULO III

QUESTÃO 1. LEIA E OBSERVE O SOM DAS PALAVRAS COM LH.

FILHO	VELHOS	TRABALHAVA			
AS LETRAS LH REPRESENTAM UM ÚNICO SOM. QUANDO DUAS OU MAIS LETRAS JUNTAS REPRESENTAM UM SOM DIZEMOS QUE OCORREU UM DÍGRAFO. O MESMO OCORRE COM AS LETRAS.					
NH	CH	RR	SS	QU	GU

SIGA O MODELO E EXERCITE O USO DO DÍGRAFO LH E CH.

FALA – FALHA	CATO - CHATO
BOLA -	COCA -
ROLA -	CAMA -
TELA -	CAVE -

AGORA O DÍGRAFO NH. TROQUE A PRIMEIRA LETRA PELA LETRA INDICADA E FORME OUTRAS PALAVRAS.

TINHA	VENHA
M – MINHA	L - LENHA
P -	T -
L -	S -
V -	P -

QUESTÃO 2. OBSERVE A TIRINHA DO CHICO BENTO.



APÓS LEITURA E OBSERVAÇÃO DA TIRINHA, RESPONDA POR QUE CHICO BENTO FALOU A ZÉ LELÉ QUE ESTAVA PLANTANDO UMA ÁRVORE DE ESPERANÇA.

QUESTÃO 3. COMPLETE O QUADRO ABAIXO COM O QUE SE PEDE.

FRUTO	ÁRVORE
GOIABA	GOIABEIRA
COCO	
BANANA	
LIMÃO	
ABACATE	
MAMÃO	
MANGA	

QUESTÃO 4. LEIA O POEMA DE CORA CORALINA ABAIXO.

POEMA AOS MOÇOS

EU SOU AQUELA MULHER
A QUEM O TEMPO MUITO ENSINOU.
ENSINOU A AMAR A VIDA
E NÃO DESISTIR DA LUTA,

RECOMEÇAR NA DERROTA,
RENUNCIAR A PALAVRAS
E PENSAMENTOS NEGATIVOS.
ACREDITAR NOS VALORES HUMANOS
E SER OTIMISTA.

CORA CORALINA



AGORA, COM BASE NA LEITURA REALIZADA, MARQUE COM **(F)** AS ALTERNATIVAS FALSAS E COM **(V)** AS ALTERNATIVAS VERDADEIRAS.

- () O TEMPO NADA ENSINA.
- () DEVEMOS DESISTIR DA LUTA E ACEITAR A DERROTA.
- () DEVEMOS RENUNCIAR A PALAVRAS E PENSAMENTOS NEGATIVOS.
- () DEVEMOS ACREDITAR NOS VALORES HUMANOS E SER OTIMISTA.



QUESTÃO 5. LEIA O TEXTO ABAIXO E DEPOIS PRODUZA O SEU.

SIMPATIA PARA NOITE DE SÃO JOÃO


ESCREVA EM PEDACINHOS DE PAPEL OS NOMES DOS RAPAZES OU DAS MOÇAS COM QUEM GOSTARIA DE SE CASAR. ENROLE-OS E DEPOSITE NUMA BACIA COM ÁGUA, NO DIA SEGUINTE, O QUE AMANHECER ABERTO CONTERÁ O NOME DO FUTURO COMPANHEIRO OU COMPANHEIRA.

AS **SIMPATIAS** SÃO RITUAIS DA CULTURA POPULAR, ONDE SE BUSCA A REALIZAÇÃO DE UM DESEJO.

AGORA ESCREVA UMA SIMPATIA QUE VOCÊ CONHECE.

QUESTÃO 6. ENUMERE AS FRASES E DEPOIS COPIE NA SEQUÊNCIA CORRETA.

- () SUA MÃE FOI À PAPELARIA E COMPROU TODO MATERIAL DA LISTA.
- () MARILU ENTROU NA ESCOLA.
- () QUANDO CHEGOU EM CASA, MARILU DEU A LISTA PARA SUA MÃE E PEDIU PARA ELA COMPRAR.
- () NO PRIMEIRO DIA DE AULA A PROFESSORA DE MARILU, DEU A LISTA DE MATERIAL ESCOLAR PARA COMPRAR.




QUESTÃO 7. LEIA O TEXTO BIBLIOGRÁFICO DE CORA CORALINA.

BIOGRAFIA DE CORA CORALINA

CORA CORALINA (1889-1985) FOI UMA POETISA E CONTISTA BRASILEIRA. PUBLICOU SEU PRIMEIRO LIVRO QUANDO TINHA 75 ANOS E TORNOU-SE UMA DAS VOZES FEMININAS MAIS RELEVANTES DA LITERATURA NACIONAL.

ANA LINS DOS GUIMARÃES PEIXOTO CONHECIDA COMO CORA CORALINA, NASCEU NA CIDADE DE GOIÁS, NO ESTADO DE GOIÁS, NO DIA 20 DE AGOSTO DE 1889. FILHA DE FRANCISCO DE PAULA LINS DOS GUIMARÃES PEIXOTO, DESEMBARGADOR, NOMEADO POR DOM PEDRO II, E DE JACINTA LUÍSA DO COUTO BRANDÃO. CURSOU APENAS ATÉ A TERCEIRA SÉRIE DO CURSO PRIMÁRIO.



DE UM MODO GERAL AS BIOGRAFIAS CONTAM A HISTÓRIA DA VIDA DE ALGUÉM!

AGORA, ESCREVA EM SEU CADERNO UM POUCO DA SUA VIDA, A SUA BIOGRAFIA.

QUESTÃO 8. COMPLETE O TEXTO ABAIXO COM AS PALAVRAS QUE ESTÃO FALTANDO. OBSERVE NO QUADRO QUAIS PALAVRAS VOCÊ VAI ESCREVER, LEIA COM ATENÇÃO E FIQUE ATENTO AO NÚMERO DE LETRAS, NÃO PODE SOBRAR QUADRINHO.

5	6	7	8
FESTA	SOBROU	CADEIRA	CANTEIRO
FONTE	SENTOU	CASTELO	CORREDOR
FEIRA	CEBOLA	COSTELA	CONTADOR

O MACACO FOI A

NÃO SABIA O QUE COMPRAR

COMPROU UMA


PARA A COMADRE SE SENTAR

A COMADRE SE

A CADEIRA ESCORREGOU

COITADA DA COMADRE FOI PARAR NO

QUESTÃO 9. PROCURE NO DIAGRAMA O NOME DE CADA FIGURA ABAIXO.



C	O	E	S	P	I	G	A	L	E	Â	O
Q	D	Y	M	Á	S	C	A	R	A	V	G
U	L	Á	M	K	S	I	T	O	G	B	H
E	P	Á	O	K	S	S	L	H	O	N	J
P	M	Á	P	S	O	I	S	P	A	D	A
A	O	Á	O	S	Í	E	S	F	G	J	U
Q	P	Á	P	S	Í	E	S	O	I	T	O
X	U	Á	U	S	Í	E	S	D	I	Q	X
V	H	Á	H	S	Í	E	S	C	A	B	O
T	E	Á	B	S	Í	E	S	A	U	A	C
M	Â	Á	E	S	Í	E	S	V	L	H	E
P	E	Á	E	S	Í	E	S	L	B	Q	B

QUESTÃO 10. DITADOS POPULARES SÃO FRASES QUE SE ESPALHAM TRAZENDO UM ENSINAMENTO. MARQUE UM X NO SIGNIFICADO DOS DITADOS POPULARES.

NÓS TEMOS O COSTUME DE DIZER:

QUEM TEM TELHADO DE VIDRO NÃO JOGA PEDRA NO TELHADO DOS OUTROS.

ESSE DITADO POPULAR QUER DIZER QUE:

() O TELHADO DA CASA É FRÁGIL E SE QUEBRA FÁCIL.

() QUE O QUE NÃO DESEJAMOS PARA NÓS NÃO PODEMOS DESEJAR PARA OS OUTROS.

MACACO VELHO NÃO METE A MÃO EM CUMBUCA.

ESSE DITADO POPULAR QUER DIZER QUE:

() SÓ METE A MÃO EM CUMBUCA QUEM É BOBO.

() QUEM JÁ PASSOU POR UMA EXPERIÊNCIA DESAGRADÁVEL SABE COMO EVITÁ-LA.


() QUEM COLOCA A MÃO EM CUMBUCA FICA COM ELA PRESA.

MATEMÁTICA MÓDULO III

QUESTÃO 1. COMPLETE AS TABELAS DE ACORDO COM A INDICAÇÃO.

METADE		DOBRO		TRIPLO		QUÁDRUPLO	
18	9	18	36	18	54	18	72
100		100		100		100	
12		12		12		12	
20		20		20		20	
8		8		8		8	
24		24		24		24	
36		36		36		36	
42		42		42		42	

QUESTÃO 2. ENCONTRE 7 ERROS ENTRE AS DUAS FIGURAS DO CASCÃO TOCANDO BATERIA.





QUESTÃO 3. VAMOS PRATICAR A CONTAGEM DO TEMPO?

HORAS, MINUTOS E SEGUNDOS SÃO UNIDADES DE CONTAGEM DE TEMPO.



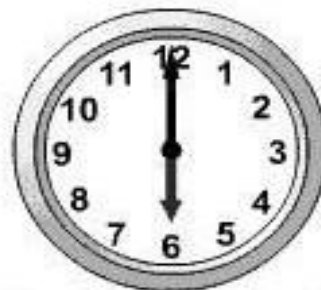
A) UMA HORA TEM QUANTOS MINUTOS? _____

B) E MEIA HORA? _____

C) QUANTAS HORAS TEM UM DIA? _____


D) E MEIO DIA? _____

QUESTÃO 4. QUE HORAS ESTÃO MARCANDO OS RELÓGIOS ABAIXO?





QUESTÃO 5. DESENHE OS PONTEIROS NOS RELÓGIOS ABAIXO DE ACORDO COM O HORÁRIO INDICADO.




2:00




5:00



7:00




12:00



1:30



3:30



9:30



8:30

QUESTÃO 6. AINDA FALANDO DO TEMPO, LEIA O TEXTO ABAIXO E DEPOIS RESPONDA AS QUESTÕES.

MESES DO ANO

TODO MÊS TEM SUA ORDEM PRA PODER
USAR COM NÚMEROS TAMBÉM.

É FÁCIL ENTENDER,
É SÓ PRATICAR!

ESSES SÃO OS MESES DO ANO:

JANEIRO, FEVEREIRO, MARÇO, ABRIL,
MAIO, JUNHO, JULHO, AGOSTO,
SETEMBRO, OUTUBRO, NOVEMBRO E
DEZEMBRO.

QUAL É O MÊS 2 ? _____

QUAL É O MÊS 9 ? _____

QUAL É O MÊS 12 ? _____

QUAL É O MÊS 5 ? _____

QUAL O MÊS DO SEU ANIVERSÁRIO?



QUESTÃO 7. VAMOS RESOLVER O PROBLEMA.



HEITOR FOI A FEIRA, COMPROU R\$ 15,00 DE BANANAS, R\$ 6,50 DE TOMATES, R\$ 7,00 DE CEBOLAS, R\$ 3,50 DE PEPINOS, R\$ 19,00 DE QUEIJO COALHO, R\$ 25,50 DE LARANJAS, R\$ 4,90 DE BATATAS DOCES. PAGOU TUDO COM R\$ 100,00. QUANTO HEITOR RECEBEU DE TROCO?

CÁLCULO:

RESPOSTA: HEITOR RECEBEU DE TROCO R\$ _____

QUESTÃO 8. RESOLVA O PROBLEMA PARA JUAREZ.



JUAREZ QUER COMPRAR UMA TELEVISÃO DE 32 POLEGADAS. ENCONTROU UMA POR R\$ 959,99. MAS ELE SÓ TEM R\$ 789,00. QUANTO FALTA PARA JUAREZ COMPRAR A TELEVISÃO?

CÁLCULO:

RESPOSTA: JUAREZ PRECISA DE R\$ _____

QUESTÃO 9. AINDA RESOLVENDO PROBLEMAS:

UMA CAIXA DE LÁPIS TEM DOZE UNIDADES. SE EU COMPRAR 7 CAIXAS, QUANTAS UNIDADES DE LÁPIS TEREI?



CÁLCULO:

RESPOSTA: EU TEREI _____ UNIDADES DE LÁPIS.

QUESTÃO 10. DESCUBRA A IDADE DE JACINTA RESOLVENDO O PROBLEMA ABAIXO.

JUSSARA TEM 30 ANOS, SUA IRMÃ JACIARA TEM 8 ANOS A MAIS. SUA PRIMA JACINTA TEM A METADE DA IDADE DE JACIARA. QUAL A IDADE DE JACINTA?

CÁLCULO:

RESPOSTA: JACINTA TEM _____ ANOS.