



QUESTÃO 3. MARQUE UM X NA COLUNA EM QUE O NOME DA FIGURA APARECE E PINTE A PALAVRA CERTA.

| | | | |
|--|---|---|---|
|  | FOTO <input type="checkbox"/> GATO <input type="checkbox"/> MOTO <input type="checkbox"/> | PATO <input type="checkbox"/> POTE <input type="checkbox"/> BOTE <input type="checkbox"/> | BOTA <input type="checkbox"/> BOTINA <input type="checkbox"/> BATINA <input type="checkbox"/> |
|  | BOTA <input type="checkbox"/> TALO <input type="checkbox"/> TACO <input type="checkbox"/> | TAPETE <input type="checkbox"/> TOMATE <input type="checkbox"/> FOTO <input type="checkbox"/> | PANETONE <input type="checkbox"/> PATETA <input type="checkbox"/> CANETA <input type="checkbox"/> |
|  | VOTO <input type="checkbox"/> TIJOLO <input type="checkbox"/> TULIPA <input type="checkbox"/> | PETECA <input type="checkbox"/> TAPETE <input type="checkbox"/> TEIA <input type="checkbox"/> | TELA <input type="checkbox"/> LATA <input type="checkbox"/> MATO <input type="checkbox"/> |
|  | PATO <input type="checkbox"/> MATO <input type="checkbox"/> GATO <input type="checkbox"/> | FITA <input type="checkbox"/> FOTO <input type="checkbox"/> FATO <input type="checkbox"/> | GATA <input type="checkbox"/> GATO <input type="checkbox"/> GUTO <input type="checkbox"/> |

QUESTÃO 4. DESCUBRA O SEGREDO E CONTINUE.



__CO

S A P A T O F G R A E S A C O E I
S A C O L A I O F S U C O K S J L
I L P I R S E R E I A E O W M I V



__CO



__PATO



__COLA



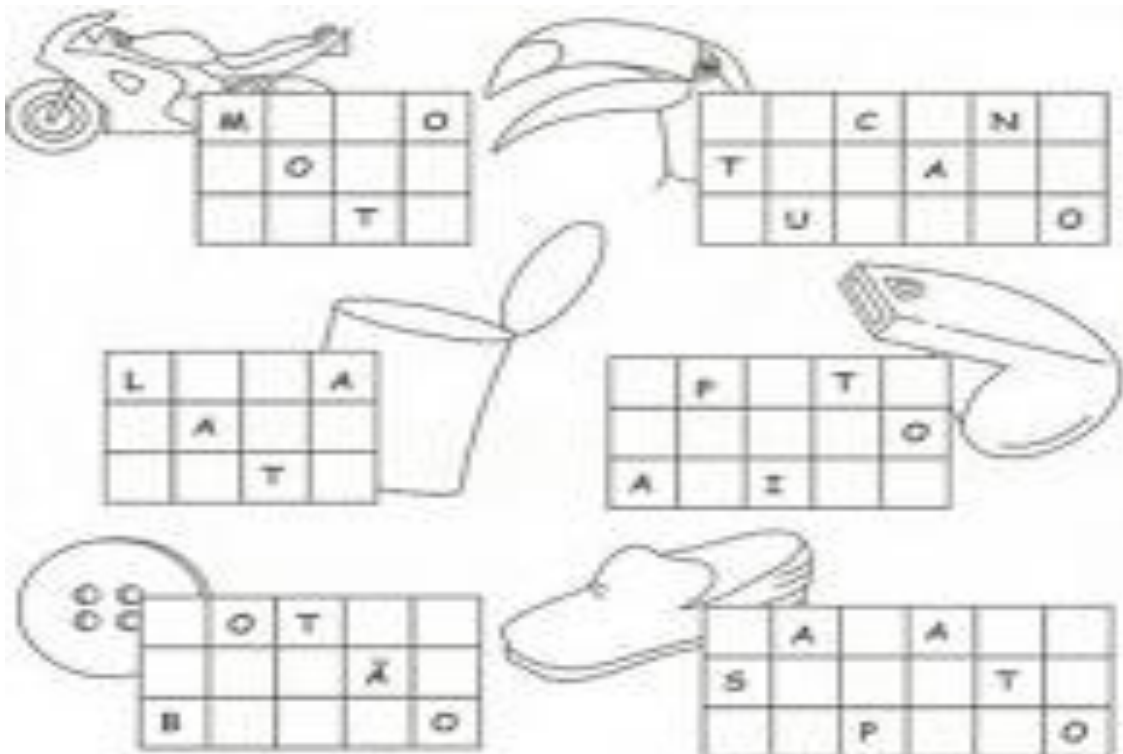
__REIA



QUESTÃO 5. ESCREVA NOS QUADRINHOS O NÚMERO DE SÍLABAS DOS NOMES DAS FIGURAS.



QUESTÃO 6. SIGA AS PISTAS E DESCUBRA O NOME DAS FIGURAS.






QUESTÃO 9. LEIA COM A AJUDA DE UM PARENTE UM TRECHO DA BIOGRAFIA DE ANA LEOPOLDINA DOS SANTOS.

ANA LEOPOLDINA DOS SANTOS

ANA LOUCEIRA, DAMA DO BARRO, FICOU MAIS CONHECIDA COMO ANA DAS CARRANCAS, MUITOS FORAM OS TÍTULOS ATRIBUÍDOS A ANA LEOPOLDINA DOS SANTOS. PERNAMBUCANA DO SERTÃO DE OURICURI, ANA SEMPRE TEVE NO BARRO O SEU INSTRUMENTO DE TRABALHO E DE EXPRESSÃO ARTÍSTICA. FILHA DE ARTESÃ, DESDE OS SETE ANOS JÁ AJUDAVA A MÃE NA PRODUÇÃO DE BRINQUEDOS DE BARRO QUE ERAM VENDIDOS NA FEIRA. ANOS DEPOIS, JOVEM VIÚVA E COM DUAS FILHAS, TORNOU-SE FAMOSA PELA PRODUÇÃO DE PANEIS E OUTROS UTENSÍLIOS DE CERÂMICA.



A) DE ACORDO COM A BIOGRAFIA DE ANA LEOPOLDINA DOS SANTOS RESPONDA AS QUESTÕES A SEGUIR:

- QUAL A MATÉRIA PRIMA COM A QUAL ANA LEOPOLDINA REALIZA O SEU TRABALHO?
() MADEIRA. () BARRO. () FERRO.
- COMO ANA LEOPOLDINA DOS SANTOS FICOU MAIS CONHECIDA?
() ANA LOUCEIRA. () DAMA DO BARRO. () ANA DAS CARRANCAS.

QUESTÃO 10. OBSERVE O NOME DA BIOGRAFIA.

ANA LEOPOLDINA DOS SANTOS

- AGORA RESPONDA:

A) QUANTAS PALAVRAS? _____

B) COM QUE LETRA COMEÇA E TERMINA AS PALAVRAS:

- ANA _____
- LEOPOLDINA _____
- SANTOS _____

C) QUANTAS LETRAS TEM A PALAVRA LEOPOLDINA? _____



MATEMÁTICA MÓDULO II

QUESTÃO 1. OBSERVE A QUANTIDADE DE BILHETES QUE CADA ESTUDANTE RECEBEU, DEPOIS RESPONDA AS QUESTÕES ABAIXO.

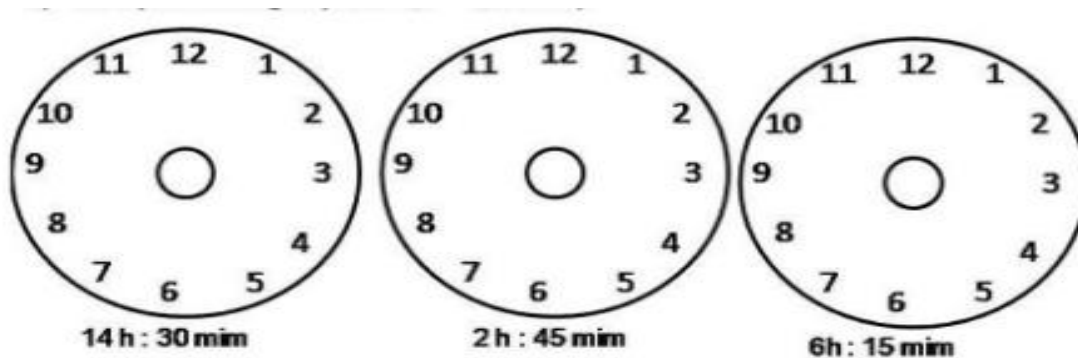
| ESTUDANTE | QUANTIDADE DE BILHETES |
|-----------|------------------------|
| JOÃO | 22 |
| MARIA | 17 |
| FERNANDA | 21 |
| PEDRO | 08 |
| JÚLIA | 19 |
| PAULA | 19 |

A) QUAL ESTUDANTE RECEBEU MENOS BILHETES?

B) QUAIS ESTUDANTES RECEBERAM A MESMA QUANTIDADE DE BILHETES?

C) QUAL ESTUDANTE RECEBEU MAIS BILHETES?

QUESTÃO 2. COLOQUE OS PONTEIROS DE ACORDO COM A HORA INDICADA ABAIXO DE CADA RELÓGIO.





QUESTÃO 3. FAÇA UM X NO QUADRADO QUE APARECE UM NÚMERO QUE ESTÁ NA CARTELA DO BINGO.

- A) DEZESSETE
- B) VINTE E NOVE
- C) ONZE
- D) TRINTA E SETE

| B I N G O | | | | |
|-----------|----|----|----|----|
| 15 | 16 | 31 | 58 | 61 |
| 2 | 18 | 44 | 60 | 65 |
| 7 | 29 | 38 | 53 | 75 |
| 10 | 30 | 45 | 46 | 74 |
| 3 | 22 | 33 | 59 | 70 |

<https://cc75e91d-a-62cb3a1a-s-sites.googlegroups.com>

QUESTÃO 4. OBSERVE A ILUSTRAÇÃO PARA RESPONDER O QUE SE PEDE.



- A) EM QUE POSIÇÃO ENCONTRA-SE A PESSOA MAIS ALTA QUE ESTÁ NA FILA ESPERANDO O ÔNIBUS? _____
- B) EM QUE POSIÇÃO ESTÁ A SENHORA LENDO UM LIVRO? _____



QUESTÃO 5. NO SUPERMERCADO, AS LATAS DE MOLHO DE TOMATE VÊM EM PACOTES COM 12 LATAS CADA.

A) QUANTAS LATAS DE MOLHO DE TOMATE HÁ EM 4 PACOTES? UTILIZE O CÁLCULO QUE ACHAR MELHOR PARA RESPONDER.



| CÁLCULO | RESPOSTA |
|---------|----------|
| | |

QUESTÃO 6. MARIA E ANA PARTICIPARAM DE UM BINGO. LÁ FORAM SORTEADAS AS SEGUINTE BOLAS.



A) QUAIS AS LETRAS DAS BOLAS QUE TEM O MENOR E O MAIOR VALOR NUMÉRICO? _____.

B) QUAL A SOMA DAS BOLAS COM AS LETRAS G e O? _____.

C) QUAL A DIFERENÇA ENTRE AS BOLAS COM AS LETRAS O e I ?
_____.



QUESTÃO 7. SEVERINO JUNTOU AS NOTAS ABAIXO E QUER TROCAR POR UMA NOTA APENAS.



FAÇA UM CÍRCULO NA NOTA ABAIXO QUE REPRESENTA ESSE VALOR.



QUESTÃO 8. MARIA E JOÃO PRECISAM ORGANIZAR ALGUNS OBJETOS DA MUDANÇA EM CAIXAS E PERCEBERAM QUE PRECISARÃO DO DOBRO DA QUANTIDADE ABAIXO.

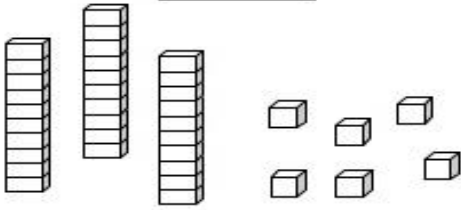
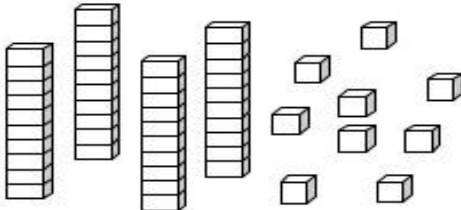
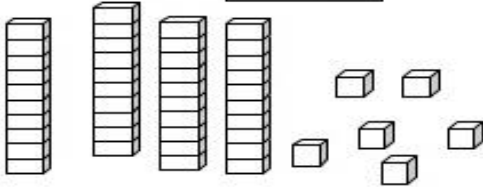
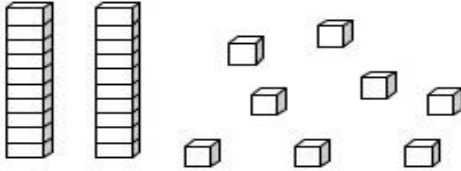


A) QUANTAS CAIXAS ELES PRECISARÃO AO TODO PARA ORGANIZAR TODOS OS OBJETOS? _____.

B) QUAL O TRIPLO DE CAIXAS QUE ELES IRÃO PRECISAR?
_____.

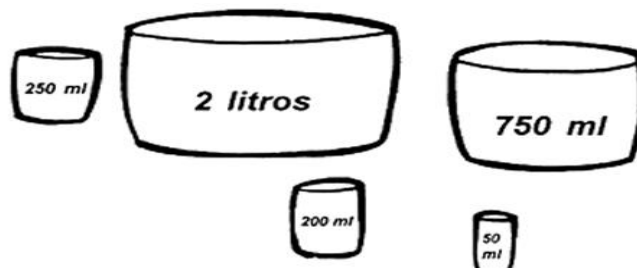


QUESTÃO 9. PINTE AS PEÇAS DO MATERIAL DOURADO DE ACORDO COM OS NUMERAIS INDICADOS.

| | |
|--|---|
| <p style="text-align: center;">14</p>  | <p style="text-align: center;">18</p>  |
| <p style="text-align: center;">10</p>  | <p style="text-align: center;">17</p>  |

Disponível em: www.varaldeatividades.blogspot.com

QUESTÃO 10. OBSERVE AS MEDIDAS ABAIXO E DEPOIS ESCREVA NOS ESPAÇOS O QUE SE PEDE.



- A) A MEDIDA MAIOR QUE UM LITRO É? _____
- B) AS MEDIDAS MENORES QUE UM LITRO SÃO? _____
- C) COMPLETE DE ACORDO COM OS RECIPIENTES ACIMA. PARA COMPLETAR 1 LITRO DEVO UTILIZAR AS MEDIDAS DE _____ + _____ OU _____ + _____ + _____.

Disponível em: <https://escolaeducacao.com.br>