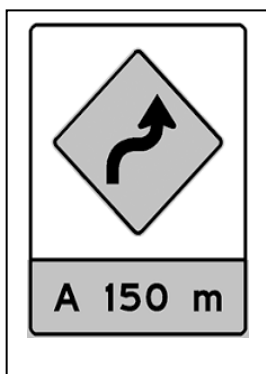


QUESTÃO 01


 Observe as placas.

 Faça um X no quadradinho que mostra a placa que contém somente letras.

(A)



(B)



(C)



(D)



QUESTÃO 02

 Ouça a frase que eu vou dizer:

 As crianças leem embaixo da árvore.

 Marque um X no quadradinho em que está escrita a frase que você ouviu.

(A) AS CRIANÇAS COLHEM MAÇÃS DA ÁRVORE.

(B) AS CRIANÇAS COMEM MAÇÃS PERTO DA ÁRVORE.

(C) AS CRIANÇAS LEEM EMBAIXO DA ÁRVORE.

(D) AS CRIANÇAS VEEM BORBOLETAS NA ÁRVORE.

QUESTÃO 03

 **Faça um X no quadradinho onde está escrito a mesma palavra duas vezes.**

(A)

LEÃO
Pato

(B)

<i>Pato</i>
GATO

(C)

PATO
RATO

(D)

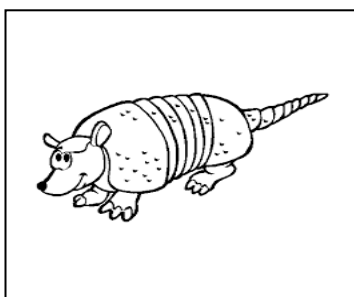
LEÃO
leão

QUESTÃO 04


 **Faça um X no quadradinho onde aparece a figura que rima com a figura em destaque.**




(A)




(B)



(C)




(D)



QUESTÃO 05

 **Observe a figura abaixo:**



 **Marque um X no quadradinho que está escrito o nome da figura.**

(A) CABELO.

(B) CAVALO.

(C) MACACO

(D) SAPATO.

QUESTÃO 06

 **Veja a cena abaixo.**



 **Faça um X na frase que indica o que acontece na cena.**

- (A) O MENINO VAI PARA ESCOLA.
- (B) O MENINO VAI PARA O CIRCO.
- (C) O MENINO VAI PARA PARQUE.
- (D) O MENINO VAI PARA PRAIA.

QUESTÃO 07

 **Leia o texto silenciosamente e depois responda à questão.**

BOLO DE BANANA

INGREDIENTES:

- 6 BANANAS MADURAS
- 1 XÍCARA DE ÓLEO
- 3 OVOS
- 2 XÍCARAS DE AÇÚCAR
- 2 XÍCARAS DE FARINHA DE ROSCA
- 1 COLHER DE FERMENTO EM PÓ

MODO DE FAZER:
BATER TUDO. ASSAR EM FORMA UNTADA E EM FORNO PRÉ-AQUECIDO. APÓS ASSADO, POLVILHAR COM AÇÚCAR E CANELA.

 **Esse texto serve para**

- (A) ENSINAR A PLANTAR BANANA.
- (B) ENSINAR A FAZER UM BOLO.
- (C) CONVIDAR PARA UMA FESTA.
- (D) ANUNCIAR A VENDA DE FRUTAS.

QUESTÃO 08

 **Observe a imagem e responda.**



 **A figura mostra as crianças**

- (A) BRINCANDO DE AMARELINHA.
- (B) BRINCANDO NO PARQUE.
- (C) CORRENDO NA PRAIA.
- (D) PULANDO CORDA.

QUESTÃO 09

 **Leia o texto.**



 **Marque um x no quadradinho que mostra onde XERETA fica tentando ouvir os segredos.**

(A) NO BANHEIRO.

(B) NA FRENTE DA PORTA.

(C) DENTRO DO QUARTO.

(D) ATRÁS DA PORTA.


QUESTÃO 10

 **Leia o texto.**

O PINGUIM

VINICIUS DE MORAES

BOM DIA, PINGUIM
ONDE VAI ASSIM
COM AR APRESSADO?
EU NÃO SOU MALVADO
NÃO FIQUE ASSUSTADO
COM MEDO DE MIM
EU SÓ GOSTARIA
DE DAR UM TAPINHA
NO SEU CHAPÉU JACA
OU BEM DE LEVINHO
PUXAR O RABINHO
DA SUA CASACA



 **Esse texto é**

(A) UMA CARTA.

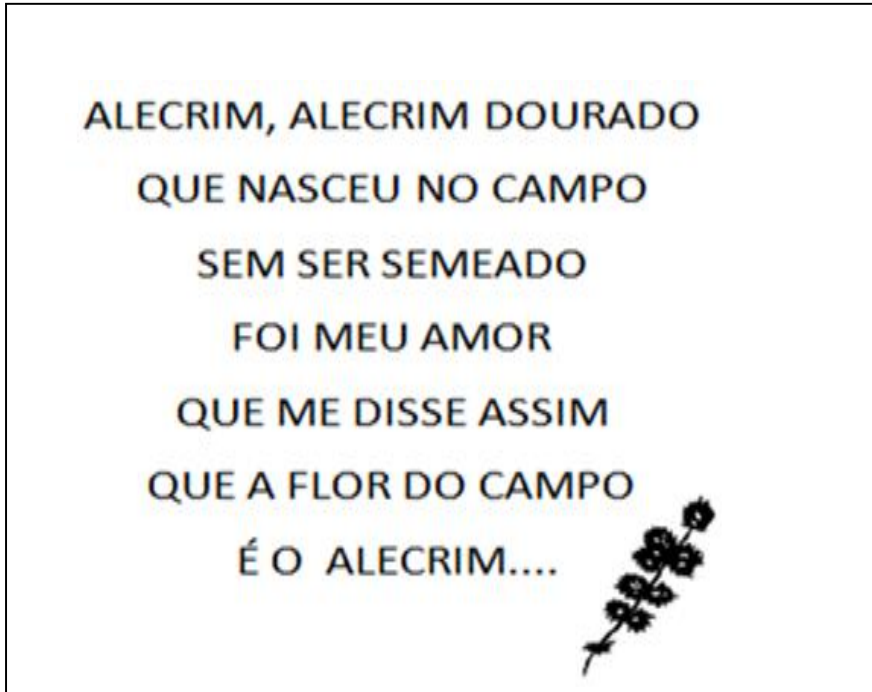
(B) UMA RECEITA.

(C) UM BILHETE.

(D) UM POEMA.

QUESTÃO 11

 Acompanhe o texto que será lido.



 Procure a palavra **ALECRIM** e marque um X na quantidade de vezes que ela aparece no texto.

(A) 2 VEZES.

(B) 3 VEZES.

(C) 4 VEZES.

(D) 5 VEZES.

QUESTÃO 12

 **Leia as palavras abaixo e marque um X no quadrinho que indica a palavra que tem 4 sílabas.**

(A) MOLA


(B) BANANA

(C) SABONETE

(D) TELEFONEMA

QUESTÃO 13

 **Observe a figura.**



 **Marque onde está escrita a primeira sílaba do nome da figura acima.**

(A) MA

(B) NA

(C) LA

(D) PA

QUESTÃO 14

 **Leia o texto.**




 **O assunto do texto é**

- (A) A CHUVA QUE CAIU NA CIDADE.
- (B) A HORA DE ABRIR O GUARDA-CHUVA.
- (C) A IMPORTÂNCIA DE ECONOMIZAR ÁGUA.
- (D) A UTILIDADE DA ÁGUA.

QUESTÃO 15

 Marque um X no nome da figura a seguir.




(A) CHUVEIRO.





(B) CHUVA.

(C) CHURRO.

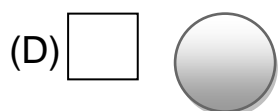
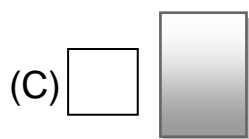
(D) CHAVEIRO.

QUESTÃO 01


 Observe o quadro abaixo.

	A	B	C	D
4				
3				
2				
1				

 A figura geométrica que está na posição 2B é



QUESTÃO 02


Observe as cédulas e moedas dos quadros abaixo. Qual desses grupos de cédulas e moedas pode ser trocado por uma cédula de 10 reais?



(A)


(B)




(C)

(D)

QUESTÃO 03

 O mês de junho chegou e Júlia está ansiosa pela data de seu aniversário. Observe o calendário em que está marcado o dia da festa de Júlia.



 Considerando que estamos no primeiro dia do mês. Quantos dias faltam para o aniversário de Júlia?


(A) 28 DIAS

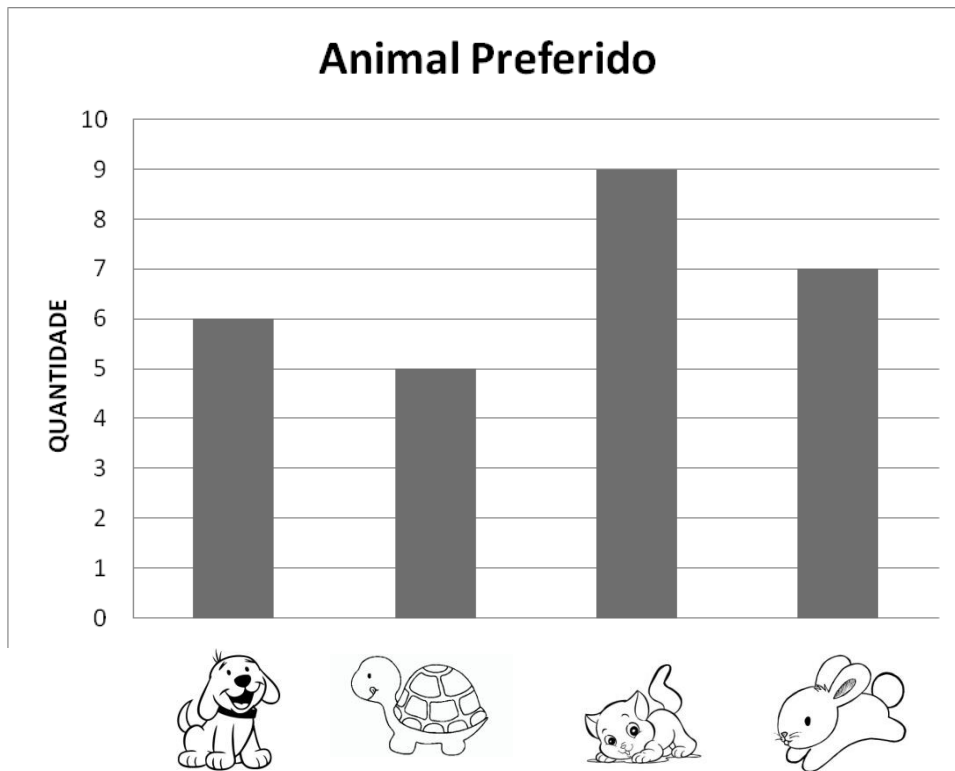
(B) 27 DIAS

(C) 26 DIAS

(D) 21 DIAS


QUESTÃO 04


 Observe o gráfico. Ele mostra uma pesquisa realizada com os alunos do 2º ano sobre seus animais preferidos.




 Marque o quadrinho que mostra o animal de maior preferência das crianças.


(A) 

(B) 

(C) 

(D) 

QUESTÃO 05

 Leo e Fábio colecionam selos. Leo tem 38 e Fábio tem 34. Eles querem saber quantos selos Leo tem a mais que Fábio e resolveram fazer uma conta para descobrir. O resultado dessa conta é

(A) 4.


(B) 6.






(C) 51.


(D) 72.



QUESTÃO 06

 A professora Ana pediu que seus alunos fizessem uma pesquisa sobre as cores usadas para pintar as paredes de suas casas. Confira o resultado da pesquisa na tabela abaixo:

Cores usadas nas paredes internas das casas	
Cor interna usada	Quantidade de casas
 Bege	7
 Branco	10
 Rosa claro	3
 Amarelo claro	4
 Tons escuros	3

 Qual é a quantidade de casas que usa a cor amarelo claro nas paredes?


(A) 3


(B) 4

(C) 7

(D) 10

QUESTÃO 07

 Fábio adora dinossauros. Ele tem 12 dinossauros arrumados em sua prateleira. Observe.



 No dia do seu aniversário ganhou 10 dinossauros. Com quantos dinossauros ele ficou?


(A) 10

(B) 13

(C) 20

(D) 22

QUESTÃO 08

 Flávia está lendo um livro que tem 38 páginas. Ela já leu 17 páginas.
Quantas páginas faltam para Flávia terminar de ler o livro?

(A) 12

(B) 21

(C) 22

(D) 55



QUESTÃO 09

 Uma loja de brinquedos está vendendo vários produtos a preços especiais. Observe.



 Juliana quer comprar a boneca que custa R\$ 20,00. Veja quanto ela tem.



 Quanto falta para Juliana comprar a boneca?


(A) R\$ 5,00

(B) R\$ 6,00


(C) R\$ 7,00

(D) R\$ 8,00

QUESTÃO 10

 Observe no relógio abaixo o horário em que Paulo começou a trabalhar.



 Qual dos relógios digitais está marcando o mesmo horário do relógio acima:

(A) **8:00**


(B) **8:12**

(C) **12:00**

(D) **12:08**

QUESTÃO 11

 Veja o que Lucas construiu com diversas figuras geométricas planas.



 Quantos triângulos há na figura que Lucas construiu?


(A) 5

(B) 4







































































































(C) 3

(D) 2

QUESTÃO 12

 Observe no gráfico a quantidade de latas de alumínio recolhidas pelos membros de uma cooperativa de reciclagem.

Coleta de latas  → 1 lata

Pedro																						
Julina																						
Carla																						
André																						
Edinho																						
Luciana																						

 Quantas latas Juliana precisa recolher para ficar com a mesma quantidade de Pedro?

(A) 2

(B) 3


(C) 5

(D) 6

QUESTÃO 13

 Observe a fila no ponto de ônibus.



 Em que posição está a pessoa mais alta da fila?

(A) 1º Lugar.


(B) 2º Lugar.

(C) 3º Lugar.


(D) Último Lugar.

QUESTÃO 14

 **Veja os animais que vovó tem no sítio.**



 **Agora faça um X no quadradinho que indica o animal que a vovó mais tem no sítio.**




(A)

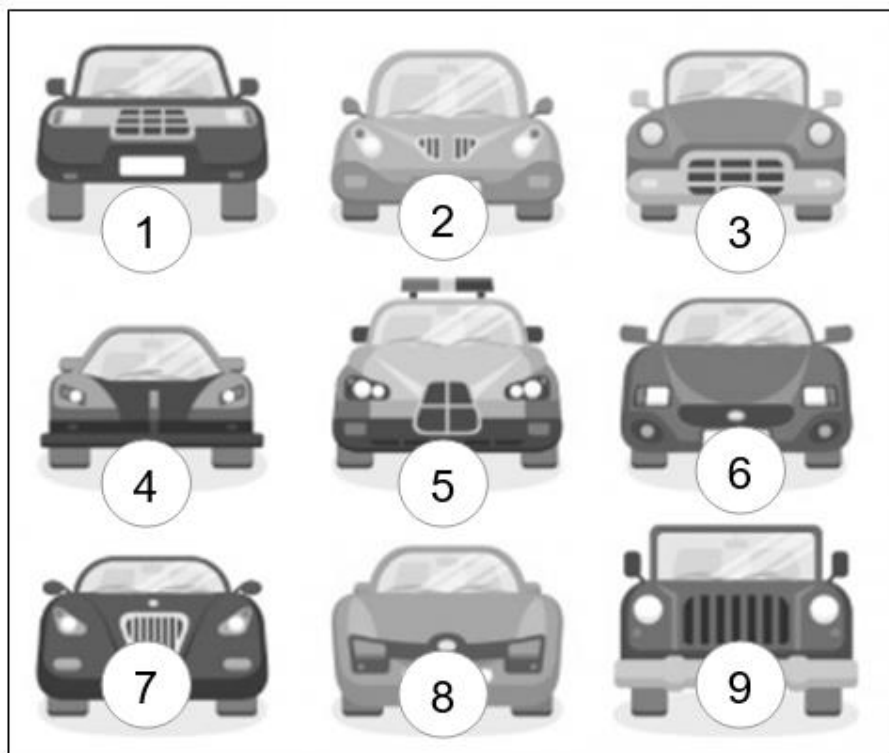
(B)

(C)

(D)

QUESTÃO 15

 Esta é uma representação da coleção de carrinhos de Pedro. O carrinho que ele mais gosta está no meio da figura.



 Qual o número do carrinho preferido de Pedro?

(A) 1

(B) 2

(C) 5

(D) 8