

NOME: \_\_\_\_\_

ESCOLA: \_\_\_\_\_



**SECRETARIA MUNICIPAL DE EDUCAÇÃO**



**CADERNO DE ATIVIDADES  
TURBINE SEU CONHECIMENTO  
3ª UNIDADE  
EJA MÓDULO IV**

## LÍNGUA PORTUGUESA – EJA MÓDULO IV

Leia o texto abaixo e responda as questões de 1 a 3

### Qualquer vida é muita dentro da floresta

- Se a gente olha de cima, parece tudo parado.  
Mas por dentro é diferente.  
A floresta está sempre em movimento.  
Há uma vida dentro dela que se transforma
- 05 sem parar.  
Vem o vento.  
Vem a chuva.  
Caem as folhas.  
E nascem novas folhas.
- 10 Das flores saem os frutos.  
E os frutos são alimento.  
Os pássaros deixam cair as sementes.  
Das sementes nascem novas árvores.  
As luzes dos vaga-lumes são estrelas na
- 15 terra.  
E com o sol vem o dia.  
Esquenta a mata.  
Ilumina as folhas.  
Tudo tem cor e movimento.

ÍNDIOS TICUNA. *Qualquer Vida É Muita Dentro da Floresta*. In: *O Livro das Árvores*.

### QUESTÃO 1 (EJAMODI-IIILP04.3JAB)

A ideia central do texto é

- (A) a chuva na floresta.
- (B) a importância do Sol.
- (C) a vida na floresta.
- (D) o movimento das águas.

### QUESTÃO 2 (EJAMODI-IIILP03.2JAB)

Podemos dizer que esse texto anterior tem o objetivo de :

- (A) Valorizar o conhecimento indígena sobre a natureza
- (B) Ressaltar a mudança do clima
- (C) Mostrar que os índios vivem na floresta
- (D) Falar sobre o movimento das águas

## **QUESTÃO 3 (EJAMODIV-VLP32.1JAB)**

Copie do texto duas palavras que indicam elementos da natureza em movimento.

---

### **Leia o texto para responder as questões 4 a 6**

Apagão em escala planetária festejará o brilho das estrelas

Pouca gente ouviu falar de poluição luminosa, mas tal coisa existe e é um pesadelo na vida de astrônomo, pois rouba a beleza do céu estrelado. Não foram os astros que perderam o frescor, a humanidade é que iluminou intensamente a Terra e ofuscou a noite. A poluição luminosa é causada pelo excesso de iluminação urbana. (...) Para chamar a atenção para o problema, astrônomos de diversos países começaram a organizar algo como o dia mundial do céu escuro. A ideia é que as luzes das cidades fossem apagadas por alguns instantes. Isso em 18 de abril de 2005, quando seriam lembrados os 50 anos da morte de Albert Einstein.

(Revista O Globo, Rio de Janeiro, 3/10/2004)

## **QUESTÃO 4 (EJAMODIV-VLP34.1JAB)**

Da leitura do texto, pode-se entender que a poluição luminosa é provocada

- (A) pelo brilho intenso das estrelas.
- (B) pela perda do frescor dos astros.
- (C) pela pouca iluminação de algumas cidades.
- (D) pelo excesso de iluminação urbana.
- (E) pelo brilho lunar.

<https://imagensparacolorir.blogs.sapo.pt/avaliacao-do-6o-ano-de-portugues-com-465221>

## **QUESTÃO 5 (EJAMODIV-VLP34.1JAB)**

De acordo com o texto, o excesso de iluminação é uma preocupação para os astrônomos porque

- (A) dificulta a iluminação urbana.
- (B) ilumina excessivamente a cidade.
- (C) impede a plena observação das estrelas.
- (D) torna a noite ainda mais escura.
- (E) as pessoas se incomodam com tanta luz.

<https://imagensparacolorir.blogs.sapo.pt/avaliacao-do-6o-ano-de-portugues-com-465221>



## QUESTÃO 6 (EJAMODI-HILP04.3JAB)

A questão central tratada no texto é a

- (A) economia de energia.
- (B) beleza das estrelas.
- (C) pesquisa dos astros.
- (D) poluição luminosa.
- (E) A falta de luz.

<https://imagensparacolorir.blogs.sapo.pt/avaliacao-do-6o-ano-de-portugues-com-465221>

### Leia o texto

Querida Cecília, Como vai você? Espero que esteja tudo bem com você.

Estou escrevendo esta carta porque aqui não há computadores e nem internet para mandar e-mail. Demorei para acostumar, mas agora, depois de seis meses, posso dizer que estou gostando de morar longe da cidade. O sitio do vovô é enorme. Os vizinhos são amáveis e vivem com muito pouco. Mesmo assim são felizes e não reclamam da vida.

Levanto bem cedinho e vou ajudar na limpeza do jardim, do galinheiro e do estábulo. Passo o dia todo ajudando meu avô. Sempre há coisas pra fazer.

Durante a noite estou tão cansado, que durmo a noite inteira. Nem tenho tempo pra pensar bobagens.

Aos sábados tem missa à noite aqui perto. E depois da missa tem baile dos jovens. Vovô permite que eu fique até o baile terminar. Adivinhe o horário do término do baile? Meia noite. Passar uns tempos aqui está fazendo bem pra minha cabeça. Começo até a pensar na possibilidade de não voltarmais.

A vida no campo rejuvenesce. Você precisa conferir. Espero por você aqui.

Abraço,

De seu irmão Rogério

Disponível em: <http://fenaeduca.blogspot.com/2011/11/modelos-de-cartas.html> Acesso em 06 jan. de 2020

## QUESTÃO 7 (EJAMODIV-VLP31.1JAB)

O texto é

- (A) uma carta comercial.
- (B) uma carta do leitor.
- (C) uma carta ao leitor.
- (D) uma carta pessoal.

## QUESTÃO 8 (EJAMODIV-VLP05.1JAB)



Agora, responda: de acordo com o texto da tirinha, que motivo leva o universo a ficar chateado?

---




---



## TURBINE + AINDA

## QUESTÃO 9 (EJAMODIV-VLP05.1JAB)

Analise o texto abaixo:



No seu caderno, escreva um texto coerente para a fala do peixe. Lembre-se que você pode usar tamanhos de letra e pontuações diferentes.

## QUESTÃO 10 (EJAMODIV-VLP05.1JAB)

Analise o texto abaixo:



Após compreender o contexto histórico da charge de Millôr Fernandes, produza suas próprias placas no caderno, reivindicando seus desejos atuais. Procure manter o recurso da ironia no seu texto.

## MATEMÁTICA – MÓDULO IV

### QUESTÃO 1 (EJAMODIVMA04.2JAB)

Os múltiplos de 12 são

- (A) 0; 12;14;16;17,...
- (B) 0;2;4;8;10;...
- (C) 1;6;12;32;45;...
- (D) 0;12;24;36;48;...

### QUESTÃO 2 (EJAMODIVMA04.2JAB)

Os divisores de 12 são

- (A) 1;3;4;5;6;12
- (B)1;2;3;4;6;12
- (C)1;3;4;6;8;12
- (D) 1;3;4;10;12;...

### QUESTÃO 3 (EJAMODIVMA13.7JAB)

Um produto tem preço de 250 reais à vista. A prazo, em 5 parcelas mensais iguais, seu preço sofreacréscimo de 16%. Qual é o valor de cada parcela?

(FONTE: <https://profracffa.files.wordpress.com/2013/10/porcentagem2.pdf>)

- (A) 50 Reais
- (B) 55 Reais
- (C) 58 Reais
- (D) 60 Reais

### QUESTÃO 4 (EJAMODIVMA14.2JAB)

O valor desconhecido representado pela figura  $\triangle + 297 = 532$  é:

- (A) 465
- (B) 235
- (C) 829
- (D) 375



## **QUESTÃO 5 (EJAMODIVMA03.1JAB)**

Todo início de mês, João realiza recarga de créditos em seu celular. Ele fez uma recarga no valor de R\$20,00 e ele passou a ter um saldo de 45 reais. Quanto ele tinha antes de fazer a recarga?

- (A) R\$ 20,00
- (B) R\$ 25,00
- (C) R\$ 40,00
- (D) R\$ 45,00

## **QUESTÃO 6 (EJAMODIVMA03.1JAB)**

Uma forma de calcular mentalmente 10% de um número que termina com zero é eliminando o último zero do número. Assim 10% de 280 é 28, 10% de 450 é 45, 10% de 400 é 40.

Mariana recebe um salário de R\$2.000,00. Desse salário, ela gasta 10% com medicamentos. Quanto ela gasta com medicamentos?

- (A) R\$ 10,00
- (B) R\$ 20,00
- (C) R\$ 200,00
- (D) R\$ 2000,00

## **QUESTÃO 7 (EJAMODIVMA03.1JAB)**

Um entregador de água mineral recebeu R\$ 20,00 no seu primeiro dia de trabalho, no dia seguinte recebeu R\$ 20,00 a mais que o primeiro dia, e no terceiro dia recebeu R\$ 10,00 a menos do que o segundo dia. Quanto o entregador recebeu por esses 3 dias de trabalho?

- (A) 50 reais
- (B) 90 reais
- (C) 70 reais
- (D) 60 reais

## **QUESTÃO 8 (EJAMODIIMA01.1JAB)**

O número no qual o algarismo 7 vale 7000 é:

- (A) 12765
- (B) 27908
- (C) 90871
- (D) 150987



TURBINE + AINDA

## QUESTÃO 9 (EJAMODIIMA04.1JAB)

Desenhe e recorte cartões como estes no seu caderno:



Coloque TODOS eles lado a lado para representar:

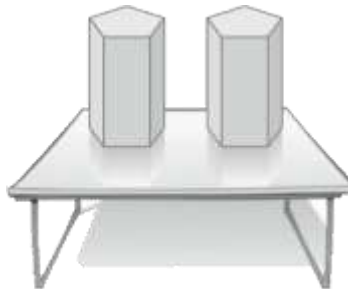
- um número par;
- o menor número ímpar;
- o maior número ímpar maior do que 7000.

## QUESTÃO 10 (EJAMODIVMA17.2JAB)

Paula vai colar um adesivo em cada face de duas caixas de presente, como as do desenho abaixo, até mesmo nas faces que ficam apoiadas sobre a mesa.

O total de adesivos que Paula vai colar é:

- 12.
- 14.
- 7.
- 8.



## CIÊNCIAS – MÓDULO IV

### QUESTÃO 1 (EJA MODIVCI01.2JAB)

Nas unidades de separação de materiais recicláveis, qual dos métodos abaixo é indicado para separar os objetos que contêm ferro dos demais resíduos? Justifique a sua resposta.

- decantação.
- destilação simples.
- peneiração.
- atração magnética.



## QUESTÃO 2 (EJA MODICI01.4JAB)

Escreva V para verdadeiro ou F para falso nas afirmações abaixo:

- (A) O plástico é um material sintético feito a partir de derivados do petróleo. ( )
- (B) O uso do plástico tem a grande desvantagem de causar problemas ambientais por não ser biodegradável, por demorar para se decompor e ficar jogado na natureza. ( )
- (C) Pedacos de plástico podem ser ingeridos por animais que os confunde com alimentos, principalmente os animais marinhos. ( )
- (D) A maior parte dos plásticos são reciclados e poucos são jogados em lixões ou aterros sanitários. ( )

## QUESTÃO 3 (EJA MODIVCI01.2JAB)

Em uma das etapas do tratamento de água para as comunidades, o líquido atravessa espécies camadas de areia. Essa etapa é uma :

- (A) decantação
- (B) filtração
- (C) destilação
- (D) separação magnética

## QUESTÃO 4 (EJAMODIVCI01.2JAB)

São consideradas fontes de energia renováveis todo recurso que tem a capacidade de se refazer ou não é limitado. Com base nessa informação, abaixo estão listadas fontes de energias renováveis, exceto:

- (A) energia hidrelétrica
- (B) gás natural
- (C) energia eólica
- (D) energia solar
- (E) biocombustíveis



**TURBINE + AINDA**

## QUESTÃO 5 (EF06CI03.2JAB)

Se eu tenho uma porção de amendoim torrado descascado, quais métodos podem ser usados para separar as cascas dos grãos?



# CADERNO DE ATIVIDADES



## HISTÓRIA MÓDULO IV

### QUESTÃO 1 (EJAMODIVHI02.2JAB)

Sobre as fontes históricas, marque a alternativa **INCORRETA**:

- (A) São vestígios que permitem o historiador estudar e conhecer os fatos históricos.
- (B) As fontes orais (entrevistas, relatos etc) não são válidas como fontes históricas;
- (C) São registros deixados pelo homem ao longo da história da humanidade.
- (D) Podemos classificar as fontes históricas em: orais, escritas, visuais e materiais.

### QUESTÃO 2 (EJAMODIVHI01.2JAB)

Como se chama o mais antigo instrumento de medição do tempo, inventado há pelo menos 3.500 anos? Nele as horas são iniciadas pela sombra que o gnômon faz na superfície do relógio. Essa sombra se move conforme a Terra gira em torno de si mesma, mostrando a passagem do tempo.

- (A) ( ) Relógio de água
- (B) ( ) Relógio de bolso
- (C) ( ) Relógio de areia
- (D) ( ) Relógio de sol

### QUESTÃO 3 (EJAMODIVHI21.2JAB)

Qual a melhor explicação que justifica o pioneirismo de Portugal nas descobertas europeias dos séculos XV e XVI:

- (A) descentralização política e a existência de estudiosos por novas técnicas (astrolábio, cartografia, etc.);
- (B) a posição geográfica privilegiada de Portugal;
- (C) a falta de poder da Igreja Católica, que buscava dificultar os avanços científicos como ingerências impuras a Deus;
- (D) o Estado português não contribuía para o aparelhamento da expansão marítima, pois estava interessado, apenas, nos negócios com o seu vizinho – a Espanha;

### QUESTÃO 4 (EJAMODIVHI23.1JAB)

É característica fundamental do Humanismo a valorização do corpo humano. Isso pode ser observado, no contexto dos séculos XV e XVI, nas:

- (A) estruturas das catedrais góticas.
- (B) obras dos artesãos das corporações de ofício.
- (C) seitas sincréticas, como a maçonaria.
- (D) obras dos pintores e escultores renascentistas.



# CADERNO DE ATIVIDADES



Turbine seu conhecimento



**TURBINE + AINDA**

## **QUESTÃO 5** (EF06HI01.1JAB)

Qual o calendário utilizado no Brasil? Faça uma pesquisa sobre sua origem e registre em seu caderno.

## **GEOGRAFIA – MÓDULO IV**

### **QUESTÃO 1** (EJAMODIVGE06.3JAB)

Preencha a segunda coluna de acordo com os itens numerados na primeira, identificando quais são exemplos de recursos renováveis e quais não são renováveis:

COLUNA 1

(1) RECURSOS RENOVÁVEIS

(2) RECURSOS NÃO RENOVÁVEIS

COLUNA 2

( ) Petróleo

( ) Água

( ) Ferro

( ) Carvão mineral

( ) Solo

( ) Florestas

( ) Gás Natural

( ) Animais

### **QUESTÃO 2** (EJAMODIVGE03.2JAB)

O sistema de fusos horários foi estabelecido, no Brasil, pelo Decreto nº 2784, de 18/junho/1913. Neste sentido, ficou determinado que a hora em qualquer localidade territorial brasileira depende da hora referida do meridiano deste local comparada com a hora do:

- (A) fuso horário deste local.
- (B) fuso de referência criado pelo governo nacional.
- (C) meridiano de Greenwich.
- (D) não há comparação com nenhum fuso horário.

## QUESTÃO 3 (EJAMODIVGE16.3JAB)

Os três primeiros grupos étnicos que compuseram a população brasileira foram: os indígenas, os europeus portugueses e os negros africanos. Destes, qual foi o primeiro a habitar o Brasil?

- (A) Africanos.
- (B) Portugueses.
- (C) Espanhóis.
- (D) Indígenas.

## QUESTÃO 4 (EJAMODIVGE06.1JAB)

As paisagens em geral estão sempre em transformações, seja por intervenções humanas, ou pela ação do tempo e da própria natureza. As fotografias abaixo representam a Igreja Matriz de Santo Amaro no Centro Antigo de Jabotão dos Guararapes em épocas diferentes. Marcar na figura “B”, no mínimo 7 diferentes elementos dessa paisagem observada em períodos diferentes na figura A. Faça como se estivesse marcando com “x” em um jogo de 7 erros.

Figura A




Figura B



TURBINE + AINDA

## QUESTÃO 5 (EF06GE08.1JAB)

Em uma folha de caderno ou papel ofício desenhe sua própria rosa dos ventos.



## LÍNGUA INGLESA – MÓDULO IV

### QUESTÃO 1 (EJAMODIVLI17.4JAB)

Write the articles **a / an / the**.

1. \_\_\_\_\_ eraser.
2. \_\_\_\_\_ books.
3. \_\_\_\_\_ pencils
4. \_\_\_\_\_ glue



### QUESTÃO 2 (EJAMODIVLI19.2JAB)

Vamos aprender mais sobre o verbo TO BE. Traduza as frases para o português.

- a) I am a student \_\_\_\_\_
- b) She is my mother \_\_\_\_\_
- c) You are my friend \_\_\_\_\_

### QUESTÃO 3 (EJAMODIVLI17.2JAB)

Observe a imagem e assinale a alternativa que melhor descreve a foto:



Disponível em <https://www.google.com/imghp?hl=pt-pt> Acessado em 04/05/2021

- (A) Feliz Dia do trabalho.
- (B) Feliz Dia dos professores.
- (C) Feliz Dia das crianças.
- (D) Feliz Dia das mães.

## QUESTÃO 4 (EJAMODIVLI25.1JAB)

Existem pessoas que acham que aprender uma língua estrangeira é muito difícil. Mas na verdade, existem muitas palavras em inglês que fazem parte da nossa rotina, como as do mundo tecnológico, que ficaram muito comuns por conta da expansão do uso das redes sociais e ainda mais no contexto em que vivemos. Observe a imagem. Você já deve ter visto as palavras destacadas abaixo em algum lugar ou solicitado um serviço desse tipo. O que a palavra *Delivery* significa?

- (A) Aparelho celular
- (B) Promoção
- (C) Entrega
- (D) Desconto



Imagem disponível em: [https://br.freepik.com/vetores-gratis/aplicativo-isometrico-da-pagina-de-destino-do-servico-de-entrega-de-comida\\_5603476.htm#page=2&query=DELIVERY&position=1](https://br.freepik.com/vetores-gratis/aplicativo-isometrico-da-pagina-de-destino-do-servico-de-entrega-de-comida_5603476.htm#page=2&query=DELIVERY&position=1) em:06/05/2021.



## TURBINE + AINDA

## QUESTÃO 5 (EJAMODIVLI17.3JAB)

Desembaralhe as letras e descubra um número em inglês

- IFNETFE
- WNTEYNT
- LVENEE
- ROFU
- HETER
- NEVES
- TRITENH
- HITEG
- LETVEW



## ARTE/MÚSICA – MÓDULO IV

### QUESTÃO 1 (EJAMODIVAR01.5JAB)

Observe a imagem abaixo, pintura realizada por Debret, pintor da Missão Artística Francesa. Identifique a temática:

- (A) Ênfase na cena de castigo de um escravo
- (B) Ênfase nas paisagens naturais
- (C) Ênfase nas construções coloniais
- (D) Ênfase nas comidas típicas



Pintura de Debret

[Slavery in Brazil, by Jean-Baptiste Debret \(1768-1848\) - Jean-Baptiste Debret – Wikipédia, a enciclopédia livre \(wikipedia.org\)](https://pt.wikipedia.org/wiki/Slavery_in_Brazil) Acesso em 19/05/2021

### QUESTÃO 2 (EJAMODIVAR01.5JAB)

A artista Tarsila do Amaral usou cores e linhas para compor suas obras e fez uma série de pinturas em que retrata temas e cores mostrando paisagens do Brasil. Chamamos de paisagem a área ao ar livre que nossa vista alcança. De acordo com a sequência das imagens, classifique os tipos de paisagem:



Paisagem com touro, Tarsila do Amaral

I



São Paulo, Tarsila do Amaral

II



Vendedor de frutas, Tarsila do Amaral

III

- (A) I - Marítima, II - Urbana, III - Rural
- (B) I - Rural, II - Urbana, III - Marítima
- (C) I - Urbana, II - Marítima, III - Urbana
- (D) I - Rural, II - Marítima, III - Urbana

<https://pt.slideshare.net/FabiolaOliveira2/avaliacao-diagnostica-arte-6-e-7-anos-2013>

### QUESTÃO 3 (EJAMODIVAR24.2JAB)

O que NÃO faz parte da produção teatral?

- (A) o cenário, o figurino, a personagem.
- (B) o cenário, o figurino, a história.
- (C) o figurino, a história e a personagem.
- (D) as brincadeiras de bola, os jogos de quebra-cabeça.



## EDUCAÇÃO FÍSICA – MÓDULO IV

### QUESTÃO 1 (EJAMODIVEF02.1JAB)

Os jogos eletrônicos também tem suas particularidades e se praticados com responsabilidade fazem muito bem para o desenvolvimento de quem pratica.

Qual a principal habilidade trabalhada nos jogos eletrônicos

- (A) coordenação motora
- (B) flexibilidade
- (C) raciocínio lógico
- (D) força

### QUESTÃO 2 (EJAMODIVEF14.1JAB)

O que significa “luta” de acordo com a origem da palavra?

- (A) Combate violento.
- (B) Movimentos leves de combate.
- (C) Briga desordenada.
- (D) Combate entre 2 (dois) ou mais indivíduos que têm treinamento especial para luta.

### QUESTÃO 3 (EJAMODIVEF04.1JAB)

É necessário haver cuidado com a prática dos esportes de marca para evitar lesões. Marque a alternativa em que esse cuidado **NÃO** foi tomado.

- (A) crianças praticando corrida em pista molhada
- (B) aluno avançado de natação em aula com o professor supervisionando
- (C) execução de arremesso de peso com área isolada e demarcada
- (D) atleta de salto em distância fazendo a queda em terreno com areia

### QUESTÃO 4 (EJAMODIVEF14.2JAB)

Observe atentamente a imagem:

O jiu-jitsu brasileiro é uma modalidade de luta com seu próprio conjunto de técnicas de ataque e defesa. Sobre as técnicas de ataque do jiu-jitsu é correto afirmar que o principal objetivo é:

- (A) Imobilizar o adversário
- (B) Colocar o adversário para fora do espaço de luta
- (C) Fazer o adversário sentir dor
- (D) Nenhuma das alternativas acima





# CADERNO DE ATIVIDADES



Turbine seu conhecimento



**TURBINE + AINDA**

## **QUESTÃO 5** (EJAMODIVEF01.3JAB)

Dos jogos cooperativos, identifique quantos você já praticou?

Em seguida faça um texto descrevendo sua experiência dentro destes jogos.