

**NOME:** \_\_\_\_\_

**ESCOLA:** \_\_\_\_\_



## SECRETARIA MUNICIPAL DE EDUCAÇÃO



**CADERNO DE ATIVIDADES**  
**IV unidade**  
**Turbine seu conhecimento**  
**Anos Iniciais – 4º ANO**

## LÍNGUA PORTUGUESA 4º ANO

Leia o texto abaixo e responda as questões 1, 2 e 3:

Olá, Estudantes do 4º Ano do Humberto Barradas

Prontos para mais um ano letivo? Sei que estão, porque vocês são “feras”! Continuem seus estudos através desses exercícios! Caprichem na letrinha! Ainda não vencemos essa batalha e a pandemia não acabou, portanto, se protejam do Coronavírus!

Um beijo carinhoso cheio de saudades:

Professora Janaína Rodrigues

10/09/2020

### QUESTÃO 1. (EF15LP01.2JAB )

Você deve estar reconhecendo esse gênero de texto, não é verdade? Marque aqui a opção correta:

- (A) Poema
- (B) Notícia
- (C) Bilhete
- (D) Fábula



### QUESTÃO 2. (EF15 LP02.2JAB)

Em que situação esse texto foi usado?

- (A) Para lembrar a importância da alimentação adequada.
- (B) Para mandar um recadinho sobre a importância de se proteger do Coronavírus
- (C) Para noticiar a criação da vacina do Coronavírus.
- (D) Para lembrar a importância de assistir o noticiário todos os dias.

## QUESTÃO 3. (EF35LP05.1JAB)

Uma mensagem de carinho é sempre muito importante no momento que estamos vivendo. Observando o texto acima, o que a professora quis dizer quando escreveu que os alunos são “feras”?

- (A) Que os estudantes estão muito indisciplinados.
- (B) Que seus alunos são muito inteligentes.
- (C) Que a professora é muito exigente.
- (D) Que os animais de estimação são perigosos.



Leia o texto abaixo e responda as questões 4 e 5.

## QUEIMADO

Jeito de brincar:

Para brincar, é preciso dividir o grupo em dois times.

O jogador que estiver com a bola deve arremessá-la tentando acertar (queimar) uma pessoa do outro time. Quem for queimado sai do jogo.

Vence equipe que conseguir queimar todo o time adversário primeiro.

(Disponível em: <<http://mapadobrinhar.folha.com.br/brincadeiras/bola/55-queimada>>. Acesso em: 24 março 2021.)

## QUESTÃO 4. (EF15LP01.2JAB)

Esse é um texto de instrução por quê?

- (A) Conta a história de um jogo.
- (B) Mostra como é bom brincar de queimado.
- (C) Explica como brincar de queimado.
- (D) Conta a história de jogo individual.

## QUESTÃO 5. (EF15LP02.2JAB)

Releia este trecho do texto.

O jogador que estiver com a bola deve **arremessá-la** tentando acertar (queimar) uma pessoa do outro time. Quem for queimado sai do jogo.

A palavra **arremessar** significa:

- (A) Segurar com força.
- (B) Atirar com força.
- (C) Empurrar devagar.
- (D) Derrubar devagar.

## QUESTÃO 6. (EF15LP01.3JAB)

Leia o texto abaixo e responda:

O caipira andava ao longo da estrada  
Seguido de dez cavalos. Nisso vem um  
Automóvel e o motorista grita para o caipira:  
— Você tem dez. Mas eu tenho duzentos e cinquenta cavalos!  
E vrrrruuuu! – saiu em disparada!  
O caipira continuou seu passo; e lá na  
Frente estava o carro virado dentro do rio, ao lado da ponte.  
Aí o caipira falou para o motorista:  
— Oi! Cumpade! Dando água pra tropa, é?

ZIRALDO. As últimas Anedotinhas do Bichinho da Maçã. São Paulo.

A expressão “oi, **cumpade!**” É própria de falante.

- (A) Da zona rural
- (B) Das grandes cidades
- (C) Dos bailes funk
- (D) Da zona urbana

## QUESTÃO 7 (EF15LP01.1JAB)

Faça um círculo na imagem onde a função social é divulgar informações do nosso dia a dia:



## QUESTÃO 8 (EF15LP14.1JAB)

Leia a tirinha a seguir e responda a questão abaixo.



Fonte: <https://bit.ly/2luQRxO>

Referência: <https://acessaber.com.br/atividades/interpretacao-de-texto-tira-de-calvin/ADAPDATA>

O humor da tirinha está no fato do Calvin

- (A) conversar com o seu pai.
- (B) perguntar ao pai se o ama.
- (C) falar que fez algo muito ruim.
- (D) deixar seu pai impaciente.







## MATEMÁTICA 4º ANO

**QUESTÃO 1.** Veja as crianças e suas idades. Depois resolva a questão abaixo.:




[https://image.freepik.com/vetores-gratis/quatro-meninas-com-ilustracao-de-rosto-feliz\\_1308-1265.jpg](https://image.freepik.com/vetores-gratis/quatro-meninas-com-ilustracao-de-rosto-feliz_1308-1265.jpg)

Quem nasceu primeiro?

- (A) Manuela.
- (B) Júlia.
- (C) Laura.
- (D) Lara.

## QUESTÃO 2. (EF04MA03.1JAB)


Rodrigo tem uma coleção de 8 carrinhos vermelhos, 12 azuis e 18 amarelos e ganhou da sua tia em seu aniversário uma coleção com 27 carrinhos pretos. Com quantos carrinhos Rodrigo ficou no total?



CÁLCULO	RESPOSTA
	Rodrigo ficou com _____

## QUESTÃO 3. (EF04MA11.3JAB)

Carolina distribuiu algumas bolas em caixas conforme a imagem a seguir:



Fonte: <https://drive.google.com/file/d/1tFBSJmKJ3QvX58JMqKgaMMBw-eY5M5wG/view>

O total de bolas distribuídas por Carolina foi:

- (A) maior que 40.
- (B) menor que 36.
- (C) exatamente 36.
- (D) exatamente 40.

## QUESTÃO 4. (EF04MA11.3JAB)

Rosana marcou no calendário a seguir, a quantidade de dias que o Circo permaneceu em sua cidade.

2017		JANEIRO					2017
S	DOM	SEG	TER	QUA	QUI	SEX	SÁB
01	1	2	3	4	5	6	7
02	8	9	10	11	12	13	14
03	<del>15</del>	<del>16</del>	<del>17</del>	<del>18</del>	<del>19</del>	<del>20</del>	<del>21</del>
04	22	23	24	25	26	27	28
05	29	30	31	05 CINQ.	12 OCHO	19 NOVO.	27 NOVA

Fonte: <https://drive.google.com/file/d/1tFBSJmKJ3QvX58JMqKgaMMBw-eY5M5wG/view>

A quantidade de dias marcados por Rosana corresponde a

- (A) uma semana.
- (B) um mês.
- (C) uma quinzena.
- (D) duas semanas.



## QUESTÃO 5. (EF04MA11.3JAB)

Observe as figuras dos brinquedos a seguir:



Fonte: <https://drive.google.com/file/d/1tFBSJmKJ3QvX58JMqKgaMMBw-eY5M5wG/view>

O brinquedo que você observa à esquerda da bola é:

- (A) o pião.
- (B) a pipa.
- (C) o carro.
- (D) a peteca.

## QUESTÃO 6. (EF04MA16.1JAB)

Na malha quadriculada abaixo temos alguns animais, observa e responda:

	1	2	3	4	5	6	7	8
A								
B								
C								
D								
E								

Escreva o nome do animal que se encontra na coluna:

A7 \_\_\_\_\_

E4 \_\_\_\_\_

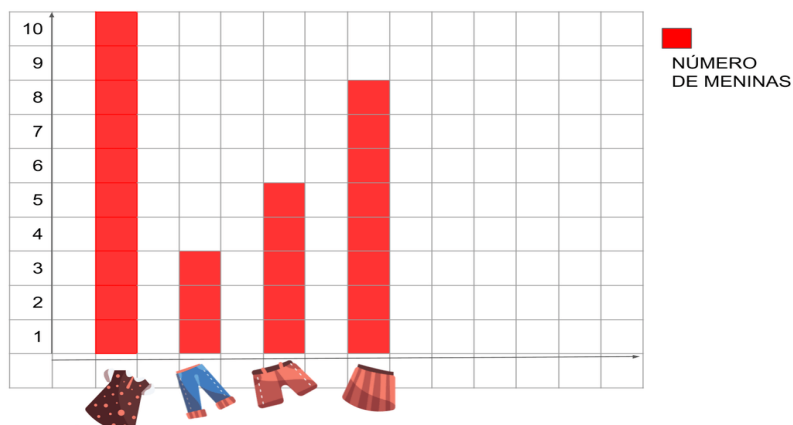
B1 \_\_\_\_\_

C6 \_\_\_\_\_

## QUESTÃO 7. (EF04MA08.2JAB)

Observe o gráfico abaixo e marque a alternativa correta.

PREFERÊNCIA DE ROUPAS DAS MENINAS



FONTE: MENINAS DOS 3º ANOS DA ESCOLA M. P. DURVAL PINTO

- (A) a roupa mais utilizada é a calça.
- (B) a roupa menos utilizada é o vestido.
- (C) a roupa mais utilizada é o vestido.
- (D) a roupa mais utilizada é a saia.

## QUESTÃO 8. (EF04MA11.2JAB)

Veja a sequência numérica:

**98, 100, 102, 104, 106...**

Se essa sequência numérica continuar obedecendo a mesma regra, os próximos dois números serão:

- (A) 108 e 110.
- (B) 112 e 113.
- (C) 114 e 117.
- (D) 114 e 115



## TURBINE + AINDA

### **QUESTÃO 9.** (EF04HI01.2JAB) Desafio de História

Faça uma linha do tempo, com os principais acontecimentos organizados por ano, por exemplo:

- Seu nascimento
- Quando entrou na escola
- Mudança para outro lugar
- Acontecimentos importantes de sua vida.

--

### **QUESTÃO 10.** (EF04GE01.1JAB) - Desafio de Geografia

Escreva o nome de pessoas que fazem parte do seu convívio com as seguintes faixas etárias.

De 0 a 19 anos	Entre 20 a 59 anos	60 anos ou mais

Em qual faixa etária há mais pessoas? \_\_\_\_\_