







## LÍNGUA PORTUGUESA MÓDULO I

**QUESTÃO 1.** ESCREVA O NOME DAS FRUTAS E CIRCULE AS VOGAIS.

 _____	 _____
 _____	 _____

**QUESTÃO 2.** VAMOS LER AS FRASES E COMPLETÁ-LAS COM OS NOMES DAS FIGURAS.

A) JANE SAIU PARA COMPRAR \_\_\_\_\_.



B) O PREGO FUROU O PNEU DA MINHA \_\_\_\_\_.



C) O \_\_\_\_\_ ROEU O SACO DE PÃO.










D) PRECISO DE CEM TIJOLOS PARA TERMINAR O \_\_\_\_\_.





Turbine seu conhecimento

**QUESTÃO 3.** ESCREVA O NOME DE CADA FIGURA E COM AS SÍLABAS INICIAIS FORME UMA NOVA PALAVRA. VEJA O MODELO.

		
TOMADA	CASA	TOCA
_____	_____	_____
		
_____	_____	_____
		
_____	_____	_____
	_____	

**QUESTÃO 4.** CIRCULE OU PINTE A RESPOSTA CORRETA DAS ADIVINHAÇÕES ABAIXO:

A) QUE FICA EM VOLTA DE QUALQUER PESSOA?

CINTO

RUA

PIJAMA

B) QUE SOBE E DESCE, MAS NÃO SAI DO LUGAR?

CARRO

ESCADA

PISCINA



Turbine seu conhecimento

**QUESTÃO 5.** COMO VOCÊ BEM SABE AS PLACAS TAMBÉM NOS INFORMAM. ASSINALE A INFORMAÇÃO QUE A IMAGEM QUER TRANSMITIR:



( ) PROIBIDO FUMAR!

( ) É PERMITIDO ENTRADA DE CACHORRO.

( ) É PERMITIDO FUMAR.

( ) PROIBIDO ENTRADA DE CACHORRO.



( ) CUIDADO! PISO MOLHADO.

( ) PERMITIDO O USO DE CELULAR.

( ) PODE PASSAR.

( ) PROIBIDO O USO DO CELULAR.

**QUESTÃO 6.** JOGO ORTOGRÁFICO - LEIA CADA PALAVRA E COMPLETE O QUADRO ABAIXO.

COMPRA GROSSO VIDRO GRUDE PRÊMIO PREÇO COFRE  
ABRAÇO FRANGO BRILHO TREZE CREME LÁGRIMA GRIPE

BR	
DR	
GR	
PR	
FR	
TR	
CR	



Turbine seu conhecimento

**QUESTÃO 7.** ORDENE OS NOMES DE ALGUNS TIMES DE FUTEBOL DE PERNAMBUCO E ESCREVA-OS CORRETAMENTE NA LINHAS ABAIXO.

TACRUZSAN

\_\_\_\_\_

COTINAU

\_\_\_\_\_

TPREOILNA

\_\_\_\_\_

TRALCEN

\_\_\_\_\_



**QUESTÃO 8.** FAÇA UM X NO QUADRADINHO DA PLACA ONDE APARECE SOMENTE LETRAS:

<input type="checkbox"/>	
<input type="checkbox"/>	
<input type="checkbox"/>	



**QUESTÃO 9.** COMPLETE AS PALAVRAS DAS FRASES COM GU OU QU E DEPOIS RELEIA COM ATENÇÃO.

EN  ANTO AS CRIANÇAS BRINCAVAM DE  EIMADA NA  ADRA,  
NÓS FICAMOS OLHANDO O BAR  INHO QUE NAVEGAVA CALMAMENTE  
PELA LAGOA.

A MÃE DE  ILHERME COMPROU UM A  ÁRIO PARA DECORAR  
O  ARTO DELE.

TODOS FICARAM PREOCUPADOS COM A  ALIDADE DO  IBE COM  
 EIJO SERVIDO NO JANTAR.

O PE  ENO HENRI  E ESTÁ ANSIOSO PARA GANHAR UMA  
 ITARRA DE BRIN  EDO.

**QUESTÃO 10.** COLOQUE A LETRA N NAS PALAVRAS E FAÇA CONFORME O MODELO:

EX: NUCA – NUNCA - NUN – CA

A) TROCO – TRO \_\_\_ CO - \_\_\_\_\_

B) MUDO – MU \_\_\_ DO - \_\_\_\_\_

C) CATO – CA \_\_\_ TO - \_\_\_\_\_

D) VETO – VE \_\_\_ TO - \_\_\_\_\_



Turbine seu conhecimento

**QUESTÃO 11.** VAMOS LER A PARLENDA? SE NÃO CONSEGUI SOZINHO PEÇA

AJUDA! DEPOIS RESPONDA AS QUESTÕES ABAIXO:

O DOCE PERGUNTOU  
PRO DOCE  
QUAL É O DOCE MAIS  
DOCE QUE O DOCE DE  
BATATA-DOCE?

O DOCE RESPONDEU  
PRO DOCE QUE O  
DOCE MAIS DOCE QUE  
O DOCE DE BATATA-  
DOCE É O DOCE DE  
BATATA-DOCE!



figura disponível em: <https://www.tudogostoso.com.br/>

- A) CIRCULE A PALAVRA **DOCE** NO TEXTO.
- B) QUANTAS VEZES A PALAVRA **DOCE** APARECEU NO TEXTO? \_\_\_\_\_
- C) DE QUE É FEITO O DOCE? \_\_\_\_\_
- D) QUE OUTRO TIPO DE DOCES VOCÊS CONHECEM? ESCREVA OS NOMES.
- 
- 







**QUESTÃO 12.** MARQUE COM UM X TODAS AS FIGURAS QUE COMEÇAM COM A MESMA LETRA DA PALAVRA DOCE.



Figuras disponíveis em: <https://br.pinterest.com/>



**QUESTÃO 13.** INDIQUE OS NÚMEROS DE SÍLABAS DAS PALAVRAS:

 <b>PASTEL</b> <input style="width: 100px; height: 50px;" type="text"/>	 <b>_ CADERNO</b> <input style="width: 100px; height: 50px;" type="text"/>	 <b>NÃO</b> <input style="width: 100px; height: 50px;" type="text"/>
 <b>LÁPIS</b> <input style="width: 100px; height: 50px;" type="text"/>	 <b>CHÃO</b> <input style="width: 100px; height: 50px;" type="text"/>	 <b>CANETA</b> <input style="width: 100px; height: 50px;" type="text"/>

**QUESTÃO 14.** DESCUBRA NO CAÇA-PALAVRAS O CONTRÁRIO DAS PALAVRAS ABAIXO:

GRANDE LARGO FRIO RASO BONITO FINO POBRE CERTO

P	E	Q	U	E	N	O	O	Ç
R	R	U	A	U	I	P	Ç	G
I	R	E	G	R	O	S	S	O
C	A	N	R	F	E	I	O	S
O	D	T	T	D	R	T	J	K
J	O	E	O	F	U	N	D	O
I	O	P	Ç	T	J	L	O	S
E	S	T	R	E	I	T	O	O





Turbine seu conhecimento

**QUESTÃO 15.** COMPLETE OS VERSOS DA PARLENDAS ESCRREVENDO EM CADA ESPAÇO A PALAVRA QUE RIMA.

**EX: O CACHIMBO É DE BARRO.**

BATE NO JARRO

JARRO
CARROÇA
CARRO

O JARRO É DE OURO,  
BATE NO \_\_\_\_\_

CAVALO
TOURO
BOTE

O TOURO É VALENTE,  
CHIFRA A \_\_\_\_\_

ÁRVORES
BICHOS
GENTE

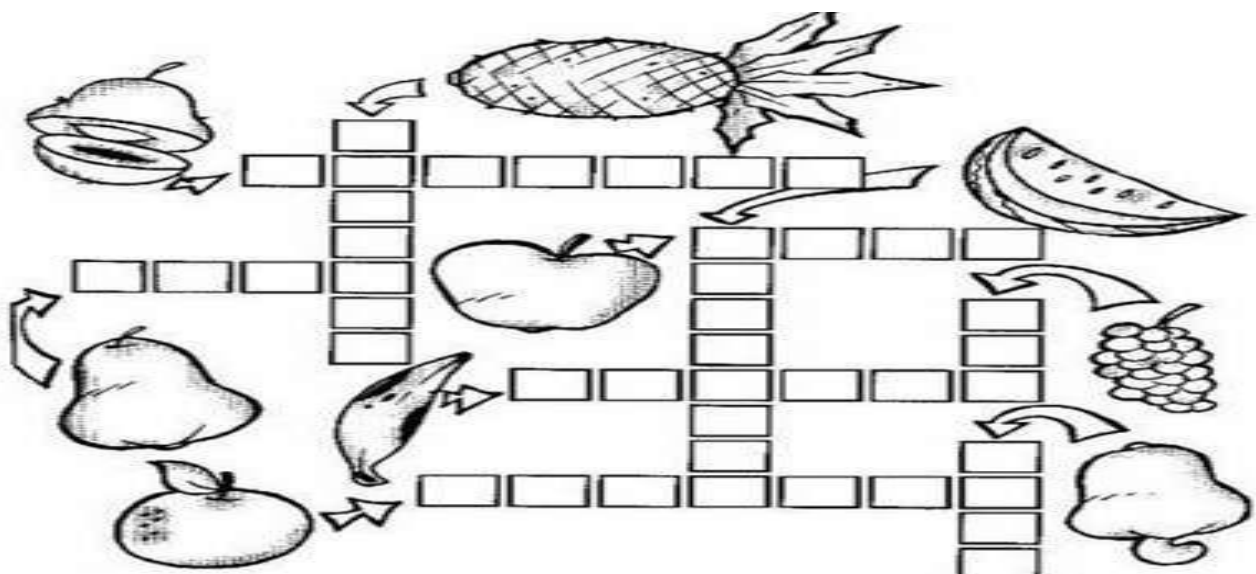
A GENTE É FRACO,  
CAI NO \_\_\_\_\_

LAGO
ALMOFADA
BURACO

O BURACO É FUNDO,  
ACABOU-SE O \_\_\_\_\_

PLANETA
UNIVERSO
MUNDO

**QUESTÃO 16.** AS FRUTAS AUMENTAM A NOSSA IMUNIDADE, POIS POSSUEM MUITAS VITAMINAS. ESCRIVAM NA CRUZADINHA OS NOMES DAS FRUTAS:







Turbine seu conhecimento

**QUESTÃO 17.** LEIA A CANTIGA O CRAVO E A ROSA E RESPONDA AS QUESTÕES

ABAIXO MARCANDO COM UM (X) A RESPOSTA CERTA:

O CRAVO BRIGOU COM A ROSA,  
DEBAIXO DE UMA SACADA.  
O CRAVO SAIU FERIDO  
E A ROSA, DESPEDAÇADA.  
O CRAVO FICOU DOENTE,  
A ROSA FOI VISITAR.  
O CRAVO TEVE UM DESMAIO  
E A ROSA PÔS-SE A CHORAR.



- A) QUEM BRIGOU COM A ROSA? ( ) O CRAVO ( ) A PAPOULA  
B) O CRAVO E A ROSA ESTAVAM DEBAIXO DA: ( ) JANELA ( ) SACADA ( ) ÁRVORE  
C) QUEM TEVE UM DESMAIO? ( ) O CRAVO ( ) A ROSA  
D) QUEM FICOU CHORANDO? ( ) A ROSA ( ) O CRAVO

**QUESTÃO 18.** CIRCULE O NOME DE CADA FIGURA:




figura disponível em: <https://br.pinterest.com/>



# CADERNO DE ATIVIDADES



Turbine seu conhecimento

**QUESTÃO 19.** ENCONTRE NO CAÇA-PALAVRAS OS NOMES DOS ANIMAIS

DOMÉSTICOS ABAIXO:

GALINHA PAVÃO BURRO CABRA CÃO CANÁRIO

COELHO OVELHA PORCO PATO VACA HAMSTER



figura disponível em: <http://2.bp.blogspot.com/>

**QUESTÃO 20.** NESSES DIAS QUE PASSAMOS EM CASA NOS DÁ UMA FOME NÃO É MESMO? VAMOS ORGANIZAR ESSA LISTA DE ALIMENTOS NA ORDEM DO ALFABETO?

MACARRÃO ARROZ FEIJÃO BIFE ESPINAFRE

FRANGO PEIXE BATATA OVO ALFACE

1. \_\_\_\_\_
2. \_\_\_\_\_
3. \_\_\_\_\_
4. \_\_\_\_\_
5. \_\_\_\_\_

6. \_\_\_\_\_
7. \_\_\_\_\_
8. \_\_\_\_\_
9. \_\_\_\_\_
10. \_\_\_\_\_



figura disponível em: <https://br.pinterest.com/>



## MATEMÁTICA MÓDULO I

**QUESTÃO 1.** MARQUE COM UM X A DEZENA MAIS PRÓXIMA AOS NUMERAIS DADOS:

17	10	20	30	40
----	----	----	----	----


51	30	40	50	60
----	----	----	----	----

78	60	70	80	90
----	----	----	----	----

66	50	60	70	80
----	----	----	----	----

11	10	20	30	40
----	----	----	----	----

**QUESTÃO 2.** RESOLVA UTILIZANDO A ADIÇÃO:

+	2	6	8	3	9	7	
6							
9							
5							
8							
7							
4							



# CADERNO DE ATIVIDADES



Turbine seu conhecimento

**QUESTÃO 3.** ESCREVA O ANTECESSOR E O SUCESSOR DOS NUMERAIS:

	34	
	23	
	43	
	13	

	44	
	54	
	76	
	65	

	66	
	87	
	33	
	32	

**QUESTÃO 4.** RESOLVA OS PROBLEMAS:

A) NA VÉSPERA DE SÃO JOÃO FIZEMOS UMA FESTA NA NOSSA SALA. SEU BALBINO ENCOMENDOU 42 COXINHAS E 55 EMPADINHAS. QUANTOS SALGADOS ELE ENCOMENDOU?

D	U

RESPOSTA: SEU BALBINO ENCOMENDOU \_\_\_\_\_ SALGADOS.

B) PARA ENFEITAR A FESTA DE SÃO JOÃO A PROFESSORA RENATA FEZ 34 BANDEIRINHAS VERDES E 46 BANDEIRINHAS AMARELAS. QUANTAS BANDEIRINHAS ELA FEZ AO TODO?

D	U

RESPOSTA: RENATA FEZ AO TODO \_\_\_\_\_ BANDEIRINHAS.





# CADERNO DE ATIVIDADES



Turbine seu conhecimento

**QUESTÃO 7.** QUAL A METADE DOS NUMERAIS ABAIXO?

20	
12	
30	
10	
44	

50	
100	
200	
22	
40	

**QUESTÃO 8.** MARQUE COM UM X A ESCRITA CORRETA DOS NUMERAIS ABAIXO:

	<input type="checkbox"/>	QUARENTA E QUATRO
26	<input type="checkbox"/>	OITENTA E OITO
	<input type="checkbox"/>	VINTE E SEIS
	<input type="checkbox"/>	VINTE E TRÊS

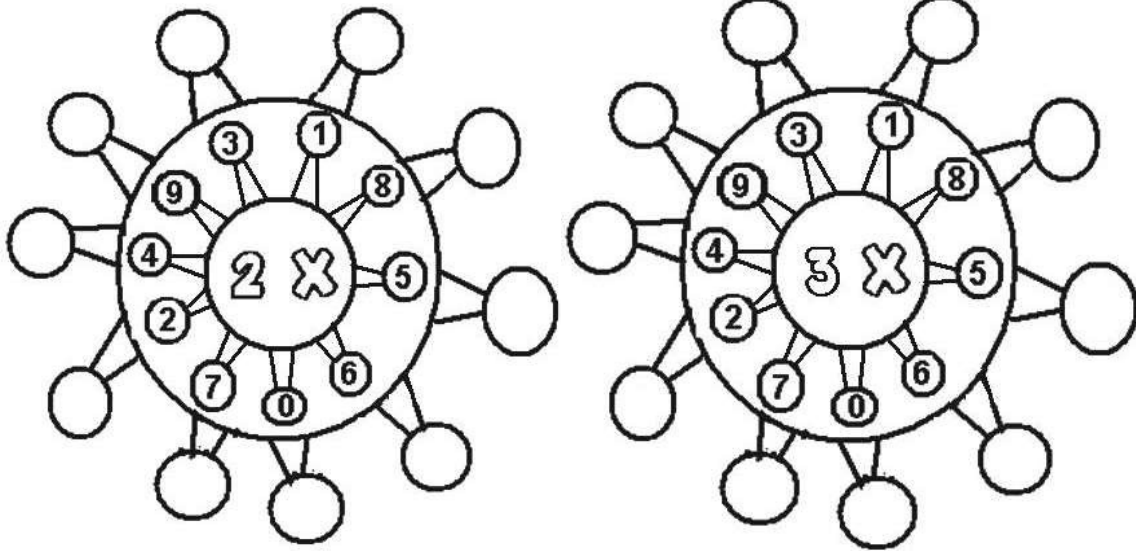
	<input type="checkbox"/>	OITENTA E SETE
87	<input type="checkbox"/>	NOVENTA E NOVE
	<input type="checkbox"/>	VINTE E CINCO
	<input type="checkbox"/>	SETENTA E SETE

	<input type="checkbox"/>	OITENTA E UM
66	<input type="checkbox"/>	CINQUÊNTA E DOIS
	<input type="checkbox"/>	QUATORZE
	<input type="checkbox"/>	SESSENTA E SEIS

	<input type="checkbox"/>	NOVENTA E QUATRO
49	<input type="checkbox"/>	QUARENTA E NOVE
	<input type="checkbox"/>	QUARENTA E OITO
	<input type="checkbox"/>	CINQUENTA



**QUESTÃO 9.** VAMOS CALCULAR A TABUADA. TENHA ATENÇÃO!



figuras disponíveis em: [misturadealegria.blogspot.com.br](http://misturadealegria.blogspot.com.br)

**QUESTÃO 10.** ESCREVA OS NUMERAIS QUE SERÃO SOMADOS PARA QUE O RESULTADO SEJA 6 E 9.

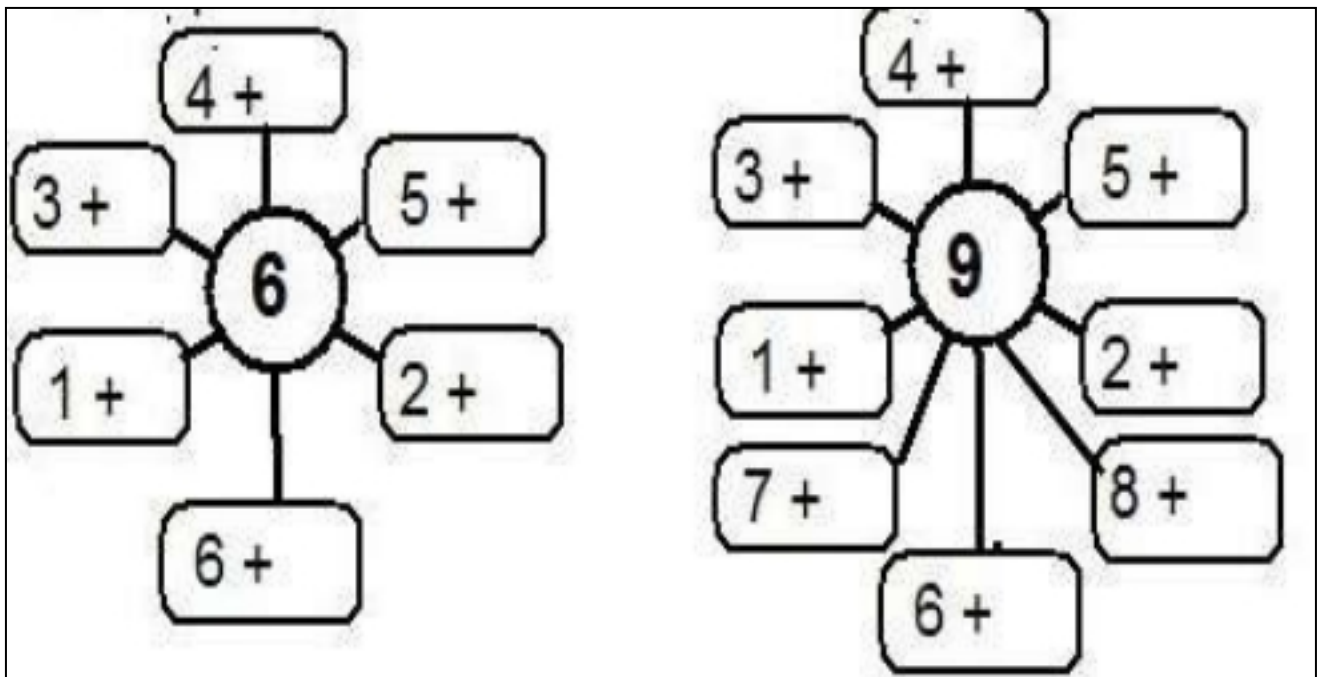


figura disponível em: [misturadealegria.blogspot.com.br](http://misturadealegria.blogspot.com.br)





**QUESTÃO 11.** PINTE NAS CALCULADORAS OS RESULTADOS DAS ADIÇÕES ABAIXO.


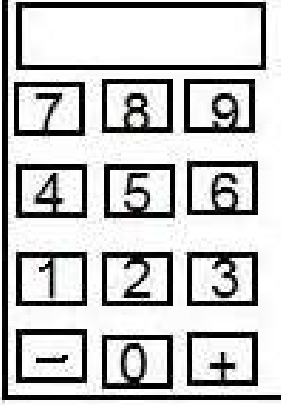


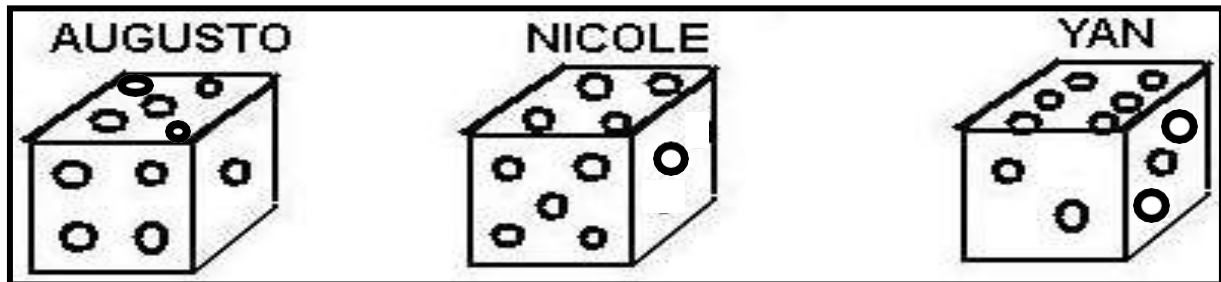
			
$5 + 2$	$6 + 2$	$5 + 4$	$3 + 4$

figura disponível em: [misturadealegria.blogspot.com.br](http://misturadealegria.blogspot.com.br)

**QUESTÃO 12.** OBSERVE OS DADOS ABAIXO E RESPONDA AS QUESTÕES A SEGUIR:



- A) O DADO DE AUGUSTO CAIU NO NÚMERO \_\_\_\_\_.
- B) O DADO DE NICOLE CAIU NO NÚMERO \_\_\_\_\_.
- C) O DADO DE YAN CAIU NO NÚMERO \_\_\_\_\_.
- D) QUAL DELES CAIU NO MAIOR NÚMERO? \_\_\_\_\_.
- E) E NO MENOR NÚMERO? \_\_\_\_\_.
- F) QUAL A SOMA DOS TRÊS JUNTOS?
- G) FAÇA A OPERAÇÃO. \_\_\_\_\_ + \_\_\_\_\_ + \_\_\_\_\_ = \_\_\_\_\_

disponível em: [misturadealegria.blogspot.com.br](http://misturadealegria.blogspot.com.br)



Turbine seu conhecimento

**QUESTÃO 13.** A SOGRA DE PEDRO RESOLVEU FAZER A COMPRA ABAIXO.

OBSERVE O QUE ELA COMPROU E RESPONDA AS QUESTÕES:

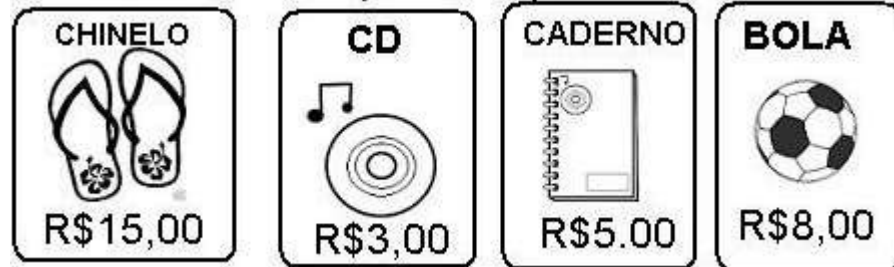


Figura disponível em: [misturadealegria.blogspot.com.br](http://misturadealegria.blogspot.com.br)

A) QUANTO CUSTA EM REAIS?

O CHINELO \_\_\_\_\_ O CD \_\_\_\_\_

O CADERNO \_\_\_\_\_ A BOLA \_\_\_\_\_

B) QUAL DOS PRODUTOS CUSTA MAIS? \_\_\_\_\_

C) QUAL DOS PRODUTOS CUSTA MENOS? \_\_\_\_\_

D) QUANTO A SOGRA DE PEDRO GASTOU? \_\_\_\_\_

**QUESTÃO 14.** CIRCULE OS PRODUTOS QUE COMPRAMOS POR QUILO:


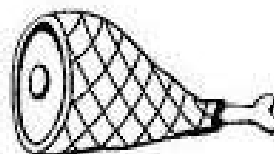




figura disponível em: [1.bp.blogspot.com](http://1.bp.blogspot.com)



**QUESTÃO 15.** DÊ O DOBRO DOS NUMERAIS ABAIXO:

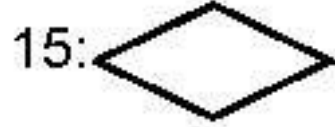
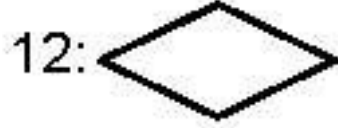
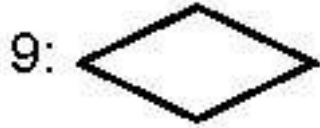



Figura disponível em: [misturadealegria.blogspot.com.br](http://misturadealegria.blogspot.com.br)

**QUESTÃO 16.** PINTE DE ACORDO COM AS CORES E O NUMERAL RESPECTIVO:

( 5 ) VERMELHO

( 7 ) LARANJA

( 10 ) VERDE

( 6 ) AZUL

( 9 ) AMARELO

( 12 ) CINZA

( 8 ) MARRON

( 13 ) ROSA

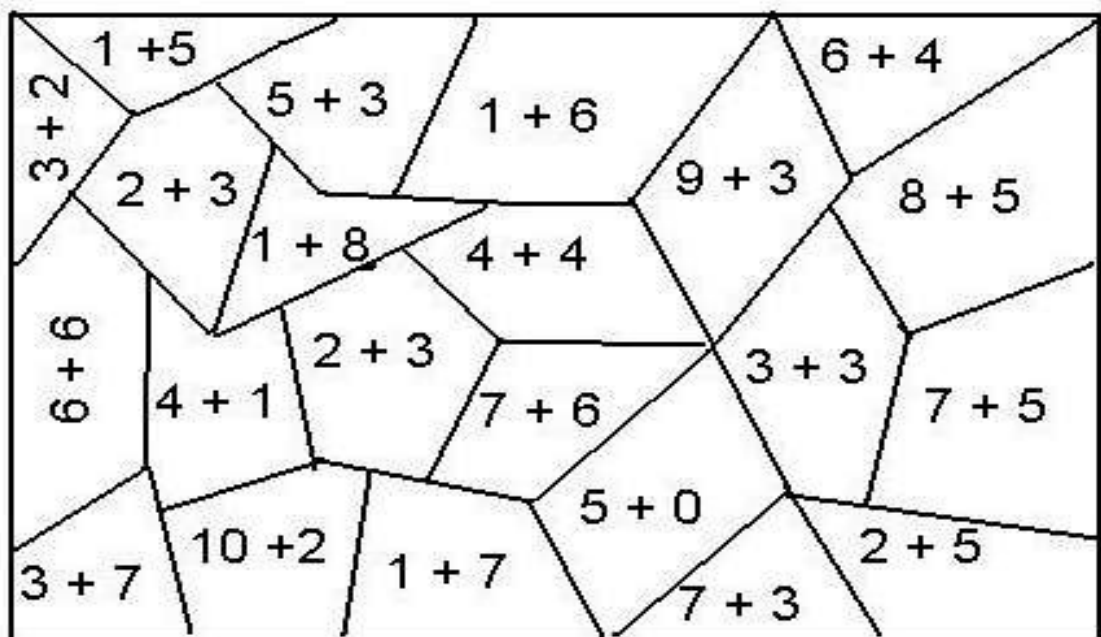


figura disponível em: [misturadealegria.blogspot.com.br](http://misturadealegria.blogspot.com.br)



**QUESTÃO 17.** A COSTUREIRA MARIA ESTÁ MEDINDO UMA FITA PARA PREGAR NA BARRA DE UMA SAIA DE UMA ROUPA JUNINA. AJUDE MARIA NESTE TRABALHO ANOTANDO QUANTOS CENTÍMETROS TEM CADA FITA:

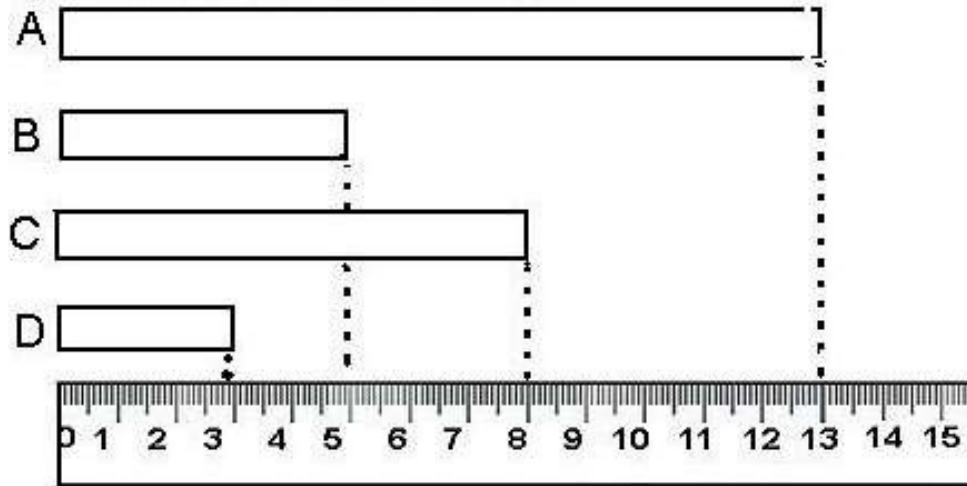


figura disponível em: [misturadealegria.blogspot.com.br](http://misturadealegria.blogspot.com.br)

- A) FITA A \_\_\_\_\_ C) FITA C \_\_\_\_\_  
 B) FITA B \_\_\_\_\_ D) FITA D \_\_\_\_\_  
 E) QUAL DAS FITAS MEDE MAIS? \_\_\_\_\_  
 F) QUAL DAS FITAS MEDE MENOS? \_\_\_\_\_

**QUESTÃO 18.** VAMOS RESOLVER AS OPERAÇÕES E DEPOIS ESCREVER ( V ) PARA VERDADEIRO E ( F ) PARA FALSO?








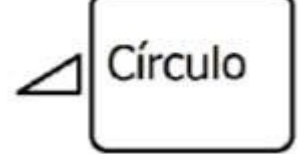
$9 - 4 = 5$ <input type="checkbox"/>	$10 - 2 = 9$ <input type="checkbox"/>	$11 - 3 = 8$ <input type="checkbox"/>
$9 - 9 = 2$ <input type="checkbox"/>	$7 - 3 = 4$ <input type="checkbox"/>	$8 - 3 = 6$ <input type="checkbox"/>

figura disponível em: [misturadealegria.blogspot.com.br](http://misturadealegria.blogspot.com.br)



Turbine seu conhecimento

**QUESTÃO 19.** LIGUE AS FORMAS GEOMÉTRICAS A SEU NOME CORRETO.

**QUESTÃO 20.** CONTE AS CONTAS DO ÁBACO E ESCREVA OS NUMERAIS FORMADOS.

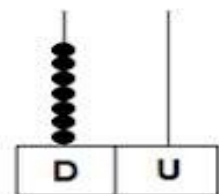
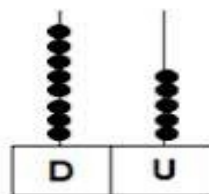
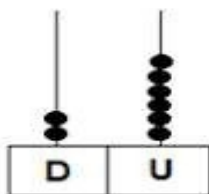
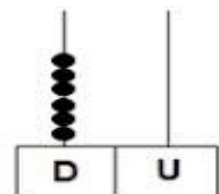
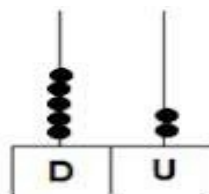
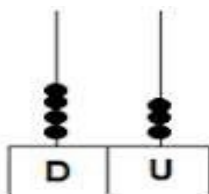


figura disponível em: <https://www.ahoradecolorir.com.br/>