

NOME: _____

ESCOLA: _____



SECRETARIA MUNICIPAL DE EDUCAÇÃO



CADERNO DE ATIVIDADES

IV UNIDADE

Turbine seu conhecimento

Anos Iniciais – 2º Ano

LÍNGUA PORTUGUESA 2º ANO

QUESTÃO 1 (EF02LP07.2JAB)

COM AJUDA DE UM ADULTO, ESCREVA UMA LISTA DAS ATIVIDADES QUE VOCÊ MAIS GOSTA DE FAZER QUANDO VAI À ESCOLA.

QUESTÃO 2 - (EF01LP16.3JAB)

LEIA O TEXTO COM AJUDA DA FAMÍLIA.



Bolo de Caneca

INGREDIENTES

- 1 ovo pequena
- 4 colheres leite
- 3 colheres óleo
- 2 colheres rasas chocolate em pó
- 4 colheres rasas farinha de trigo com fermento
- 4 colheres rasas açúcar

MODO DE PREPARO

- Na caneca coloque o ovo e bata
- Coloque o óleo, o açúcar, o leite, o chocolate e bata mais
- Coloque a farinha de trigo com fermento e misture até encorpar
- Leve as microondas, 3 min em potência alta

www.pragentemiuda.org









QUAL A FINALIDADE DESSE TEXTO?

- A) VENDER UM BOLINHO.
- B) CONVIDAR PARA UM LANCHE.
- C) ENSINAR A FAZER UM BOLO.
- D) COMPARTILHAR FOTOS NA REDE SOCIAL.

QUESTÃO 3 - (EF01LP13.1JAB)

EM CADA LINHA EXISTE UM PAR DE RIMAS. ENCONTRE-A E PINTE AS PALAVRAS QUE APRESENTAM RIMA.

USE CORES DIFERENTES PARA CADA PAR DE RIMA QUE ENCONTAR.

 VASSOURA	 BANANA	 TESOURA	 BONECA
 PÉ	 JANELA	 PANELA	 CANECA

QUESTÃO 4 - (EF02LP01.3JAB)


PASSE UM TRAÇO PARA SEPARAR AS PALAVRAS DE CADA FRASE. DEPOIS, REESCREVA CORRETAMENTE COLOCANDO OS ESPAÇOS ENTRE AS PALAVRAS:

ADONAARANHA

SUBIUPELAPAREDE


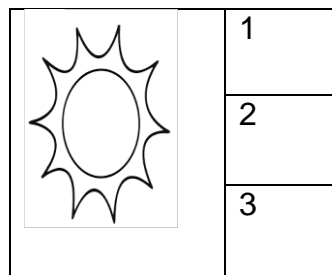

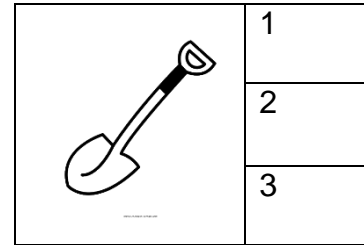

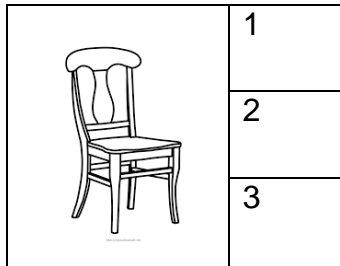
VEIOACHUVAFORTE

EADERRUBOU.



QUESTÃO 5 - (EF02LP02.1JAB)

OBSERVE AS FIGURAS E PINTE O NÚMERO QUE REPRESENTA A QUANTIDADE DE SÍLABAS DE CADA PALAVRA.



QUESTÃO 6 - (EF02LP07.1JAB)

AS FRASES ABAIXO ESTÃO EMBARALHADAS, ORGANIZE-AS E ESCREVA CORRETAMENTE COM LETRA CURSIVA DENTRO DE CADA QUADRO:



QUESTÃO 7 - (EF02LP04.1JAB)

OBSERVE E CANTE A MÚSICA. DEPOIS, COMPLETE AS PALAVRAS COM AS VOGAIS QUE FALTAM NOS QUADROS ABAIXO.


FUI AO MERCADO

COMPRAR CAFÉ.

VEIO UMA FORMIGA E SUBIU NO MEU PÉ.

EU SACUDI, SACUDI, SACUDI.

E A FORMIGA NÃO PARAVA DE SUBIR.



F__RM__G__

S__C__D__

C__F__

M__RC__D__

QUESTÃO 8 - (EF02LP09.1JAB)

LEIA A TIRINHA.



Copyright ©1999 Mauricio de Sousa Produções Ltda. Todos os direitos reservados.

6761

IMAGEM : <https://www.espacoeducar.net/2012/07/muitas-tirinhas-da-turma-da-monica-para.html>

O PONTO DE INTERROGAÇÃO NA FRASE: “COM QUANTAS BOLAS?” INDICA QUE ELE ESTÁ:

- A) PERGUNTANDO
- B) AFIRMANDO
- C) CONCORDANDO
- D) RESPONDENDO



TURBINE + AINDA

QUESTÃO 09 - (EF01LP03.2JAB) - DESAFIO DE LÍNGUA PORTUGUESA

ESCREVA DUAS PALAVRAS QUE RIMAM COM GATO E CIRCULE O SOM DAS RIMAS.

QUESTÃO 10 - (EF01CI05.1JAB) - DESAFIO DE CIÊNCIAS


PESQUISE E ESCREVA JUNTO COM ALGUÉM DA SUA FAMÍLIA, O DIA , O MÊS E O ANO QUE VOCÊ NASCEU.

DIA _____ MÊS _____ ANO _____

MATEMÁTICA 2º ANO

QUESTÃO 01 - (EF02MA05.1JAB)

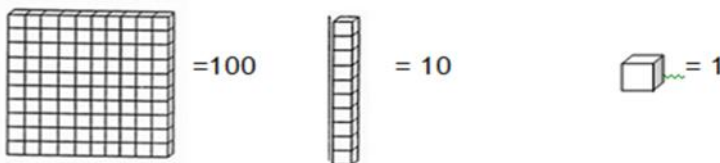
OBSERVE OS CONJUNTOS ABAIXO E RESPONDA:



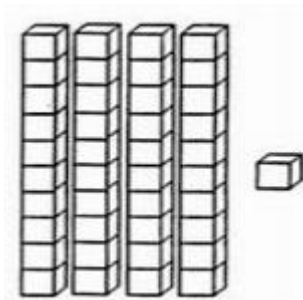
- QUANTOS CARROS TEM NO CONJUNTO **M** ?
(A) 10 (B) 12 (C) 16 (D) 18
- QUAL O CONJUNTO POSSUI MAIS ELEMENTOS?
(A) M (B) N (C) O (D) P

QUESTÃO 02 - (EF02MA02.3JAB)

LEMBRE-SE:



QUAL O NÚMERO REPRESENTADO NO MATERIAL DOURADO A SEGUIR?

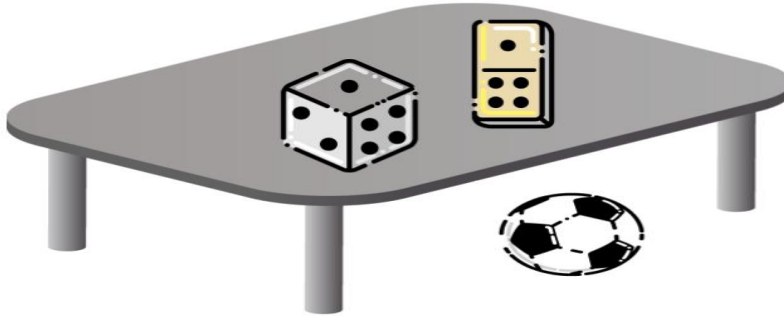


- (A) 40 (B) 41 (C) 50 (D) 141



QUESTÃO 03 (EF02MA12.2JAB)

OBSERVE A IMAGEM E MARQUE A ALTERNATIVA QUE INDICA QUAL O OBJETO QUE ESTÁ EM BAIXO DA MESA.



- (A) BOLA. (B) DADO. (C) DOMINÓ. (D) DADO E DOMINÓ.

QUESTÃO 04 (EF02MA05.1JAB)

PARA ENCHER UMA CAIXA DE 50 LITROS, ZEZINHO TEM UM BALDE NO TAMANHO MOSTRADO NA FIGURA A SEGUIR:



MARQUE A ALTERNATIVA QUE INDICA QUANTOS BALDES ZEZINHO PRECISA PARA ENCHER A CAIXA DE 50 LITROS.

- (A) 6 (B) 10 (C) 5 (D) 20

QUESTÃO 05 - (EF02MA14.4JAB)

UMA CRIANÇA OBSERVOU A SUA MESA DA ESCOLA PELA PARTE DE CIMA. VEJA O QUE ELA VIU:



QUAL FIGURA GEOMÉTRICA PLANA LEMBRA ESSA VISTA DA MESA?

- (A) UM CÍRCULO.
- (B) UM TRIÂNGULO.
- (C) UM RETÂNGULO.
- (D) UM QUADRADO.

QUESTÃO 06 - (EF02MA18.3JAB)

CECÍLIA RESOLVEU IR AO ANIVERSÁRIO DA AVÓ. A DATA DO ANIVERSÁRIO É O TERCEIRO DIA DO MÊS DE MAIO. DESCUBRA QUAL DIA DA SEMANA CECÍLIA IRÁ PARA FESTA DA VOVÓ.



CALENDÁRIO
2021

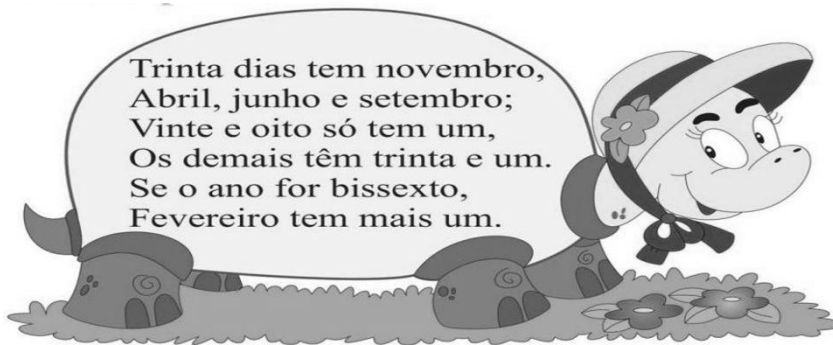
Maio

D	S	T	Q	Q	S	S
						1
2	3	4	5	6	7	8
9	10	11	12	13	14	15
16	17	18	19	20	21	22
23	24	25	26	27	28	29
30	31					

- A () DOMINGO
- B () SÁBADO
- C () SEGUNDA-FEIRA
- D () TERÇA-FEIRA

QUESTÃO 07 - (EF02MA18.5JAB)

A PARLENDA MOSTRA A QUANTIDADE DE DIAS DOS MESES DO ANO. FAÇA O CÁLCULO E DESCUBRA QUANTOS DIAS TÊM JUNTOS, OS MESES DE ABRIL, JUNHO E NOVEMBRO.



DEZENA	UNIDADE

https://docplayer.com.br/docs-images/41/22685829/images/page_2.jpg

- A () 60 B () 31 C () 7 D () 90

QUESTÃO 08 (EF02MA20.1JAB)

JÉSSICA TEM ESTA QUANTIA EM DINHEIRO:



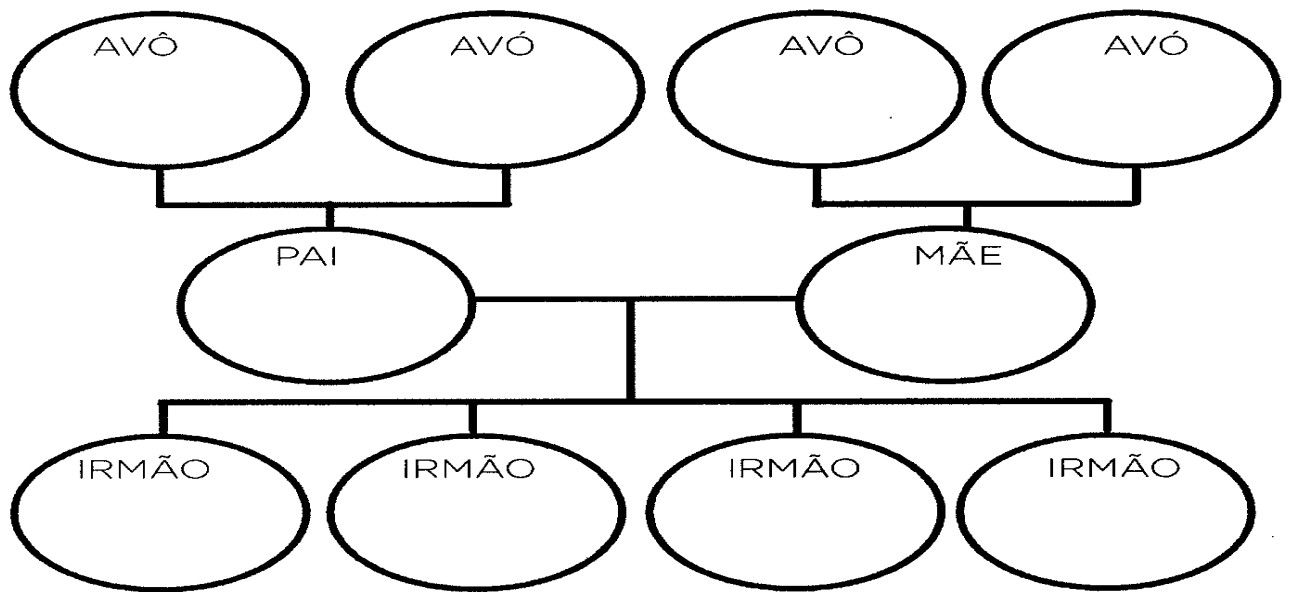
QUER TROCAR POR UMA CÉDULA. ELA DEVE TROCAR PELA NOTA DE:





QUESTÃO 09 - (EF01HI02.1JAB) - DESAFIO DE HISTÓRIA

CONSTRUA A SUA ÁRVORE GENEALÓGICA, ESCRVENDO OS NOMES DOS SEUS FAMILIARES. SE PUDER, COLE FOTOS OU DESENHE.



QUESTÃO 10. - (EF02GE02.3JAB) - DESAFIO DE GEOGRAFIA

FAÇA UM BONITO DESENHO DO ESPAÇO DE VIVÊNCIA QUE VOCÊ MAIS GOSTA DE FREQUENTAR. DEPOIS, ESCREVA O NOME DESSE ESPAÇO E DE QUAL TIPO ELE É: PÚBLICO OU PRIVADO.

NOME DO ESPAÇO DE VIVÊNCIA: _____

TIPO: _____

