

2º SIMULADO 2018 DA REDE MUNICIPAL DO

JABOATÃO DOS GUARARAPES



LÍNGUA PORTUGUESA

MATEMÁTICA

2º ANO DO ENSINO FUNDAMENTAL

NOME:

TURMA:

TURNOS:

ESCOLA:

NOME:

ANO: 2º DO ENSINO

FUNDAMENTAL/TURMA:

TURNO:

2º SIMULADO DE 2018

LÍNGUA PORTUGUESA

1	<input type="radio"/>	<input checked="" type="radio"/>	<input type="radio"/>	<input type="radio"/>
---	-----------------------	----------------------------------	-----------------------	-----------------------

Você deverá pintar apenas uma alternativa

1	<input type="radio"/>	<input type="radio"/>	<input type="radio"/>	<input type="radio"/>
2	<input type="radio"/>	<input type="radio"/>	<input type="radio"/>	<input type="radio"/>
3	<input type="radio"/>	<input type="radio"/>	<input type="radio"/>	<input type="radio"/>
4	<input type="radio"/>	<input type="radio"/>	<input type="radio"/>	<input type="radio"/>
5	<input type="radio"/>	<input type="radio"/>	<input type="radio"/>	<input type="radio"/>
6	<input type="radio"/>	<input type="radio"/>	<input type="radio"/>	<input type="radio"/>
7	<input type="radio"/>	<input type="radio"/>	<input type="radio"/>	<input type="radio"/>
8	<input type="radio"/>	<input type="radio"/>	<input type="radio"/>	<input type="radio"/>
9	<input type="radio"/>	<input type="radio"/>	<input type="radio"/>	<input type="radio"/>
10	<input type="radio"/>	<input type="radio"/>	<input type="radio"/>	<input type="radio"/>

MATEMÁTICA

1	<input type="radio"/>	<input checked="" type="radio"/>	<input type="radio"/>	<input type="radio"/>
---	-----------------------	----------------------------------	-----------------------	-----------------------

Você deverá pintar apenas uma alternativa

1	<input type="radio"/>	<input type="radio"/>	<input type="radio"/>	<input type="radio"/>
2	<input type="radio"/>	<input type="radio"/>	<input type="radio"/>	<input type="radio"/>
3	<input type="radio"/>	<input type="radio"/>	<input type="radio"/>	<input type="radio"/>
4	<input type="radio"/>	<input type="radio"/>	<input type="radio"/>	<input type="radio"/>
5	<input type="radio"/>	<input type="radio"/>	<input type="radio"/>	<input type="radio"/>
6	<input type="radio"/>	<input type="radio"/>	<input type="radio"/>	<input type="radio"/>
7	<input type="radio"/>	<input type="radio"/>	<input type="radio"/>	<input type="radio"/>
8	<input type="radio"/>	<input type="radio"/>	<input type="radio"/>	<input type="radio"/>
9	<input type="radio"/>	<input type="radio"/>	<input type="radio"/>	<input type="radio"/>
10	<input type="radio"/>	<input type="radio"/>	<input type="radio"/>	<input type="radio"/>

QUESTÃO 01



Faça um x no quadradinho que mostra as letras M, P e N.

(A)

P	C	D
---	---	---

(B)

M	P	N
---	---	---

(C)

F	N	V
---	---	---

(D)

L	O	M
---	---	---

QUESTÃO 02



Veja a palavra abaixo.

Encantadora



Faça um x no quadradinho onde aparece a palavra que
você viu escrita de outra forma.

- (A) calculadora.
- (B) *Cantora.*
- (C) encanador.
- (D) ENCANTADORA.

QUESTÃO 03



Veja a figura abaixo.



Faça um x no número de sílabas que corresponde à palavra da figura que você viu.

(A) 1

(B) 2

(C) 3

(D) 4

QUESTÃO 04



Faça um x no quadradinho em que aparecem as duas palavras que rimam

(A) MALA SALA

(B) VELA BONÉ


(C) BOLA SINO

(D) GATO MESA

QUESTÃO 05



Veja a figura abaixo.



Qual é o nome dessa figura?

- (A) CABELO
- (B) CAMELO
- (C) GALADO
- (D) GAMADO

QUESTÃO 06



Veja a figura abaixo:



Qual é o nome dessa figura?

(A) CHÁCARA.

(B) CHICOTE.

(C) XADREZ.

(D) CHAVEIRO.

QUESTÃO 07



Veja a cena abaixo.



Faça um x na frase que conta o que acontece nessa cena.

- (A) O GATO CORRE NO MATO.
- (B) O GATO GOSTA DO GALO.
- (C) O GATO SENTA NO PRATO.
- (D) O GATO SOBE NO GALHO.

QUESTÃO 08



Leia o texto silenciosamente e depois responda à questão

AS MENINAS

ARABELA

ABRIA A JANELA

CAROLINA

ERGUIA A CORTINA

MAIRA

OLHAVA E SORRIA.

“BOM DIA!” (...)

MEIRELES, Cecília. Poesia completa. Rio de Janeiro: Nova Aguilar, 1994.



De acordo com o texto, o que Carolina fazia?

- (A) ABRIA A JANELA.
- (B) DIZIA BOM DIA.
- (C) ERGUIA A CORTINA.
- (D) OLHAVA E SORRIA.

QUESTÃO 09



Observe o cartaz abaixo



Esse cartaz fala sobre

- (A) O COMBATE À DENGUE
- (B) A VACINAÇÃO INFANTIL.
- (C) AS FÉRIAS.
- (D) AS CHUVAS.

QUESTÃO 10




Leia o texto abaixo:





Este texto serve para

- (A) CONVIDAR
- (B) DIVERTIR
- (C) EMOCIONAR
- (D) INFORMAR

QUESTÃO 01

 Esta é uma representação da coleção de carrinhos de Marcos. O carrinho que ele mais usa para brincar está localizado exatamente no meio da figura.



 Faça um x no quadradinho que indica o número do carro preferido de Marcos.

(A) 1

(B) 2

(C) 5

(D) 8

QUESTÃO 02

 Observe as figuras abaixo.



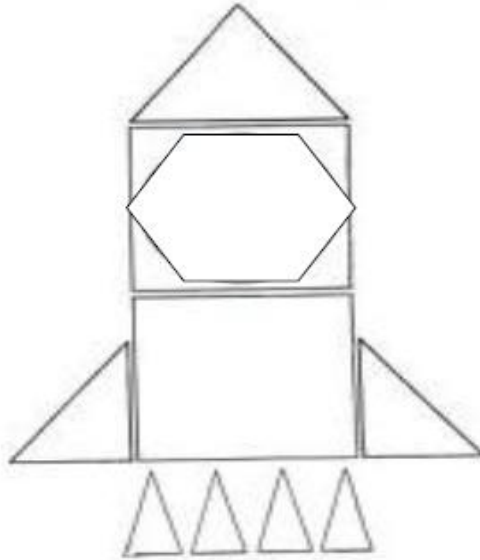
FONTE: www.bing.com/imagens

 Faça um x no quadradinho da palavra que lembra uma esfera.

- (A) A BOLA
- (B) A LATA
- (C) O CONE
- (D) O DADO

QUESTÃO 03


 **Veja o foguete que João construiu utilizando diversas figuras geométricas.**

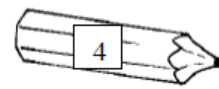
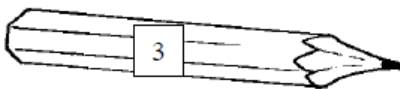
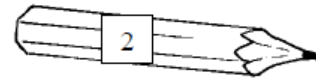


 **Faça um x no quadradinho da figura que tem três lados.**



QUESTÃO 04

 **Veja os lápis de Fernanda. O lápis que ela mais gosta de usar para escrever é o mais curto.**



 **Faça um x no quadradinho que indica o número do lápis mais curto.**


(A) 4


(B) 3

(C) 2

(D) 1

QUESTÃO 05

 Observe o relógio abaixo que mostra a hora que Roberto começou a trabalhar.



 Qual relógio digital está marcando o mesmo horário em que ele começou a trabalhar?

(A)



© Can Stock Photo - csp39402799

(B)



© Can Stock Photo - csp39402799

(C)



© Can Stock Photo - csp39402799

(D)



© Can Stock Photo - csp39402799

QUESTÃO 06

🔊 Mariana vai estar de férias o mês de junho completo. Por quantos dias Mariana ficará de férias?

(A) 31

(B) 30


(C) 29

(D) 28



QUESTÃO 07

🔊 Observe a ilustração que mostra a fila no ponto de ônibus.



🔊 Faça um x no quadradinho que mostra em que posição está a pessoa mais alta da fila.

(A) 1º lugar

(B) 2º lugar

(C) 3º lugar

(D) 4º lugar

QUESTÃO 08

🔊 **Maria Clara tem cinco canetas coloridas e Fábio comprou quatro. Faça um x no quadradinho que mostra quantas canetas eles têm juntos.**

(A) 1

(B) 4

(C) 5

(D) 9

QUESTÃO 09

 Resolva a operação abaixo.

$$\begin{array}{r} 12 \\ - 5 \\ \hline \end{array}$$

 Qual é o resultado dessa operação?


(A) 3

(B) 7

(C) 8

(D) 9

QUESTÃO 10

 Observe na tabela abaixo a quantidade de mudas de flores que Cristina plantou em seu jardim.

Muda de flor	Quantidade
Camélia	5
Margarida	12
Orquídea	8
Rosa	14

 De acordo com essa tabela, quantas mudas de margarida, no total, ela plantou em seu jardim?

(A) 5

(B) 8

(C) 12

(D) 14