

NOME: _____

ESCOLA: _____



SECRETARIA MUNICIPAL DE EDUCAÇÃO


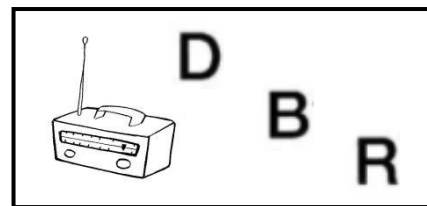



**CADERNO DE ATIVIDADES 1ª UNIDADE
2022**






**Turbine seu conhecimento
- 1º ANO -**

LÍNGUA PORTUGUESA - 1º ANO

QUESTÃO 1 CIRCULE A LETRA INICIAL DO NOME DE CADA FIGURA.



QUESTÃO 2 PINTE O NOME DAS FIGURAS.



GATO
PATO
MATO

FACA
LATA
MACA

ROMA
ROSA
RODA

COLA
GOLA
MOLA

SOFÁ
SALA
SOLA



QUESTÃO 3 COMPLETE O QUADRO DE ACORDO COM O QUE SE PEDE. SIGA O EXEMPLO:

RÓTULO	PALAVRA	LETRA INICIAL	LETRA FINAL	QUANTAS LETRAS	QUANTAS SÍLABAS
	ASSOLAN	A	N	7	3

QUESTÃO 4 MOSTRE QUE VOCÊ JÁ SABE O QUE SÃO RÓTULOS DE EMBALAGENS. PROCURE NA SUA CASA OS NOMES NOS RÓTULOS E ESCREVA.

ALIMENTO	PRODUTO DE LIMPEZA	PRODUTO DE HIGIENE PESSOAL




CADERNO DE ATIVIDADES



Turbine seu conhecimento

QUESTÃO 5 ESCREVA O ALFABETO NOS ESPAÇOS E CIRCULE APENAS AS VOGAIS.

QUESTÃO 6 PEÇA A UM ADULTO PARA LER COM VOCÊ O TEXTO ABAIXO. DEPOIS RESPONDA O QUE SE PEDE.

A CASA E SEU DONO
ELIAS JOSÉ

ESSA CASA É DE CACO
QUEM MORA NELA É O MACACO.
ESSA CASA É TÃO BONITA
QUEM MORA NELA É A CABRITA.
ESSA CASA É DE CIMENTO
QUEM MORA NELA É O JUMENTO.
ESSA CASA É DE TELHA
QUEM MORA NELA É A ABELHA.
ESSA CASA É DE LATA
QUEM MORA NELA É A BARATA.
ESSA CASA É ELEGANTE
QUEM MORA NELA É O ELEFANTE.
E DESCOBRI DE REPENTE
QUE NÃO FALEI DE CASA DE GENTE.

- PROCURE NO TEXTO TODAS AS PALAVRAS **CASA** E CIRCULE.
- QUANTAS VEZES ESSA PALAVRA APARECE NO TEXTO? _____
- ESCREVA AS PALAVRAS QUE RIMAM COM:
CACO - _____
BONITA - _____
CIMENTO - _____
TELHA - _____
ELEGANTE - _____

QUESTÃO 7 LEIA O TRAVA-LÍNGUA ABAIXO. EM SEGUIDA RESPONDA AS QUESTÕES.

O JANTAR DO JABUTI
(DITO POPULAR)

O JABUTI CHAMOU A JURITI PARA JANTAREM JUNTOS.
ELES COMERAM CAJÚ, JACA, JENIPAPO E JATOBÁ.
DEPOIS, DISSERAM:
- JANTAR COMO ESTE NÃO HÁ!

- RETIRE DO TEXTO 4 PALAVRAS INICIADAS PELO MESMO SOM.

- SE VOCÊ PUDESSE LEVAR ALGUMAS **FRUTAS** PARA O JANTAR DO JABUTI, QUAIS SERIAM ELAS? ESCREVA FRUTAS INICIADAS COM OS SONS A SEGUIR.

BA - _____ A - _____

ME - _____ MA - _____

LA - _____ GO - _____

QUESTÃO 8 PROCURE NO CAÇA-PALAVRAS AS FRUTAS DO JANTAR DO JABUTI.

CAJÚ	JACA	JENIPAPO	JATOBÁ
------	------	----------	--------

	C	W	F	Y	U	O	N	Z	
	A	P	N	Q	Z	J	L	F	
	J	E	N	I	P	A	P	O	
	Ú	R	W	V	X	C	M	Ç	
	D	G	H	K	J	A	H	Z	
	K	S	X	T	Y	O	Ç	B	
	Q	J	A	T	O	B	Á	L	
	R	V	S	G	J	I	O	M	

QUESTÃO 9 LEIA O POEMA “A FOCA” DE VINÍCIUS DE MORAES. SE PUDER ASSISTA O VÍDEO DESSA MÚSICA NO YOUTUBE. DEPOIS RESPONDA AS QUESTÕES ABAIXO.

A FOCA

VINÍCIUS DE MORAES

QUER VER A FOCA FICAR FELIZ?
 É PÔR UMA BOLA NO SEU NARIZ.
 QUER VER A FOCA BATER PALMINHAS?
 É DAR A ELA UMA SARDINHA.
 QUER VER A FOCA FAZER UMA BRIGA?
 ESPETA ELA BEM NA BARRIGA.

- CIRCULE O TÍTULO DO TEXTO.
- PASSE UMA LINHA EMBAIXO DO NOME DO AUTOR DO TEXTO.

- TIRE DO TEXTO DUAS PALAVRAS COM:

2 SÍLABAS	3 SÍLABAS

QUESTÃO 10 LEIA A TIRINHA SOZINHO(A) OU COM AJUDA.



Copyright ©1999 Mauricio de Sousa Produções Ltda. Todos os direitos reservados.

5229

- CEBOLINHA FALA AS PALAVRAS DE UMA FORMA DIFERENTE. QUAL É A LETRA QUE ELE TROCA PELO R NAS PALAVRAS? _____
- CEBOLINHA ESTÁ VESTIDO IGUAL A QUEM? _____
- COMO ESTÁ A EXPRESSÃO NO ROSTO DOS TRÊS MENINOS NO SEGUNDO QUADRINHO? _____
- POR QUE ELES ESTÃO COM ESSA CARA? _____
- CONSERTE AS PALAVRAS QUE CEBOLINHA FALOU ERRADO.

TULMA - _____

CALAS - _____

TLENÓ - _____

QUELEM - _____

MATEMÁTICA- 1º ANO

QUESTÃO 1 COMO É BOM ESTUDAR OS NÚMEROS! LIGUE OS PONTOS DO NÚMERO 1 ATÉ O NÚMERO 20 E DESCUBRA O ANIMAL QUE FORMOU, EM SEGUIDA PINTE-O BEM BONITO.




QUESTÃO 2 COMPLETE A SITUAÇÃO PROBLEMA DESENHANDO A QUANTIDADE CERTA.

<p>EM UMA MACIEIRA HAVIAM 7 MAÇÃS</p>	<p>4 MAÇÃS CAÍRAM NO CHÃO</p>	<p>QUANTAS FICARAM NO PÉ?</p>




QUESTÃO 3 ORGANIZE OS NÚMEROS EMBARALHADOS E ESCREVA-OS EM ORDEM CRESCENTE NOS VAGÕES DO TREM.

75	0	18	53	34	29	41	62
----	---	----	----	----	----	----	----



QUESTÃO 4 RESOLVA O PROBLEMINHA E COM O RESULTADO ENCONTRE O CAMINHO ATÉ A ESTRELA.



O PAPAÍ NOEL QUER PEGAR A ESTRELA DE NATAL. PARA ACHAR O CAMINHO ELE PRECISA SABER O RESULTADO DA CONTINHA $5+3$.



QUESTÃO 5 OBSERVE O DIAGRAMA ABAIXO E RESPONDA:



VALE LEMBRAR!

NO DIAGRAMA É POSSÍVEL ENCONTRAR A LOCALIZAÇÃO DE ALGUM OBJETO ATRAVÉS DE UMA LETRA E UM NÚMERO.

POR EXEMPLO NO DIAGRAMA ABAIXO O PAPAÍ NOEL ESTÁ NA POSIÇÃO 5,C

5					
4					
3					
2					
1					
	A	B	C	D	E

QUAL É A POSIÇÃO DA VELA?

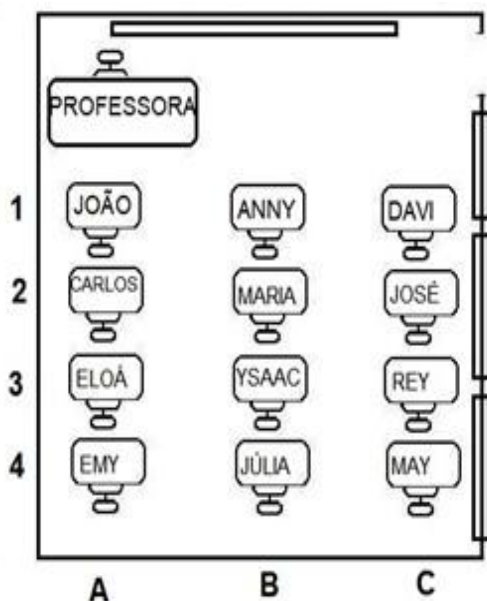
QUAL É A POSIÇÃO DO ANJO?

O QUE ESTÁ NA POSIÇÃO

2,A ? _____

O QUE ESTÁ NA POSIÇÃO 3,E ?

QUESTÃO 6 ANALISE A SALA DE AULA DA PROFESSORA ELIZETE E OBSERVE A POSIÇÃO DE ALGUNS ESTUDANTES DA SALA.



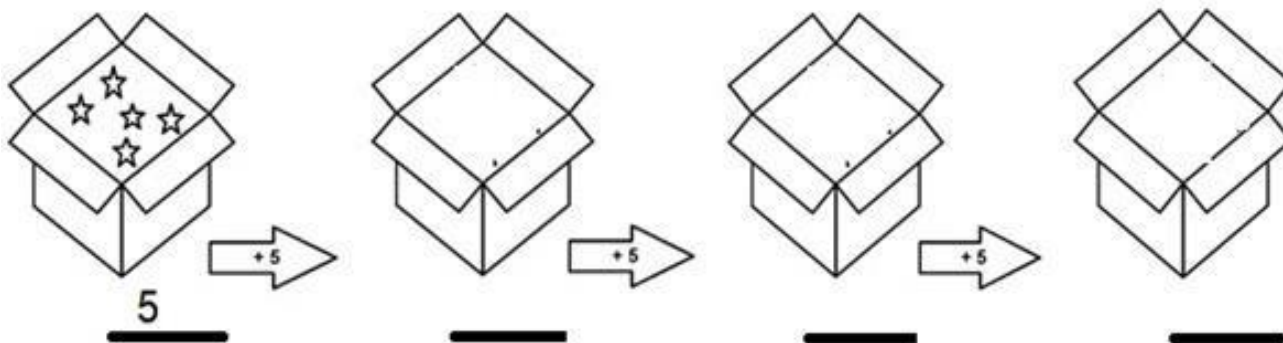
• JOÃO ESTÁ NA FILEIRA NÚMERO 1 NA COLUNA A. QUEM ESTÁ AO LADO DELE?

• QUEM ESTÁ SENTADO NA POSIÇÃO 2, C?

• EMY ESTÁ EM QUE POSIÇÃO DA SALA?



QUESTÃO 7 AGORA VAMOS CONTAR? CONTE AS ESTRELINHAS E REGISTRE O NÚMERO CORRESPONDENTE SEMPRE SOMANDO MAIS 5.



QUESTÃO 8 RESOLVA AS SUBTRAÇÕES E COM OS RESULTADOS PINTE O BALÃO SEGUINDO AS CORES INDICADAS NA LEGENDA.

RESULTADOS

- 1 = VERDE
- 2 = VERMELHO
- 3 = AZUL
- 4 = AMARELO
- 5 = MARROM
- 6 = PRETO

Subtraction problems on the balloon segments:


- Top row: $3-2$, $5-1$, $4-2$, $5-2$, $8-7$
- Second row: $8-4$, $9-7$, $8-5$, $3-2$, $9-5$
- Third row: $7-5$, $7-4$, $4-3$, $10-6$, $7-1$
- Fourth row: $6-3$, $6-5$, $6-2$, $9-3$, $8-5$
- Fifth row: $2-1$, $5-1$, $10-4$, $6-3$, $8-7$
- Bottom row (basket): $6-2$, $6-5$, $8-4$

QUESTÃO 9 ESCREVA A POSIÇÃO DAS PESSOAS A SEGUIR:



VALE LEMBRAR!

OS NÚMEROS ORDINAIS SERVEM PARA INDICAR LUGAR OU POSIÇÃO.

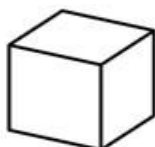


- MENINA DE SAIA _____
- HOMEM COM CACHORRO _____
- ÚLTIMO DA FILA _____
- MENINO COM BRINQUEDO _____

QUESTÃO 10 OBSERVE OS SÓLIDOS GEOMÉTRICOS A SEGUIR:



ESFERA



CUBO



CONE

ESCREVA ABAIXO O NOME DOS SÓLIDOS GEOMÉTRICOS QUE AS IMAGENS LEMBRAM.

 _____	 _____	 _____
 _____	 _____	 _____