

ESCOLA: _____

NOME: _____



SECRETARIA MUNICIPAL DE EDUCAÇÃO



**CADERNO DE ATIVIDADES
TURBINE SEU CONHECIMENTO
4ª UNIDADE
- EJA -MÓDULO II**



LÍNGUA PORTUGUESA MÓDULO II

QUESTÃO 1. (EJAMODILP20.1JAB) OBSERVE A CENA ABAIXO.

A) QUE GÊNERO TEXTUAL É ESSE?

- () LISTA.
- () RECEITA.
- () POEMA.
- () HISTÓRIA EM QUADRINHOS.

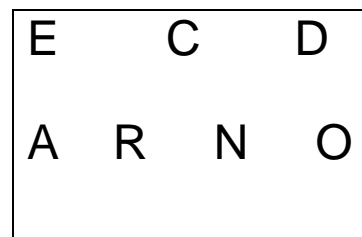
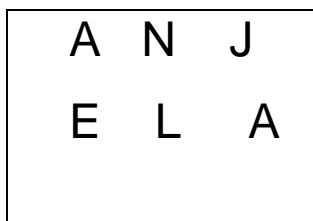


Copyright ©1999 Mauricio de Sousa Produções Ltda. Todos os direitos reservados.

7115

Disponível em: <https://napontadalingua754.wordpress.com>

QUESTÃO 2. (EJAMODIILP04.1JAB) ORGANIZE AS LETRAS PARA DESCOBRIR AS PALAVRAS ESCONDIDAS.





QUESTÃO 3. (EJAMODILP20.1JAB) OBSERVE E LEIA O TEXTO:



O TEXTO ACIMA É UMA:

- A) RECEITA
- B) LISTA
- C) CARTA

QUESTÃO 4. (EJAMODI-IILP7.2JAB) QUAL A SÍLABA TÔNICA DAS PALAVRAS?
ESCREVA-AS DENTRO DO QUADRADO:

ESPETÁCULO

FUNIL

FÁBULA

BANDEIRA

CHAMINÉ

MÉDICO

ÂNGULO

PROFESSOR

Atenção!
Sílabas tônicas são as
sílabas mais fortes da
palavra.



QUESTÃO 5. (EJAMODI-IIP04.3JAB) LEIA O TEXTO COM ATENÇÃO.

RIR FAZ BEM PARA A SAÚDE

O HÁBITO DE RIR ULTRAPASSA OS LIMITES DA ALEGRIA, POIS AUXILIA PESSOAS QUE APRESENTAM QUADROS DEPRESSIVOS E SÍNDROME DO PÂNICO. SEGUNDO PESQUISADORES, A RISADA PODE ELEVAR O ASTRAL, A AUTOESTIMA E O AMOR PRÓPRIO DAS PESSOAS. A PESSOA BEM-HUMORADA ENCONTRA RESPOSTAS CRIATIVAS QUANDO O LADO DIREITO DO CÉREBRO É ESTIMULADO E ELE, CONSEQUENTEMENTE, DESPERTA A INTUIÇÃO, O SENTIMENTO, A PERCEPÇÃO E A SENSAÇÃO.

FONTE: BRASIL ESCOLA <http://www.brasilecola.com/>

A IDEIA DEFENDIDA NO TEXTO É DE QUE:

- A) RIR PREJUDICA A SAÚDE.
- B) RIR É BOM PARA SAÚDE.
- C) O MAU HUMOR FAVORECE A CRIATIVIDADE.
- D) SOMENTE A AUTOESTIMA SE ELEVA COM A RISADA.

QUESTÃO 6. (EJAMODILP12.1) LEIA OS TRAVA-LÍNGUAS E RESPONDA QUANTAS PALAVRAS ELES POSSUEM:

- A) FAROFA FEITA COM MUITA FARINHA FOFA, FAZ UMA FOFOCA FEIA.

- B) SE VAIVÉM FOSSE E VIESSE, VAIVÉM IA, MAS COMO VAIVÉM VAI E NÃO VEM, VAIVÉM NÃO VAI. _____
- C) O PADRE POUCA CAPA TEM, PORQUE POUCA CAPA COMPRA. . _____
- D) O BODE BRAVO BERRA E BABA NA BARBA. _____



QUESTÃO 7. (EJAMODILP12.1JAB) LEIA A CANTIGA COM ALGUÉM DE SUA CASA E DEPOIS REESCREVA UTILIZANDO LETRA CURSIVA E A SEGMENTAÇÃO CORRETA.

O CRAVO E A ROSA

O CRAVO BRIGOU COM A ROSA

DEBAIXO DE UMA SACADA

O CRAVO SAIU FERIDO

E A ROSA DESPEDAÇADA. (...)

OCRAVOEAROSA _____

OCRAVOBRIGOUCOMAROSA _____

DEBAIXODEUMASACADA _____

OCRAVOSAIUFERIDO _____

EAROSADESPEDAÇADA.(...) _____

QUESTÃO 8.(EJAMODIILP01.1JAB) COMPLETE AS FRASES COM A PALAVRA CORRETA:

A) A _____ ESTÁ NO PASTO. (VACA/FACA).

B) O GAROTO LEVOU UM _____ NA RUA. (DATA/TAPA)

C) QUE _____ É HOJE? (DATA/TAPA)


D) A _____ DO GATO ESTÁ QUEBRADA. (BATA/PATA)

E) O _____ É UM MAMÍFERO BEM CURIOSO. (TATU/TATO)



QUESTÃO 9. (EJAMODILPP12.1JAB) LEIA UM TRECHO DA CANÇÃO ABAIXO.

FAÇA UM X NOS PARÊNTESE QUE MOSTRA O NÚMERO DE PALAVRAS QUE TEM A CANÇÃO.

<p>A BARATA DIZ QUE TEM SETE SAIAS DE FILÓ É MENTIRA DA BARATA ELA TEM É UMA SÓ</p>	
--	---

- A) () 4
- B) () 5
- C) () 15
- D) () 18


QUESTÃO 10. (EJAMODIILP01.1JAB) COMPLETE AS PALAVRAS UTILIZANDO “G” OU “J”.

<input type="radio"/> INÁSIO	TI <input type="radio"/> ELA	<input type="radio"/> ENTE	<input type="radio"/> IBÓIA
<input type="radio"/> IPE	A <input type="radio"/> ENDA	<input type="radio"/> ESTO	CERE <input type="radio"/> A
PA <input type="radio"/> EM	MÁ <input type="radio"/> ICO	IN <input type="radio"/> EÇÃO	<input type="radio"/> EADA
LO <input type="radio"/> ISTA	VA <input type="radio"/> EM	SAR <input type="radio"/> ETA	GOR <input type="radio"/> ETA
<input type="radio"/> ESSO	<input type="radio"/> ELÉIA	A <input type="radio"/> EITADO	TRA <input type="radio"/> ETO
PÁ <input type="radio"/> INA	BERIN <input type="radio"/> ELA	HI <input type="radio"/> IENE	SAR <input type="radio"/> ENTO
<input type="radio"/> ENERAL	<input type="radio"/> EITO	<input type="radio"/> E <input type="radio"/> UM	MON <input type="radio"/> E
TAN <input type="radio"/> ERINA	ESTRAN <input type="radio"/> EIRO	<input type="radio"/> OELHO	<input type="radio"/> EN <input type="radio"/> IBRE



MATEMÁTICA MÓDULO II

QUESTÃO 1. (EJAMODIIMA02.1JAB) SEM CONTAR. VOCÊ CONSEGUE ESTIMAR QUANTOS LÁPIS PEDRO DEIXOU SOBRE A MESA?



AGORA, CONTE OS LÁPIS QUE ESTÃO EM CIMA DA MESA E RESPONDA.

A) QUANTOS LÁPIS VOCÊ CONTOU? _____

B) VOCÊ ESTIMOU UM NÚMERO MAIOR OU MENOR DO QUE A QUANTIDADE DE LÁPIS QUE PEDRO USOU? _____

C) SUA ESTIMATIVA FICOU PERTO OU LONGE DO VALOR REAL? _____

QUESTÃO 2. (EJAMODIILP05.1 JAB) LEIA E RESOLVA OS PROBLEMAS.

A) BIANCA COMPROU 32 MAÇÃS E MARIA COMPROU O DOBRO. QUANTAS MAÇÃS MARIA COMPROU ?

Cálculo	Resposta

B) FELIPE COMPLETOU NO DIA 20/05 QUINZE ANOS, SABENDO QUE SEU PAI TEM O TRIPLO DE SUA IDADE. QUANTOS ANOS TEM O PAI DE FELIPE ?

Cálculo	Resposta



QUESTÃO 3. (EJAMODIIMA01.3JAB) ESCREVA OS NÚMEROS POR EXTENSO, SIGA O MODELO.

100 CEM

110 _____

120 _____

130 _____

140 _____

150 _____

160 _____

170 _____

180 _____


190 _____

QUESTÃO 4. (EJAMODIIMA18.5JAB) ESCREVA O DIA DA SEMANA QUE VEM ANTES DE:

	DOMINGO
	SEXTA
	SÁBADO
	SEGUNDA
	QUARTA
	TERÇA
	QUINTA



QUESTÃO 5. (EJAMODIMA01.2JAB) OBSERVE AS IMAGENS E RESPONDA:



<https://novaescola.org.br/>

- A) A FITA MÉTRICA MEDE O COMPRIMENTO? _____
- B) O RELÓGIO CALCULA O PESO? _____
- C) A BALANÇA MEDE O TEMPO? _____

QUESTÃO 6. (EJAMODIIMA06.1JAB) RESOLVA OS PROBLEMAS E MARQUE A RESPOSTA CORRETA.


A) NO SÍTIO DE SEU JOSÉ, AMANDA COLHEU 45 MAÇÃS E CAIO 27. QUANTAS MAÇÃS ELES COLHERAM JUNTOS?

- (A) 73 (B) 70 (C) 72 (D) 74



B) LÚCIA TINHA 47 REAIS PAGOU UMA DÍVIDA DE 15 REAIS À SUA PRIMA. QUANTOS REAIS ELA TEM AGORA?

- (A) 31 (B) 30 (C) 62 (D) 32





QUESTÃO 7 (EJAMODIIMA13.2JAB) ESTA IMAGEM LEMBRA QUAL FORMA GEOMÉTRICA?



- A) () CONE
- B) () CILINDRO
- C) () CUBO
- D) () ESFERA

QUESTÃO 8 (EJAMODIIMA22.9JAB) (EJAMODIIMA24.4JAB) LEIA AS SITUAÇÕES-PROBLEMA E RESPONDA.

PEDRO COMEÇA A TRABALHAR ÀS 08H. DA SUA CASA ATÉ O TRABALHO ELE GASTA 1:30H. DE QUE HORAS PEDRO PRECISA SAIR DE CASA PARA CHEGAR NO HORÁRIO CORRETO?

CÁLCULO

RESPOSTA

MARIA COMPROU UMA BLUSA QUE CUSTA R\$27,00. PAGOU COM UMA NOTA DE R\$100,00. QUANTO ELA RECEBERÁ DE TROCO?

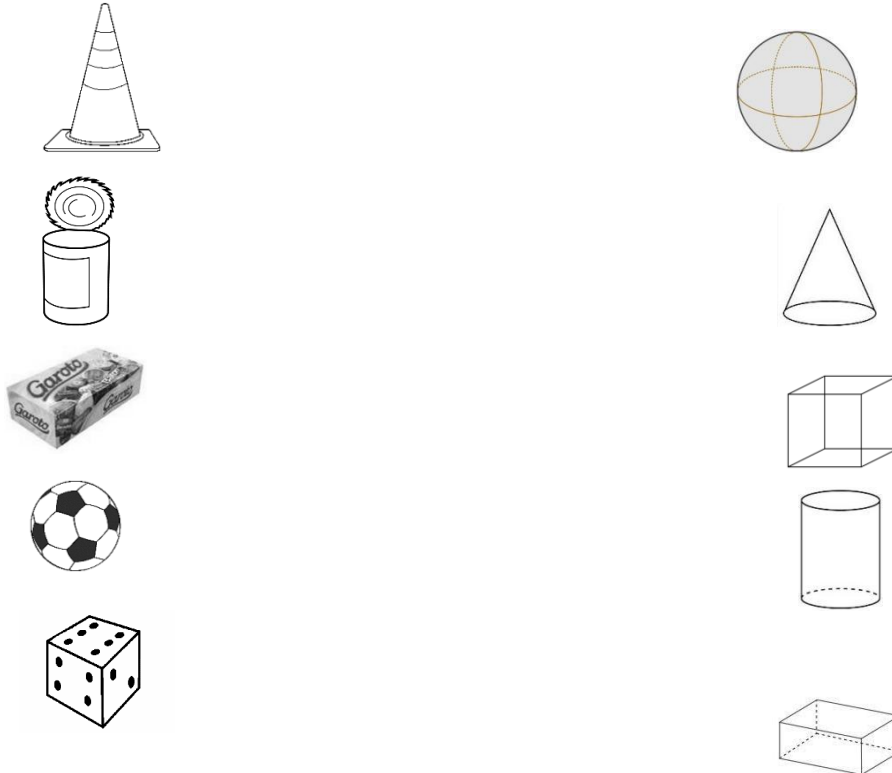
CÁLCULO

RESPOSTA



QUESTÃO 9.(EJAMODIIMA13.3JAB) RESPONDA ÀS QUESTÕES ABAIXO.

A) LIGUE OS OBJETOS À FIGURA QUE SÃO MAIS PARECIDOS.



B) MARQUE A RESPOSTA CERTA:

EM UMA CAIXA EXISTEM 12 OVOS. QUANTOS OVOS EXISTEM EM 4 CAIXAS?

A) () 16 OVOS

B) () 48 OVOS

C) () 40 OVOS



TURBINE + AINDA

QUESTÃO 10.

(EJAMODIIMA13.2JAB)

PROCURE EM SUA CASA OBJETOS QUE SE ASSEMELHAM COM UMA ESFERA E COM UM CILINDRO E ESCREVA O NOME DELES EM SEU CADERNO.