

QUESTÃO 3. LEIA O POEMA DE MANUEL BANDEIRA COM A AJUDA DE UM PARENTE.

O BICHO

VI ONTEM UM BICHO
NA IMUNDÍCIE DO PÁTIO
CATANDO COMIDA ENTRE OS DETRITOS.

QUANDO ACHAVA ALGUMA COISA,
NÃO EXAMINAVA NEM CHEIRAVA:
ENGOLIA COM VORACIDADE.

O BICHO NÃO ERA UM CÃO,
NÃO ERA UM GATO,
NÃO ERA UM RATO.

O BICHO, MEU DEUS, ERA UM HOMEM.



(MANUEL BANDEIRA)

FIGURA DISPONÍVEL EM <https://nenotavaicontra.wordpress.com/>

A. LEIA AS PALAVRAS DO TEXTO ESCRITAS ABAIXO. MARQUE COM UM (X) AS QUE RIMAM/ TERMINAM COM O MESMO SOM.

() PATIO - CÃO

() GATO – RATO

B. LEIA E ESCREVA A PALAVRA ABAIXO, UMA LETRA PARA CADA QUADRADINHOS.

HOMEM

--	--	--	--	--

QUESTÃO 4. OBSERVANDO A PALAVRA QUE VOCÊ ESCREVEU NA QUESTÃO ANTERIOR RESPONDA:

A. LETRA INICIAL _____

B. LETRA FINAL _____

C. QUANTAS LETRAS _____

D. QUANTOS PEDAÇOS _____

QUESTÃO 5. VAMOS CAÇAR AS PALAVRAS?



A	T	B	A	N	A	N	A	G	U	L	J	A	P	L
P	E	F	H	J	M	E	U	E	A	M	Q	R	F	E
E	D	F	S	C	E	N	O	U	R	A	S	I	F	D
R	S	Z	N	Q	N	V	B	U	O	L	M	S	I	P
A	B	A	C	A	X	I	M	T	V	E	R	P	B	N
Z	A	Z	L	M	S	C	B	N	F	S	X	C	N	P
S	O	S	A	L	M	O	R	A	N	G	O	P	M	S
L	R	Q	S	Z	A	V	B	N	M	L	I	N	C	A
I	T	A	M	X	D	B	E	T	O	M	A	T	E	R
M	E	L	A	N	C	I	A	P	U	R	W	Q	S	A
Ã	N	M	Ç	V	A	Y	I	M	N	C	D	A	B	T
O	Ç	L	P	I	M	E	N	T	Ã	O	X	Z	V	B
M	I	B	A	T	A	T	A	B	N	E	K	R	T	V

Figuras disponíveis em: <https://br.pinterest.com/>

QUESTÃO 6. A PARTIR DAS PALAVRAS ENCONTRADAS NO EXERCÍCIO ANTERIOR REGISTRE O NÚMERO DE LETRAS E SÍLABAS NA TABELA ABAIXO:

PALAVRA	NÚMERO DE LETRAS	NÚMERO DE SÍLABAS
BATATA		
MELANCIA		
PERA		
LIMÃO		
ABACAXI		
CENOURA		
PIMENTÃO		
TOMATE		
MORANGO		
BANANA		



CADERNO DE ATIVIDADES



Turbine seu conhecimento

QUESTÃO 7: CIRCULE A PRIMEIRA SÍLABA DE CADA PALAVRA E FORME DUAS NOVAS PALAVRAS COM A MESMA SÍLABA. SIGA O EXEMPLO:

EXEMPLO:

BATATA = BANANA E BABADO

MELANCIA= _____

PERA= _____

LIMÃO= _____

CENOURA= _____

PIMENTÃO= _____

TOMATE= _____

QUESTÃO 8: SIGA O MODELO ABAIXO:

AMENDOIM	A-MEN-DO-IM	4	SÍLABAS
----------	--------------------	---	---------

CAPIM			SÍLABAS
--------------	--	--	---------

IMAGEM			SÍLABAS
---------------	--	--	---------

HOMEM			SÍLABAS
--------------	--	--	---------

VIAGEM			SÍLABAS
---------------	--	--	---------

NENHUM			SÍLABAS
---------------	--	--	---------

JARDIM			SÍLABAS
---------------	--	--	---------

TAMBÉM			SÍLABAS
---------------	--	--	---------

QUINDIM			SÍLABAS
----------------	--	--	---------



QUESTÃO 9. NESTE QUADRO HÁ 13 PROFISSÕES, TENDE ENCONTRÁ-LAS.

E	L	E	T	R	I	C	I	S	T	A	M	W	T
A	M	M	Z	U	G	D	L	E	U	K	O	T	S
B	M	B	O	Y	A	I	Y	R	A	A	T	L	E
M	U	O	M	B	R	A	C	C	C	J	O	N	C
M	L	L	É	I	Ç	R	J	G	Z	B	R	C	R
A	F	M	D	N	O	I	K	F	Y	A	I	L	E
K	Z	E	I	M	M	S	Z	U	M	R	S	P	T
B	X	A	C	E	R	T	V	R	Y	B	T	O	Á
F	Y	O	O	S	Z	A	O	F	A	E	A	L	R
B	O	M	B	E	I	R	O	R	G	I	C	I	I
K	T	P	R	O	F	E	S	S	O	R	V	C	A
Q	V	A	T	O	R	K	E	Z	R	O	E	I	F
D	E	N	T	I	S	T	A	X	I	S	T	A	C
A	Q	M	C	A	R	T	E	I	R	O	Y	L	B

soajividades.com

QUESTÃO 10. MONTE AS PALAVRAS E ESCREVA O NOME DAS FIGURAS:



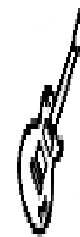
AGTO

--	--	--	--

APSAOT



--	--	--	--	--	--



OLVIÃO

--	--	--	--	--



QUESTÃO 11. LEIA A FÁBULA ABAIXO:

O RATO DA CIDADE E O RATO DO CAMPO

UM RATO DA CIDADE RESOLVEU OFERECER POUSADA A UM RATO DO CAMPO. O RATO DA ROÇA ADMIROU-SE DE TANTO LUXO, MAS A CADA BARULHINHO QUE SE OUVIA, O RATO FUGIA E SE ESCONDIA. O RATO DO CAMPO CONCLUIU QUE MELHOR DO QUE AQUELE LUXO ERA TODO O SOSSEGO QUE TINHA NA ROÇA.

Jean de La Fontaine. O rato da cidade e o rato do campo.

Disponível em: <https://avosenetos.com/historias-e-fabulas/rato-campo-rato-cidade>

VEJA OS PRINCIPAIS ACONTECIMENTOS:

- MELHOR QUE O LUXO ERA O SOSSEGO DA ROÇA.
- UM RATO DA CIDADE ACOLHEU UM RATO DO CAMPO.
- O RATO DA CIDADE SE ESCONDIA DOS BARULHOS.

**EM QUE ORDEM ESSES ACONTECIMENTOS APARECEM NO TEXTO?
MARQUE COM UM X.**

A	1	2	3
B	3	1	2
C	2	1	3

QUESTÃO 12. COMPLETE COM AS VOGAIS CERTAS.



B _ _ L _ _



M _ _ L _ _



M _ _ L _ _



R _ _ T _ _



P _ _ T _ _



B _ _ L _ _



F _ _ G _ _



R _ _ D _ _



B _ _ L _ _

QUESTÃO 13. TROQUE OS SÍMBOLOS POR LETRAS, LEIA E SAIBA MAIS SOBRE A ÁGUA.

O	S	A	M	I	T	E	L	R	D	C	P	N	U
☆	○	□	△	●	⊗	⊖	⊗	⊗	+	÷	+	♥	◆

Q	G	V	Ç	A	À	B	É	È	H	F	I
*	◇	*	*	★	◆	○	○	○	★	▲	■

A) □ ★◆◆□ ⊖☆⊗⊗⊖○+☆♥+⊖ □ ⊗⊗⊖○


*◆□⊗⊗☆○ +☆ +⊗□♥⊖⊗□ ⊗⊖⊗⊗□

○◆□ △□●☆⊗ +□⊗⊗⊖ ○ ○□⊗◆□+□

⊖ ▲☆⊗△□+□ +⊖⊗☆○ △□⊗⊖○ ⊖

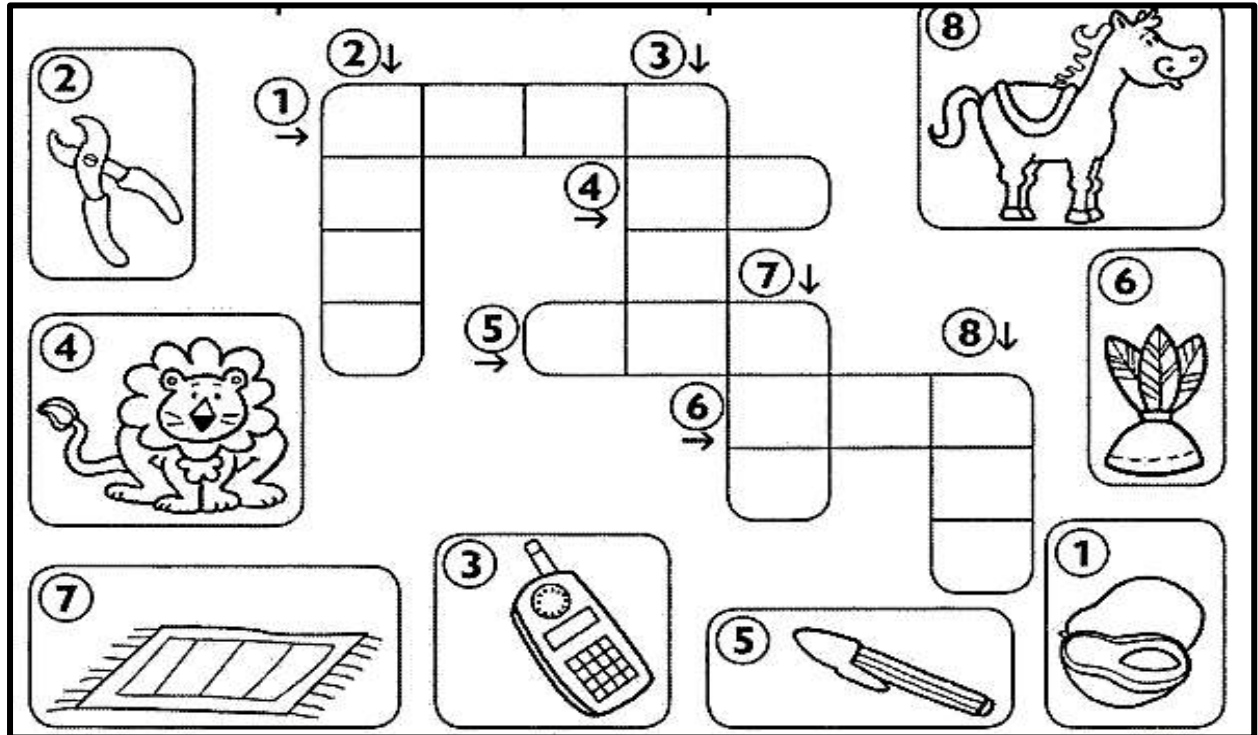
☆÷⊖□♥☆○.

QUESTÃO 14. LEIA E NUMERE AS PALAVRAS NA COLUNA DE ACORDO COM OS DESENHOS:



	AVISO
	BESOURO
	CASACO
	TESOURA
	ASA
	CASA

QUESTÃO 15. ENCAIXE O NOME DAS FIGURAS NA CRUZADINHA. DICA: COLOQUE UMA SÍLABA EM CADA QUADRO.



QUESTÃO 16. ADIVINHE SE PUDER UTILIZANDO AS PALAVRAS DO QUADRO:

HERÓI	HINO	HARPA
HABILIDADE	HÓSPEDE	HOTEL
HELICÓPTERO	HÉLICE	HOMEM

A. TEM 5 LETRAS E TERMINA COM L. _____

B. NESTA PALAVRA ESTÁ A PALAVRA IDADE. _____

C. É UM INSTRUMENTO MUSICAL E TEM CINCO LETRAS. _____

D. É UM MEIO DE TRANSPORTE AÉREO. _____

E. É O NOME QUE SE DÁ A ALGUÉM CORAJOSO QUE SALVA E AJUDA AS PESSOAS. _____



QUESTÃO 17. PROCURE NO QUADRO ABAIXO AS PALAVRAS EM DESTAQUE.
PINTE-AS COM CORES DIFERENTES:


S	R	V	C	H	Á	Y	B	I	C	H	O	N
J	C	A	C	H	O	E	I	R	A	T	V	A
C	H	Ã	O	K	C	H	U	T	E	I	R	A
R	X	M	A	J	C	H	O	C	A	L	H	O
C	H	E	F	E	V	B	C	H	A	P	A	E
P	V	C	A	C	H	I	M	B	O	Y	K	Z

CHOCALHO – CHEFE – CHAPA – CACHIMBO – CHÁ
BICHO – CACHOEIRA – CHÃO – CHUTEIRA

QUESTÃO 18. AGORA COMPLETE AS FRASES COM ALGUMAS DAS PALAVRAS ACIMA.

- A. TOMEI UM BANHO DE _____.
- B. O _____ DO MEU PAI É SEU AMIGO.
- C. TOMEI _____ COM BOLACHA NO LANCHE.
- D. MINHA _____ DE FUTEBOL É NOVA.
- E. ANTIGAMENTE MEU PAI FUMAVA _____.
- F. HOJE VI MINHA SOBRINHA BRINCANDO COM O SEU _____.

QUESTÃO 19. COLOQUE OS QUADROS NA SEQUÊNCIA DE ACORDO COM ESSE CONTO NUMERANDO-OS. DEPOIS RESPONDA AS PERGUNTAS ABAIXO:



A) PELOS PERSONAGENS IDENTIFICADOS, QUAL O TÍTULO DA HISTÓRIA?


B) COM CERTEZA VOCÊ OUVIU E CONTOU VÁRIAS VEZES ESTA HISTÓRIA. MAS PAROU PARA PENSAR SOBRE CADA PERSONAGEM? DÊ DUAS CARACTERÍSTICAS PARA:

A VOVOZINHA: _____

O LOBO: _____

CHAPÉUZINHO VERMELHO: _____

QUESTÃO 20. TESTE SUA PERCEPÇÃO VISUAL ENCONTRANDO OS SETE ERROS.



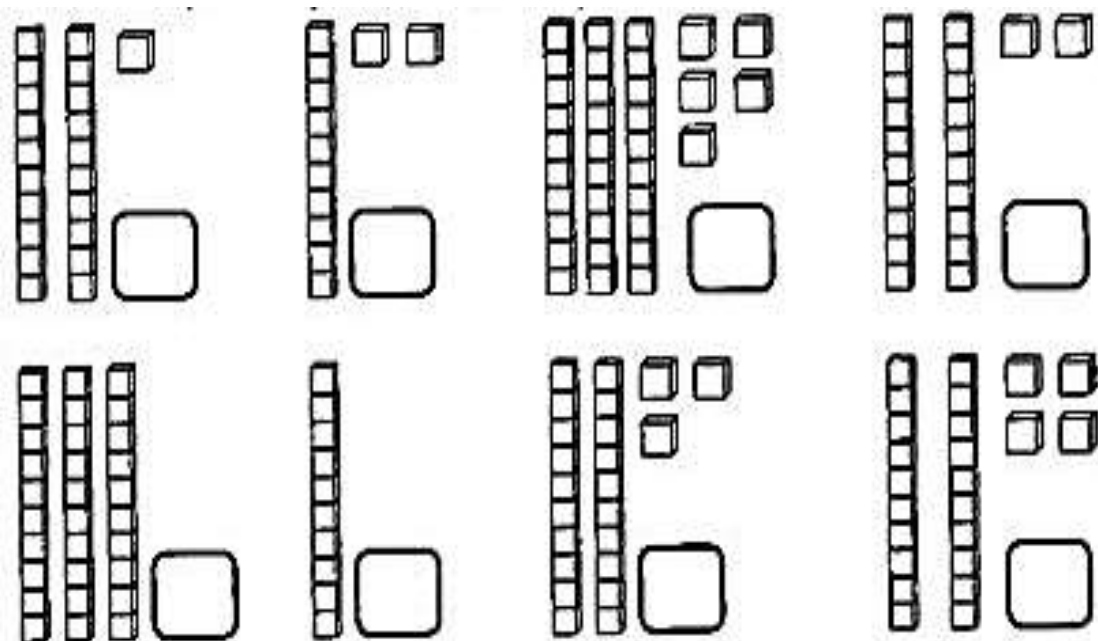
MATEMÁTICA MÓDULO III

QUESTÃO 1. OBSERVE E COMPLETE A TABALA DA ADIÇÕES ABAIXO:

$23 = \underline{20} + \underline{3}$	$55 = \underline{\quad} + \underline{\quad}$
$17 = \underline{\quad} + \underline{\quad}$	$89 = \underline{\quad} + \underline{\quad}$
$96 = \underline{\quad} + \underline{\quad}$	$42 = \underline{\quad} + \underline{\quad}$
$74 = \underline{\quad} + \underline{\quad}$	$68 = \underline{\quad} + \underline{\quad}$
$31 = \underline{\quad} + \underline{\quad}$	$26 = \underline{\quad} + \underline{\quad}$

Imagens disponíveis em: <https://br.pinterest.com/pin>

QUESTÃO 2. ATRAVÉS DA REPRESENTAÇÃO DESCUBRA AS QUANTIDADES:



Imagens disponíveis em: <https://br.pinterest.com/pin>

QUESTÃO 3. CALCULE O TROCO DOS PRODUTOS.




 Valor: R\$ 7,00
 Pagou 
 Troco: _____




 Valor: R\$ 3,00
 Pagou 
 Troco: _____



 Valor: R\$ 23,00
 Pagou 
 Troco: _____



 Valor: R\$ 14,00
 Pagou 
 Troco: _____

Imagens disponíveis em: <https://br.pinterest.com/pin>

QUESTÃO 4. COMPLETE NA CRUZADINHA OS NÚMEROS QUE ESTÃO FALTANDO:

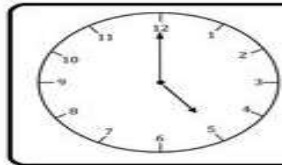
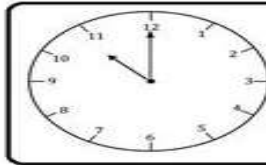
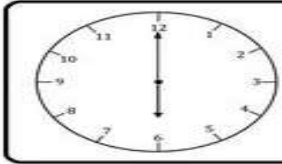
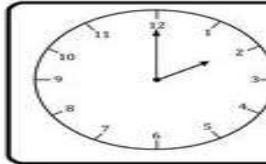
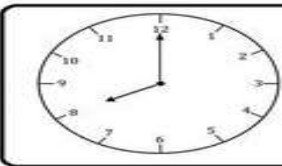
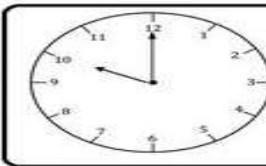
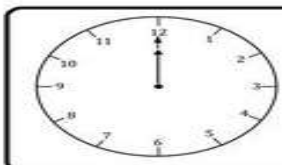
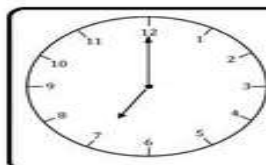
3	X		=	24	22				
	+				+				
	7				23	+		=	38
	=				=				
		X	3	=					
					:				
						X	7	=	
					=				-
12	-		=	5					27
:									=
					9	X		=	36
					:				
						=			
2		15	X		=	45			
					3	X		=	81
									:
					16	-		=	9
									=



Imagens disponíveis em: <https://br.pinterest.com/pin>



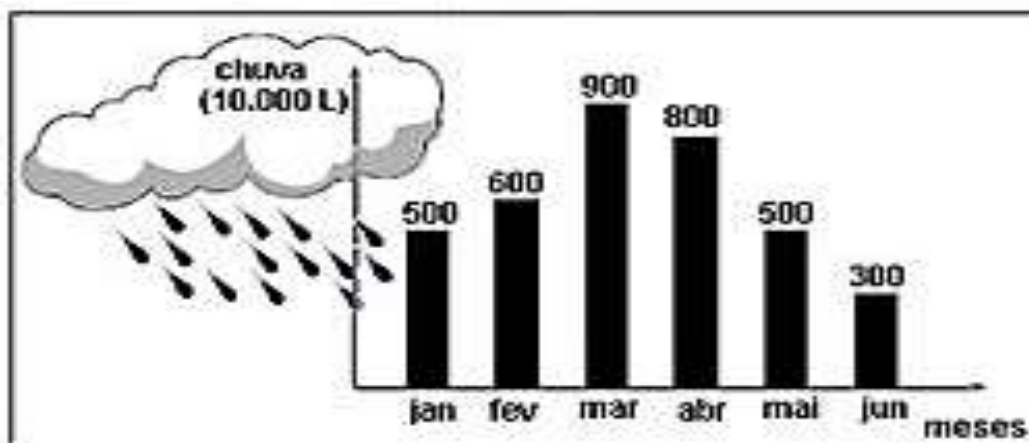
QUESTÃO 5. LIGUE A HORA CERTA PARA CADA RELÓGIO:

	<input type="checkbox"/> 5:00 <input type="checkbox"/> 12:00 <input type="checkbox"/> 3:00		<input type="checkbox"/> 11:00 <input type="checkbox"/> 12:00 <input type="checkbox"/> 3:00
	<input type="checkbox"/> 5:00 <input type="checkbox"/> 6:00 <input type="checkbox"/> 3:00		<input type="checkbox"/> 4:00 <input type="checkbox"/> 12:00 <input type="checkbox"/> 2:00
	<input type="checkbox"/> 8:00 <input type="checkbox"/> 12:00 <input type="checkbox"/> 3:00		<input type="checkbox"/> 5:00 <input type="checkbox"/> 12:00 <input type="checkbox"/> 10:00
	<input type="checkbox"/> 5:00 <input type="checkbox"/> 12:00 <input type="checkbox"/> 4:00		<input type="checkbox"/> 5:00 <input type="checkbox"/> 7:00 <input type="checkbox"/> 3:00

Imagens disponíveis em: <https://br.pinterest.com/pin>

QUESTÃO 6. O GRÁFICO ABAIXO MOSTRA A QUANTIDADE DE CHUVA EM UMA CIDADE NOS MESES DE JANEIRO A JUNHO.

Imagens disponíveis em: <https://br.pinterest.com/pin>



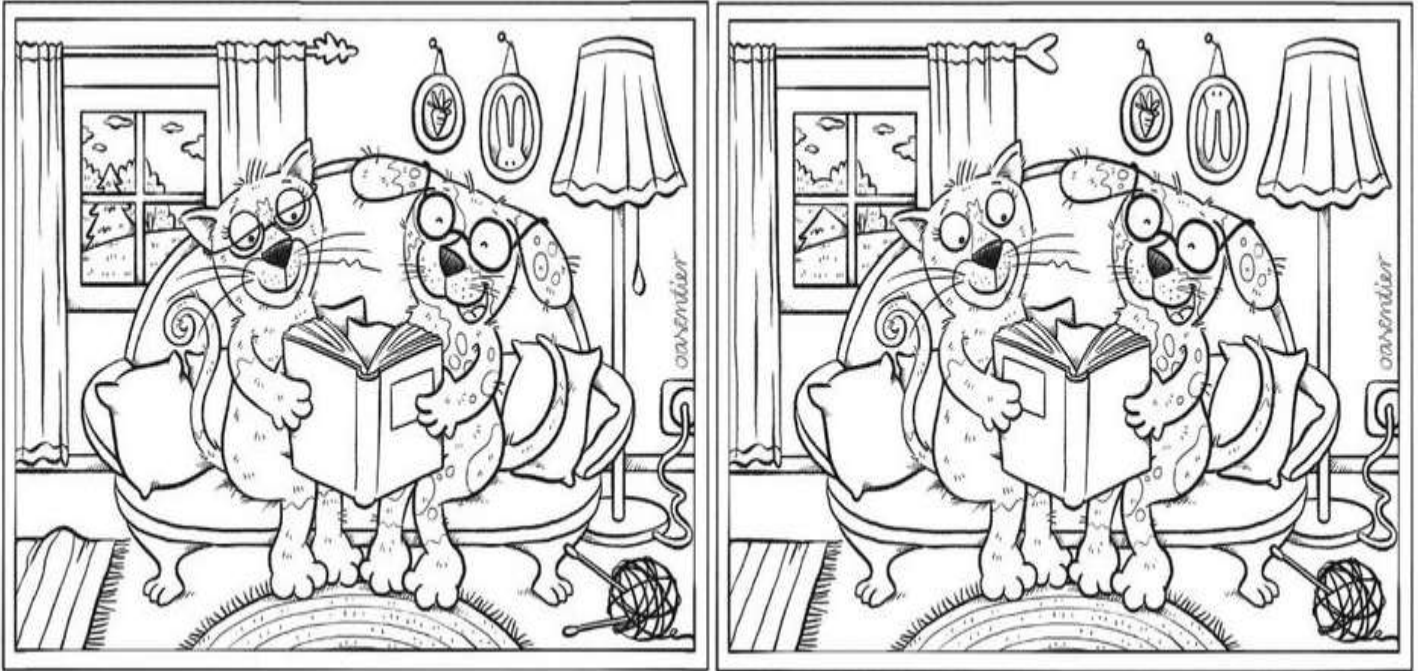
OBSERVANDO O GRÁFICO PODEMOS AFIRMAR QUE, MARQUE X NA QUESTÃO CORRETA:

- A) JANEIRO FOI O MÊS COM MENOR QUANTIDADE DE CHUVA.
- B) EM FEVEREIRO CHOVEU MAIS QUE EM ABRIL.
- C) A DIFERENÇA ENTRE A QUANTIDADE DE CHUVA DE JUNHO FOI DE 500 LITROS.
- D) O MÊS DE MARÇO FOI O MÊS QUE MAIS CHOVEU.




QUESTÃO 7. TESTANDO SUA ATENÇÃO, ENCONTRE OS SETE ERROS ENTRE AS FIGURAS ABAIXO:

Imagens disponíveis em: <https://br.pinterest.com/pin>



QUESTÃO 8. UM POUCO MAIS DE PERCEPÇÃO VISUAL, PRESTE BASTANTE ATENÇÃO E ENCONTRE O JACARÉ NA FIGURA ABAIXO:



Imagens disponíveis em: <https://br.pinterest.com/pin>

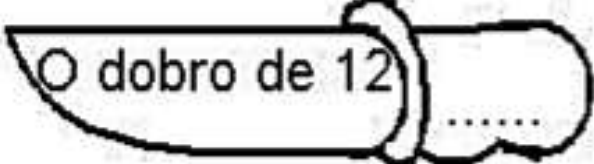
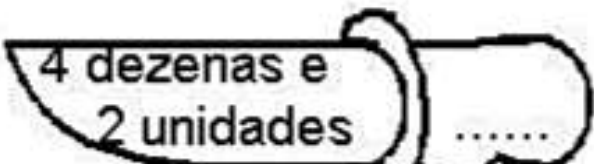
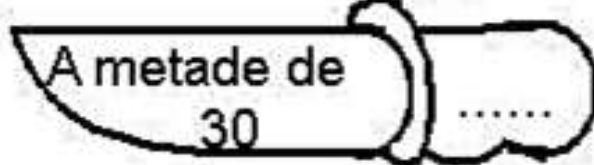
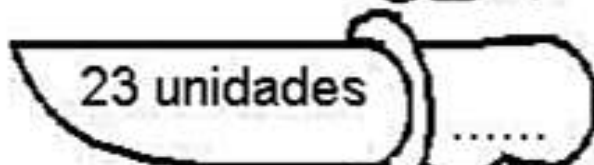
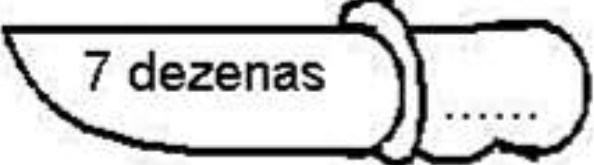



QUESTÃO 9. ESCREVA OS NÚMEROS POR EXENSO E COLOQUE-OS NA ORDEM CORRETA, SIGA O MODELO:

		C	D	U	
128	→	CENTO E VINTE E OITO	1	2	8
87	→	_____			
137	→	_____			
37	→	_____			
8	→	_____			
235	→	_____			
179	→	_____			
153	→	_____			
104	→	_____			
26	→	_____			
92	→	_____			
204	→	_____			
159	→	_____			
163	→	_____			
258	→	_____			
2	→	_____			
93	→	_____			

Imagens disponíveis em: <https://br.pinterest.com/pin>

QUESTÃO 10. ESCREVA NO CABO DA FACA O QUE FOI PEDIDO.

 <p>O dobro de 12</p>	 <p>4 dezenas e 2 unidades</p>
 <p>A metade de 30</p>	 <p>23 unidades</p>
 <p>7 dezenas</p>	 <p>1 dúzia</p>

Imagens disponíveis em: <https://br.pinterest.com/pin>



QUESTÃO 11. VAMOS AOS CÁLCULOS MENTAIS ?

A) ALUÍSIO TEM 26 ANOS, SEU IRMÃO ANDRÉ TEM O DOBRO DE SUA IDADE MENOS 5. QUAL A IDADE DE ANDRÉ? _____

B) NUM ESTACIONAMENTO HÁ 10 MOTOS E 5 BICICLETAS. JOÃO CONTOU A ENTRADA DESSES TRANSPORTES E LANÇOU UM DESAFIO PARA O COLEGA: QUANTOS PNEUS HAVIA NESSE ESTACIONAMENTO? E VOCÊ JÁ CONSEGUIU RESOLVER A QUESTÃO? VAMOS LÁ!!! _____

C) LUÍZA PEDIU 1 DÚZIA DE COXINHAS E 2 DÚZIAS DE PASTÉIS. QUANTOS SALGADOS ELA COMPROU? _____

QUESTÃO 12. COMPLETE AS SENTENÇAS MATEMÁTICAS:

A) ____ X 2 = 30	B) 2 X ____ = 22
C) 3 X 44 = ____	D) 17 + ____ = 27
E) 45 + ____ = 50	F) 33 + 33 = ____
G) 59 - 35 = ____	H) 17 - ____ = 8





QUESTÃO 13. OS NÚMEROS FAZEM PARTE DO NOSSO DIA A DIA. QUER VER? ENTÃO RESPONDA AS QUESTÕES ABAIXO.

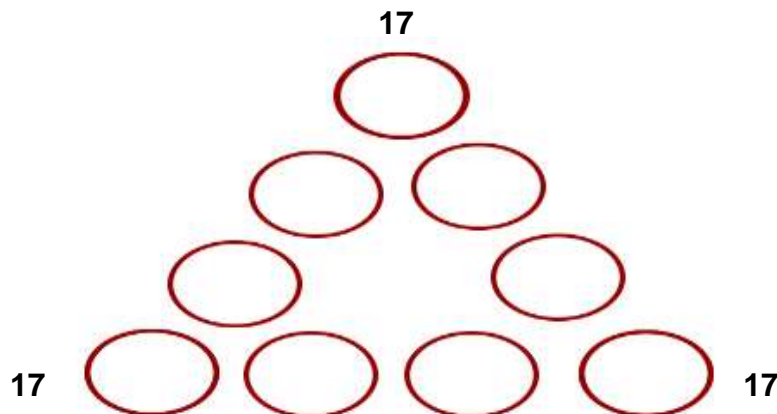
- A) QUE HORAS VOCÊ ACORDA? _____ E À NOITE VAI DORMIR DE QUE HORAS? _____
- B) EM QUE DIA, MÊS E ANO VOCÊ NASCEU? _____
- C) NA DATA DE HOJE, QUANTOS ANOS VOCÊ TEM? _____
- D) QUAL É O SEU PESO? _____
- E) CHEGANDO O FINAL DA TARDE, DÁ UMA VONTADE DE COMER UM PÃOZINHO COM CAFÉ, NÃO É? QUANTO VOCÊ COMPRA DE PÃO POR DIA? _____



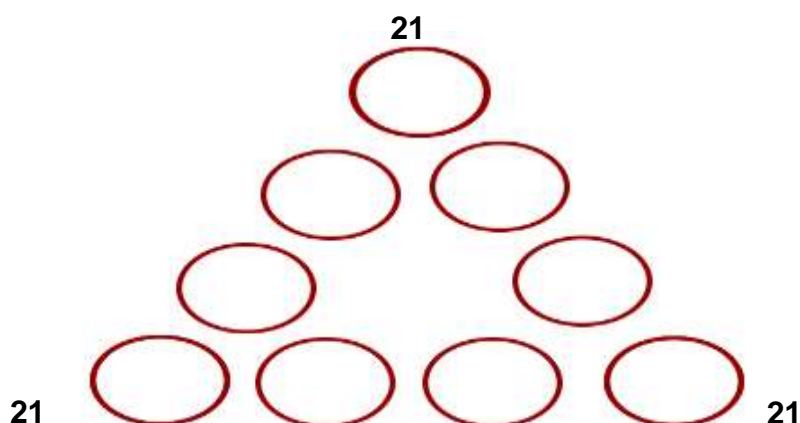
POXA! RESPIRAMOS MATEMÁTICA E NEM PERCEBEMOS!

QUESTÃO 14. COMPLETE OS TRIÂNGULOS COM OS NÚMEROS DE 1 A 9 SEM REPETÍ-LOS DE FORMA QUE:

- A. SOMA DOS NÚMEROS DE CADA LADO RESULTE EM 17.



- B. A SOMA DOS NÚMEROS DE CADA LADO RESULTE EM 21.



QUESTÃO 15. VAMOS RESOLVER AS SITUAÇÕES PROBLEMAS:

A. MARINA QUER COMPRAR UMA BONECA QUE CUSTA R\$ 120,00 (CENTO E VINTE REAIS). ELA JUNTOU DINHEIRO QUE RECEBEU DE MESADA E DA AVÓ EM NOTAS DE R\$ 10,00 (DEZ REAIS), OU SEJA, EM DEZENAS DE REAIS. ASSINALE A ALTERNATIVA QUE MOSTRA QUANTAS NOTAS DE R\$ 10,00 (DEZ REAIS) ELA PRECISA TER PARA COMPRAR A BONECA.

- (A) 10 (DEZ)
- (B) 11 (ONZE)
- (C) 12 (DOZE)
- (D) 13 (TREZE)

B. O PROFESSOR GABRIEL PRECISA COMPRAR NOVE CAIXAS DE LÁPIS DE COR E CINCO ESTOJOS COM CANETAS PARA AS AULAS DE ARTE. SABENDO QUE CADA CAIXA DE LÁPIS DE COR CUSTA R\$ 15,00 (QUINZE REAIS) E CADA ESTOJO COM CANETAS CUSTA R\$ 20,00 (VINTE REAIS), ASSINALE A OPÇÃO QUE INDICA DE QUANTOS REAIS GABRIEL VAI PRECISAR PARA REALIZAR TODA A COMPRA.

- (A) R\$ 250,00
- (B) R\$ 235,00
- (C) R\$ 215,00
- (D) R\$ 230,00


QUESTÃO 16. QUE PEDRA FRANCISCO DEVERÁ COLOCAR AO LADO ESQUERDO DA BALANÇA REPRESENTADA NA FIGURA DE MODO A IGUALAR O PESO DOS DOIS LADO? MARQUE COM UM X.



- A) 5Kg
- B) 13Kg
- C) 9Kg
- D) 16Kg
- E) 6Kg



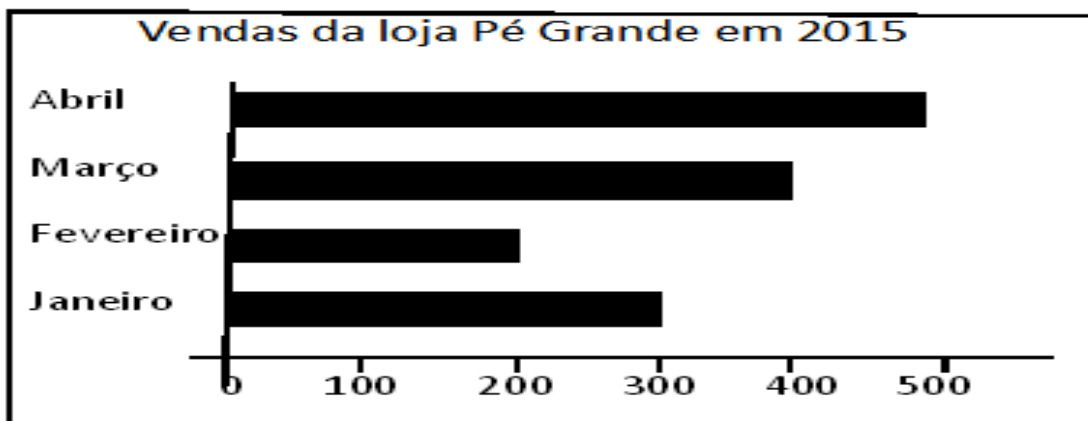
QUESTÃO 17. PAPAI CEBOLA, CEBOLINHA E O AVÔ JOGARAM UMA PARTIDA DE FUTEBOL, VEJA NO GRÁFICO, QUANTOS GOLS ELES MARCARAM:



AGORA RESPONDA AS QUESTÕES ABAIXO:

- A) QUEM MARCOU MAIS GOLS? _____
- B) QUEM MARCOU MENOS GOLS? _____
- C) QUAL FOI O TOTAL DE GOLS DESSA PARTIDA?

QUESTÃO 18. A LOJA DE CALÇADOS PÉ GRANDE VENDE SAPATOS MASCULINOS FEMININOS E INFANTIS. O GERENTE LEVANTOU ALGUNS DADOS NOS QUATRO PRIMEIROS MESES NO ANO DE 2015 E FEZ UM GRÁFICO:



- A. EM QUE MÊS A VENDA FOI MAIOR? _____
- B. PODEMOS AFIRMAR QUE AS VENDAS CRESCERAM? JUSTIFIQUE:

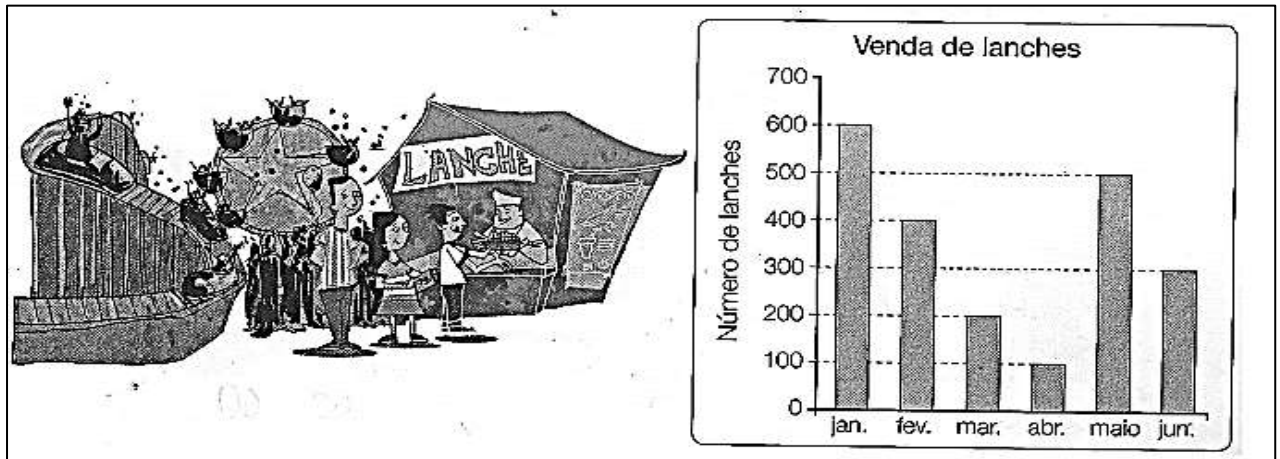
- C. QUANTOS PARES DE SAPATOS FORAM VENDIDOS NA LOJA PÉ GRANDE NESSES QUATRO MESES? _____
- D. PELO GRÁFICO É POSSIVEL SABER QUAL TIPO DE SAPATO FOI MAIS VENDIDO? QUAL? _____

QUESTÃO 19. PINTE NO CAÇA PALAVRAS O NOME DOS NUMERAIS ABAIXO:

30	31	32	33	34	35	36	37	38	39									
T	I	Z	E	N	H	G	P	I	Q	A	S	F	B	W	M	T	R	I
R	I	T	R	I	N	T	A	*	E	*	D	O	I	S	G	R	U	B
I	G	K	*	H	R	Ç	F	M	K	P	U	P	T	Z	H	I	F	T
N	H	L	T	J	*	S	W	F	D	F	*	D	B	G	E	N	D	R
T	R	I	N	T	A	*	E	*	N	O	V	E	U	D	L	T	V	I
A	I	Ç	K	O	Y	H	T	S	E	G	A	W	*	S	Ç	A	C	N
*	T	R	I	N	T	A	*	E	*	T	R	È	S	A	M	*	L	T
E	R	*	L	P	W	K	J	H	W	T	G	H	E	P	T	E	K	A
*	I	G	P	Ç	D	R	L	Ç	T	R	L	C	J	O	R	*	U	*
Q	M	T	Q	T	R	I	N	T	A	*	E	*	S	E	I	S	A	E
U	T	*	V	A	F	Y	M	A	L	S	A	X	U	Y	N	E	W	*
A	T	R	I	N	T	A	*	E	*	U	M	F	D	I	T	T	B	O
T	B	S	D	U	S	E	O	Z	Ç	B	Ç	N	K	R	A	E	V	I
R	N	F	X	B	I	J	R	G	A	N	S	A	Z	T	N	*	Ç	T
O	X	E	R	M	T	R	I	N	T	A	*	E	*	C	I	N	C	O
K	S	R	T	J	A	Q	U	B	D	R	X	Y	V	E	U	H	A	W

disponível em: <https://1.bp.blogspot.com/>

QUESTÃO 20. OBSERVE O GRÁFICO E RESPONDA:



- QUANTOS LANCHES FORAM VENDIDOS NOS SEGUINTE MESES?

JANEIRO _____

FEVEREIRO _____

ABRIL _____

JUNHO _____

- EM QUE MÊS FOI VENDIDO MAIS LANCHES? _____

disponível em: <https://bellcardozo.blogspot.com.br/>