

ESCOLA: _____

NOME: _____



SECRETARIA MUNICIPAL DE EDUCAÇÃO



**CADERNO DE ATIVIDADES
TURBINE SEU CONHECIMENTO**

4ª UNIDADE

- EJA -MÓDULO I



LÍNGUA PORTUGUESA MÓDULO I

QUESTÃO 1. (EJAMODILP19.2JAB) (EJAMODI-IILP07.1JAB) COM AJUDA DE UM LEITOR FLUENTE, LEIAM JUNTOS O TEXTO ABAIXO. APÓS CIRCULE AS PALAVRAS QUE RIMAM.

A FOCA (TRECHO)

(VINÍCIUS DE MORAES)

QUER VER A FOCA
FICAR FELIZ?
É PÔR UMA BOLA
NO SEU NARIZ.



QUER VER A FOCA
BATER PALMINHA?
É DAR A ELA
UMA SARDINHA.

QUER VER A FOCA
FAZER UMA BRIGA?
É ESPETAR ELA
BEM NA BARRIGA!

RIMA repetição de sons iguais ou similares, em uma ou mais sílabas.

EXEMPLO: UVA
rima com LUVA

CANETA rima com BORBOLETA

QUESTÃO 2. (EJAMODILP08.1JAB) JUNTE OS NÚMEROS INDICADOS PARA FORMAR AS PALAVRAS.

1	2	3	4	5	6	7	8	9	10
MA	MI	TO	TE	ME	LÃO	MÃO	MO	DO	NÓ

(A) 3 + 1 + 4 _____

(B) 5 + 6 _____

(C) 1 + 7 _____

(D) 4 + 3 _____

(E) 5 + 9 _____

(F) 9 + 2 + 10 _____

(G) 1 + 3 _____





QUESTÃO 3. (EJAMODILP20.1JAB) LEIA O TEXTO E RESPONDA AS QUESTÕES 3 E 4



QUESTÃO 3. (EJAMODILP20.1JAB)

O TEXTO QUE VOCÊ ACABOU DE LER É...

- () UMA CARTA
- () UM PANFLETO
- () UM CARTAZ EDUCATIVO
- () UM CONVITE

QUESTÃO 4. (EJAMODI-IILP10.2JAB)

O CARTAZ EDUCATIVO ESTÁ PASSANDO A MENSAGEM DE QUE DEVEMOS...

- () SEMPRE DENUNCIAR OS DELINQUENTES À POLÍCIA MILITAR.
- () SALVAR O MOSQUITO DA DENGUE, POIS ELE FAZ PARTE DA NATUREZA.
- () PROCURAR O MOSQUITO DA DENGUE PARA TIRAR FOTOGRAFIAS.
- () COMBATER O AEDES AEGYPTI PORQUE ELE É PERIGOSO E TRANSMITE DOENÇAS COMO DENGUE, CHIKUNGUNYA, ZICA E FEBRE AMARELA.





LEIA O CARTAZ E RESPONDA AS QUESTÕES 5 E 6



QUESTÃO 5. (EJAMODILP16.3JAB)

O OBJETIVO DO TEXTO É:

- () DIVERTIR
- () COMUNICAR UM EVENTO
- () CONSCIENTIZAR
- () ENSINAR

QUESTÃO 6. (EJAMODI-IILP04.3JAB)

O TEMA PRINCIPAL DO CARTAZ É:

- () SAÚDE
- () LAZER
- () ESPORTE
- () EDUCAÇÃO



OS CARTAZES EDUCATIVOS SÃO AQUELES QUE TÊM COMO PRINCIPAL INTUITO PASSAR INFORMAÇÕES MAIS SIMPLES A UM PÚBLICO-ALVO, NORMALMENTE MAIS JOVEM.

<https://www.sydra.pt/o-que-e-um-cartaz-e-para-que-serve>



QUESTÃO 7. (EJAMODILP02.1JAB) VAMOS ORGANIZAR UMA LISTA DE COMPRAS NO SUPERMERCADO? QUAIS PRODUTOS VOCÊ COMPRARIA?

1. _____
2. _____
3. _____
4. _____
5. _____
6. _____
7. _____
8. _____



QUESTÃO 8. (EJAMODILP02.1JAB) (EJAMODILP06.1JAB) VAMOS LER O TEXTO DAS AUTORAS MÉRCIA MARIA LEITÃO E NEIDE DUARTE.

AMARELINHA

CHÃO CAMINHO DE SONHOS,
ANDAR, CORRER, PULAR.
FAZENDO RISCOS, DESENHOS
MUITAS MARCAS PRA DEIXAR.

VOU PULANDO SÓ NUM PÉ,
NOS DOIS POSSO DESCANSAR.

LINHAS CONTAM HISTÓRIAS,
TERRITÓRIOS PRA PISAR.
EU JOGO UMA PEDRINHA,
CASAS QUERO ALCANÇAR.

MUITO CUIDADO COM A LINHA,
NELA NÃO POSSO PISAR.
BRINCANDO DE AMARELINHA,
CHÃO E CÉU VÃO SE ENCONTRAR.

VOU PULANDO SÓ NUM PÉ,
NOS DOIS POSSO DESCANSAR.

RESPONDA AS QUESTÕES ABAIXO:

A) OBSERVE AS PALAVRAS ABAIXO E ESCREVA O NÚMERO DE LETRAS E SÍLABAS.

AMARELINHA _____ JOGO _____

PÉ _____ PULAR _____

B) VOCÊ LEMBRA DE ALGUMA BRINCADEIRA DE SUA INFÂNCIA? QUE TAL ESCREVER OS NOMES DE 05 DELAS?



QUESTÃO 9. (EJAMODILP04.1JAB) VAMOS COMPLETAR AS LACUNAS QUE VEM ANTES, DEPOIS OU ENTRE AS LETRAS DO ALFABETO.

M__O	__P__	__S__	D__F
__X__	__H__	__W__	Q__S
B__D	V__X	R__T	__Z__
__G__	__K__	__B__	L__N

QUESTÃO 10. (EJAMODILP05.5JAB) ESCREVA OS NOMES DAS FIGURAS ABAIXO, TODOS TÊM OS VÁRIOS SONS DO X.











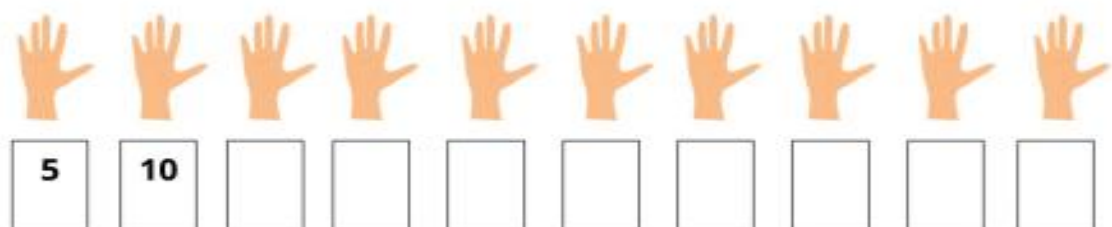
MATEMÁTICA MÓDULO I

QUESTÃO 1. (EJAMODIMA13.1JAB) ESTE FOI O CONVITE DA FESTA JUNINA QUE A ESCOLA, LUGAR DE APRENDER, FEZ PARA ESTE ANO. NO CONVITE, A FORMA DO VESTIDO DA MENINA LEMBRA?



- (A) UM CÍRCULO
- (B) UM RETÂNGULO
- (C) UM QUADRADO
- (D) UM TRIÂNGULO


QUESTÃO 2. (EJAMODIMA07.2JAB) OBSERVE AS MÃOS, CONTE OS DEDOS DE 5 EM 5 E VÁ COMPLETANDO A SEQUÊNCIA NUMÉRICA :





QUESTÃO 3. (EJAMODIMA09.1JAB) OBSERVE OS NUMERAIS.

8 – 10 – 9 – 7 – 6 – 4 – 5



A) ESCREVA OS NUMERAIS EM ORDEM CRESCENTE _____

A) ESCREVA OS NUMERAIS EM ORDEM DECRESCENTE _____

C) ESCREVA O MAIOR NÚMERO APRESENTADO _____

QUESTÃO 4. (EJAMODIMA22.5JAB) O QUADRO ABAIXO MOSTRA OS PONTOS CONQUISTADOS POR QUATRO PILOTOS NO CAMPEONATO DE FÓRMULA JOVEM. QUEM GANHOU ESSE CAMPEONATO?

PILOTOS	PONTOS
Pesado	111
Chuma	92
Raico	109
Rubão	99

(A) PESADO

(B) CHUMA

(C) RAICO




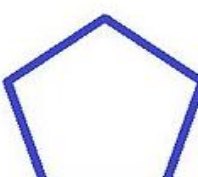
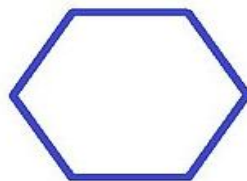


(D) RUBÃO



QUESTÃO 5. (EJAMODIMA17.2JAB) LIGUE O NOME DO MÊS AO SEU NÚMERO DE ORDEM EM QUE APARECE NO CALENDÁRIO:

JANEIRO	7
OUTUBRO	11
NOVEMBRO	01
JULHO	10
JUNHO	8
SETEMBRO	5
MAIO	6
AGOSTO	9

QUESTÃO 6. (EJAMODIMA14.1JAB) OBSERVE AS FIGURAS GEOMÉTRICAS E ESCREVA QUANTOS LADOS TEM CADA FIGURA.

			
Quadrado	Triângulo	Losango	Pentágono
_____	_____	_____	_____
			
Hexágono	Trapézio	Paralelogramo	
_____	_____	_____	



QUESTÃO 7. (EJAMODIMA07.4JAB) COLOQUE OS NUMERAIS NO QUADRO VALOR DE LUGAR NAS ORDENS CORRESPONDENTES.

1ª CLASSE- UNIDADES SIMPLES		
3ª ORDEM	2ª ORDEM	1ª ORDEM
C	D	U

56

1ª CLASSE- UNIDADES SIMPLES		
3ª ORDEM	2ª ORDEM	1ª ORDEM
C	D	U

2

1ª CLASSE- UNIDADES SIMPLES		
3ª ORDEM	2ª ORDEM	1ª ORDEM
C	D	U

47

1ª CLASSE- UNIDADES SIMPLES		
3ª ORDEM	2ª ORDEM	1ª ORDEM
C	D	U

6

1ª CLASSE- UNIDADES SIMPLES		
3ª ORDEM	2ª ORDEM	1ª ORDEM
C	D	U

93

1ª CLASSE- UNIDADES SIMPLES		
3ª ORDEM	2ª ORDEM	1ª ORDEM
C	D	U

92

QUESTÃO 8 (EJAMODIMA02.2JAB) QUAL OS NUMERAIS QUE ESTÃO REPRESENTADOS PELO MATERIAL DOURADO?

A) 

B) 

B) 



QUESTÃO 9. (EJAMODIMA06.1JAB) LEIA AS SITUAÇÕES PROBLEMAS E RESOLVA.

A) NA BANCA DE JORNAL DE REGINALDO, NA SEMANA PASSADA FORAM VENDIDOS 287 JORNAIS E NESTA SEMANA 145 JORNAIS. QUANTOS JORNAIS FORAM VENDIDOS NAS DUAS SEMANAS?

CÁLCULO

CENTENAS	DEZENAS	UNIDADES

FORAM VENDIDOS _____ JORNAIS EM DUAS SEMANAS.

B) LANE VENDE BEBIDAS EM UM QUIOSQUE NA PRAIA. ELA TEM EM SEU ESTOQUE 438 GARRAFAS DE BEBIDAS DIVERSAS. AO FINAL DO DIA ELA VENDEU 389 GARRAFAS. QUAL FOI A SOBRA DO DIA?

CÁLCULO

CENTENAS	DEZENAS	UNIDADES

A SOBRA DO DIA FOI _____ GARRAFAS.



TURBINE + AINDA

QUESTÃO 10

(EJAMODIMA06.1JAB)

REGISTRE O VALOR DA SUA CONTA DE ÁGUA E DA LUZ. CALCULE O TOTAL DE SUAS DESPESAS.