

NOME: _____

ESCOLA: _____



SECRETARIA MUNICIPAL DE EDUCAÇÃO



**CADERNO DE ATIVIDADES
TURBINE SEU CONHECIMENTO
2ª UNIDADE
- ANOS FINAIS -
7º ANO**

LÍNGUA PORTUGUESA 7º ANO

QUESTÃO 1. (EF67LP28.1JAB)

Leia o texto e responda as questões 1 e 2.



Fonte: Menino Maluquinho. São Paulo: Globo, 2004, p. 2

O humor do texto acontece por quê?

- (A) Maluquinho descobriu um novo remédio.
- (B) a doença do mau hálito é muito incômoda.
- (C) o remédio é a rolha do vidro e não o seu conteúdo.
- (D) o remédio pode ser vendido para milhões de pessoas.

QUESTÃO 2. (EF67LP28.1JAB)

A expressão do rosto do amigo de Maluquinho no último quadrinho revela:

- (A) surpresa.
- (B) desânimo.
- (C) raiva.
- (D) decepção.

QUESTÃO 3. (EF69LP20.1JAB)

Atenção à charge e responda.



Assinale a opção que melhor descreve a situação retratada na charge.

- (A) Uma família que não tem acesso à tecnologia e está conversando entre si no sofá.
- (B) Uma família que se reúne para assistir televisão juntos.
- (C) Uma família reunida com todos os membros conectados com alguma forma de tecnologia moderna.
- (D) Alguns membros da família estão com aparelhos tecnológicos e alguns conversam

QUESTÃO 4. (EF69LP20.1JAB)

Qual crítica ao atual momento que vivemos em sociedade pode ser retirada da charge?

QUESTÃO 5. (EF67LP28.1JAB)

Leia a Tirinha da Mafalda e responda o que se pede:



De acordo com a Tirinha, é correto afirmar:

- (A) A linguagem verbal isoladamente não consegue transmitir a mensagem pretendida.
- (B) Transmite que faz parte da infância pegar as coisas da mãe para brincar.
- (C) A frase do primeiro quadrinho não pertence à sequência.
- (D) A principal mensagem da tirinha é a inocência de Mafalda, que responde à mãe que

QUESTÃO 6. (EF69LP31.1JAB)

Observe os destaques do Jornal do Commercio abaixo e responda:



Jornal do Commercio – Recife, 23 de março de 2021.

Na chamada “Santa pega Fortaleza pelo Nordeste”, a palavra em destaque pode ser substituída sem perda de sentido por

- (A) agarra
- (B) toca
- (C) prende
- (D) compete

QUESTÃO 7. (EF67LP07.1JAB)

Leia a publicidade abaixo e responda:



Assessoria: Copasa/CPM no Telegram: t.me/Braziljornais ou @Braziljornais

SEMANA DA ÁGUA:
CELEBRAMOS O PERÍODO COM
REDUÇÃO DE USO

A água está entre os recursos naturais que são essenciais para a humanidade. A partir disso, as unidades de negócio do Grupo JCPM definiram uma série de iniciativas voltadas para preservação e melhor utilização desse bem cada vez mais escasso.

CONHEÇA AGORA O IMPACTO DESSAS BOAS PRÁTICAS NOS SHOPPINGS:

- 🚰 Economizamos 306,3 milhões de litros por ano ao adotarmos o sistema a vácuo nos banheiros e torneiras com temporizador;
- 💧 Outros 155 milhões de litros são poupados ao aproveitarmos a água do sistema de condensação do ar-condicionado;
- ☁️ Pouparamos 78 milhões ao usar água da chuva em algumas atividades;
- ♻️ A reciclagem de resíduo ajuda em outros 147,3 milhões de litros.
- 👉 Por ano, somamos 688,8 milhões em economia. É assim que celebramos. Valorizando cada litro.

UMA GOTA DE ATITUDE. UM MAR DE ESPERANÇA.

GRUPO **JCPM**
João Carlos Para Mendonça

DIA DA SUSTENTÁVEL

O slogan “uma gota de atitude, um mar de esperança” pode ser substituído pela seguinte ideia:

- (A) Grandes atitudes geram pequenas esperanças.
- (B) Pequenas atitudes geram grandes esperanças.
- (C) Atitudes e esperanças geram um mar.
- (D) Gotas de esperanças geram mares de atitudes.

QUESTÃO 8. (EF07LP10.1JAB)

Leia:



Os verbos “**faturei**” e “**vendo**” na tirinha acima estão, respectivamente, no

- (A) Presente do indicativo e presente do indicativo
- (B) Pretérito perfeito do indicativo e pretérito perfeito do indicativo
- (C) Pretérito perfeito do indicativo e presente do indicativo
- (D) Pretérito imperfeito do indicativo e pretérito perfeito do indicativo



TURBINE + AINDA

QUESTÃO 9 (EF69LP05.1JAB)

Analise o texto abaixo:



Quais características do gênero tirinha encontramos nesse texto de Maurício de Sousa?

Qual a mensagem passada?

Qual é o único quadrinho que possui apenas linguagem não verbal?

QUESTÃO 10 (EF69LP05.1JAB)

Analise o texto abaixo:



Identifique as onomatopéias presente no texto.

No texto há quatro tipos de balões diferentes, indique o cada um deles expressa.

MATEMÁTICA 7º ANO

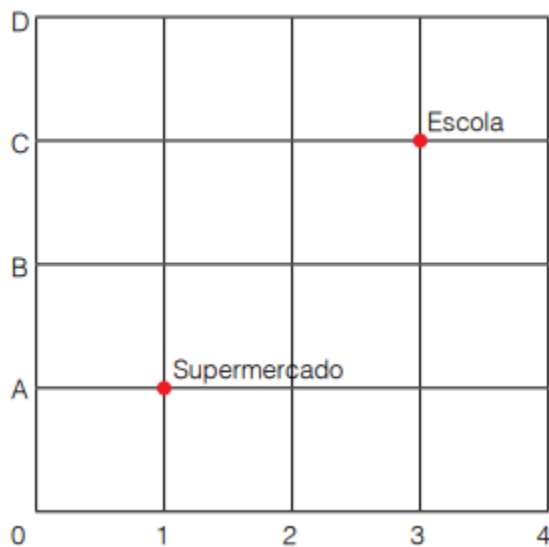
QUESTÃO 1. (EF07MA29.1JAB)

Numa festa foram preparados 4 kg de feijão, 8 kg de arroz e 6 kg de carne. Quantos gramas de comida foram preparados no total?

- A) 18g B) 180g C) 1800g D) 18000g

QUESTÃO 2. (EF07MA29.4JAB)

Observe o esquema a seguir, com a localização de uma escola e um Supermercado no Município de Jaboatão.

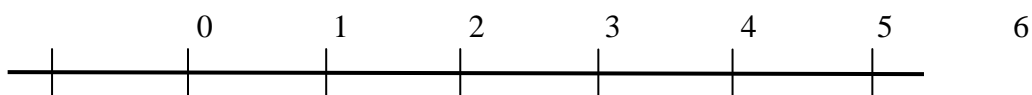


Se, nesse esquema, o supermercado pode ser indicado pelo ponto (1, A), então a escola pode ser indicada pelo ponto:

- A) (1; C) B) (C; 10) C) (3; C) D) (C; 3)

QUESTÃO 3. (EF07MA10.2JAB)

Na reta numérica localizamos o número 1,35 entre dois inteiros que são:



- (A) 5 e 6
(B) 2 e 3
(C) 1 e 2
(D) 4 e 5

QUESTÃO 4. (EF07MA03.3JAB)

Se a temperatura de -8°C diminuir 12°C , a temperatura ficará em

- (A) 20°C
- (B) -20°C
- (C) -4°C
- (D) 15°C

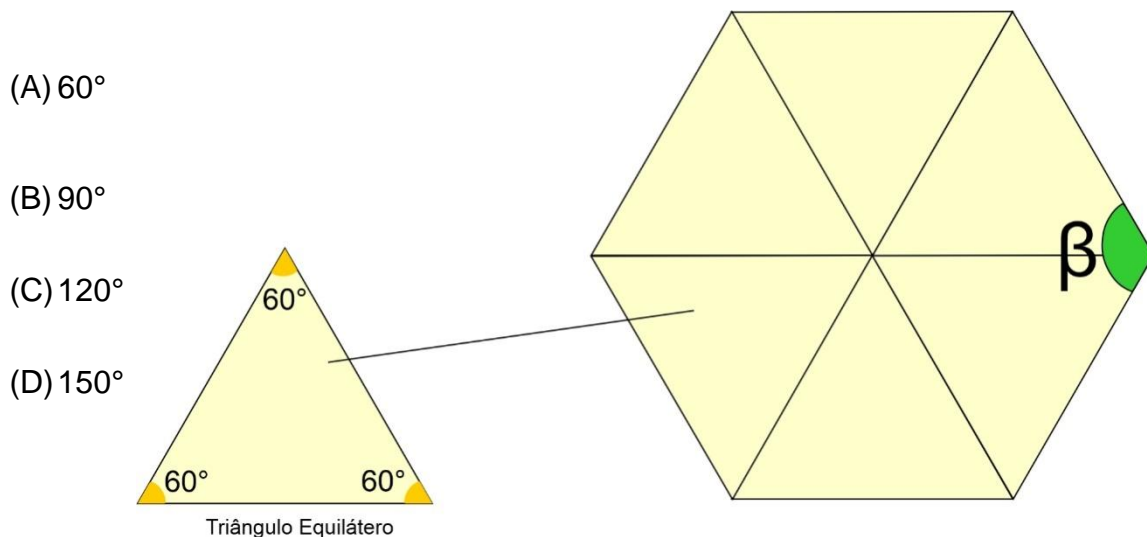
QUESTÃO 5. (EF07MA18.3JAB)

Se adicionarmos um número natural a seu sucessor, obteremos 127. Qual é esse número natural?

- (A) 53
- (B) 57
- (C) 59
- (D) 63

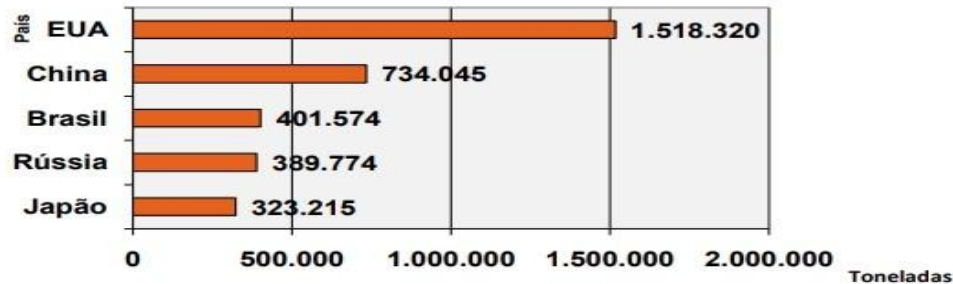
QUESTÃO 6. (EF07MA27.4JAB)

Para descobrir a medida do ângulo β do hexágono, João usou triângulos equiláteros para compor o hexágono. Qual a medida do ângulo β ?



QUESTÃO 7 (EF07MA33.1JAB)

A revista Isto É na edição do dia 23/02/2005 publicou a quantidade (em toneladas), dos países que mais emitiram CO₂ (gás carbônico) na atmosfera no ano de 2000. Veja os dados:



- (A) EUA e Japão (B) China e Rússia (C) Brasil e Japão (D) EUA e Rússia

QUESTÃO 8 (EF06MA18.5JAB)

Em uma das aulas de matemática, aprendi sobre os poliedros e os corpos redondos. Em seguida, fui ao supermercado. Lá comprei uma caixa de sabão em pó, uma lata de óleo e uma bola. No caixa percebi que os três produtos tinham, respectivamente, a forma de:

- (A) cubo, cone e circunferência
(B) paralelepípedo, cone e esfera
(C) cubo, cilindro e circunferência
(D) paralelepípedo, cilindro e esfera




TURBINE + AINDA

QUESTÃO 9 (EF07MA03.3JAB)

Uma equipe de futebol marcou 17 gols e sofreu 20 gols em certo torneio. Indique com um número inteiro o saldo de gols dessa equipe.

QUESTÃO 10 (EF07MA03.3JAB)

Escreva em ordem crescente os números que aparecem nos quadrinhos.



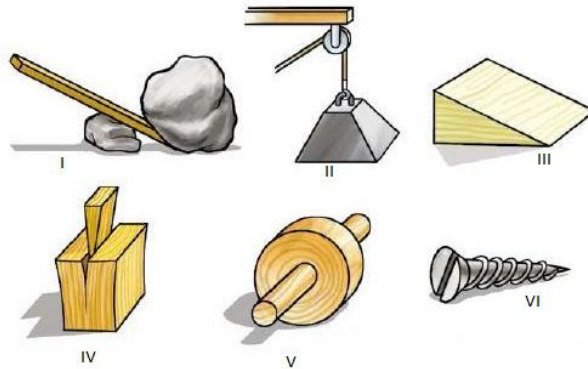
CIÊNCIAS 7º ANO

QUESTÃO 1. (EF07CI01.4JAB) As máquinas simples são utilizadas com frequência em nosso cotidiano, exercendo suas funções e facilitando o trabalho do homem. As máquinas simples podem ser classificadas como:

- (A) Roda e eixo; Alavanca; Plano inclinado; Rosca; Polia
- (B) Apenas Alavanca
- (C) Plano inclinado, Polia, Roda e eixo
- (D) Rosca e Polia

QUESTÃO 2. (EF07CI01.2JAB)

Observe a figura abaixo e identifique a sequência correta de acordo com a numeração de cada área destacada:



Disponível em: <<http://www.ejamundodotrabalho.sp.gov.br>>.

- (A) I–Roda II-Roldana III-Cunha IV- Plano Inclinado V- Alavanca VI-Parafuso
- (B) I–Alavanca II-Roldana III-Plano Inclinado IV-Cunha V-Roda VI-Parafuso.
- (C) I– Roldana II- Alavanca III-Plano Inclinado IV-Cunha V-Roda VI-Parafuso
- (D) I–Alavanca II-Roldana III- Parafuso IV-Cunha V-Roda VI- Plano Inclinado

QUESTÃO 3. (EF07CI01.4JAB)

Leia atentamente o texto a seguir

Em nosso dia-a-dia, vivemos cercados de máquinas. É muito comum nos depararmos com máquinas de todos os tipos, desde as mais simples até as mais complexas. Denominaremos de máquinas simples às que modificam e transmitem a ação de uma força para realizar algum movimento. Abridor de latas, martelo, tesoura, chave de fenda, alicate, quebra-nozes, carrinho de mão, pinça e cortador de unha são exemplos de máquinas simples.

Marque a opção que tem apenas exemplos de máquinas simples.

- (A) Abridor de garrafa, régua, estojo de lápis, martelo
- (B) Chave de fenda, alavanca de levantar carro, tesoura

(C) Tábua, zíper, furadeira

(D) Alicata, pá, poste

QUESTÃO 4. (EF07CI01.5JAB)

Uma alavanca é uma barra, uma haste de madeira ou outro material resistente que pode se mover sobre um ponto fixo, também conhecido como ponto de apoio. Assinale a ou as alternativas que tem imagens mostrando um sistema formado por alavancas:

(A)



(B)



(C)



(D)



TURBINE + AINDA

QUESTÃO 5 (EF07CI01.2JAB)

Utilizando os princípios de máquinas simples, que você estudou, como você levaria esse piano até o primeiro andar dessa casa, sabendo que ele não passa pela porta da frente?



HISTÓRIA 7º ANO

QUESTÃO 1. (EF07HI05.1JAB)

Foi a principal instituição durante a Idade Média:

- (A) Ateísmo
- (B) Heresia
- (C) Igreja
- (D) Indulgência

QUESTÃO 2. (EF07HI05.1JAB)

Opiniões contrárias aos dogmas da igreja durante a Idade Média:

- (A) Eucaristia
- (B) Heresias
- (C) Indulgências
- (D) Sacerdócio

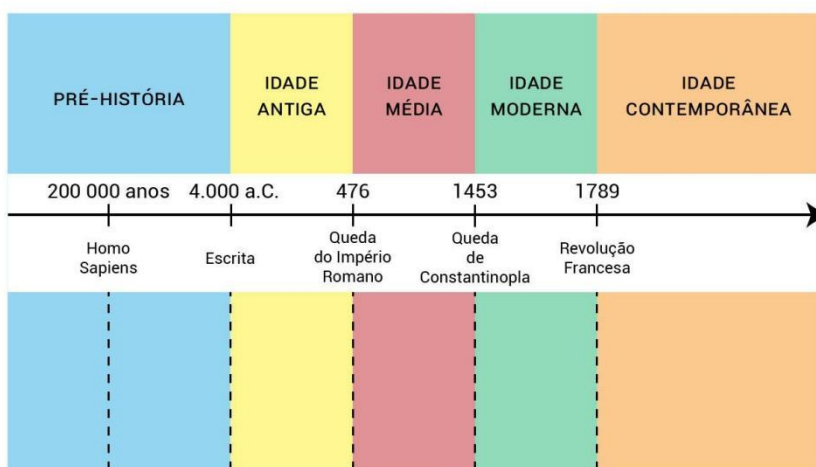
QUESTÃO 3. (EF07HI01.1JAB)

Qual foi a classe social que emergiu no final da Idade Média e que contribuiu para o surgimento do que veio a ser conhecido, posteriormente, como modernidade?

- (A) Nobreza
- (B) Clero
- (C) Plebeus
- (D) Burguesia

QUESTÃO 4. (EF06HI01.1JAB)

A periodização dos processos históricos



s, os estudiosos geralmente
tos que servem como marcos
. As periodizações não são
anos e, portanto, fazem parte



Observando a linha do tempo sobre a periodização Geral da História complete:

- (A) O Segundo período da História é a Idade _____.
- (B) A Idade _____ tem início no de 476.
- (C) A Idade _____ terminou em 1789.
- (D) A _____ termina no ano 4.000 a.C



TURBINE + AINDA

QUESTÃO 5 (EF07HI07.1JAB)

Faça uma pesquisa sobre algum dos maiores ícones do Absolutismo na Europa e descubra a sua importância para a consolidação de suas nações na corrida pela Expansão marítima e comercial

GEOGRAFIA 7º ANO

QUESTÃO 1 (EF07GE02.1JAB)

O Brasil é o maior país em extensão territorial da América do Sul, possuindo fronteiras com várias nações desse subcontinente. Marque a alternativa que corresponde aos dois países sul-americanos que não se limitam com o território brasileiro.

- (A) Peru e Equador
- (B) Suriname e Colômbia
- (C) Chile e Equador
- (D) Argentina e Uruguai

QUESTÃO 2 (EF07GE02.1JAB)

Boa parte da população brasileira se concentra nos grandes centros urbanos, como Rio de Janeiro e São Paulo. A região mais populosa do Brasil é :

- (A) Norte.
- (B) Nordeste.
- (C) Centro Oeste.
- (D) Sudeste.

QUESTÃO 3 (EF07GE03.3 JAB)

O Brasil é conhecido por ser um país miscigenado, os principais elementos formadores da nação brasileira são:

- (A) Portugueses, os africanos e os indígenas
- (B) Imigrantes italianos, africanos e os imigrantes árabes.
- (C) Indígenas,
- (D) Nenhuma das alternativas

QUESTÃO 4 (EF07GE01.1JAB)

Observe o mapa-múndi que indica as zonas térmicas do planeta que são grandes faixas que dividem a diferença de irradiação solar possuem temperaturas médias diferentes. Sendo a região próxima a linha do equador a mais quente e conforme nos afastamos em direção aos polos as temperaturas diminuem:



Em quais zonas térmicas se encontra o território brasileiro?

- (A) Zona Tropical e Temperada do Norte
- (B) Zona Tropical e Temperada do Sul
- (C) Zona Polar Antártica e Temperada do Sul
- (D) Zona Tropical e Polar Antártica

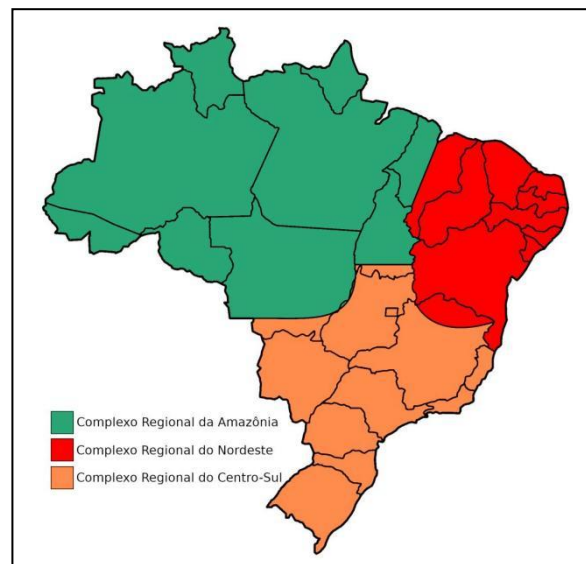


TURBINE + AINDA

QUESTÃO 5 (EF08GE05.2JAB)

Existem outras formas de regionalização do Brasil, entre elas está à proposta criada pelo geógrafo brasileiro Pedro Pinchas Geiger, as regiões geoeconômicas.


No seu caderno anote algumas diferenças entre esta regionalização e a regionalização oficial do IBGE.




LÍNGUA INGLESA 7º ANO

QUESTÃO 1. (EF07LI15.6JAB)


Escreva os nomes das frutas abaixo de acordo com as figuras:



() Mango



() Apple



() Grapes



() Watermelon

(A) 2, 4, 1, 3 (B) 4, 3, 1, 2 (C) 3, 1, 2, 4 (D) 4, 1, 2, 3

Imagens <https://br.pinterest.com/pin/546624473499017469/>

QUESTÃO 2. (EF06LI19.2JAB)

Complete as frases com *am*, *is*, *are*, em seguida assinale a alternativa que completa de forma correta as frases.

1. We _____ students.
2. Mary _____ an engineer.
3. I _____ from Brazil.
4. It _____ my ball.
5. You _____ my friends.
6. They _____ dentists.
7. He _____ my teacher.

(A) are, is, am, is, are, are, is

(B) am, are, is, is, is, are, am

(C) is, is, is, is, are, are, are

(D) are, are, am, is, are, are, are

QUESTÃO 3. (EF06LI23.2JAB)


Na figura abaixo há dois pronomes pessoais, O que eles significam?



- (A) Ela e Ele
- (B) Ela e Tu
- (C) Ela e Eu
- (D) Ele e Nós

QUESTÃO 4. (EF06LI16.1JAB)

Observem a imagem e marque a opção mais adequada para as duas frases:



- (A) Não feche o livro/Não abra o livro.
- (B) Feche a porta/Abra a Porta.
- (C) Feche o livro/Abra o livro.
- (D) Abra o livro/Feche a porta.



TURBINE + AINDA

QUESTÃO 5 (EF06LI21.2JAB)

observe a imagem e escreva em inglês:

Ele sabe cozinhar



ARTE / MÚSICA 7º ANO

QUESTÃO 1. (EF07AR05.1JAB)



Matheus Natchergaele, como João Grilo, e Selton Melo como Chicó, na adaptação da peça para o cinema.

“Chicó e João Grilo” são dois personagens de uma peça teatral do autor paraibano Ariano Suassuna. Depois de adaptado para o cinema e para a televisão, esses personagens ficaram famosos. Assinale a alternativa que melhor os contextualiza na história do teatro.

- (A) “Chicó e João Grilo” fazem uma encenação teatral mímica, ou seja, não usam palavras.
- (B) “Chicó e João Grilo” representam uma encenação dramática, como na Grécia antiga.
- (C) “Chicó e João Grilo” representam o teatro musical, todas as falas deles são cantadas.
- (D) “Chicó e João Grilo” representam uma comédia dramática, ao mesmo tempo em que tratam de assuntos políticos e culturais.

QUESTÃO 2. (EF07AR05.1JAB)

O cinema pode ser utilizado como meio educativo, além de entretenimento ou de arte. Sobre o tema em questão, assinale a alternativa que melhor contempla esse fato.

- (A) O cinema tem a função de entretenimento, ou seja, de divertir o público, o que o torna mais acessível e educativo.
- (B) O cinema é uma linguagem artística como tantas outras, porém não tem a intenção de levantar questionamentos filosóficos, sociais e políticos no público.
- (C) Através de documentários e até mesmo da ficção, o cinema pode abordar assuntos históricos e polêmicos de forma que pode contribuir muito com a educação.
- (D) O cinema é bem menos educativo que o teatro e as artes visuais.



QUESTÃO 3. (EF07AR22.1JAB)

Os sons são registrados no papel a partir de um documento chamado :

- (A) Partitura
- (B) Exame
- (C) Texto
- (D) Poesia

QUESTÃO 4. (EF07AR22.1JAB)

Em quais aparelhos é possível reproduzir um áudio musical?

- (A) Batedeira, ventilador, Microondas
- (B) Celular, telefone fixo ,Estetoscópio
- (C) Computador (notebook) ,Celular, Rádio de pilha
- (D) Ar condicionado, Tensiômetro , Telefone fixo



TURBINE + AINDA

QUESTÃO 5 (EF07AR05.2JAB)

Arte

É a maneira como nosso ser sensível ganha mundo através das diversas formas de expressões artísticas. Tradicionalmente: pintura, escultura, dança, música, teatro, e outras.

O manifesto das 7 artes escrito por Ricciotto Canudo em 1923.

1. Arquitetura.
2. Escultura.
3. Pintura.
4. Música.
5. Literatura.
6. Dança.
7. Cinema.



Qual sua forma de expressão artística predileta?

Descreva o porquê da sua escolha.

Realize uma arte na forma de expressão escolhida e apresente para seus familiares.

EDUCAÇÃO FÍSICA 7º ANO

QUESTÃO 1. (EF07EF13.1JAB)

A dança do Frevo surgiu nos antigos desfiles de carnaval quando jogadores de capoeira abriam o caminho para as bandas de músicas marciais passarem pela multidão. Quais características da Capoeira permaneceram no Frevo?

- (A) Os golpes da Capoeira são iguais aos passos do Frevo, a começar pelos nomes.
- (B) A ginga, a flexibilidade, a atitude enérgica dos movimentos.
- (C) Ambos são uma dança que é dançada com outra pessoa, nunca sozinho.
- (D) As roupas dos seus praticantes são muito parecidas, a começar pelas cores.

QUESTÃO 2. (EF07EF01.1JAB)

O _____ é aquele que usa a tecnologia de computador. Ele pode ser jogado em computadores pessoais (dentro eles tablets e telefones celulares), em máquinas de fliperama ou em consoles.

- (A) Jogos de salão
- (B) Jogos de tabuleiro
- (C) Jogo eletrônico, videogame ou videogame
- (D) Nenhuma das alternativas


QUESTÃO 3. (EF07EF02.1JAB)

Podemos classificar como jogos eletrônicos:

- (A) Dama, Xadrez E Dominó;
- (B) PlayStation, Super Mario e FIFA 21;
- (C) Super Mario, Ludo e Barra Bandeira;
- (D) Nenhuma das alternativas;

QUESTÃO 4. (EF07EF02.2.JAB)

O xadrez é um jogo de tabuleiro, onde cada jogador possui 16 peças e cada peça tem um nome e movimento próprio, qual são os nomes das peças do xadrez?



TURBINE + AINDA

QUESTÃO 5 (EF07EF02.2JAB)

Os jogos de salão são fáceis de serem reproduzidos e podem ser jogados em casa sem bagunça! Que tal, chamar alguém (pai, mãe, irmão, tia...) e desafia-los num "Jogo da Velha"?

Regras:

Desenhe as linhas;

Escolham os símbolos;

Cada um joga uma vez;

Vence quem completar primeiro uma linha, uma coluna ou diagonal com o mesmo símbolo.

