



# CADERNO DE ATIVIDADES



Turbine seu conhecimento

**NOME:** \_\_\_\_\_

**ESCOLA:** \_\_\_\_\_



**SECRETARIA MUNICIPAL DE EDUCAÇÃO**



**CADERNO DE ATIVIDADES – 2ª UNIDADE**

**Turbine seu Conhecimento**

**- MÓDULO I -**




## LÍNGUA PORTUGUESA MÓDULO I

**QUESTÃO 1.** (EJAMODILP05.3JAB) ESCREVA SEU NOME.

AGORA ESCREVA NOS QUADRINHOS:

- A) QUANTAS LETRAS TEM SEU NOME?
- B) QUAL A PRIMEIRA LETRA DO SEU NOME?
- C) QUAL É A ÚLTIMA LETRA DO SEU NOME?
- D) QUANTAS VOGAIS TÊM NO SEU NOME?
- E) QUANTAS CONSOANTES TÊM NO SEU NOME?

**QUESTÃO 2.** (EJAMODILP05.1JAB) ESCREVA O NOME DAS FIGURAS.





# CADERNO DE ATIVIDADES



Turbine seu conhecimento

**QUESTÃO 3.** (EJAMODILP07.1JAB) ESCREVA PALAVRAS UTILIZANDO AS SÍLABAS ABAIXO.

MA	SA	CA	PA	BA	NE
BO	TA	LA	CO	TE	DE
DA	LO	DO	JA	RE	ME

---

---

---

**QUESTÃO 4.** (EJAMODILP10.1JAB) VAMOS OBSERVAR O ALFABETO.

A	B	◆	D	E	F	G	H	I	J	K	■	M	N	O	#	Q	R	S	⊗	★	V	W	X	Y	Z
---	---	---	---	---	---	---	---	---	---	---	---	---	---	---	---	---	---	---	---	---	---	---	---	---	---

MARQUE UM (X) NA ALTERNATIVA QUE SUBSTITUI OS SÍMBOLOS ◆, ■, #, ⊗, ★ NESTA ORDEM.

- (A) K – L – P – T – U.
- (B) K – I – P – D – O.
- (C) C – L – P – T – U.
- (D) C – L – B – D – V.

AGORA ESCREVA AS LETRAS DO ALFABETO QUE APARECEM EM SEU NOME.

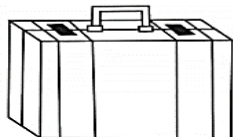
---




**QUESTÃO 5.** (EJAMODILP06.1JAB) RESPONDA O QUE SE PEDE NO QUADRO.

LEIA COM ATENÇÃO AS PALAVRAS ABAIXO:	QUANTIDADE DE VOGAIS	QUANTIDADE DE CONSOANTES	TOTAL DE LETRAS
ABACATE			
AVIADOR			
ANTA			
ANEL			
ÁRVORE			


**QUESTÃO 6.** (EJAMODILP11.1JAB) LEIA E MARQUE AS PALAVRAS QUE REPRESENTAM OS NOMES DAS FIGURAS.




MALA  
MATO  
MAPA



AMORA  
ABACAXI  
AMEIXA




CÉU  
CANETA  
CACHORRO



ÓCULOS  
ORELHA  
OVO



GELO  
GULA  
GALO



PEIXE  
PIPA  
PÃO

AGORA, ESCREVA O NOME DAS FIGURAS EM LETRA CURSIVA (LETRA DE MÃO).

*mala-*

---



**QUESTÃO 7.** (EJAMODILP03.2JAB) FAÇA A LEITURA DA CANTIGA.


O SAPO NÃO LAVA O PÉ  
NÃO LAVA PORQUE NÃO QUER  
ELE MORA LÁ NA LAGOA  
E NÃO LAVA O PÉ  
PORQUE NÃO QUER  
MAS QUE CHULÉ!

QUAL A PALAVRA QUE RIMA COM PÉ?

- A) SAPO.
- B) CHULÉ.
- C) LAGOA.
- D) LAVA

**QUESTÃO 8.** (EJAMODILP13.1JAB) OBSERVE AS FIGURAS ABAIXO.

FOTOS: PIXABAY/ <PIXABAY.COM>



MARQUE A LINHA QUE TRAZ TODAS AS SÍLABAS INICIAIS DO NOME DAS FIGURAS.

- A) LE – E – TI
- B) LU – EN – DO
- C) LA – IS – DI
- D) LE – A – TI



# CADERNO DE ATIVIDADES



Turbine seu conhecimento

**QUESTÃO 9.** (EJAMODILP10.1JAB) FAÇA A LEITURA DA LISTA DE NOMES ABAIXO:

ELENCO DA PEÇA DE TEATRO OS TRÊS MOSQUETEIROS:

HELENA

HEITOR

HUGO

HUMBERTO

AGORA MARQUE A ALTERNATIVA EM QUE OS NOMES ESTÃO EM ORDEM ALFABÉTICA:

A) HELENA, HUMBERTO, HEITOR, HUGO.

B) HEITOR, HELENA, HUGO, HUMBERTO.

C) HUMBERTO, HUGO, HELENA, HEITOR.

D) HUGO, HEITOR, HUMBERTO, HELENA.

**QUESTÃO 10.** (EJAMODI-IILP01.2JAB) NO CAÇA-PALAVRAS, LOCALIZE AS PALAVRAS ABAIXO DE ORIGEM AFRICANA.

MORINGA  
CACHIMBO

CANGA  
QUIABO

MOLEQUE  
BAGUNÇA

BANGUELA  
URUCUBACA

Q	U	I	A	B	O	B	U	T	P	A	M	T	Q	M
J	X	N	Z	X	C	Q	M	W	E	W	F	R	W	O
B	A	N	G	U	E	L	A	R	O	R	G	W	T	L
Y	B	X	F	B	R	T	R	U	E	D	Y	Q	R	E
U	C	W	C	A	C	H	I	M	B	O	V	U	H	Q
T	Z	C	R	O	P	R	T	E	A	L	B	K	G	U
R	S	Q	N	G	W	S	Ã	I	L	N	T	P	B	E
P	H	E	M	C	Z	R	P	I	B	I	R	C	V	V
B	I	I	A	B	A	G	U	N	Ç	A	W	A	X	B
A	H	R	H	P	B	A	L	G	Y	E	S	N	Z	N
X	B	U	R	U	C	U	B	A	C	A	W	G	E	Z
V	K	Y	Z	X	T	R	R	O	N	O	Q	A	Q	A
M	O	R	I	N	G	A	V	B	G	T	Y	Q	R	K



## MATEMÁTICA MÓDULO I

**QUESTÃO 1.** (EJAMODIMA01.1JAB) LIGUE O NUMERAL A SUA FORMA ESCRITA.

12 .

13 .

10 .

14 .

11 .

DEZ

ONZE

DOZE

TREZE

QUATORZE

QUINZE

DEZESSEIS

DEZESSETE

DEZOITO

DEZENOVE

. 18

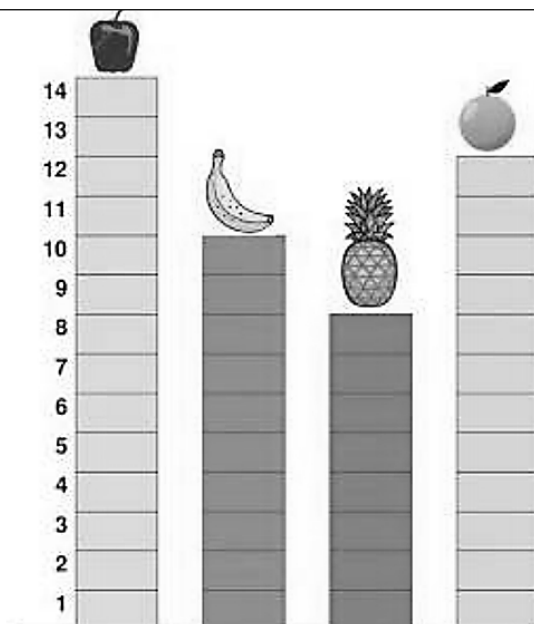
. 16

. 15

. 19

. 17

**QUESTÃO 2.** (EJAMODIMA21.1JAB) OBSERVE NO GRÁFICO E RESPONDA AS PERGUNTAS.



A) QUAL A FRUTA MAIS VOTADA?

B) QUAL A FRUTA MENOS VOTADA?

C) QUANTOS VOTOS TEVE A LARANJA?

D) QUAL A DIFERENÇA ENTRE A FRUTA MAIS VOTADA E A MENOS VOTADA?



**QUESTÃO 3.** (EJAMODIMA10.1JAB) OBSERVE A SEQUÊNCIA DOS NUMERAIS E SOME MAIS 2 E MAIS 5.

a) (+ 2)

21	23			29		33				41				49			55
----	----	--	--	----	--	----	--	--	--	----	--	--	--	----	--	--	----

b) (+5)

5	10			25					50					75			90
---	----	--	--	----	--	--	--	--	----	--	--	--	--	----	--	--	----

**QUESTÃO 4.** (EJAMODIMA07.3JAB) DECOMPONHA OS NUMERAIS, OBSERVANDO O MODELO:

NÚMERO	CENTENA	DEZENA	UNIDADE
123	1	2	3
231			
312			
321			
213			
132			

**QUESTÃO 5.** (EJAMODIMA19.3JAB) JOÃO APROVEITOU AS PROMOÇÕES OFERECIDAS POR UMA LOJA E COMPROU UM RELÓGIO, UM BONÉ E UM PAR DE SANDÁLIAS. OBSERVANDO OS PREÇOS ABAIXO, QUANTO JOÃO GASTOU EM DINHEIRO?

 R\$ 99,00	 R\$ 36,00	 R\$ 25,00
--------------------------------------------------------------------------------------------------	--------------------------------------------------------------------------------------------------	--------------------------------------------------------------------------------------------------

- (A) 
- (B) 
- (C) 
- (D) 





# CADERNO DE ATIVIDADES




Turbine seu conhecimento

**QUESTÃO 6.** (EJAMODIMA21.2JAB) OBSERVE A TABELA E RESPONDA MARCANDO COM UM (X):

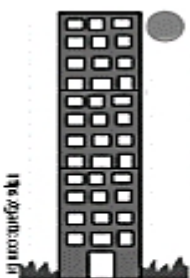
A) QUAL O ESPORTE PREFERIDO DA TURMA DO MÓDULO I?

<input type="checkbox"/>	VOLEI	VOLEI	12
<input type="checkbox"/>	FUTEBOL	FUTEBOL	28
<input type="checkbox"/>	BASQUETE	QUEIMADA	21
<input type="checkbox"/>	QUEIMADA	BASQUETE	9

B) QUAL DOS ESTUDANTES DO MÓDULO I FEZ MAIS PONTOS NO JOGO?



**QUESTÃO 7.** (EJAMODIMA08.1JAB) O EDIFÍCIO ALVORADA TEM DOZE ANDARES. CADA ANDAR POSSUI 3 METROS DE ALTURA. QUAL ALTURA TOTAL DESSE EDIFÍCIO?



Cálculos

Resposta: \_\_\_\_\_

**QUESTÃO 8.** (EJAMODIMA02.2JAB) VEJA A COLEÇÃO DE MOEDAS ANTIGAS ABAIXO:

AD MESKENS/WIKIPEDIA/WIKIMEDIA COMMONS



- A) QUANTAS MOEDAS HÁ NA COLEÇÃO? \_\_\_\_\_
- B) QUANTAS MOEDAS FALTAM PARA QUE A COLEÇÃO TENHA 31 MOEDAS? \_\_\_\_\_

**QUESTÃO 9.** (EJAMODIMA08.2JAB) DONA MARIA E SEUS FAMILIARES SE REUNIRAM PARA JOGAR VIDEOGAME. COMO SÓ HAVIA UM CONTROLE DISPONÍVEL PARA JOGAR, ELAS FIZERAM UMA DISPUTA PARA DECIDIR QUEM INICIARIA O JOGO. CADA JOGADOR LANÇOU DOIS DADOS E JUNTOU OS PONTOS OBTIDOS, QUEM GANHOU FOI AQUELE JOGADOR QUE OBTIVE A MAIOR QUANTIDADE DE PONTOS. OBSERVE AS ANOTAÇÕES FEITAS PELOS FAMILIARES: QUEM INICIOU O JOGO? MARQUE COM UM (X).

ILUSTRACÃO/ARQUIVO DA EDITORA

DAIANE		CAIO		IGOR		GABRIELA	

- A) CAIO.                      C) IGOR.
- B) GABRIELA.              D) DAIANE



# CADERNO DE ATIVIDADES



Turbine seu conhecimento



## TURBINE + AINDA

### **QUESTÃO 10.**

(EJAMODICI01.2JAB)

IDENTIFIQUE EM SUA CASA ALGUNS OBJETOS E REFLITA SOBRE COM QUAIS MATERIAIS ELES FORAM CONSTRUÍDOS.