

## LÍNGUA PORTUGUESA MÓDULO I

**QUESTÃO 1.** COMPLETE AS FRASES COM OS NOMES DOS DESENHOS.

A) ANA FEZ AS \_\_\_\_\_ ONTEM NA CASA DA SUA COMADRE.



pinterest

B) COM O PROBLEMA DE ABASTECIMENTO, LUÍZA ARMAZENA ÁGUA NOS \_\_\_\_\_.



gracinda.com.br

C) A \_\_\_\_\_ VIROU ADEREÇO OBRIGATÓRIO.



lavibora

**QUESTÃO 2.** ESCREVA OS SEUS **DOIS PRIMEIROS** NOMES E TENDE FORMAR NOVAS PALAVRAS COM AS LETRAS QUE OS COMPÕEM.

**VEJA O EXEMPLO: MARIA BEATRIZ**

MATA - TRAMA - RIA - ATRIZ

AGORA É O SEU NOME.

---

---

---





**QUESTÃO 5.** PREENCHA O QUADRO ABAIXO.

NOME	LETRA INICIAL	LETRA FINAL	NÚMERO DE LETRAS	NÚMERO DE SÍLABAS
1- ESCOLA				
2- LÁPIS				
3- TELEFONE				
4- MÃO				
5- CACHORRO				
6- SALA				

**QUESTÃO 6.** TROQUE AS LETRAS INICIAIS DAS PALAVRAS PELA LETRA R.

MATO _____	SEI _____
SEDE _____	TOSA _____
TIO _____	BAINHA _____
BICO _____	MAIO _____
VASO _____	BOLHA _____
CALO _____	PISO _____
TAÇA _____	GOMA _____
NEMO _____	CABO _____



## **QUESTÃO 7.** DESCUBRA AS ADIVINHAS.

a) TENHO CABEÇA E DENTE, MAS NÃO SOU GENTE.

SOU O \_\_\_\_\_




b) CAI EM PÉ E CORRE DEITADA.

É A \_\_\_\_\_



c) TEM ASA E NÃO VOA.

É A \_\_\_\_\_



## **QUESTÃO 8.** LIGUE ABAIXO AS PALAVRAS QUE RIMAM.

BAÚ

BONECA

SOMBRINHA

LUVAS

ANEL

COLAR

BOTAS

PETECA

CARRETEL

NOTAS

MAR

UVAS

URUBU

JOANINHA



**QUESTÃO 9.** ESCREVA OS NOMES DAS FIGURAS E DEPOIS LIGUE AS QUE POSSUEM O MESMO SOM FINAL.

	_____	_____	
	_____	_____	
	_____	_____	
	_____	_____	
	_____	_____	
	_____	_____	

**QUESTÃO 10.** JUNTE AS SÍLABAS E FORME PALAVRAS.

A + DRI + A + NO = \_\_\_\_\_ PA + LA + VRA = \_\_\_\_\_

ES + PI + NA + FRE = \_\_\_\_\_ TRA + BA + LHO = \_\_\_\_\_

CRO + CO + DI + LO = \_\_\_\_\_ I + GRE + JA = \_\_\_\_\_



## MATEMÁTICA MÓDULO I

**QUESTÃO 1.** VAMOS RESOLVER AS ADIÇÕES?

$$\begin{array}{r} 86 \\ + 12 \\ \hline \end{array} \quad \begin{array}{r} 16 \\ + 52 \\ \hline \end{array} \quad \begin{array}{r} 45 \\ + 34 \\ \hline \end{array} \quad \begin{array}{r} 50 \\ + 19 \\ \hline \end{array} \quad \begin{array}{r} 61 \\ + 17 \\ \hline \end{array}$$

$$\begin{array}{r} 42 \\ + 36 \\ \hline \end{array} \quad \begin{array}{r} 54 \\ + 22 \\ \hline \end{array} \quad \begin{array}{r} 35 \\ + 41 \\ \hline \end{array} \quad \begin{array}{r} 27 \\ + 31 \\ \hline \end{array} \quad \begin{array}{r} 30 \\ + 49 \\ \hline \end{array}$$

$$\begin{array}{r} 15 \\ + 72 \\ \hline \end{array} \quad \begin{array}{r} 23 \\ + 54 \\ \hline \end{array} \quad \begin{array}{r} 41 \\ + 18 \\ \hline \end{array} \quad \begin{array}{r} 20 \\ + 59 \\ \hline \end{array} \quad \begin{array}{r} 62 \\ + 16 \\ \hline \end{array}$$

**QUESTÃO 2.** ESCREVA O QUE VEM ANTES (ANTECESSOR) E DEPOIS (SUCESSOR).

\_\_\_\_\_ 20 \_\_\_\_\_

\_\_\_\_\_ 14 \_\_\_\_\_

\_\_\_\_\_ 19 \_\_\_\_\_

\_\_\_\_\_ 1 \_\_\_\_\_

\_\_\_\_\_ 35 \_\_\_\_\_

\_\_\_\_\_ 49 \_\_\_\_\_

\_\_\_\_\_ 33 \_\_\_\_\_

\_\_\_\_\_ 13 \_\_\_\_\_

\_\_\_\_\_ 94 \_\_\_\_\_

\_\_\_\_\_ 65 \_\_\_\_\_

\_\_\_\_\_ 22 \_\_\_\_\_

\_\_\_\_\_ 87 \_\_\_\_\_



**QUESTÃO 3.** COMPLETE A SEQUÊNCIA NUMÉRICA.

A) 20 - 22 - 24 - \_\_\_\_\_ - \_\_\_\_\_ - 30

B) 50 - 52 - \_\_\_\_\_ - \_\_\_\_\_ - \_\_\_\_\_ - 60


*ATENÇÃO!* OS NÚMEROS QUE VOCÊ COMPLETOU **SÃO PARES**. OS NÚMEROS PARES TERMINAM EM: 0, 2, 4, 6, 8.

C) 31 - 33 - \_\_\_\_\_ - \_\_\_\_\_ - \_\_\_\_\_.

D) 111 - 113- \_\_\_\_\_ - \_\_\_\_\_ - \_\_\_\_\_.

*ATENÇÃO!!* OS NÚMEROS QUE VOCÊ COMPLETOU **SÃO ÍMPARES**. OS NÚMEROS ÍMPARES TERMINAM EM: 1, 3, 5, 9.

**QUESTÃO 4.** DE ACORDO COM O RELÓGIO DIGITAL MARQUE AS HORAS NO RELÓGIO ANALÓGICO (DE PONTEIRO).





**QUESTÃO 5.** LEIA COM ATENÇÃO AS CHARADAS, DEPOIS RESPONDA:

A) NELSON TINHA 40 OVOS, ANA TEM 5 OVOS, CARLOS TEM 50 OVOS. QUEM TEM MAIS OVOS?

• RESPOSTA \_\_\_\_\_.

B) VOCÊ TEM 5 VACAS, 2 CÃES E 1 GATO. QUANTAS PERNAS VOCÊ TEM?

• RESPOSTA \_\_\_\_\_.

**QUESTÃO 6.** RESOLVA AS SUBTRAÇÕES.

$$\begin{array}{r} 48 \\ - 01 \\ \hline \end{array} \quad \begin{array}{r} 21 \\ - 20 \\ \hline \end{array} \quad \begin{array}{r} 11 \\ - 11 \\ \hline \end{array} \quad \begin{array}{r} 26 \\ - 15 \\ \hline \end{array} \quad \begin{array}{r} 87 \\ - 37 \\ \hline \end{array}$$

$$\begin{array}{r} 42 \\ - 22 \\ \hline \end{array} \quad \begin{array}{r} 84 \\ - 72 \\ \hline \end{array} \quad \begin{array}{r} 96 \\ - 14 \\ \hline \end{array} \quad \begin{array}{r} 29 \\ - 15 \\ \hline \end{array} \quad \begin{array}{r} 68 \\ - 66 \\ \hline \end{array}$$

$$\begin{array}{r} 92 \\ - 92 \\ \hline \end{array} \quad \begin{array}{r} 21 \\ - 20 \\ \hline \end{array} \quad \begin{array}{r} 52 \\ - 31 \\ \hline \end{array} \quad \begin{array}{r} 67 \\ - 25 \\ \hline \end{array} \quad \begin{array}{r} 32 \\ - 01 \\ \hline \end{array}$$





**QUESTÃO 7.** AJUDE O BEZERRO, A ENCONTRAR A SUA MÃE PASSANDO PELO CAMINHO DA SEQUÊNCIA NUMÉRICA DE 10 EM 10.




Figura disponível em: <https://escolaeducacao.com.br>

**QUESTÃO 8.** OBSERVE A LISTAGEM DE NOMES E RESPONDA ESCRIVENDO O QUE SE PEDE.

ALICE	QUEM É O PRIMEIRO DA LISTA? _____
DANILO	QUEM É O DÉCIMO DA LISTA? _____
EVA	QUEM ESTÁ ENTRE O DÉCIMO PRIMEIRO E O DÉCIMO TERCEIRO? _____
GABRIEL	QUANTOS NOMES HÁ COM A LETRA M? _____
GERTRUDES	QUAL O NOME QUE TEM A MENOR QUANTIDADE DE LETRAS? _____
JAMILE	QUAL O NOME QUE TEM A MAIOR QUANTIDADE DE LETRAS? _____
JOYCE	QUAIS OS NOMES QUE TEM A MESMA QUANTIDADE DE LETRAS? _____
LÚCIO	
MALVINO	
MARCELO	
MARCOS	
MURILO	
PEDRO	
ROBERTO	
SÔNIA	
SUELLEN	
ULISSES	
VALDO	
WALTER	

<https://www.cp2.g12.br/blog>



**QUESTÃO 9.** PESQUISE O PREÇO DESSAS MERCADORIAS E ESCREVA AO LADO.

*Coca-Cola* \_\_\_\_\_



*Danoninho* \_\_\_\_\_



*Neosaldina* \_\_\_\_\_

*NESCAU* \_\_\_\_\_



**QUESTÃO 10.** ENCONTRE NO CAÇA-PALAVRAS O NOME DAS SEGUINTE FIGURAS GEOMÉTRICAS.

CÍRCULO	QUADRADO
RETÂNGULO	TRIÂNGULO

A	P	J	Z	T	F	R	E	T	Â	N	G	U	L	O
L	R	R	A	G	E	I	L	O	S	U	B	K	R	D
O	F	A	W	D	C	I	J	M	A	E	E	S	O	S
A	H	Ç	C	Í	R	C	U	L	O	V	B	O	T	F
T	R	A	J	I	K	M	N	X	S	A	V	D	T	O
Q	A	X	R	Ç	P	O	U	L	L	Q	W	E	O	H
T	R	I	Â	N	G	U	L	O	F	G	T	R	X	C
R	E	B	H	Y	K	I	T	I	N	I	B	R	Z	Ç
C	I	B	U	R	L	O	Q	U	A	D	R	A	D	O
O	F	Z	Y	U	O	A	C	D	R	A	K	I	L	A