

NOME: _____

ESCOLA: _____



SECRETARIA MUNICIPAL DE EDUCAÇÃO



CADERNO DE ATIVIDADES

3ª UNIDADE

Turbine seu conhecimento

Anos Iniciais – 2º Ano



LÍNGUA PORTUGUESA 2º ANO


QUESTÃO 1 (EF02LP02.3JAB)

TROQUE AS SÍLABAS GRIFADAS PELAS SUGERIDAS ENTRE PARÊNTESES E FORME NOVAS PALAVRAS.

<u>COLA</u> (MO) _____	<u>RATO</u> (PA) _____
<u>SONECA</u> (BO) _____	<u>MEDO</u> (CE) _____
<u>VELA</u> (TE) _____	<u>VELHA</u> (TE) _____
<u>VACA</u> (MA) _____	<u>MATO</u> (FA) _____

QUESTÃO 2 (EF02LP01.1JAB)

ESCREVA OS NOMES DAS FIGURAS ABAIXO DENTRO DOS QUADROS.





QUESTÃO 3 (F02ELP01.2JAB)

REESCREVA AS FRASES ABAIXO USANDO LETRA MAIÚSCULA NO ÍNICIO DAS FRASES E DOS NOMES PRÓPRIOS.

casa de maria é longe.

eu vi um carro azul.

totó é um cachorro esperto.

QUESTÃO 4 (EF02LP01.03JAB)

MARQUE A ALTERNATIVA NA QUAL A FRASE FOI ESCRITA COM OS ESPAÇOS CORRETOS ENTRE AS PALAVRAS.

- (A) JOÃOARRUMA A CAMA.
- (B) JOÃO ARRUMA A CAMA.
- (C) JOÃOARRUMAACAMA.
- (D) JOÃO ARRUMA ACAMA.





QUESTÃO 5 (EF02LP01.3JAB)

NAS FRASES ABAIXO FALTAM ALGUNS ESPAÇOS ENTRE AS PALAVRA, LEIA E FAÇA A SEPARAÇÃO NECESSÁRIA.

PEDRO EMARIACORREM NAFLORESTA.

EUGOSTO DEBOLHAS DESABÃO.

HOJE ÉFESTA DESÃOJOÃO.

QUESTÃO 6 (EF02LP02.01JAB)

LEIA O POEMA ABAIXO, CIRCULE AS PALAVRAS QUE POSSUEM QUATRO SÍLABAS E ASSINALE A OPÇÃO COM AS PALAVRAS QUE VOCÊ CIRCULOU.



- (A) AMOR E DELICADEZA
- (B) GENTILEZA E TOLERÂNCIA
- (C) RESPEITO E GENTILEZA
- (D) DELICADEZA E TOLERÂNCIA

QUESTÃO 7 (EF12LP08.01JAB)

O CARTAZ ABAIXO TEM A FINALIDADE DE ALERTAR A POPULAÇÃO SOBRE OS CUIDADOS PARA EVITAR QUAL DOENÇA?

ASSINALE A ALTERNATIVA CORRETA:



- (A) GRIPE
- (B) SARAMPO
- (C) DENGUE
- (D) CORONAVÍRUS

https://arapua.mg.gov.br/foto_w800_noticias_203_1585156238.jpg

QUESTÃO 8 (EF15LP14.01JAB)

LEIA COM A AJUDA DE UM ADULTO. EM SEGUIDA MARQUE A ALTERNATIVA CORRETA.



<https://i.pinimg.com/originals/10/56/70/10567031cc072ddb0e868ad331f855af.jpg>

POR QUE O PAI DE CHICO BENTO DEU ESSA RESPOSTA NO SEGUNDO QUADRINHO?

- (A) PORQUE O BOLETIM DE CHICO NÃO TINHA BOAS NOTAS.
- (B) PORQUE CHICO SERÁ UM GRANDE MÉDICO.
- (C) PORQUE CHICO GOSTA MUITO DE ESTUDAR.
- (D) PORQUE CHICO SERÁ UM GRANDE ADVOGADO.



TURBINE + AINDA

QUESTÃO 9 (EF02LP02.2JAB) - DESAFIO DE LÍNGUA PORTUGUESA

LEIA AS PALAVRAS, DESCUBRA E ESCREVA AS NOVAS PALAVRAS DENTRO DESSAS. AGORA DESENHE O QUE DESCOBRIU.

PALAVRA	NOVA PALAVRA	DESENHO
GALHO		
SAPATO		
GALINHA		
TUCANO		
CAMALEÃO		

QUESTÃO 10 (EF01CI02.1JAB) - DESAFIO DE CIÊNCIAS

OBSEVE O DESENHO. ESCREVA O NOME DAS PARTES DO CORPO HUMANO.





MATEMÁTICA 2º ANO

QUESTÃO 1 (EF02MA05.1JAB)

MARTA TEM UMA COLEÇÃO DE 22 LAÇOS DE CABELO, HOJE ELA GANHOU DA SUA TIA MAIS 6 LAÇOS. QUANTOS LAÇOS ELA FICOU NO TOTAL?

D	U
2	2
	6

RESPOSTA: MARTA FICOU COM _____ LAÇOS NO TOTAL.



QUESTÃO 2 (EF02MA05.1JAB)

NUMA CESTA HAVIA 32 BOMBONS, FELIPE COMEU 11 BOMBONS, QUANTOS RESTARAM?

D	U



SOBRARAM _____ BOMBONS.



QUESTÃO 5 (EF02MA14.1JAB)

ESCREVA O NOME DE CADA FIGURA GEOMÉTRICA ABAIXO:










QUESTÃO 6 (EF02MA11.1JAB)

OBSERVE A SEQUÊNCIA ABAIXO E ASSINALE O NÚMERO QUE DEVE SUBSTITUIR A ESTRELA:

20 - 22 - 24 -  - 28 - 30 - 32 - 34 - 36 - 38 -

- (A) 25
- (B) 28
- (C) 26
- (D) 27



QUESTÃO 7 (EF02MA20.1JAB)

OBSERVE OS VALORES DOS LANCHES NA LANCHONETE DA ESCOLA DE BRUNA E RESPONDA:

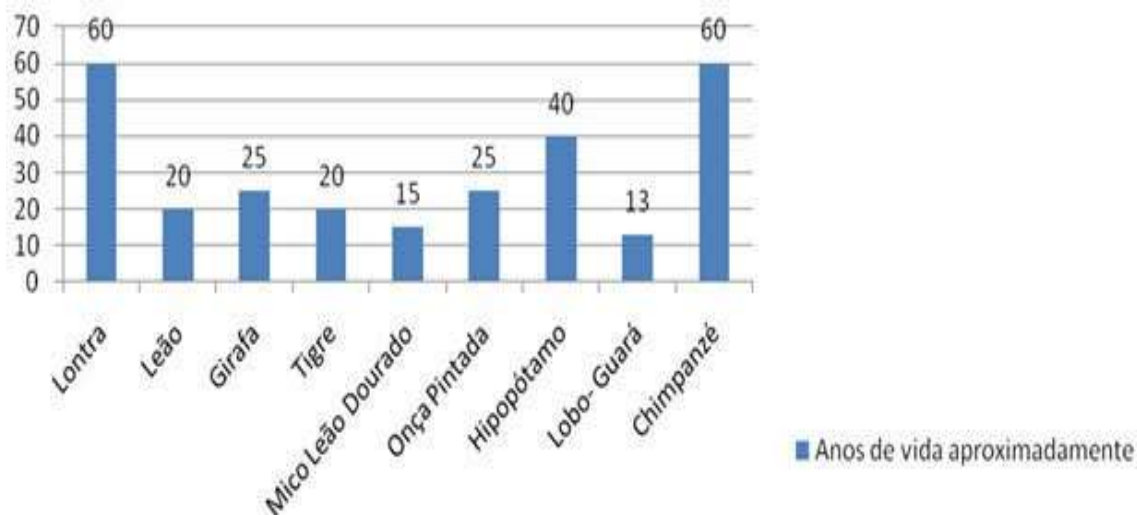
QUANTO BRUNA VAI GASTAR COMPRANDO UM SANDUÍCHE, UM REFRIGERANTE E UM PICOLÉ?

<p>SUCO</p>  <p>R\$ 4</p>	<p>REFRIGERANTE</p>  <p>R\$ 5</p>	<p>PICOLÉ</p>  <p>R\$ 2</p>
<p>PIPOCA</p>  <p>R\$ 1</p>	<p>SANDUÍCHE</p>  <p>R\$ 4</p>	<p>BOLO</p>  <p>R\$ 3</p>

- (A) R\$ 9,00
- (B) R\$ 11,00
- (C) R\$ 20,00
- (D) R\$ 15,00

QUESTÃO 8 (EF02MA22.5JAB)

OBSERVE O GRÁFICO ABAIXO COM A EXPECTATIVA DE VIDA DE ALGUNS ANIMAIS E RESPONDA:



QUANTOS ANOS VIVE A GIRAFA?

- (A) 15 ANOS
- (B) 20 ANOS
- (C) 40 ANOS
- (D) 25 ANOS



CADERNO DE ATIVIDADES



Turbine seu conhecimento



TURBINE + AINDA

QUESTÃO 9. (EF01HI01.5JAB) – DESAFIO DE HISTÓRIA

CONTE A SUA HISTÓRIA ATRAVÉS DE UMA LINHA DO TEMPO, DESENHANDO OU COLANDO FOTOGRAFIAS NO SEU CADERNO OU FOLHA. CONSIDERE OS ACONTECIMENTOS PRINCIPAIS COLOCANDO O ANO DE CADA ACONTECIMENTO, A IDADE QUE VOCÊ ESTAVA EM CADA OCASIÃO, PARTINDO DO SEU NASCIMENTO ATÉ A ATUALIDADE.

QUESTÃO 10. (EF02GE01.1JAB) – DESAFIO DE GEOGRAFIA

ESCREVA O NOME DA SUA ESCOLA E O BAIRRO ONDE ELA ESTÁ LOCALIZADA.

NOME DA ESCOLA	NOME DO BAIRRO

COMO É A SUA ESCOLA? -----

ESCOLHA O SEU ESPAÇO FAVORITO DA SUA ESCOLA E DESENHE BEM BONITO.