



LÍNGUA PORTUGUESA 3º ANO

QUESTÃO 1. Pinte a cena abaixo e depois escreva no quadrinho, quantas sílabas tem cada palavra.



MENINA

LAÇO

SEGREDO

BONITA

QUESTÃO 2. Você gosta de DESAFIO? Observe o primeiro desenho e compare com o segundo. Depois encontre e marque os 4 ERROS no segundo desenho.



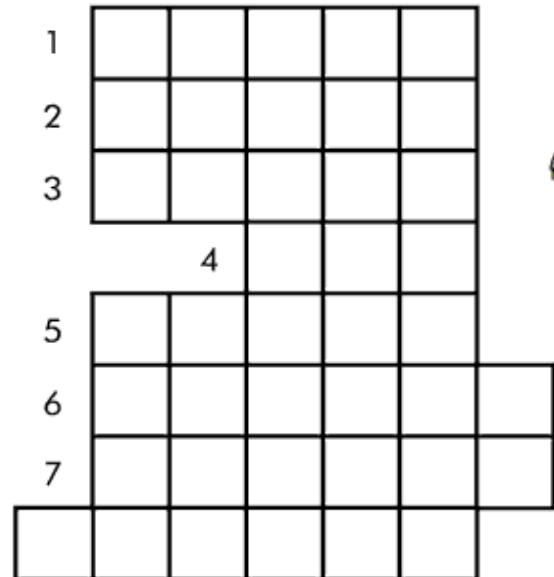
<https://br.pinterest.com/pin/643803709214282950/>



Turbine seu conhecimento


QUESTÃO 3. Preencha o diagrama abaixo com os antônimos, e descubra a estação do ano que está escrita na diagonal.

1. CONTRÁRIO DE CHEIO.
2. CONTRÁRIO DE INFELIZ
3. CONTRÁRIO DE MAGRO
4. CONTRÁRIO DE BOM
5. CONTRÁRIO DE ALTO
6. CONTRÁRIO DE ALEGRE
7. CONTRÁRIO DE FRIO
8. CONTRÁRIO DE FECHADO



<https://www.pinterest.pt/pin/531002612310590363/>

QUESTÃO 4. Observe o labirinto. Desenhe migalhas no caminho que leva os irmãos João e Maria até sua casa.





Turbine seu conhecimento

QUESTÃO 5. DESAFIANDO VOCÊ! No quadro abaixo, temos nomes de instrumentos musicais de origem africana. Encontre-os no Caça Palavras ao lado.

CAÇA-PALAVRAS

BERIMBAU
ATABAQUE
CUÍCA
AFOXÉ
AGOGÔ



A	W	C	I	C	A	D	E	M	T
F	K	A	T	A	B	A	Q	U	E
O	L	A	G	O	G	Ô	M	Z	U
X	O	L	A	G	O	P	I	L	Q
É	G	K	C	U	Í	C	A	J	F
S	K	Q	A	X	B	E	O	M	A
N	B	E	R	I	M	B	A	U	Z

<https://br.pinterest.com/pin/357402920408224279/>

QUESTÃO 6. Observe atentamente o desenho abaixo e depois pinte de forma bem colorida.



Para você, como devemos tratar as pessoas?

<https://br.pinterest.com/pin/40180621659397364/>



QUESTÃO 7. Leia a canção “A BAILARINA”, e responda as questões.

A BAILARINA

TOQUINHO

UM, DOIS, TRÊS E QUATRO,
DOBRO A PERNA E DOU UM SALTO,
VIRO E ME VIRO AO REVÊS
E SE EU CAIO CONTO ATÉ DEZ.

DEPOIS, ESSA LENGUA-LENGA
TODA RECOMEÇA.
PUXA VIDA, ORA ESSA!
VIVO NA PONTA DOS PÉS.



A) Qual o título da canção? _____

B) Qual o nome de seu compositor? _____

QUESTÃO 8. Leia o texto abaixo e responda a pergunta.

Os amigos inseparáveis

Estes são Pedro e Sofia. Eles estudam na mesma escola desde o berçário e já estão no 3º ano.

Os dois estão sempre juntos em sala de aula e nas aulas de educação física, no pátio.

Hoje a professora de Educação Física, fez uma brincadeira de correr com a perna amarrada à do amigo, e mais uma vez, estão eles juntos.

Sofia e Pedro estavam quase ganhando a corrida quando de repente, a menina cai. Mas Pedro nem importou em ganhar, foi logo acudir a amiga com todo carinho do mundo.



Isabel Cristina S. Soares

Na frase “mas Pedro nem importou em ganhar, foi logo **acudir** a amiga com todo carinho do mundo.” A palavra grifada significa:

() gritar; xingar; aborrecer

() auxiliar; socorrer; ajudar

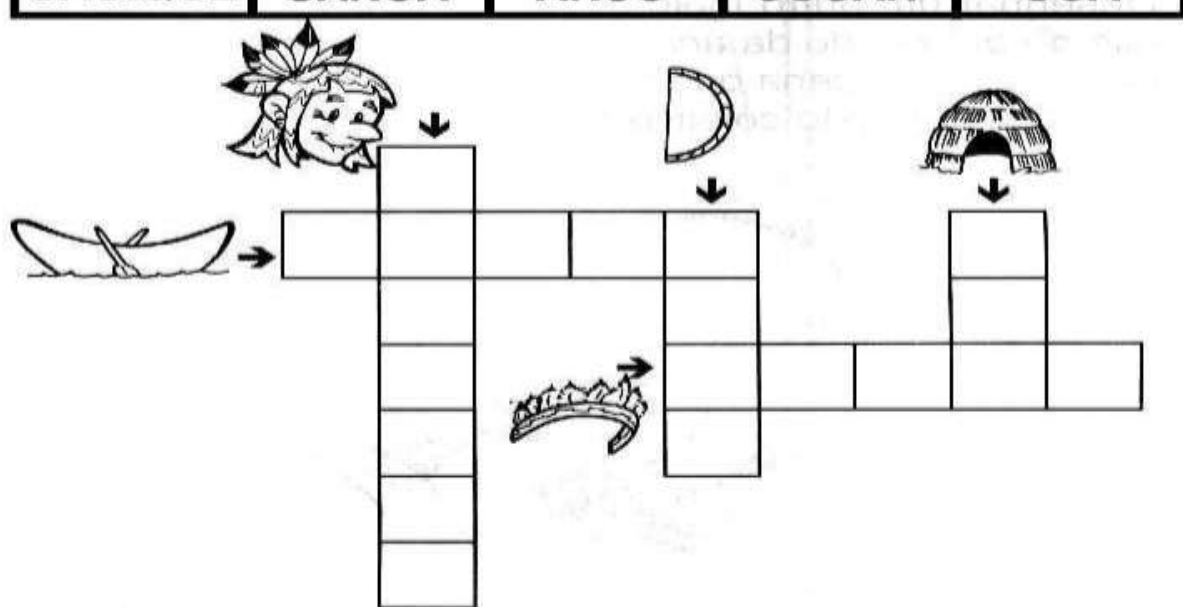
() rir; fazer; gracejos



Turbine seu conhecimento

QUESTÃO 9. Temos agora uma cruzadinha com palavras usadas por antigas tribos indígenas: Escreva cada palavra nos quadrinhos da cruzadinha, seguindo as dicas dos desenhos e palavras iniciais.

CACIQUE	CANOVA	ARCO	COCAR	OCA
----------------	---------------	-------------	--------------	------------



QUESTÃO 10. Podemos afirmar que foram grandes as contribuições dos povos no processo de formação da população brasileira atual. Vamos pintar a cena abaixo e depois circular as contribuições africanas à nossa cultura brasileira.



BERIMBAU

SAMBA

COCADA

CAPOEIRA

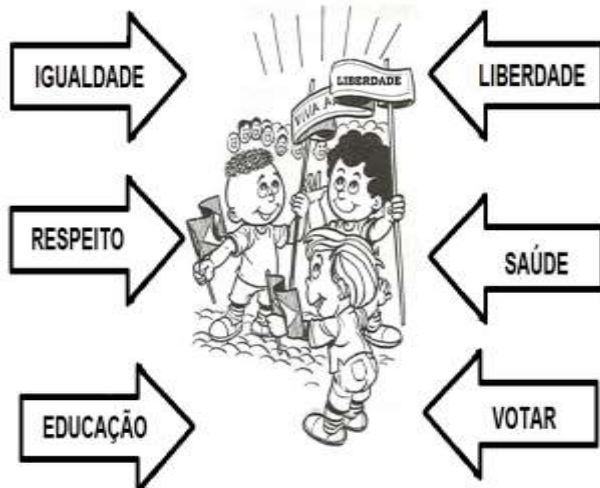
TELEVISÃO

FEIJOADA



Turbine seu conhecimento

QUESTÃO 11. Encontre no CAÇA-PALAVRAS os direitos conquistados pela população brasileira.




B	M	N	F	G	V	O	T	A	R
W	R	D	F	J	K	L	P	Z	S
I	G	U	A	L	D	A	D	E	A
D	M	R	E	S	P	E	I	T	O
E	D	U	C	A	Ç	Ã	O	N	V
X	N	K	L	Ú	M	B	S	D	E
R	T	U	I	D	V	O	U	D	V
B	L	I	B	E	R	D	A	D	E

Agora, com base nas conquistas da população brasileira, elabore e escreva uma frase usando um ou mais direitos.

https://drive.google.com/drive/folders/1Ln-d7-n5kCLDRM09slaJEE_oVa7eMX_3

QUESTÃO 12. Observe a figura e pinte no quadro abaixo, a palavra que a representa.



PAGODE	SAMBA	MISSA
PASSEIO	BALADA	FESTA
CINEMA	JOGO	CAPOEIRA


Com a palavra que você pintou e que considera representar a figura acima, elabore agora uma frase com essa palavra.

<https://www.tudodesenhos.com/d/escravos-africanos-e-capoeira>



Turbine seu conhecimento

QUESTÃO 13. Chegando as comemorações juninas, 24 de junho! Vamos observar os desenhos abaixo, compará-los e marcar os 7 erros.



Nessa época, valorizamos as comidas saborosas à base de milho, de côco, como: bolos, canjicas, pamonhas, pipocas, cocadas, tapiocas. Agora escreva três comidas juninas que você mais gosta:

1- _____ 2- _____ 3- _____

<https://br.pinterest.com/pin/26669822776381704/>

QUESTÃO 14. Nas festas juninas também tem muita animação e dança. Leia e observe o que se está pedindo: Atenção às letras de cada quadrinho!

ESCREVA AS INICIAIS DE CADA DESENHO, E DESCUBRA O NOME DA DANÇA NAS FESTAS JUNINAS!

Agora reescreva a palavra formada que representa uma dança coletiva junina bem animada:

<https://br.pinterest.com/pin/625085623251432913/>




Turbine seu conhecimento


QUESTÃO 15. Observe os desenhos abaixo e complete as palavras com a sílaba que falta nos quadrinhos ao lado:

	SA	PA			TU	CA		
	BO				BO			
	ES	CO			ES	CA		
	A	PI				PON	TA	DOR
	BO						LA	
	BA	NA				VA	LO	
	ES	PA				NE	LA	
	BO						CA	
	A	RA				NE	TA	
		BI	DE					


<https://br.pinterest.com/pin/704391197954080026/>


QUESTÃO 16. Com muita atenção, pinte as sílabas e escreva os nomes de cada desenhos abaixo. Depois faça a leitura de cada um dos nomes que você escreveu:


	PI	PA	PE
	PU	PO	CU
	CE	CO	CA
.....			

	PE	PA	PU
	PI	PO	TA
	TE	TO	TI
.....			

	PA	PE	PI
	TA	TE	TI
	CE	CA	CU
.....			

	PA	PE	PI
	E	I	A
	NA	NI	NO
.....			

	PI	PA	PO
	NE	NU	NA
	LI	LO	LA
.....			

	PA	PE	PI
	PO	PU	A
	E	I	ÃO
.....			



Turbine seu conhecimento

QUESTÃO 17. Leia a tirinha de Chico Bento, depois marque a alternativa correta.



Copyright © 2002 Mauricio de Sousa Produções Ltda. Todos os direitos reservados.

6614

O assunto principal do texto é:

- a amizade com a professora.
- a educação de Chico Bento
- a esperteza de Chico Bento.
- o cumprimento com dever de casa.

QUESTÃO 18. Caça Palavras silábico. Pinte no diagrama as palavras abaixo, separadas em sílabas.


**BARRIGA
SERRA
SERROTE
CORRIDA**

**TERRESTRE
TERRA
TERREMOTO
MACARRÃO**

**FERRADURA
FERRO
REPOLHO
TORRE**

**CARRO
CARRUAGEM**

SI	CAR	RU	A	GEM	PE	MA	PO	CRA
TRI	RO	LA	BUR	DRE	LO	FER	RO	CI
E	TO	TOR	TRI	JO	PE	RA	LO	MA
PLA	SI	RE	PO	LHO	SO	DU	LÃO	CAR
TER	RE	MO	TO	NAN	TER	RA	RA	RÃO
RES	CLO	RU	A	PEM	PE	MA	IS	LA
TRE	COR	COR	RI	DA	MA	SER	RA	VI
GA	VO	CHA	CLE	TE	TUR	RO	MA	TRE
GO	BAR	RI	GA	GI	LA	TE	BU	NI
















Turbine seu conhecimento

QUESTÃO 19. Vamos preencher a cruzadinha de animais! Não pode ficar quadradinho em branco.

ANIMAIS

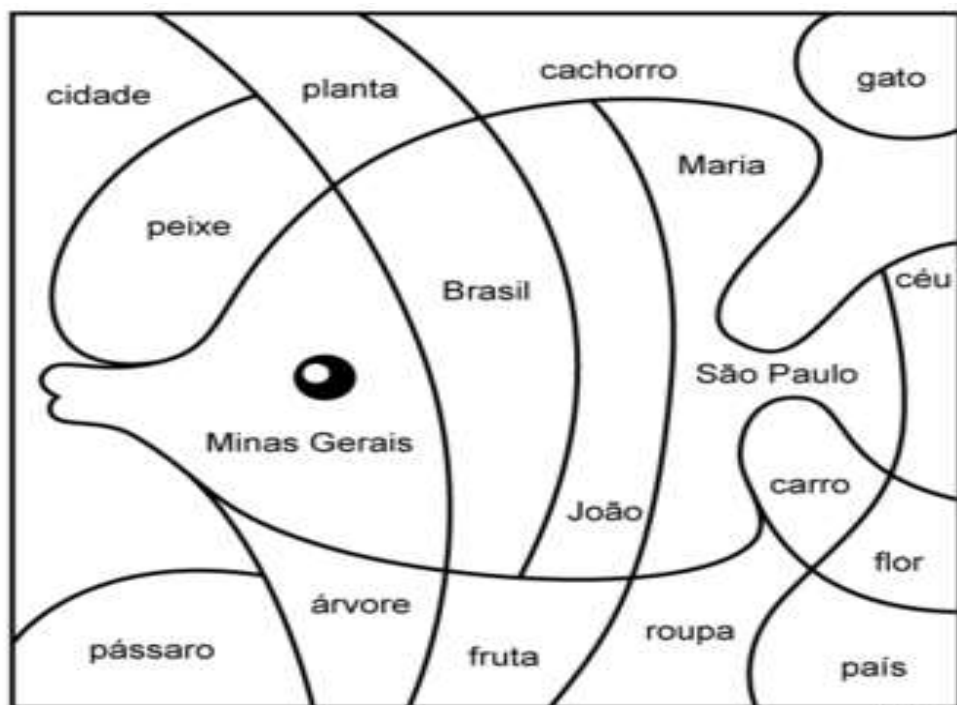
1							
2							
3							
4							
5							
6							
7							
8							
9							
10							



<p>1 </p> <p>3 </p> <p>5 </p> <p>7 </p> <p>9 </p>	<p>2 </p> <p>4 </p> <p>6 </p> <p>8 </p> <p>10 </p>
---	---

<https://cristhianeguimaraes.blogspot.com/2014/06/atividades-juninas.html>

QUESTÃO 20. Pinte os substantivos próprios de uma cor, e os substantivos comuns de outra cor.



cidade planta cachorro gato
 peixe Maria
 Brasil céu
 Minas Gerais São Paulo
 João carro
 flor
 pássaro árvore fruta roupa país

<https://www.smartkids.com.br/>




MATEMÁTICA 3º ANO

QUESTÃO 1. Desafio para fazer junto com a família!

Quatro amigos estão na fila para entrarem na sala. Descubra a ordem pela qual os quatro amigos estão na fila, siga as indicações:

Pedro não é o primeiro da fila. Pedro está à frente do Rui.
 Rui está à frente do João. Nuno não é o último da fila.

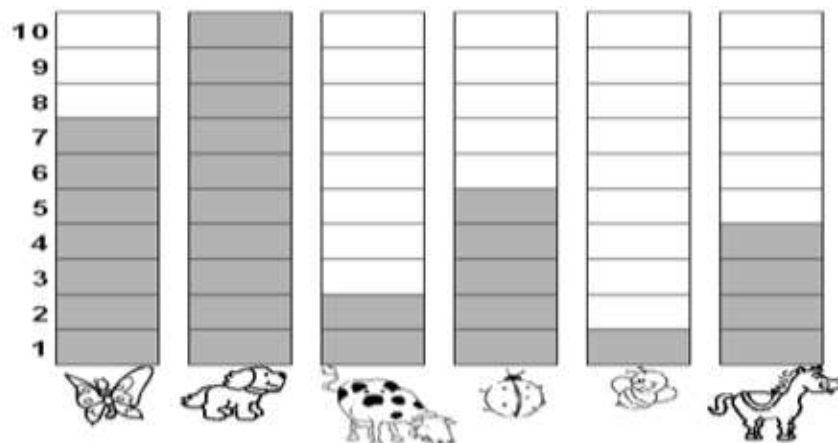
Escreva o nome de cada um dos amigos no local correto:



1.º
 2.º
 3.º
 4.º

<https://br.pinterest.com/pin/70720656629300932/>

QUESTÃO 2. Observe o gráfico que mostra os animais preferidos pelos alunos do 3º ano.



De acordo com o gráfico, complete a tabela abaixo escrevendo a quantidade de animais escolhidas.

NOME DO ANIMAL	QUANTIDADE
Abelha	
Borboleta	
Cachorro	
Cavalo	
Joaninha	
Vaca	

<https://br.pinterest.com/pin/70720656629300932/>




Turbine seu conhecimento

QUESTÃO 3. Jéssica precisa de R\$ 35,00 para comprar uma boneca. Confira o dinheiro que ela tem e responda a questão abaixo:



Quanto ainda falta para Jéssica comprar a boneca? _____






QUESTÃO 4. Fábio tem 12 ossos para distribuir entre seus 3 cachorrinhos. Para que todos fiquem com a mesma quantidade, quantos ossos cada cachorro receberá?





Turbine seu conhecimento

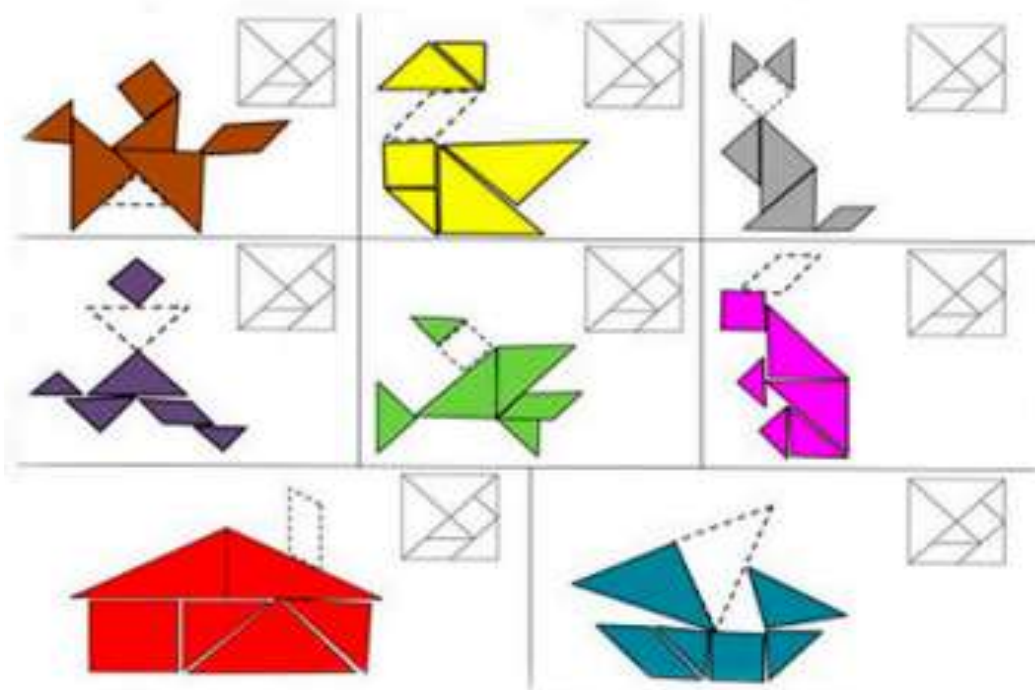
QUESTÃO 5. Observe no gráfico as quantidades de tampinhas recolhidas pelos estudantes do 3º ano para fazer uma gincana.

Bruno	
Pedro	
Ana	
Júlia	
Maria	

Agora responda:

- A - Quem conseguiu juntar mais tampinhas?
- B - Quantas tampinhas Pedro precisa para ficar com a mesma quantidade de Bruno?
- C- Quem juntou menos?

QUESTÃO 6. O Tangran é um quebra-cabeça chinês formado por 7 peças. Observe a figura que está faltando e pinte a pecinha no modelo do jogo.





Turbine seu conhecimento

QUESTÃO 7. Trace uma linha por cima dos números pares em ordem crescente. Agora, percorra o mesmo caminho no quadro 2 e descubra a mensagem.

2	4	5	7	11	15
18	6	21	17	39	61
19	8	10	33	37	22
49	70	14	9	25	50
27	23	20	26	29	43
63	99	47	36	38	40

A	R	H	F	A	J
T	C	V	N	X	B
H	O	E	U	M	Y
B	G	F	S	Z	O
X	F	L	E	T	C
L	E	V	C	H	A

RESPOSTA _____

A mensagem do quadro refere-se a:

- COMIDA INDÍGENA.
- DANÇA INDÍGENA.
- INSTRUMENTO MUSICAL.
- INSTRUMENTO USADO PARA CAÇA.

<http://educacao-ale.blogspot.com/2011/04/atividades-de-matematica-com-o-tema-de.html>

QUESTÃO 8. Algumas tribos africanas usam máscaras para retratar heróis, animais, o sol e a lua. Agora encontre os sete erros e depois pinte a figura.





<https://www.pinterest.cl/pin/689473024191852823/>



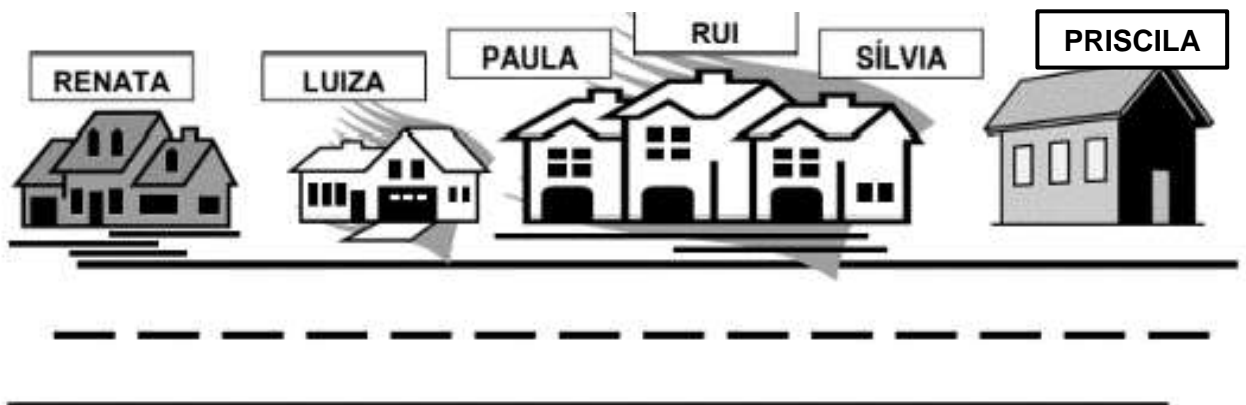
Turbine seu conhecimento

QUESTÃO 9. Observe os números apresentados pelas crianças. Pinte as barras, conforme a quantidade de quadrinhos que representa cada número.



<https://br.pinterest.com/pin/495255290270439822/>

QUESTÃO 10. Observe o desenho da rua, e os nomes dos moradores.



Quem mora entre a casa de Paula e Sílvia?

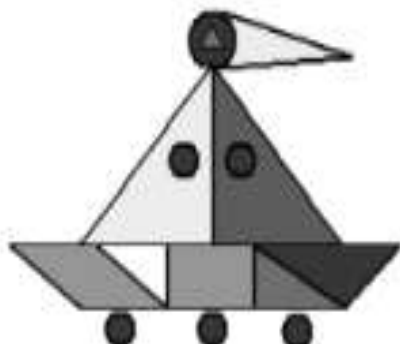
Quem mora a direita da casa de Luiza?

https://drive.google.com/drive/folders/1Ln-d7-n5kCLDRM09slaJEE_oVa7eMX_3



Turbine seu conhecimento

QUESTÃO 11. Na figura abaixo quantos triângulos podemos contar? Escreva no quadro abaixo.



https://drive.google.com/drive/folders/1Ln-d7-n5kCLDRM09slaJEE_oVa7eMX_3

QUESTÃO 12. O brinquedo preferido de Marcelo está no seu lado **esquerdo**. Qual é o brinquedo preferido de Marcelo? Escreva o nome dentro do círculo abaixo.



https://drive.google.com/drive/folders/1Ln-d7-n5kCLDRM09slaJEE_oVa7eMX_3



Turbine seu conhecimento

QUESTÃO 13. Circule as cartelas em que estão escritos os números **TREZENTOS E DEZESSEIS** e **QUATROCENTOS E NOVE**.



https://drive.google.com/drive/folders/1Ln-d7-n5kCLDRM09slaJEE_oVa7eMX_3

QUESTÃO 14. Observe e registre, no quadro, os nomes das frutas que obtiveram o mesmo número de votos.



https://drive.google.com/drive/folders/1Ln-d7-n5kCLDRM09slaJEE_oVa7eMX_3

QUESTÃO 15. Observe a figura abaixo. Depois pinte o quadro que completa a frase abaixo.



Par chegar na casa de ANA, o detetive deve caminhar na rua das rosas e:

CRUZAR A RUA DOS CRAVOS E VIRAR A SUA DIREITA.

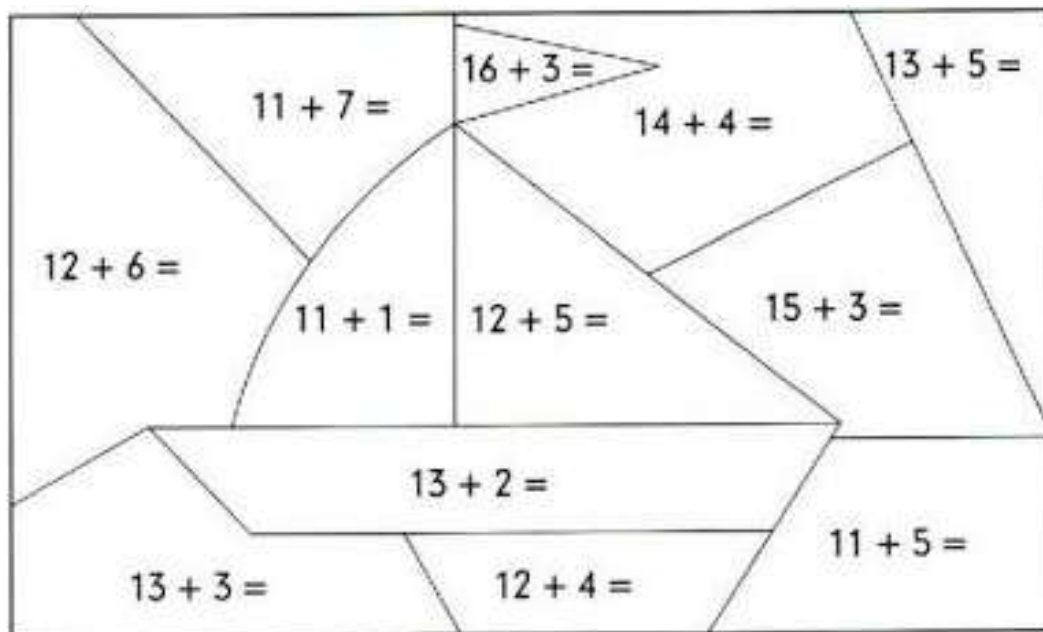
VIRAR A ESQUERDA ANTES DE CRUZAR A RUA OS CRAVOS.

<https://drive.google.com/drive/folders/1Ln-d7->



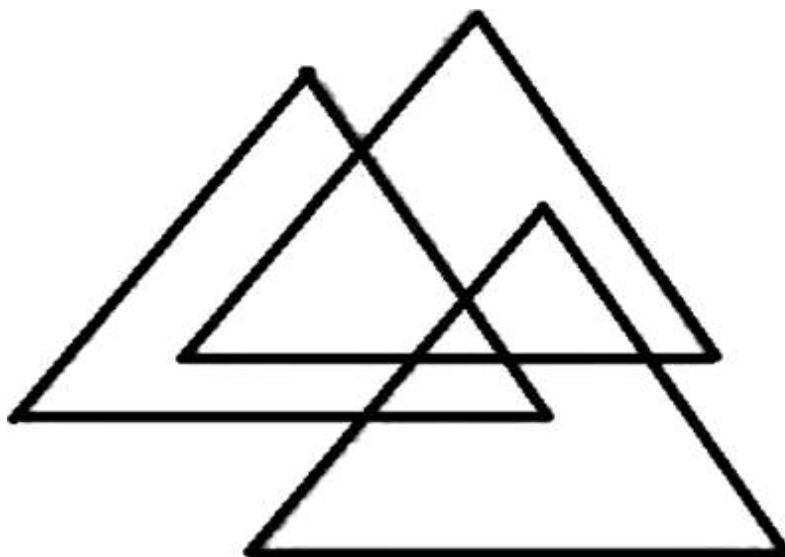
QUESTÃO 16. Resolva as operações e pinte de acordo com o resultado:

16= azul	15= amarelo	17= verde	18= azul claro	12= roxo	19= laranja
----------	-------------	-----------	----------------	----------	-------------



Pinteret.com.br


QUESTÃO 17. Observe a imagem e marque a alternativa que indica a quantidade de triângulos que você consegue ver.



- a) 5 b) 6 c) 7 d) 8

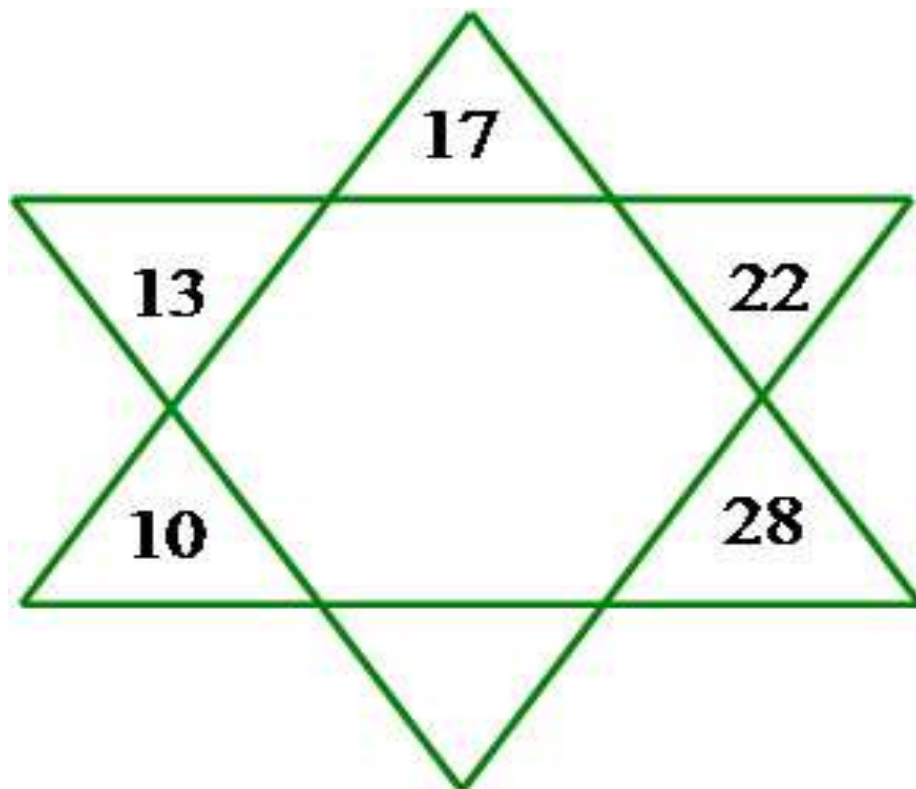


QUESTÃO 18. Desafio. Vire o peixe de lado movendo apenas 3 palitos.



<https://solanisroliveira.blogspot.com/2011/08/desafios-com-palitos-de-fosforo.html>

QUESTÃO 19. Esse desafio pode ser resolvido junto com alguém da família. Observe a sequência e descubra qual valor está faltando na ponta da estrela.





















<https://educador.brasilecola.uol.com.br/estrategias-ensino/sequencia-logica.htm>



Turbine seu conhecimento

QUESTÃO 20. Observe o valor dos objetos e em seguida relacione corretamente os preços com as moedas do sistema monetário que serão utilizadas para efetuar o pagamento.

<p>R\$ 0,45</p>  <p>(A)</p>	<p>R\$ 0,25</p>  <p>(B)</p>	<p>R\$ 0,35</p>  <p>(C)</p>
<p>R\$ 0,80</p>  <p>(D)</p>	<p>R\$ 1,50</p>  <p>(E)</p>	<p>R\$ 2,70</p>  <p>(F)</p>
<p>R\$ 1,00</p>  <p>(G)</p>	<p>R\$ 0,50</p>  <p>(H)</p>	<p>R\$ 0,60</p>  <p>(I)</p>

 <p>()</p>	 <p>()</p>	 <p>()</p>
 <p>()</p>	 <p>()</p>	 <p>()</p>
 <p>()</p>	 <p>()</p>	 <p>()</p>