







Turbine seu conhecimento

LÍNGUA PORTUGUESA MÓDULO II

QUESTÃO 1. ESCREVA O NOME DAS FRUTAS E CIRCULE AS VOGAIS.

| | |
|--|--|
|  _____ |  _____ |
|  _____ |  _____ |

QUESTÃO 2. VAMOS LER AS FRASES E COMPLETÁ-LAS COM OS NOMES DAS FIGURAS.

A) JANE SAIU PARA COMPRAR _____.



B) O PREGO FUROU O PNEU DA MINHA _____.



C) O _____ ROEU O SACO DE PÃO.










D) PRECISO DE CEM TIJOLOS PARA TERMINAR O _____.





Turbine seu conhecimento

QUESTÃO 3. ESCREVA O NOME DE CADA FIGURA E COM AS SÍLABAS INICIAIS FORME UMA NOVA PALAVRA. VEJA O MODELO.

| | | |
|--|--|--|
|  |  | |
| TOMADA | CASA | TOCA |
| _____ | _____ | _____ |
|  |  | |
| _____ | _____ | _____ |
|  |  |  |
| _____ | _____ | _____ |
| | _____ | |

QUESTÃO 4. CIRCULE OU PINTE A RESPOSTA CORRETA DAS ADIVINHAÇÕES ABAIXO:

A) QUE FICA EM VOLTA DE QUALQUER PESSOA?

| | | |
|--------------|------------|---------------|
| CINTO | RUA | PIJAMA |
|--------------|------------|---------------|

B) QUE SOBE E DESCE, MAS NÃO SAI DO LUGAR?

| | | |
|--------------|---------------|----------------|
| CARRO | ESCADA | PISCINA |
|--------------|---------------|----------------|



Turbine seu conhecimento

QUESTÃO 5. COMO VOCÊ BEM SABE AS PLACAS TAMBÉM NOS INFORMAM. ASSINALE A INFORMAÇÃO QUE A IMAGEM QUER TRANSMITIR:



() PROIBIDO FUMAR!

() É PERMITIDO ENTRADA DE CACHORRO.

() É PERMITIDO FUMAR.

() PROIBIDO ENTRADA DE CACHORRO.



() CUIDADO! PISO MOLHADO.

() PERMITIDO O USO DE CELULAR.

() PODE PASSAR.

() PROIBIDO O USO DO CELULAR.

QUESTÃO 6. JOGO ORTOGRÁFICO - LEIA CADA PALAVRA E COMPLETE O QUADRO ABAIXO.

COMPRA GROSSO VIDRO GRUDE PRÊMIO PREÇO COFRE
 ABRAÇO FRANGO BRILHO TREZE CREME LÁGRIMA GRIPE

| | |
|----|--|
| BR | |
| DR | |
| GR | |
| PR | |
| FR | |
| TR | |
| CR | |



Turbine seu conhecimento

QUESTÃO 7. ORDENE OS NOMES DE ALGUNS TIMES DE FUTEBOL DE PERNAMBUCO E ESCREVA-OS CORRETAMENTE NA LINHAS ABAIXO.

TACRUZSAN

COTINAU

TPREOILNA

TRALCEN



QUESTÃO 8. FAÇA UM X NO QUADRADINHO DA PLACA ONDE APARECE SOMENTE LETRAS:

ÚLTIMA
SAÍDA
A 200 m

RUA
ALBERTO MATOSO





QUESTÃO 9. COMPLETE AS PALAVRAS DAS FRASES COM GU OU QU E DEPOIS RELEIA COM ATENÇÃO.

EN ANTO AS CRIANÇAS BRINCAVAM DE EIMADA NA ADRA,
NÓS FICAMOS OLHANDO O BAR INHO QUE NAVEGAVA CALMAMENTE
PELA LAGOA.

A MÃE DE ILHERME COMPROU UM A ÁRIO PARA DECORAR
O ARTO DELE.

TODOS FICARAM PREOCUPADOS COM A ALIDADE DO IBE COM
 EIJO SERVIDO NO JANTAR.

O PE ENO HENRI E ESTÁ ANSIOSO PARA GANHAR UMA
 ITARRA DE BRIN EDO.

QUESTÃO 10. COLOQUE A LETRA N NAS PALAVRAS E FAÇA CONFORME O MODELO:

EX: NUCA – NUNCA - NUN-CA

A) TROCO – TRO ___ CO - _____

B) MUDO – MU ___ DO - _____

C) CATO – CA ___ TO - _____

D) VETO – VE ___ TO - _____



Turbine seu conhecimento

QUESTÃO 11. VAMOS LER A PARLENDAS? SE NÃO CONSEGUI SOZINHO PEÇA

AJUDA! DEPOIS RESPONDA AS QUESTÕES ABAIXO:

O DOCE PERGUNTOU
PRO DOCE
QUAL É O DOCE MAIS
DOCE QUE O DOCE DE
BATATA-DOCE?

O DOCE RESPONDEU
PRO DOCE QUE O
DOCE MAIS DOCE QUE
O DOCE DE BATATA-
DOCE É O DOCE DE
BATATA-DOCE!



figura disponível em: <https://www.tudogostoso.com.br/>

- A) CIRCULE A PALAVRA **DOCE** NO TEXTO.
- B) QUANTAS VEZES A PALAVRA **DOCE** APARECEU NO TEXTO? _____
- C) DE QUE É FEITO O DOCE? _____
- D) QUE OUTRO TIPO DE DOCES VOCÊS CONHECEM? ESCREVA OS NOMES.
-
-







QUESTÃO 12. MARQUE COM UM X TODAS AS FIGURAS QUE COMEÇAM COM A MESMA LETRA DA PALAVRA DOCE.



Figuras disponíveis em: <https://br.pinterest.com/>



QUESTÃO 13. INDIQUE OS NÚMEROS DE SÍLABAS DAS PALAVRAS:

| | | |
|---|--|---|
|  <input style="width: 100px; height: 60px;" type="text"/> |  <input style="width: 100px; height: 60px;" type="text"/> |  <input style="width: 100px; height: 60px;" type="text"/> |
|  <input style="width: 100px; height: 60px;" type="text"/> |  <input style="width: 100px; height: 60px;" type="text"/> |  <input style="width: 100px; height: 60px;" type="text"/> |

QUESTÃO 14. DESCUBRA NO CAÇA-PALAVRAS O CONTRÁRIO DAS PALAVRAS ABAIXO:

GRANDE LARGO FRIO RASO BONITO FINO POBRE CERTO

| | | | | | | | | |
|---|---|---|---|---|---|---|---|---|
| P | E | Q | U | E | N | O | O | Ç |
| R | R | U | A | U | I | P | Ç | G |
| I | R | E | G | R | O | S | S | O |
| C | A | N | R | F | E | I | O | S |
| O | D | T | T | D | R | T | J | K |
| J | O | E | O | F | U | N | D | O |
| I | O | P | Ç | T | J | L | O | S |
| E | S | T | R | E | I | T | O | O |



Turbine seu conhecimento

QUESTÃO 15. COMPLETE OS VERSOS DA PARLENDAS ESCRREVENDO EM CADA ESPAÇO A PALAVRA QUE RIMA.

EX: O CACHIMBO É DE BARRO.

BATE NO JARRO

| |
|---------|
| JARRO |
| CARROÇA |
| CARRO |

O JARRO É DE OURO,
BATE NO _____

| |
|--------|
| CAVALO |
| TOURO |
| BOTE |

O TOURO É VALENTE,
CHIFRA A _____

| |
|---------|
| ÁRVORES |
| BICHOS |
| GENTE |

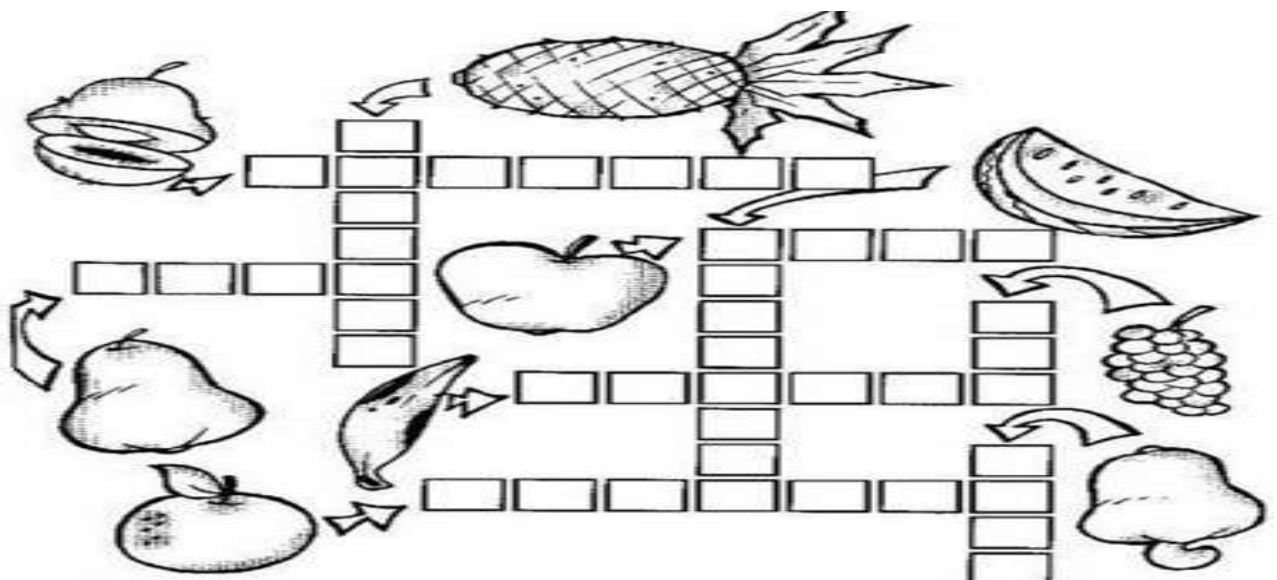
A GENTE É FRACO,
CAI NO _____

| |
|----------|
| LAGO |
| ALMOFADA |
| BURACO |

O BURACO É FUNDO,
ACABOU-SE O _____

| |
|----------|
| PLANETA |
| UNIVERSO |
| MUNDO |

QUESTÃO 16. AS FRUTAS AUMENTAM A NOSSA IMUNIDADE, POIS POSSUEM MUITAS VITAMINAS. ESCRIVAM NA CRUZADINHA OS NOMES DAS FRUTAS:





Turbine seu conhecimento

QUESTÃO 17. LEIA A CANTIGA O CRAVO E A ROSA E RESPONDA AS QUESTÕES

ABAIXO MARCANDO COM UM (X) A RESPOSTA CERTA:

O CRAVO BRIGOU COM A ROSA,
DEBAIXO DE UMA SACADA.

O CRAVO SAIU FERIDO
E A ROSA, DESPEDAÇADA.

O CRAVO FICOU DOENTE,
A ROSA FOI VISITAR.

O CRAVO TEVE UM DESMAIO
E A ROSA PÔS-SE A CHORAR.



- A) QUEM BRIGOU COM A ROSA? () O CRAVO () A PAPOULA
B) O CRAVO E A ROSA ESTAVAM DEBAIXO DA: () JANELA () SACADA () ÁRVORE
C) QUEM TEVE UM DESMAIO? () O CRAVO () A ROSA
D) QUEM FICOU CHORANDO? () A ROSA () O CRAVO

QUESTÃO 18. CIRCULE O NOME DE CADA FIGURA:




figura disponível em: <https://br.pinterest.com/>



Turbine seu conhecimento

QUESTÃO 19. ENCONTRE NO CAÇA-PALAVRAS OS NOMES DOS ANIMAIS

DOMÉSTICOS ABAIXO:

GALINHA PAVÃO BURRO CABRA CÃO CANÁRIO

COELHO OVELHA PORCO PATO VACA HAMSTER



figura disponível em: <http://2.bp.blogspot.com/>

QUESTÃO 20. NESSES DIAS QUE PASSAMOS EM CASA NOS DÁ UMA FOME NÃO É MESMO? VAMOS ORGANIZAR ESSA LISTA DE ALIMENTOS NA ORDEM DO ALFABETO?

MACARRÃO ARROZ FEIJÃO BIFE ESPINAFRE

FRANGO PEIXE BATATA OVO ALFACE

1. _____
2. _____
3. _____
4. _____
5. _____

6. _____
7. _____
8. _____
9. _____
10. _____



figura disponível em: <https://br.pinterest.com/>



MATEMÁTICA MÓDULO II

QUESTÃO 1. MARQUE COM UM X A DEZENA MAIS PRÓXIMA AOS NUMERAIS DADOS:

| | | | | |
|----|----|----|----|----|
| 17 | 10 | 20 | 30 | 40 |
|----|----|----|----|----|


| | | | | |
|----|----|----|----|----|
| 51 | 30 | 40 | 50 | 60 |
|----|----|----|----|----|

| | | | | |
|----|----|----|----|----|
| 78 | 60 | 70 | 80 | 90 |
|----|----|----|----|----|

| | | | | |
|----|----|----|----|----|
| 66 | 50 | 60 | 70 | 80 |
|----|----|----|----|----|

| | | | | |
|----|----|----|----|----|
| 11 | 10 | 20 | 30 | 40 |
|----|----|----|----|----|

QUESTÃO 2. RESOLVA UTILIZANDO A ADIÇÃO:

| | | | | | | | |
|---|---|---|---|---|---|---|---|
| + | 2 | 6 | 8 | 3 | 9 | 7 |  |
| 6 | | | | | | | |
| 9 | | | | | | | |
| 5 | | | | | | | |
| 8 | | | | | | | |
| 7 | | | | | | | |
| 4 | | | | | | | |



QUESTÃO 3. ESCREVA O ANTECESSOR E O SUCESSOR DOS NUMERAIS:

| | | |
|--|----|--|
| | 34 | |
| | 23 | |
| | 43 | |
| | 13 | |

| | | |
|--|----|--|
| | 44 | |
| | 54 | |
| | 76 | |
| | 65 | |

| | | |
|--|----|--|
| | 66 | |
| | 87 | |
| | 33 | |
| | 32 | |

QUESTÃO 4. RESOLVA OS PROBLEMAS:

A) NA VÉSPERA DE SÃO JOÃO FIZEMOS UMA FESTA NA NOSSA SALA. SEU BALBINO ENCOMENDOU 42 COXINHAS E 55 EMPADINHAS. QUANTOS SALGADOS ELE ENCOMENDOU?

| | |
|---|---|
| D | U |
| | |
| | |
| | |

RESPOSTA: SEU BALBINO ENCOMENDOU _____ SALGADOS.

B) PARA ENFEITAR A FESTA DE SÃO JOÃO A PROFESSORA RENATA FEZ 34 BANDEIRINHAS VERDES E 46 BANDEIRINHAS AMARELAS. QUANTAS BANDEIRINHAS ELA FEZ AO TODO?

| | |
|---|---|
| D | U |
| | |
| | |
| | |

RESPOSTA: RENATA FEZ AO TODO _____ BANDEIRINHAS.



QUESTÃO 7. QUAL A METADE DOS NUMERAIS ABAIXO?

| | |
|----|--|
| 20 | |
| 12 | |
| 30 | |
| 10 | |
| 44 | |

| | |
|-----|--|
| 50 | |
| 100 | |
| 200 | |
| 22 | |
| 40 | |

QUESTÃO 8. MARQUE COM UM X A ESCRITA CORRETA DOS NUMERAIS ABAIXO:

| | |
|----|-------------------|
| | QUARENTA E QUATRO |
| 26 | OITENTA E OITO |
| | VINTE E SEIS |
| | VINTE E TRÊS |

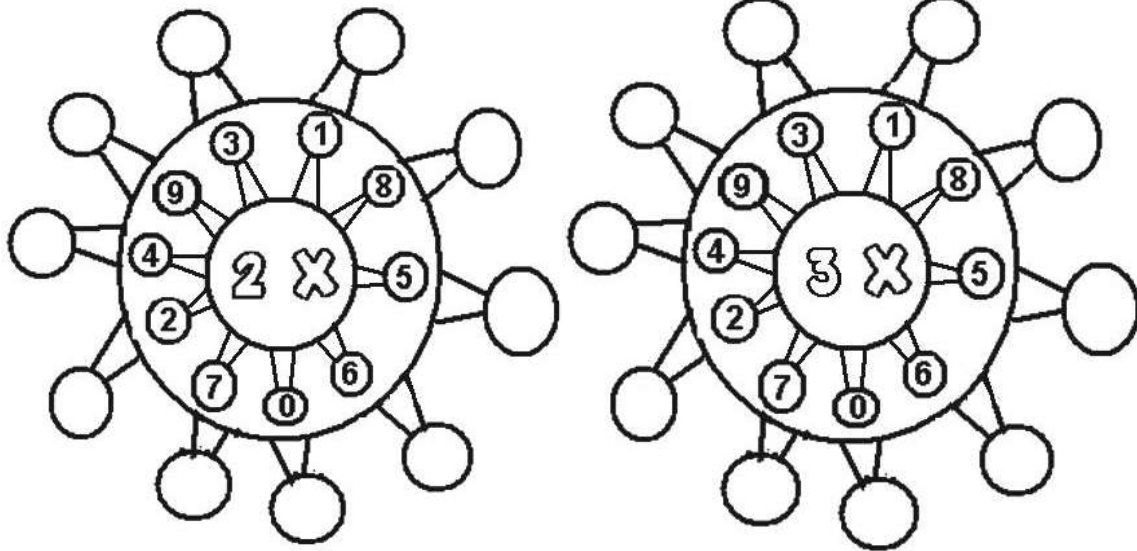
| | |
|----|----------------|
| | OITENTA E SETE |
| 87 | NOVENTA E NOVE |
| | VINTE E CINCO |
| | SETENTA E SETE |

| | |
|----|------------------|
| | OITENTA E UM |
| 66 | CINQUÊNTA E DOIS |
| | QUATORZE |
| | SESSENTA E SEIS |

| | |
|----|------------------|
| | NOVENTA E QUATRO |
| 49 | QUARENTA E NOVE |
| | QUARENTA E OITO |
| | CINQUENTA |



QUESTÃO 9. VAMOS CALCULAR A TABUADA. TENHA ATENÇÃO!



figuras disponíveis em: misturadealegria.blogspot.com.br

QUESTÃO 10. ESCREVA OS NUMERAIS QUE SERÃO SOMADOS PARA QUE O RESULTADO SEJA 6 E 9.

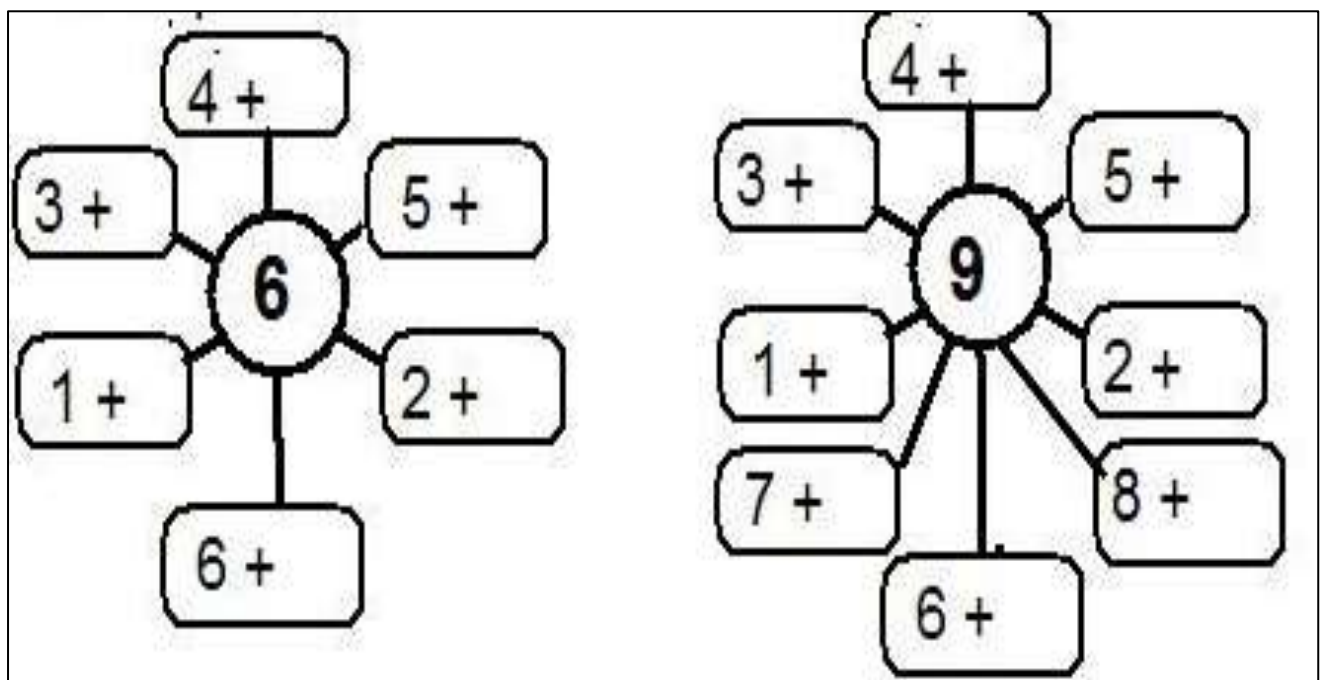


figura disponível em: misturadealegria.blogspot.com.br



QUESTÃO 11. PINTE NAS CALCULADORAS OS RESULTADOS DAS ADIÇÕES ABAIXO.

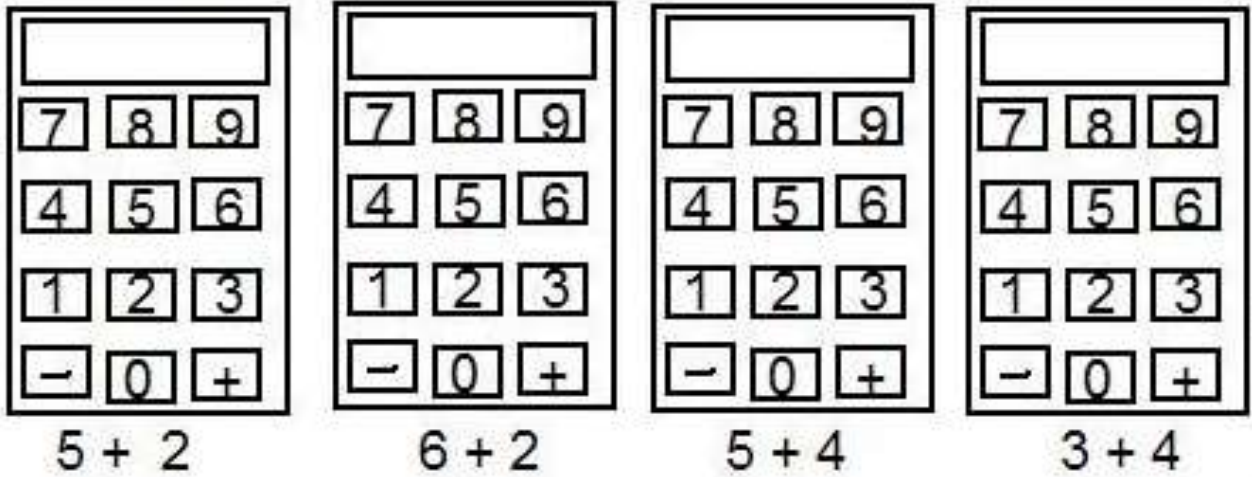
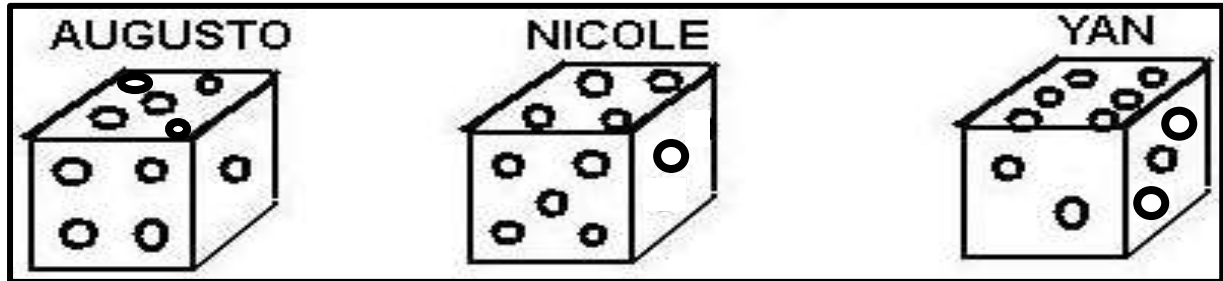


figura disponível em: misturadealegria.blogspot.com.br

QUESTÃO 12. OBSERVE OS DADOS ABAIXO E RESPONDA AS QUESTÕES A SEGUIR:



- A) O DADO DE AUGUSTO CAIU NO NÚMERO _____.
- B) O DADO DE NICOLE CAIU NO NÚMERO _____.
- C) O DADO DE YAN CAIU NO NÚMERO _____.
- D) QUAL DELES CAIU NO MAIOR NÚMERO? _____.
- E) E NO MENOR NÚMERO? _____.
- F) QUAL A SOMA DOS TRÊS JUNTOS?
- G) FAÇA A OPERAÇÃO. _____ + _____ + _____ = _____

disponível em: misturadealegria.blogspot.com.br



Turbine seu conhecimento

QUESTÃO 13. A SOGRA DE PEDRO RESOLVEU FAZER A COMPRA ABAIXO.

OBSERVE O QUE ELA COMPROU E RESPONDA AS QUESTÕES:

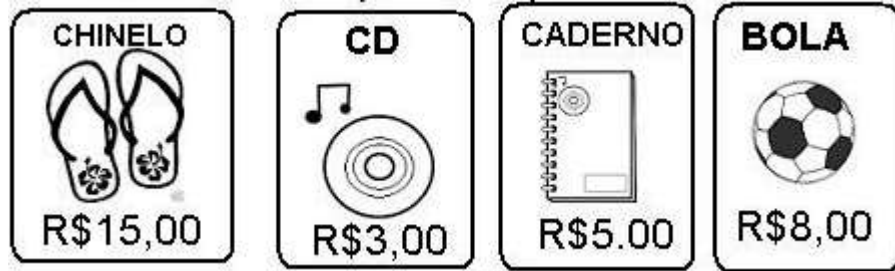


Figura disponível em: misturadealegria.blogspot.com.br

A) QUANTO CUSTA EM REAIS?

O CHINELO _____ O CD _____

O CADERNO _____ A BOLA _____

B) QUAL DOS PRODUTOS CUSTA MAIS? _____

C) QUAL DOS PRODUTOS CUSTA MENOS? _____

D) QUANTO A SOGRA DE PEDRO GASTOU? _____

QUESTÃO 14. CIRCULE OS PRODUTOS QUE COMPRAMOS POR QUILO:



figura disponível em: 1.bp.blogspot.com



QUESTÃO 15. DÊ O DOBRO DOS NUMERAIS ABAIXO:

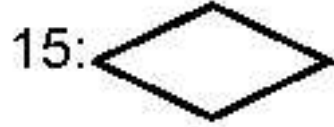
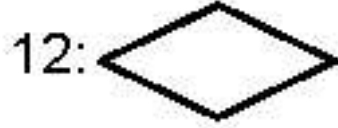
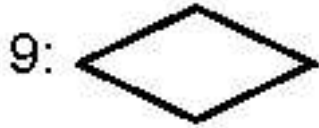


Figura disponível em: misturadealegria.blogspot.com.br

QUESTÃO 16. PINTE DE ACORDO COM AS CORES E O NUMERAL RESPECTIVO:

(5) VERMELHO

(7) LARANJA

(10) VERDE

(6) AZUL

(9) AMARELO

(12) CINZA

(8) MARRON

(13) ROSA

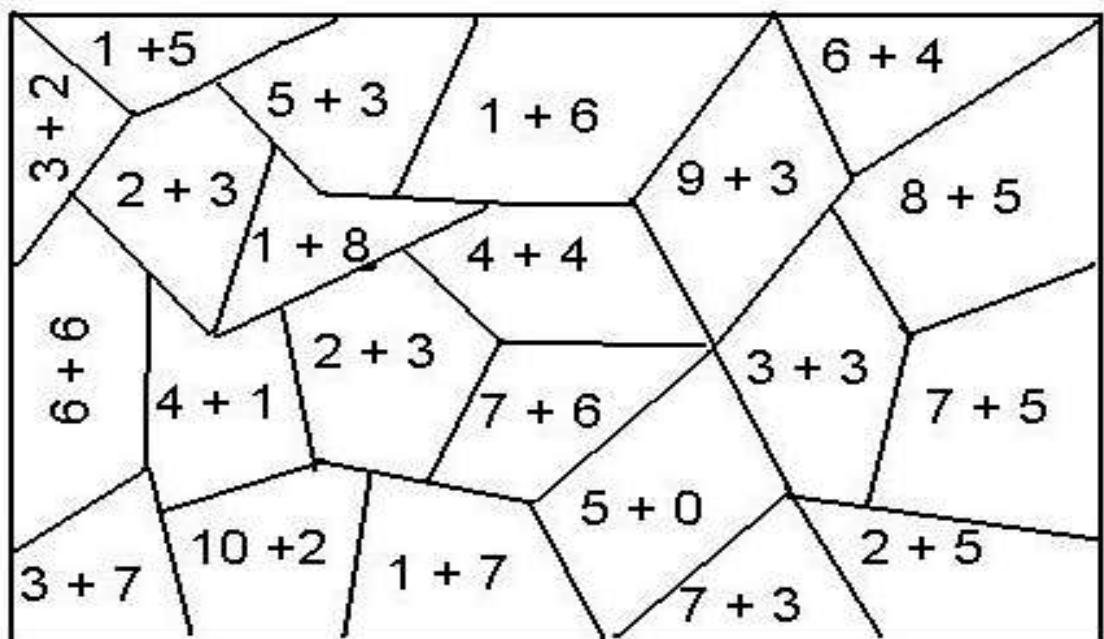


figura disponível em: misturadealegria.blogspot.com.br



QUESTÃO 17. A COSTUREIRA MARIA ESTÁ MEDINDO UMA FITA PARA PREGAR NA BARRA DE UMA SAIA DE UMA ROUPA JUNINA. AJUDE MARIA NESTE TRABALHO ANOTANDO QUANTOS CENTÍMETROS TEM CADA FITA:

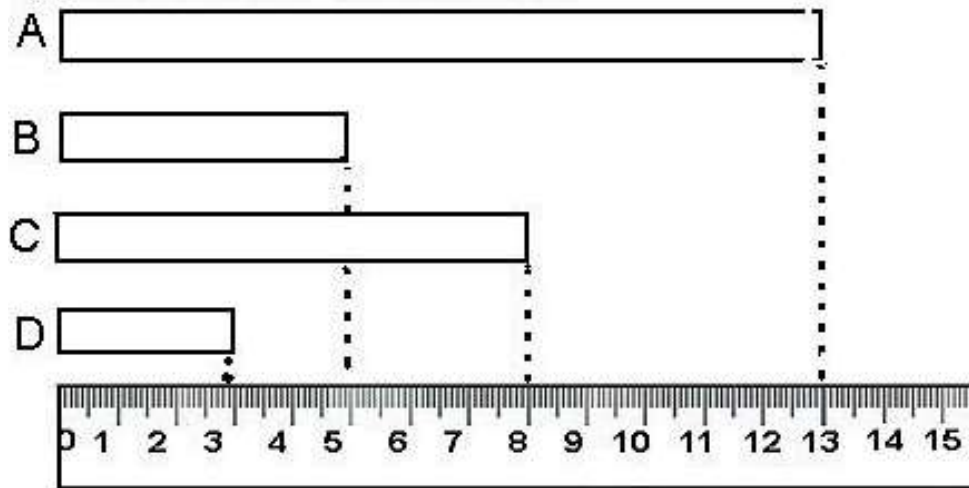


figura disponível em: misturadealegria.blogspot.com.br

A) FITA A _____ C) FITA C _____

B) FITA B _____ D) FITA D _____

E) QUAL DAS FITAS MEDE MAIS? _____

F) QUAL DAS FITAS MEDE MENOS? _____

QUESTÃO 18. VAMOS RESOLVER AS OPERAÇÕES E DEPOIS ESCREVER (V)

PARA VERDADEIRO E (F) PARA FALSO?

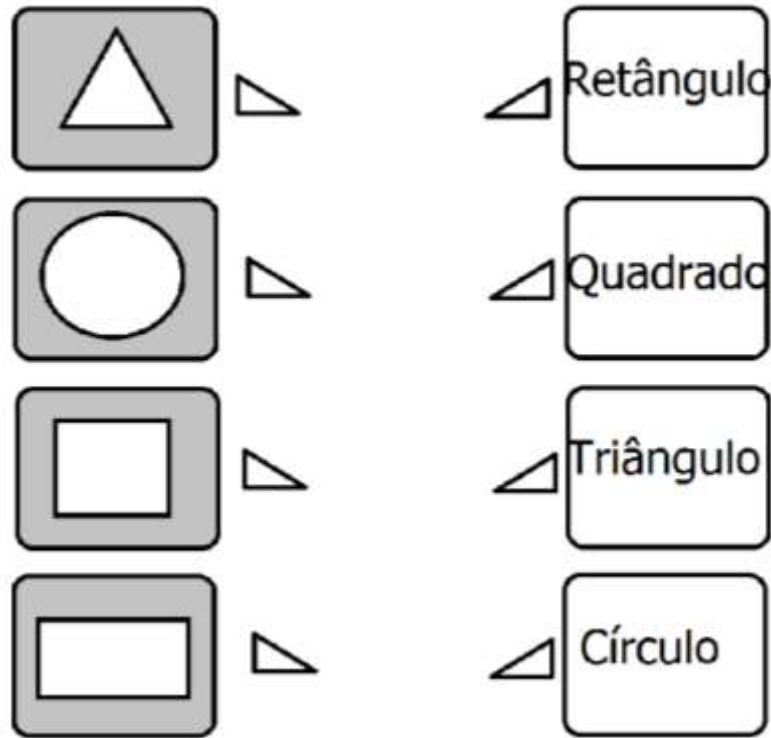
| | | |
|---|--|--|
| $9 - 4 = 5$ <input type="checkbox"/> | $10 - 2 = 9$ <input type="checkbox"/> | $11 - 3 = 8$ <input type="checkbox"/> |
| $9 - 9 = 2$ <input type="checkbox"/> | $7 - 3 = 4$ <input type="checkbox"/> | $8 - 3 = 6$ <input type="checkbox"/> |

figura disponível em: misturadealegria.blogspot.com.br



Turbine seu conhecimento

QUESTÃO 19. LIGUE AS FORMAS GEOMÉTRICAS A SEU NOME CORRETO.



QUESTÃO 20. CONTE AS CONTAS DO ÁBACO E ESCREVA OS NUMERAIS FORMADOS.

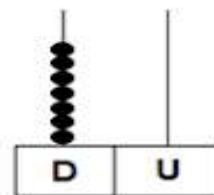
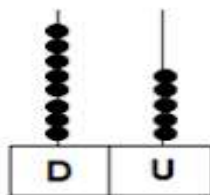
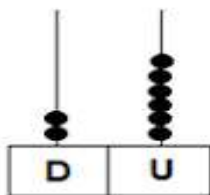
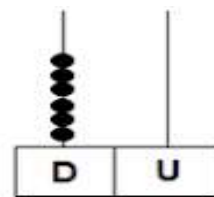
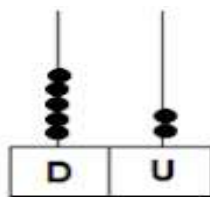
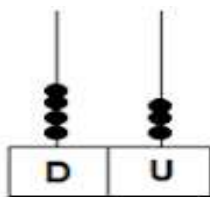


figura disponível em: <https://www.ahoradecolorir.com.br/>