



LINGUA PORTUGUESA 2º ANO

QUESTÃO 1: VOCÊ CONHECE ESSA PARLENDA? LEIA SOZINHO OU COM A AJUDA DE OUTRA PESSOA.

A CASINHA DA VOVÓ

A CASINHA DA VOVÓ
CERCADINHA DE CIPÓ
O CAFÉ ESTÁ DEMORANDO
COM CERTEZA NÃO TEM PÓ

PARLENDA POPULAR



- CIRCULE NO TEXTO ONDE ESTÁ ESCRITO O MOTIVO DA DEMORA DO CAFÉ.
- RESPONDA: A) DE QUEM É A CASINHA? _____
B) DE QUE A CASINHA É CERCADA? _____

QUESTÃO 2: VOCÊ JÁ DEVE TER ESCUTADO MUITAS HISTÓRIAS. O CEBOLINHA E A MÔNICA TAMBÉM. OBSERVE A TIRINHA ABAIXO.



IMAGEM ADAPTADA, DISPONÍVEL EM <https://www.google.com.br/search?q=tirinhas+da+turma+da+monica+para+colorir>

MARQUE UM X NO QUADRADINHO ONDE APARECE OS NOMES DAS HISTÓRIAS QUE ELES OUVIRAM.

- A) OS TRÊS PORQUINHOS - CHAPEUZINHO AMARELO
- B) O LOBO E OS SETE CABRITINHOS - CHAPEUZINHO VERMELHO
- C) OS TRÊS PORQUINHOS - CHAPEUZINHO VERMELHO



Turbine seu conhecimento

QUESTÃO 3. PROCURE NO CAÇA-PALAVRAS OS NOMES DOS PERSONAGENS DE ALGUMAS HISTÓRIAS.

D B E F T A V U I M N T K S N O A C P
 B R A N C A D E N E V E B G G C G Z I
 N U E M J P O N S Z W D F D N I D N N
 L X B U J P F H I G N D P A T N V E O
 N A V E Y P A L B N Q Y O M O D S S Q
 K I D Z O V N R E T I N P X V E J C U
 N J N T M D S E U N Y H D P U R A A I
 C H A P E U Z I N H O V E R M E L H O
 O X T U I N H K U E H Q K H W L N K J
 E C B N A O R W Q A E R M W C A I O X



PINÓQUIO BRANCA DE NEVE CHAPEUZINHO VERMELHO BRUXA CINDERELA

QUESTÃO 4. SERÁ QUE VOCÊ CONSEGUE RESOLVER ESSE DESAFIO?

ENUMERE A SEGUNDA COLUNA DE ACORDO COM A PRIMEIRA, DESCOBRINDO A QUE TÍTULO SE REFERE CADA TRECHO DA HISTÓRIA.

(1) BRANCA DE NEVE

()

O LOBO PERGUNTOU A MENINA:
- O QUE VOCÊ LEVA NESSA CESTINHA?

(2) OS TRÊS PORQUINHOS

()

ELA DEIXOU CAIR UM DOS SEUS
SAPATINHOS NA ESCADARIA DO CASTELO

(3) CHAPEUZINHO VERMELHO

()

O LOBO DISSE: - EU VOU SOPRAR, VOU
SOPRAR MUITO, E SUA CASA VOU
DERRUBAR...

(4) CINDERELA

()

-ESPELHO, ESPELHO MEU, EXISTE
ALGUÉM MAIS BELA DO QUE EU?



QUESTÃO 5. FAÇA UM X NO RETÂNGULO QUE MOSTRA ONDE ESTÁ ESCRITO O NOME DA BRINCADEIRA QUE AS CRIANÇAS ESTÃO PARTICIPANDO.



PULAR AMARELINHA

PULAR ELÁSTICO


PULAR CORDA

PULAR CARNIÇA

QUESTÃO 6 VOCÊ GOSTA DE TRAVA-LÍNGUAS? LEIA SOZINHO OU COM A AJUDA DE ALGUÉM.

**GATO ESCONDIDO
COM RABO DE FORA
TÁ MAIS ESCONDIDO
QUE RABO ESCONDIDO
COM GATO DE FORA.**

Disponível em <https://pt-br.facebook.com/travalinquas.br/posts/468255359934302>.



- CIRCULE NA PARLENDIA O NOME DO ANIMAL E PINTE DE AMARELO.
- QUANTAS VEZES APARECE NA PARLENDIA O NOME DO ANIMAL?
- AGORA, ENCONTRE NOMES DE ANIMAIS ESCONDIDOS NAS PALAVRAS ABAIXO.
- FAÇA COMO NO EXEMPLO: **OBRIGATÓRIO - GATO**

COBRAR _____

CONCURSO _____

BARATO _____

CARRAPATO _____

ESTOURO _____

BOIADA _____

RÉGUA _____



QUESTÃO 7 LEIA O TEXTO ABAIXO:

ORIGEM DA PETECA

VOCÊ SABIA QUE A PALAVRA “PETECA” VEM DE PÉTE KA, DE ORIGEM TUPI, E É O NOME DE UM BRINQUEDO FEITO PELOS INDÍGENAS COM PALHA SECA DE MILHO. O TUPI ERA A LÍNGUA FALADA EM TODO O LITORAL DO BRASIL DURANTE MUITO TEMPO, E INÚMERAS PALAVRAS FORAM INCORPORADAS AO PORTUGUÊS.

FONTE: <https://novaescola.org.br/conteudo/5637/brincadeiras-indigenas-na-escola-vamos-brincar-de-peteca> (texto adaptado)

DE ACORDO COM O TEXTO, RESPONDA A PERGUNTA ABAIXO:

QUAL É O MATERIAL UTILIZADO PELOS INDÍGENAS PARA PRODUZIR A PETECA?

QUESTÃO 8 ABAIXO, TEM OUTRAS PALAVRAS DE ORIGEM TUPI, VAMOS LIGÁ-LAS AOS DESENHOS?

JACARÉ

CANOA

CAJU

TATU





QUESTÃO 9. VAMOS PRODUZIR UM PETECA?

MATERIAIS NECESSÁRIOS:

1 SACOLA PLÁSTICA

1 TESOURA

1 FOLHA DE JORNAL OU 2 FOLHAS DE REVISTA

MODO DE FAZER:



CORTE AS ALÇAS, AS LATERAIS E O FUNDO DA SACOLA.



AMASSE O JORNAL OU REVISTA PARA FORMAR UMA BOLINHA.



COLOQUE A BOLINHA NO CENTRO DA SACOLA.



PRENDA AS PONTAS DA SACOLA, ENVOLVENDO A BOLINHA.



AMARRE A PETECA COM A ALÇA DA SACOLA, DANDO 2 VOLTAS.

AGORA É SÓ BRINCAR!



FONTE DESENHO:

<http://www.pintarcolorir.com.br/desenhos-para-colorir-peteca/desenhos-de-brinquedos-para-colorir-peteca/#main>

QUESTÃO 10. PENSE, DESENHE E REGISTRE OUTRAS PALAVRAS QUE COMECEM COM A MESMA SÍLABA DE PETECA:

PETECA





QUESTÃO 11. VAMOS BRINCAR DE PALAVRAS ESCONDIDAS?

ENCONTRE AS PALAVRAS ESCONDIDAS E PINTE DA COR QUE VOCÊ PREFERIR, OBSERVE A PISTA DO DESENHO ELA VAI TE AJUDAR.

S A P A T O

F I V E L A



--	--	--	--



--	--	--	--

L U V A



--	--	--

C A M A L E Ã O



--	--	--	--



--	--	--	--

QUESTÃO 12. QUE TAL BRINCARMOS DE ADIVINHAÇÃO? RESOLVA AS ADIVINHAS E PINTE A RESPOSTA CORRETA.

- SOU BRANQUINHA E BEM REDONDA VIVO NO CÉU À NOITE:

LUA

ESTRELA

SOL

- É UMA FRUTA VERMELHINHA E DOCE, COITADA DA BRANCA DE NEVE DORMIU QUANDO PROVOU DELA.

MAMÃO

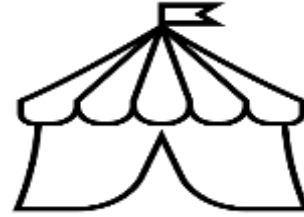
MELANCIA

MAÇÃ



QUESTÃO 13: COMPLETE AS FRASES COM AS PALAVRAS ABAIXO:

- A) A _____ DO PALHAÇO É ENGRAÇADA.
- B) O NOME DO PALHAÇO É _____.
- C) PAÇOCA FAZ PALHAÇADA NA _____.
- D) VOVÓ FEZ CAFÉ E COLOCOU _____.
- E) MEU TÊNIS TEM _____.
- F) O PAPAÍ GOSTA DE BEBER ÁGUA NA _____.
- G) TODA _____ - FEIRA PAÇOCA VAI À CIDADE.
- H) O PALHAÇO USA LENÇO NO _____.
- I) PAÇOCA AMA A _____.
- J) O PALHAÇO PAÇOCA MORA NA _____.



PESCOÇO	CALÇA	CRIANÇADA	TERÇA	PAÇOCA
TAÇA	CADARÇO	AÇUCAR	PRAÇA	ROÇA

QUESTÃO 14: VAMOS BRINCAR DE ADEDONHA? ESCREVA NO QUADRO ABAIXO SOZINHO OU COM AJUDA DE ALGUÉM NOMES DE PESSOA, ANIMAL E OBJETO QUE COMECEM COM AS LETRAS INDICADAS. VEJA O EXEMPLO:



LETRA	A	B	C	D
NOME	ANA			
ANIMAL	ARANHA			
OBJETO	ANEL			



QUESTÃO 15: VAMOS CANTAR?

EU VI UMA BARATA

EU VI UMA BARATA NA CARECA DO VOVÔ.


ASSIM QUE ELA ME VIU, BATEU ASAS E VOOU.

SEU JOAQUIM QUIRIM, QUIM,

DA PERNA TORTA TA, RA,TA,

DANÇANDO CONGA, RA, GA,

COM A MARICOTA, RA, TA.



VAMOS TROCAR A PALAVRA **BARATA** POR OUTROS ANIMAIS? EU JÁ COMECEI.

- A) EU VI UM PIOLHO NA CARECA DO VOVÔ.
- B) EU VI UM (A) _____ NA CARECA DO VOVÔ.
- C) EU VI UM (A) _____ NA CARECA DO VOVÔ.
- D) EU VI UM (A) _____ NA CARECA DO VOVÔ.

QUESTÃO 16: ALGUMAS PALAVRAS DA MÚSICA ESTÃO FORA DE ORDEM, VAMOS ORGANIZAR:

VOVÔ.	DO	NA	BARATA	EU	CARECA	VI	UMA
-------	----	----	--------	----	--------	----	-----

VOOU.	ME	VIU,	E	BATEU	QUE	ASSIM	ASAS	ELA
-------	----	------	---	-------	-----	-------	------	-----



CADERNO DE ATIVIDADES 3



Turbine seu conhecimento


QUESTÃO 17. VAMOS CANTAR?

CAPELINHA DE MELÃO
(DOMÍNIO PÚBLICO)


CAPELINHA DE MELÃO É DE SÃO JOÃO
É DE CRAVO, É DE ROSA, É DE MANJERICÃO
SÃO JOÃO ESTÁ DORMINDO
NÃO ACORDA, NÃO!
ACORDAI, ACORDAI, ACORDAI, JOÃO!

AGORA, PINTE AS PALAVRAS QUE RIMEM NA CANTIGA, LEMBRE-SE QUE PALAVRAS QUE RIMAM SÃO AQUELAS QUE TERMINAM COM O MESMO SONZINHO. EXEMPLO: GATO E PATO.

QUESTÃO 18 VAMOS PENSAR, DESENHAR E ESCREVER OUTRAS PALAVRAS QUE RIMEM COM AS PALAVRAS QUE VOCÊ ENCONTROU NA MÚSICA? VOU COMEÇAR PARA VOCÊ VER COMO É:



PÃO



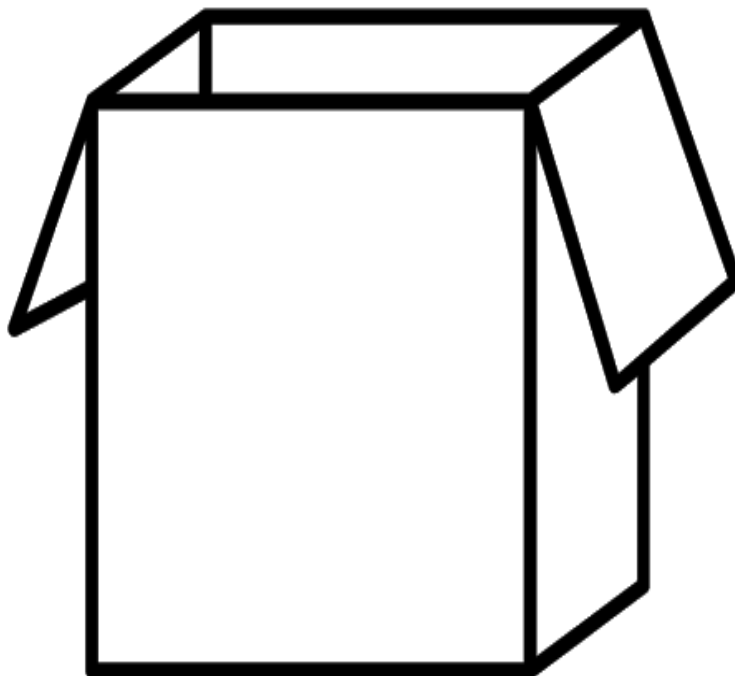


Turbine seu conhecimento

QUESTÃO 19. VAMOS AJUDAR MARIANA E GABRIEL A GUARDAR OS BRINQUEDOS NA CAIXA. LEIA SOZINHO OU COM AJUDA OS NOMES DAS PALAVRAS DO QUADRO E ESCREVA NA CAIXA SOMENTE O NOME DE BRINQUEDOS. VAMOS LÁ!



PIÃO	MELANCIA
LÁPIS	BONECA
CORDA	CADERNO
PIPA	MESA
IOIÔ	ROBÔ
JUJUBA	BOLA
PETECA	SKATE



QUESTÃO 20. OBSERVE AS PINTURAS DO ARTISTA IVAN CRUZ E ESCREVA O NOME DAS BRINCADEIRAS QUE ELA ILUSTRA. FAÇA SOZINHO OU PEÇA AJUDA A UM ADULTO.











MATEMÁTICA - 2º ANO

QUESTÃO 1 KIANDA E ADRIC FORAM A UMA FESTA DE ANIVERSÁRIO E PARTICIPARAM DE ALGUMAS BRINCADEIRAS. OBSERVE A CORRIDA DE SACOS.



1º - PRIMEIRO
2º - SEGUNDO
3º - TERCEIRO
4º - QUARTO
5º - QUINTO
6º - SEXTO

ESCREVA O NÚMERO EM CADA PLACA DE PREMIAÇÃO, DE ACORDO COM A ORDEM DE CHEGADA.



(Adaptado) WEY, Regina L da Motta; LIBERMAN, Manhúcia P..FAZENDO E COMPREENDENDO MATEMÁTICA. Solução

QUESTÃO 2 DEPOIS DE PREENCHER AS COLOCAÇÕES ACIMA, VAMOS RESPONDER AS QUESTÕES ABAIXO:

- QUEM FOI O VENCEDOR DA CORRIDA DE SACOS?
- QUAL FOI A COLOCAÇÃO DE KIANDA?:
- QUEM CHEGOU POR ÚLTIMO?



QUESTÃO 3: OBSERVE O CALENDÁRIO DO MÊS DE JULHO

DOMINGO	SEGUNDA	TERÇA	QUARTA	QUINTA	SEXTA	SÁBADO
			1			
		7				
	13					


- ✓ COMPLETE O CALENDÁRIO.
- ✓ PINTE DE AMARELO O ÚLTIMO DIA DO MÊS.
- ✓ QUAL A DATA DO PRIMEIRO DOMINGO DE JULHO? ○
- ✓ EM QUE DIA DA SEMANA SE INICIA O MÊS DE JULHO? ○
- ✓ QUANTAS SEMANAS TEM O MÊS DE JULHO? ○

○

○

○



QUESTÃO 4: VOCÊ JÁ FOI AO MERCADO OU A FEIRA ? OBSERVE OS PESOS DOS PRODUTOS ABAIXO.



QUANTO PESAM, **AO TODO** OS SACOS EM CADA BALANÇA?

ESCREVA O PESO NO VISOR INDICADO PELAS SETAS.

AGORA OBSERVE QUANTO FALTA PARA COMPLETAR O PESO INDICADO NO VISOR.



ESCREVA O NÚMERO QUE FALTA NO SACO PARA COMPLETAR O NÚMERO, SINALIZADO PELA SETA



Turbine seu conhecimento

QUESTÃO 5: VOCÊ GOSTA DE FAZER COMPRAS? OBSERVE OS PRODUTOS DA BOMBONIERE E PINTE AS MOEDAS QUE VOCÊ IRÁ UTILIZAR PARA COMPRAR.

BOMBONIERE DA TIA KELLY



3 PACOTES




2 PACOTES



AGORA, DESENHE AS MOEDAS QUE GASTARIA SE COMPRASSE UM PACOTE PARA CADA PESSOA DA SUA CASA.

QUESTÃO 6: VOCÊ JÁ OBSERVOU A LINHA DO TEMPO DA VIDA DE ALGUÉM?

NA LINHA DO TEMPO DE BERNARDO VOCÊ PODE IDENTIFICAR O ANO EM QUE ELE NASCEU.



1. EM QUE ANO BERNARDO NASCEU? _____
2. TAINÁ NASCEU UM ANO DEPOIS. EM QUE ANO ELA NASCEU? _____
3. BERNARDO ENTROU NA ESCOLA COM 4 ANOS. EM QUE ANO ELE ENTROU NA ESCOLA? _____
4. TAINÁ ENTROU NA ESCOLA UM ANO DEPOIS DE BERNARDO. EM QUE ANO ELA ENTROU NA ESCOLA? _____

AGORA, CONSTRUA A LINHA DO TEMPO DA SUA VIDA. PREENCHA MARCANDO O ANO QUE VOCÊ NASCEU E O ANO QUE ENTROU NA ESCOLA.



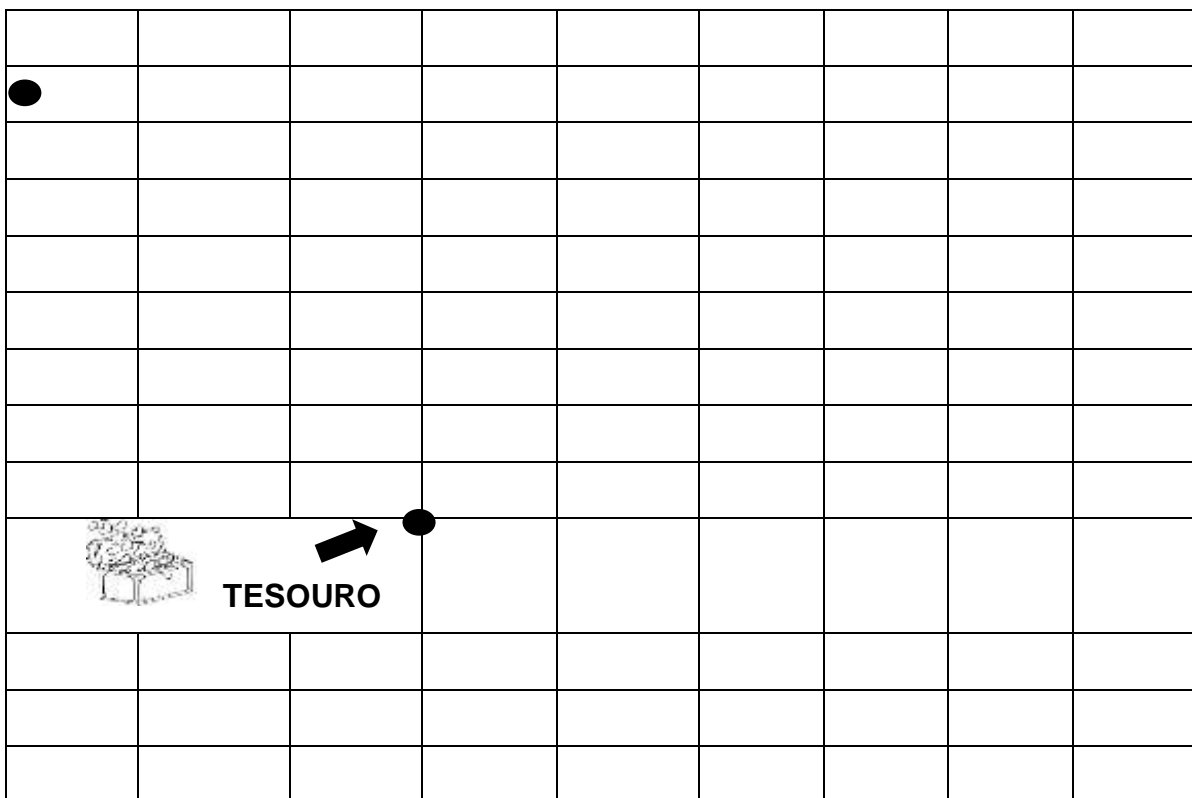


QUESTÃO 7.











VOCÊ JÁ PARTICIPOU DE UMA BRINCADEIRA CHAMADA CAÇA AO TESOURO? VOCÊ DEVE PERCORRER A MALHA, SEGUINDO AS INSTRUÇÕES.











➡ 2 PARA DIREITA ➡ 4 PARA BAIXO ➡ 5 PARA A DIREITA ➡ 2 PARA BAIXO
➡ 4 PARA A ESQUERDA ➡ 1 PARA BAIXO

SAÍDA



QUESTÃO 8. VAMOS DESCOBRIR OS NÚMEROS ESCONDIDOS? ESCREVA NO QUADRINHO AO LADO O NÚMERO QUE VOCÊ DESCOBRIU EM CADA IMAGEM.

1	2	3	4	
6		8		10
11	12		14	15
16	17	18	19	
21		23		25
26	27	28	29	
31	32		34	36
36	37	38	39	



QUESTÃO 9. OS AMIGOS JOÃO E PEDRO ADORAM BRINCAR DE BOLINHA DE GUDE:



JOÃO TEM 25 BOLINHAS DE GUDE E PEDRO TEM 15.

QUANTAS BOLAS DE GUDE TÊM OS DOIS AMIGOS? DESENHE A QUANTIDADE DE BOLAS NO QUADRO ABAIXO E ESCREVA O NUMERAL NA CAIXINHA PEQUENA:

--	--


QUESTÃO 10. QUANTAS BOLAS DE GUDE PEDRO TÊM A MENOS QUE JOÃO?

--	--



QUESTÃO 11. NA ESCOLA TERÁ UMA FESTA BEM ANIMADA, COM MUITAS BRINCADEIRAS E DANÇAS. PRECISAMOS ORGANIZAR OS PARES PARA A DANÇA QUE VAI ACONTECER:

CADA CARINHA REPRESENTA UMA CRIANÇA.



QUANTAS CRIANÇAS TÊM NA FESTA?

ESSE NÚMERO É PAR OU ÍMPAR?

QUANTOS PARES CONSEGUIMOS FORMAR?

QUESTÃO 12. PARA A FESTA DA ESCOLA VAMOS PRECISAR COMPRAR REFRIGERANTES. UMA GARRAFA DE REFRIGERANTE DE 1 LITRO SERVE 5 COPOS DE 200 ML.



NA FESTA TEREMOS 15 CRIANÇAS E CADA UMA VAI TOMAR 01 COPO DE REFRIGERANTE. QUANTAS GARAFAS VAMOS PRECISAR COMPRAR? PODE DESENHAR NO ESPAÇO ACIMA PARA ENCONTRAR A RESPOSTA.



CADERNO DE ATIVIDADES 3



Turbine seu conhecimento

QUESTÃO 13. VAMOS BRINCAR DE KUDODA?

O KUDOKA É UM JOGO DO ZIMBÁBUE, UM PAÍS QUE FICA LÁ NA ÁFRICA, ESSE JOGO É CONHECIDO POR CRIANÇAS DE DIFERENTES IDADES. PARA BRINCAR É MUITO FÁCIL! VAMOS LÁ?

MODO DE BRINCAR:

- SENTAR EM CÍRCULO.

- DESENHAR UM CÍRCULO NO MEIO E COLOCAR AS BOLAS DENTRO.

- CADA JOGADOR PEGA UMA BOLINHA E, NA SUA VEZ, A JOGA PARA CIMA, E ENQUANTO A BOLINHA NÃO CAI NOVAMENTE EM SUA MÃO, TENTA PEGAR O MÁXIMO DE BOLINHAS QUE TIVER DENTRO DO CÍRCULO.

OBSERVAÇÃO: VOCÊS PODEM FAZER VÁRIAS RODADAS.

- GANHA QUEM AO FINAL PEGAR MAIS BOLINHAS DENTRO DO CÍRCULO.

VOCÊ PODE UTILIZAR A TABELA ABAIXO PARA MARCAR OS PONTOS DURANTE CADA JOGADA:

PONTUAÇÃO JOGO KUDODA

NOMES PARTICIPANTES				
PONTOS				

FONTE: <https://coracaoafricano2532014.wordpress.com/2015/11/24/brincadeiras-tradicionais-africanas-parte-1/>
(ADAPTADA)

QUESTÃO 14. RESPONDA AS PERGUNTAS DE ACORDO COM A TABELA PREENCHIDA:



QUEM MARCOU MAIS PONTOS?

QUANTOS PONTOS FORAM MARCADOS NO TOTAL?



Turbine seu conhecimento

QUESTÃO 15. VOCÊS CONHECEM OS ANIMAIS QUE MORAM LÁ NA ÁFRICA? LÁ TEM MUITOS ANIMAIS, ABAIXO CONHEÇA MAIS SOBRE ALGUNS:

	
<p>NOME: LEÃO</p> <p>ALIMENTAÇÃO: ZEBRAS, JAVALIS, BÚFALO E HIENA</p> <p>PESO: 250 KG</p> <p>ALTURA: 1 METRO (EM MÉDIA)</p> <p>TEMPO DE VIDA: 15 ANOS</p> <p>QUANTIDADE DE FILHOTES POR GESTAÇÃO: 6</p>	<p>NOME: GIRAFA</p> <p>ALIMENTAÇÃO: FOLHAS DE ACÁCIA</p> <p>PESO: 1.000 KG</p> <p>ALTURA: 4 METROS (EM MÉDIA)</p> <p>TEMPO DE VIDA: 25 ANOS (EM MÉDIA)</p> <p>QUANTIDADE DE FILHOTES POR GESTAÇÃO: 1</p>
<p>FONTE: https://www.portaldosanimais.com.br/informacoes/caracteristicas-do-leao-africano/</p>	<p>FONTE: https://escolakids.uol.com.br/ciencias/girafas.htm (adaptada)</p>

VAMOS ORGANIZAR AS INFORMAÇÕES DOS ANIMAIS EM UMA TABELA?

CRIE UM TÍTULO PARA A TABELA _____

CARACTERÍSTICAS/ ANIMAIS	ALTURA	PESO	TEMPO DE VIDA	QUANTIDADE DE FILHOTES
LEÃO				
GIRAFA				

QUESTÃO 16. AGORA, VAMOS RESPONDER AS PERGUNTAS ABAIXO:

QUAL É O ANIMAL MAIS PESADO?

QUAL É O ANIMAL MAIS ALTO?

QUANTOS METROS A MAIS?

QUAL ANIMAL TEM O MAIOR TEMPO DE VIDA?

QUEM TEM MAIS FILHOTES?

QUANTOS FILHOTES A MAIS?



Turbine seu conhecimento

QUESTÃO 17. OBSERVE OS PRODUTOS QUE COMPRAMOS NO MERCADO:

<p>R\$ 3,50</p> 	<p>R\$ 1,50</p> 	<p>R\$ 4,50</p> 	<p>R\$ 1,40</p> 	<p>R\$ 3,60</p> 
<p>R\$ 6,50</p> 	<p>R\$ 3,50</p> 	<p>R\$ 2,70</p> 	<p>R\$ 1,80</p> 	<p>R\$ 4,90</p> 

AGORA RESPONDA:

- QUANTOS PRODUTOS ALIMENTÍCIOS FORAM COMPRADOS? _____
- QUANTOS PRODUTOS ALIMENTÍCIOS HÁ A MAIS QUE DE LIMPEZA? _____
- QUANTOS PRODUTOS LÍQUIDOS? _____

QUESTÃO 18. AINDA SOBRE OS PRODUTOS QUE COMPRAMOS NO MERCADO, ESCOLHA ALGUNS PARA RESPONDER ÀS QUESTÕES:

<p>USANDO ESTAS NOTAS, QUAIS PRODUTOS PODERÍAMOS COMPRAR?</p>		
		
		



QUESTÃO 19. RESOLVA AS OPERAÇÕES, COMPLETE COM OS NÚMEROS QUE FALTAM E RESOLVA A TRILHAS:

$1+3=$		$- 2$	$= 2$	$+7=$		$+5$	$= 14$
$10 +$		$=12$	$- 6$	$=$	$+1$	$+2$	$= 9$
$9-3=$		$+4=$		$+2=$		$-5=$	

QUESTÃO 20. OBSERVE AS CRIANÇAS BRINCANDO NA RODA E RESPONDA ÀS QUESTÕES:



1. QUANTAS CRIANÇAS ESTÃO BRINCANDO NA RODA? _____
2. QUANTAS CRIANÇAS ESTÃO ENTRE FELIPE E LETÍCIA? _____
3. QUANTAS MENINAS ESTÃO À DIREITA DE LETÍCIA, ATÉ CHEGAR EM PAULO? _____
4. QUANTOS MENINOS ESTÃO À ESQUERDA DE LUÍSA ATÉ CHEGAR EM PAULO? _____