

NOME: _____

ESCOLA: _____



SECRETARIA MUNICIPAL DE EDUCAÇÃO



CADERNO DE ATIVIDADES

2ª UNIDADE

Turbine seu conhecimento

Anos Iniciais – 2º Ano



LÍNGUA PORTUGUESA 2º ANO

QUESTÃO 1. (EF01LP19.2JAB)

COM AJUDA, LEIA E CIRCULE NA QUADRINHA AS PALAVRAS QUE TERMINAM COM O MESMO SOM FINAL (RIMAM).

BATATINHA QUANDO NASCE

ESPARRAMA PELO CHÃO

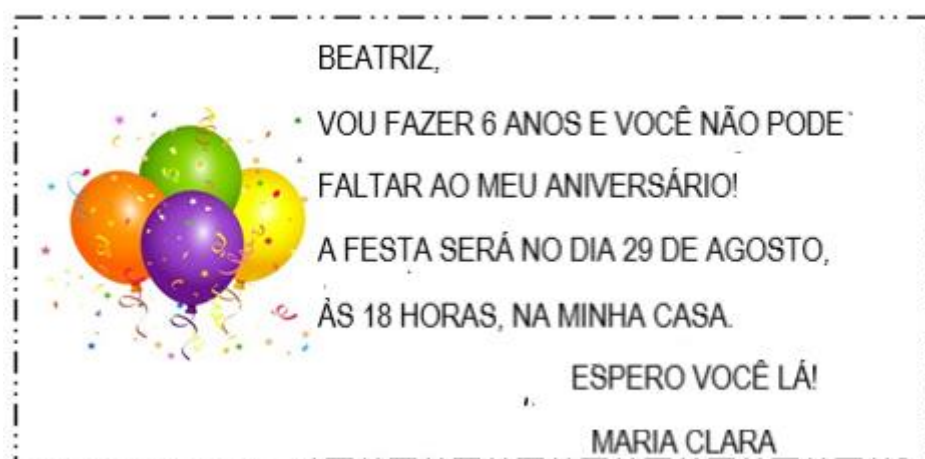
A MENINA QUANDO DORME

PÕE A MÃO NO CORAÇÃO

QUADRINHA POPULAR

QUESTÃO 2. (EF01LP16.1JAB)

LEIA O CONVITE COM A AJUDA DE UM ADULTO.



PINTE O NOME DA PESSOA QUE FOI CONVIDADA.

BRUNO



























BÁRBARA

BEATRIZ



QUESTÃO 3. EF01LP04.1JAB

ESCREVA A LETRA INICIAL DE CADA FIGURA E FORME O ALFABETO.

					
<input type="text"/>	<input type="text"/>	<input type="text"/>	<input type="text"/>	<input type="text"/>	<input type="text"/>
					
<input type="text"/>	<input type="text"/>	<input type="text"/>	<input type="text"/>	<input type="text"/>	<input type="text"/>
					
<input type="text"/>	<input type="text"/>	<input type="text"/>	<input type="text"/>	<input type="text"/>	<input type="text"/>
					
<input type="text"/>	<input type="text"/>	<input type="text"/>	<input type="text"/>	<input type="text"/>	<input type="text"/>
					
<input type="text"/>	<input type="text"/>				

QUESTÃO 4. (EF02LP02.3JAB)

VOCÊ GOSTA DE DESAFIOS? QUE TAL MUDAR AS LETRAS INICIAIS E FORMAR NOVAS PALAVRAS?

BOLA	MATA	FACA	GATO
<input type="text"/>	<input type="text"/>	<input type="text"/>	<input type="text"/>
<input type="text"/>	<input type="text"/>	<input type="text"/>	<input type="text"/>
<input type="text"/>	<input type="text"/>	<input type="text"/>	<input type="text"/>



QUESTÃO 5. (EF02LP02.2JAB)

OBSERVE OS NOMES DAS FRUTAS, TENDE ENCONTRAR NOVAS PALAVRAS E ESCREVA CONFORME O EXEMPLO.

BANANA	ANA
CARAMBOLAS	
AMORA	
JABUTICABA	
GRAVIOLA	
MARMELO	

QUESTÃO 6. (EF02LP04.1JAB)

NA MATA EXISTEM MUITOS ANIMAIS. COMPLETE OS NOMES DOS ANIMAIS USANDO AS VOGAIS CORRETAS:



L _ _ _ _



E _ _ L _ _ F _ _ NT _ _



PR _ _ G _ _ _ Ç _ _



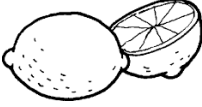



R _ _ P _ _ S _ _



QUESTÃO 7. (EF01LP02.1JAB)


AS FRUTAS FAZEM PARTE DE UMA ALIMENTAÇÃO SAUDÁVEL E NUTRITIVA.

PINTE, ABAIXO DE CADA FRUTA, O NOME DE CADA UMA.

			
LARANJA	ACEROLA	CAQUI	MANGA
LICHIA	ABACAXI	CARAMBOLA	MORANGO
LIMÃO	ABACATE	CAJU	MARACUJÁ

QUESTÃO 8. (EF01LP19.2JAB)

COM A AJUDA DA MAMÃE, LEIA E CANTE A CANÇÃO ABAIXO, E COMPLETE COM A PALAVRA QUE RIMA:



A CANOA VIROU
POIS DEIXARAM ELA VIRAR
FOI POR CAUSA DE MARIA
QUE NÃO SOUBE REMAR

SE EU FOSSE UM PEIXINHO
E SOUBESSE NADAR
EU TIRAVA MARIA
DO FUNDO DO _____






TURBINE + AINDA

QUESTÃO 9. (EF01LP02.1JAB) – DESAFIO – LÍNGUA PORTUGUESA
ESCREVA SEU PRIMEIRO NOME E CIRCULE A LETRA INICIAL.

AGORA, ESCREVA O NOME DE ALGUÉM QUE COMEÇA COM A LETRA IGUAL A DO SEU NOME.

QUESTÃO 10. (EF01CI02.1JAB) – DESAFIO - CIÊNCIAS

FAÇA O DESENHO DO CORPO HUMANO E IDENTIFIQUE SUAS PARTES, ESCRIVENDO OS NOMES.





MATEMÁTICA 2º ANO

QUESTÃO 1. (EF01MA04.1JAB)

OBSERVE A SEQUÊNCIA E COMPLETE COM OS NÚMEROS QUE FALTAM

1		3	4	5
6	7		9	
	12	13		15
16		18	19	
	22			25

Repita a sequência numérica no espaço abaixo:

QUESTÃO 2. (EF01MA14.3JAB)

OBSERVE AS IMAGENS E PINTE A FIGURA GEOMÉTRICA PLANA QUE ELA SE PARECE.

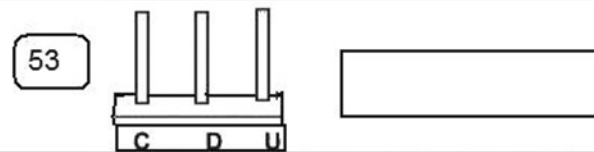
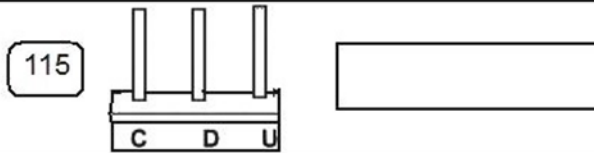
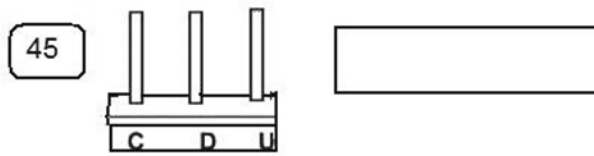
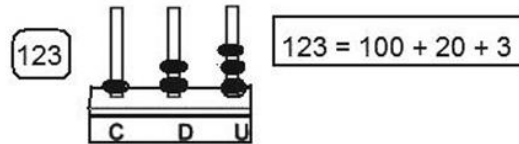
IMAGENS	FIGURAS GEOMÉTRICAS
I 	
II 	
III 	
IV 	



QUESTÃO 3. (EF02MA01.2JAB)

COMPONHA OS NÚMEROS ABAIXO, OBSERVE O EXEMPLO E FAÇA O MESMO COM OS NÚMEROS 45, 115 E 53:

No ábaco de pinos representamos o numeral 123 assim:



www.ensinar-aprender.com.br

QUESTÃO 4. (EF02MA05.1JAB)

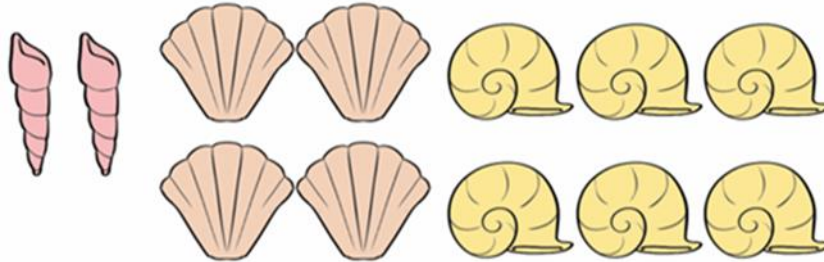
RESOLVA AS OPERAÇÕES DE ADIÇÃO.

DEZENA	UNIDADE	DEZENA	UNIDADE	DEZENA	UNIDADE	DEZENA	UNIDADE	DEZENA	UNIDADE
2	5	6	2	5	7	3	8	4	1
+2	3	+1	4	+4	2	+2	1	+1	7
DEZENA	UNIDADE	DEZENA	UNIDADE	DEZENA	UNIDADE	DEZENA	UNIDADE	DEZENA	UNIDADE
5	1	7	8	8	3	1	5	2	6
+3	8	+1	1	+1	4	+1	3	+2	3



QUESTÃO 5. (EF01MA04.1JAB)

MARIANA FOI A PRAIA E PEGOU VÁRIAS CONCHINHAS. OBSERVE A IMAGEM E RESPONDA.



QUANTAS CONCHINHAS MARIANA PEGOU?

- (A) 3
- (B) 6
- (C) 10
- (D) 12

QUESTÃO 6. (EF01MA17.2JAB)

OS DIAS DA SEMANA SERVEM PARA MEDIR O TEMPO. OBSERVE A SEQUÊNCIA DELES E DEPOIS RESPONDA, MARCANDO UM X NA ALTERNATIVA CORRETA:



- I. QUANTOS DIAS TEMOS EM UMA SEMANA?
(A) OITO DIAS (B) SETE DIAS (C) CINCO DIAS
- II. QUAL O PRIMEIRO DIA DA SEMANA?
(A) DOMINGO (B) SEGUNDA-FEIRA (C) SÁBADO
- III. SE ONTEM FOI TERÇA-FEIRA, HOJE É QUE DIA?
(A) SEXTA-FEIRA (B) DOMINGO (C) QUARTA-FEIRA
- IV. PINTE O DIA DA SEMANA EM QUE ESTAMOS.



QUESTÃO 7. (EF01MA08.2JAB)

RESOLVA OS PROBLEMAS DE ADIÇÃO E SUBTRAÇÃO:

A) MARIA FEZ 8 BRIGADEIROS E 5 BEIJINHOS. QUANTOS DOCINHOS ELA FEZ?

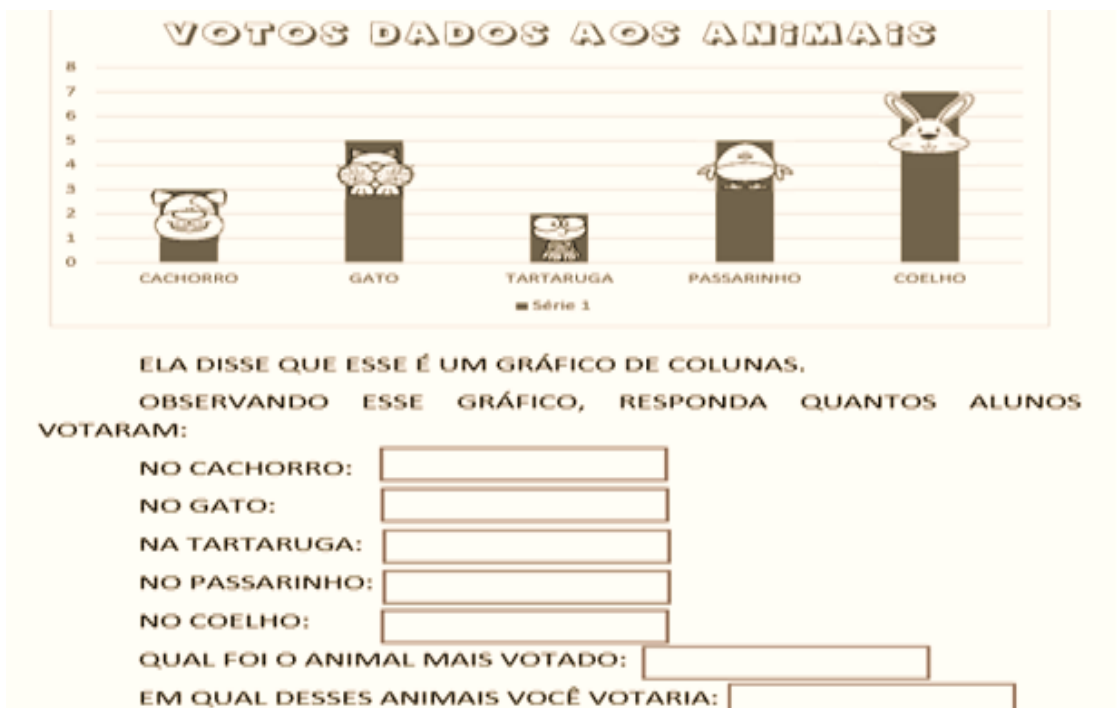
		<p>_____ + _____ = _____</p> <p>RESPOSTA: ELA FEZ _____</p> <p>DOCINHOS.</p>
--	--	--

B) MIGUEL TEM 9 BRINQUEDOS NA PRATELEIRA, MAMÃE O DEIXOU BRINCAR SOMENTE COM 5 BRINQUEDOS. QUANTOS BRINQUEDOS FICARAM NA PRATELEIRA?

	<p>_____ - _____ = _____</p> <p>RESPOSTA: FICARAM NA PRATELEIRA _____ BRINQUEDOS.</p>
--	---

QUESTÃO 8. (EF01MA02.3JAB)

A PROFESSORA JOANA REALIZOU UMA PESQUISA SOBRE OS ANIMAIS PREFERIDOS DA TURMA E CLASSIFICOU OS RESULTADOS NUM GRÁFICO. OBSERVE:.






TURBINE + AINDA

QUESTÃO 9. (EF01HI01.5JAB) – DESAFIO - HISTÓRIA

COM AJUDA DE UM RESPONSÁVEL, DESCUBRA E ESCREVA QUEM ESCOLHEU SEU NOME.

AGORA REPRESENTE EM DESENHO O SIGNIFICADO DO SEU NOME.



QUESTÃO 10. (EF02GE02.3JAB) – DESAFIO - GEOGRAFIA

DESENHO UMA BRINCADEIRA, RECEITA, JOGO, HISTÓRIA OU MÚSICA APRENDIDA EM FAMÍLIA, DEPOIS RELATE PARA ALGUÉM.

