



LÍNGUA PORTUGUESA MÓDULO III

QUESTÃO 1. (EJAMODIIILP09.1) LEIA O TEXTO E RESPONDA.



ANTES DE SENTIR FALTA, CUIDE PARA QUE NÃO FALTE.

Faça sua parte para que seus filhos e netos tenham o prazer de um banho revigorante e a alegria de saciar a sede. Menos de 1% da água do planeta é adequada para o consumo. Com um pingo de consciência, evitamos o desperdício e preservamos a vida.

22 de março - Dia Mundial da Água

GRUPO IZOTON

<https://br.pinterest.co>

O TEXTO É:

- (A) UM ANÚNCIO PUBLICITÁRIO.
- (B) UMA CARTA.
- (C) UMA PIADA.
- (D) UM POEMA

QUESTÃO 2. (EJAMODI-IIILP14.1JAB) LEIA A TIRINHA E RESPONDA.



(Laerte. Suriá, a garota do circo. São Paulo: Devir/Jacarandá, 2000.)

A EXPRESSÃO DO ROSTO DO MÉDICO NO ÚLTIMO QUADRINHO DEMONSTRA:

- (A) RAIVA.
- (B) TRISTEZA.
- (C) INDIGNAÇÃO.
- (D) ESPANTO.



QUESTÃO 3. (EJAMODIILP09.3JAB) LEIA OS TEXTOS E MARQUE A ALTERNATIVA CORRETA.

TEXTO 1



TEXTO 2

*Lu,
Precisei sair e não pude
esperar que acordasse.
Fui levar sua avó ao
médico. Tome seu café e
arrume seu quarto.*

OS TEXTOS 1 E 2 SÃO, RESPECTIVAMENTE

- A) CARTA E POESIA.
- B) CONVITE E BILHETE.
- C) POEMA E NOTÍCIA.
- D) RECEITA E POEMA.

QUESTÃO 4. (EJAMODIILP28.1JAB) LEIA AS PALAVRAS ABAIXO E OBSERVE O QUE ELAS TÊM EM COMUM. EM SEGUIDA COMPLETE AS PALAVRAS DO QUADRO COM AS LETRAS **M** OU **N**.

BOMBEIRO	LAMPIÃO
BOMBA	TEMPORAL
BOMBOM	EMPADA
SAMBA	LIMPEZA
LEMBRANÇA	TAMPA

ANTES DE **P** E **B** SEMPRE SE ESCREVE **M**.

BRA ____ CO	CO ____ PRA
SO ____ BRA	LA ____ ÇA
LE ____ ÇO	TE ____ PERO
Í ____ PAR	SA ____ TO
BA ____ DA	CA ____ PEÃO
TRO ____ BA	SA ____ GUE
CA ____ TO	E ____ PREGO
TA ____ PA	LE ____ DA
LI ____ PEZA	LE ____ BRANÇA
CRIA ____ ÇA	SEME ____ TE



QUESTÃO 5. (EJAMODI-IIIILP14.1JAB) LEIA A CHARGE E MARQUE A ALTERNATIVA CORRETA.



Adaptado: Um Giro pela Aprendizagem. Editora Brasil Cultural.

A PRINCIPAL CRÍTICA DESSA CHARGE, É:

- (A) O DIA MUNDIAL DA ÁGUA.
- (B) O VIZINHO CHATO.
- (C) O DESPERDÍCIO DA ÁGUA.
- (D) O HOMEM FUMANDO.

QUESTÃO 6. (EJAMODIIILP6.2JAB) COMPLETE AS FRASES COM OS VERBOS DE ACORDO COM AS AÇÕES. SIGA O EXEMPLO DA LETRA A.

- A- A COSTUREIRA COSTURA
- B- O PINTOR _____
- C- A DANÇARINA _____
- D- O CACHORRO _____
- E- O PROFESSOR _____
- F- O CANTOR _____



QUESTÃO 7. (EJAMODIILP46.1JAB) LEIA OS TEXTOS ABAIXO E CIRCULE O QUE REPRESENTA UM CONVITE.



QUESTÃO 8. (EJAMODIILP45.2JAB) ESCREVA UM CONVITE DE ANIVERSÁRIO, PARA UMA AMIGA OU UM AMIGO.

CONVITE


DATA: _____ HORÁRIO: _____

LOCAL: _____




MATEMÁTICA MÓDULO III

QUESTÃO 1. (EJAMODIIMA08.1JAB) MARCOS DIVIDIU IGUALMENTE 12 FLORES EM TRÊS VASOS. FAÇA UM X NO QUADRADINHO QUE MOSTRA COM QUANTAS FLORES FICOU CADA VASO.



- (A) 4 FLORES.
- (B) 3 FLORES.
- (C) 5 FLORES.
- (D) 6 FLORES.

QUESTÃO 2. (EJAMODIIMA19.1JAB) MARÍLIA, GABRIEL E JOYCE MEDIRAM UM CLIPE, MAS CADA UM DELES ENCONTROU UM RESULTADO DIFERENTE. FAÇA UM X NO QUADRADINHO QUE MOSTRA O NOME DE QUEM MEDIU CORRETAMENTE O OBJETO.



MARÍLIA GABRIEL JOYCE

NENHUM DELES MEDIU CORRETAMENTE.



QUESTÃO 3. (EJAMODIIMA08.1JAB) MARCOS TEM 4 CACHORROS. ELE DÁ UM OSSO PARA CADA UM TODAS AS SEMANAS. FAÇA UM X NO QUADRADINHO QUE MOSTRA QUANTOS OSSOS MARCOS DEU AOS SEUS CACHORROS EM 4 SEMANAS.

- (A) 4 OSSOS.
- (B) 8 OSSOS.
- (C) 12 OSSOS.
- (D) 16 OSSOS.

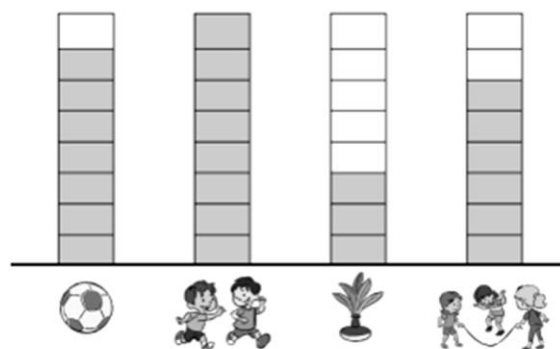
Fonte: <https://cdn.editorasaraiva.com.br>

QUESTÃO 4. (EJAMODIIMA24.1JAB) TODOS OS ALUNOS DA TURMA DE ALEXANDRE PARTICIPARAM DE UMA PESQUISA SOBRE AS BRINCADEIRAS DO RECREIO. ELES RESPONDERAM À SEGUINTE PERGUNTA:

QUAL É A SUA BRINCADEIRA FAVORITA NO RECREIO?

PARA TERMINAR, OS ALUNOS FIZERAM UM GRÁFICO. ATENÇÃO! CADA RETÂNGULO CORRESPONDE A UM VOTO.

FAÇA UM X NA CAIXINHA QUE MOSTRA QUAL É A BRINCADEIRA FAVORITA DA TURMA.



a) CORRER

b) JOGAR BOLA

c) JOGAR PETECA

d) PULAR CORDA

<https://cdn.editorasaraiva.com.br>



QUESTÃO 5. (EJAMODIIMA24.2JAB) ESCREVA COMO SE LÊ OS VALORES ABAIXO:



QUESTÃO 6. (EJAMODIIMA22.9JAB) RESOLVA:

A) JOANA CHEGOU AO CONSULTÓRIO DE SEU DENTISTA 15 MINUTOS ANTES DO HORÁRIO MARCADO. SE O RELÓGIO DA RECEPÇÃO MARCAVA **9h35min**. QUAL ERA O HORÁRIO DA CONSULTA DE JOANA?

(A) 9h20min. (B) 9h50min. (C) 9h45min.

B) MAMÃE SAIU PARA IR AO MERCADO AS 16h15min. DEPOIS DE 1h30min ELA VOLTOU. QUE HORAS ELA CHEGOU EM CASA?

(A) 17h40min. (B) 17h25min. (C) 17h45min.



QUESTÃO 7. (EJAMODIIMA06.1JAB) SEU ANTÔNIO TEM UMA BARRACA DE CACHORRO QUENTE. VEJA ALGUNS PRODUTOS COMPRADOS POR ELE:



1 kg = R\$ 6,00



1 kg = R\$ 3,00



1 kg = R\$ 4,00

(A) QUAL É O PRODUTO MAIS CARO?

(B) QUAL É O PRODUTO MAIS BARATO?

(C) QUE PRODUTOS PODEMOS COMPRAR, GASTANDO EXATAMENTE R\$ 10,00? _____

(D)

QUESTÃO 8. (EJAMODIIMA27.4JAB) OBSERVE, NA TABELA ABAIXO, OS PREÇOS DE ALGUNS MODELOS DE AUTOMÓVEIS E RESPONDA:

MODELO	PREÇO (EM REAIS)	CONSUMO (EM LITROS)
A	18.613,00	8
B	21.584,00	7
C	27.006,00	12
D	19.508,00	10
E	36.227,00	19


(A) O MODELO MAIS CARO É O DE MENOR CONSUMO?

(B) O MODELO MAIS BARATO É O DE MAIOR CONSUMO?

(C) ORDENE OS MODELOS DE AUTOMÓVEIS EM ORDEM CRESCENTE DE PREÇOS.



QUESTÃO 9. (EJAMODIIMA12.2JAB) OBSERVE A FILA ABAIXO E RESPONDA CORRETAMENTE:



(A) SE JOÃO É O PRIMEIRO DA FILA, QUEM ESTÁ NO 5º LUGAR? _____

(B) SE EDITH É A SEGUNDA DA FILA, QUAL A POSIÇÃO DE REGINA? _____

(C) QUEM ESTÁ NA FILA ANTES DE LAURO?



TURBINE + AINDA

QUESTÃO 10.

(EJAMODIIHI01.2JAB)

CONSTRUA A SUA LINHA DO TEMPO, RELATANDO OS PRINCIPAIS ACONTECIMENTOS DA SUA VIDA.