




Turbine seu conhecimento

## LÍNGUA PORTUGUESA MÓDULO I

**QUESTÃO 1.** (EJAMODILP16.3JAB) LEIA O TEXTO ABAIXO.



SOUZA, Maurício de. Bidu. Rio de Janeiro: Globo, n° 23, 1999.  
p. 162

O MENINO FICOU CHATEADO PORQUE O CACHORRINHO

- (A) ESTRAGOU O JORNAL
- (B) NÃO LHE DEU O JORNAL
- (C) QUIS RASGAR O JORNAL
- (D) AMASSOU O JORNAL





**QUESTÃO 2.** (EJAMODILP06.1JAB) SEPRE AS SÍLABAS DAS PALAVRAS ABAIXO:



Turbine seu conhecimento

PANELA			
FORMIGA			
PIPOCA			
BONECA			
CAVALO			
CANECA			


**QUESTÃO 3.** (EJAMODILP05.4JAB) COMPLETE AS PALAVRAS COM OS SONS/ SÍLABAS QUE ESTÃO FALTANDO. (INICIAL, MEDIAL OU FINAL).

A) 	___NANA
B) 	U___
C) 	ABA___TE
D) 	___RANJA


**QUESTÃO 4.** (EJAMODILP05.6JAB) OBSERVE A IMAGEM E PRONUNCIE ORALMENTE A PALAVRA. EM SEGUIDA COMPLETE.



Turbine seu conhecimento



\_\_\_EL\_\_\_



\_\_\_E\_\_\_ÓGI\_\_\_



\_\_\_AR\_\_\_E\_\_\_O



V\_\_\_SS\_\_\_U\_\_\_A

**QUESTÃO 5.** (EJAMODILP05.JAB) ESCREVA SEU NOME COMPLETO:

\_\_\_\_\_

A) QUAL A **PRIMEIRA LETRA** DO SEU PRIMEIRO NOME? \_\_\_\_\_

B) ESCREVA 5 PALAVRAS QUE INICIEM COM A **PRIMEIRA LETRA DO SEU NOME.**

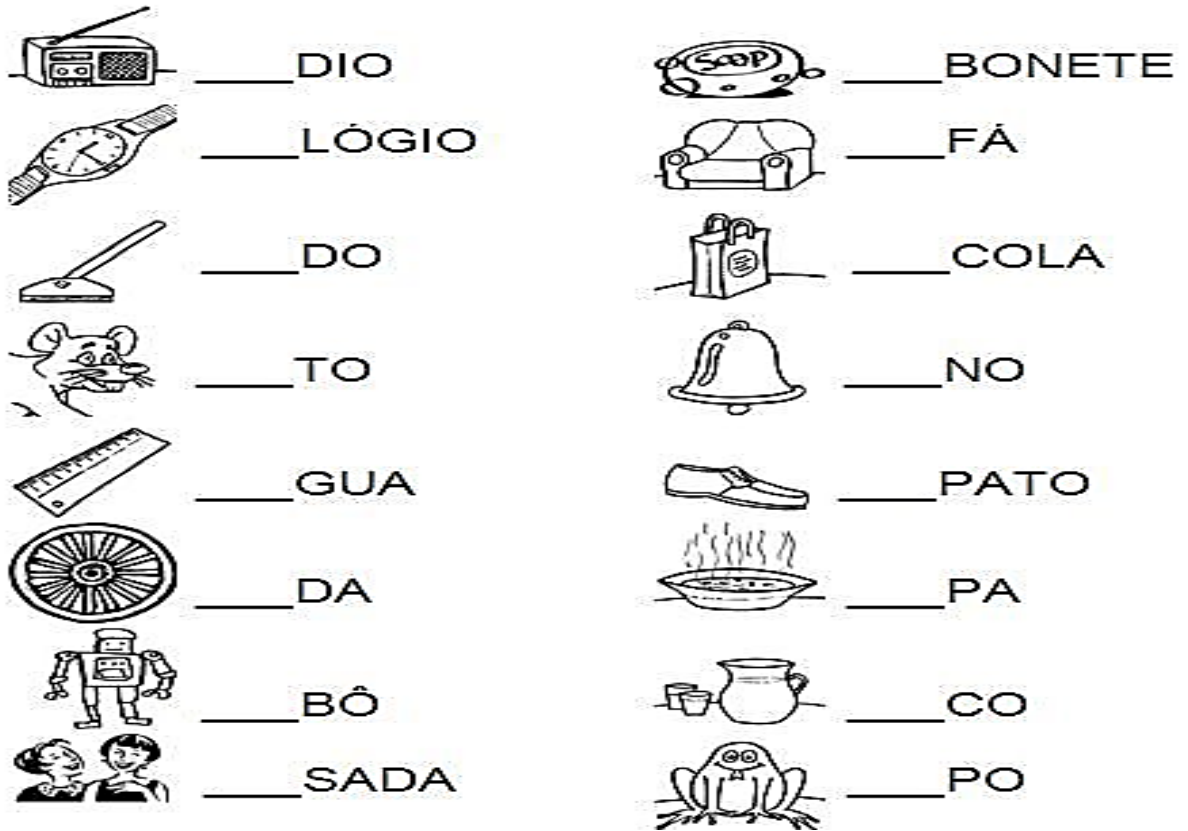
\_\_\_\_\_

\_\_\_\_\_

**QUESTÃO 6.** (EJAMODILP054JAB) COMPLETE AS PALAVRAS COM A PRIMEIRA SÍLABA.



Turbine seu conhecimento



<https://br.pinterest.com/pin/695665473660611848/>

**QUESTÃO 7.** LEIA O POEMA ABAIXO:

### A flor amarela

Olha  
a janela  
da bela  
Arabela

Que flor  
é aquela  
que Arabela  
molha?

É uma flor amarela.

Autora: Ceclia Meireles





Turbine seu conhecimento

[http://3.bp.blogspot.com/-b\\_EltqqVQ6c/VbV3IPbT\\_4/AAAAAAAAAChc/obJED3LiUCs/s1600/poesia.jpg](http://3.bp.blogspot.com/-b_EltqqVQ6c/VbV3IPbT_4/AAAAAAAAAChc/obJED3LiUCs/s1600/poesia.jpg)

PROCURE NO TEXTO PALAVRAS QUE RIMEM COM **ARABELA** E ESCREVA NOS ESPAÇOS ABAIXO:

\_\_\_\_\_

**QUESTÃO 8. (EJAMODILP056JAB)** OBSERVE A PALAVRA A SEGUIR E PINTE SUA PRIMEIRA LETRA:

ARABELA

**QUESTÃO 9. (EJAMODILP05.1JAB)** AGORA, TROQUE A 1ª LETRA DA PALAVRA POR **C** E **P** E COPIE ABAIXO. NÃO ESQUEÇA DE LER E PINTAR A LETRA INICIAL:

**JANELA**

\_\_\_\_\_



Turbine seu conhecimento

**QUESTÃO 10.** (EJAMODILP02.1JAB) ESCREVA OS NOMES DAS FIGURAS.



\_\_\_\_\_



\_\_\_\_\_



\_\_\_\_\_



\_\_\_\_\_

## **MATEMÁTICA MÓDULO I**

**QUESTÃO 1.** (EJAMODIMA01.1JAB) RESPONDA AS QUESTÕES ABAIXO  
ESCREVENDO OS NÚMEROS DE SUA VIDA



Turbine seu conhecimento

A) IDADE = \_\_\_\_\_

B) DATA DE NASCIMENTO = \_\_\_\_\_

C) NÚMERO DO ENDEREÇO = \_\_\_\_\_

D) QUANTIDADE DE FILHOS = \_\_\_\_\_

E) QUANTOS LOCAIS QUE VOCÊ TRABALHOU = \_\_\_\_\_

F) TELEFONE = \_\_\_\_\_

G) NÚMERO DO ÔNIBUS QUE VOCÊ UTILIZA = \_\_\_\_\_

H) QUANTIDADE DE IRMÃOS = \_\_\_\_\_

I) SEU PESO = \_\_\_\_\_

J) PESSOAS QUE MORAM EM SUA CASA = \_\_\_\_\_

<https://sites.google.com/site/diariodaprofaglauce/2o-anos>

**QUESTÃO 2. (EJAMODIMA08.1JAB)** PEDRO COMPROU 1 SACO DE CIMENTO POR R\$ 29,00 E 1 METRO DE AREIA POR R\$ 60,00. ELE PAGOU R\$ 89,00 PELOS MATERIAS. PARA CHEGAR A ESSE RESULTADO PEDRO REALIZOU QUAL OPERAÇÃO?

( A ) SUBTRAÇÃO      ( B ) ADIÇÃO

( C ) MULTIPLICAÇÃO      ( D ) DIVISÃO

**QUESTÃO 3. (EJAMODIMA09.1JAB)** COMPLETE COM OS NÚMEROS QUE FALTAM.



Turbine seu conhecimento

	2	3				7			
				15				19	
		23							30
					36				
41							48		
			54			57			
	62							69	
				75					80
81		83							
			94			97			100

<https://br.pinterest.com/>

**QUESTÃO 4. (EJAMODIMA19.3JAB)** NO CARTAZ DE UMA FESTA JUNINA ESTÁ A LISTA DE PREÇOS DE ALGUMAS COMIDAS PARA SEREM VENDIDAS. OBSERVANDO OS PREÇOS PODEMOS DIZER QUE A COMIDA MAIS CARA É?

*Festa*  
**Junina**



CANJICA R\$2,50



MILHO R\$2,00



CACHORRO-QUENTE R\$3,00



PIPOCA R\$1,00

- (A) A CANJICA
- (B) A PIPOCA
- (C) O CACHORRO-QUENTE





Turbine seu conhecimento

(D) O MILHO


**QUESTÃO 5.** (EJAMODIMA10.3JAB) COMPLETE AS SEQUÊNCIAS COM OS NÚMEROS QUE ESTÃO FALTANDO, DESCOBRINDO A REGRA.

A) 10, \_\_\_\_\_, \_\_\_\_\_, 40, \_\_\_\_\_, \_\_\_\_\_, 70

B) 12, 24, \_\_\_\_\_, \_\_\_\_\_, 60, \_\_\_\_\_, \_\_\_\_\_

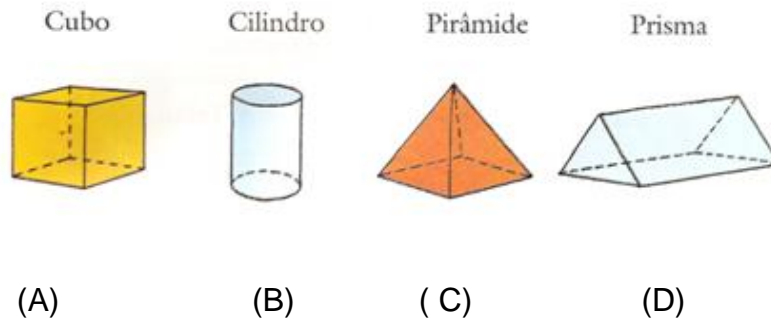
C) 5, \_\_\_\_\_, \_\_\_\_\_, 20, \_\_\_\_\_, \_\_\_\_\_, 35

**QUESTÃO 6.** (EJAMODIMA14.6JAB) A IMAGEM ABAIXO É UMA PLANIFICAÇÃO DE UM SÓLIDO GEOMÉTRICO. OBSERVE E MARQUE CORRETAMENTE QUAL SÓLIDO REPRESENTA.









Turbine seu conhecimento



<https://professordiminoi.com.br/planificacao-de-solidos-geometricos>

**QUESTÃO 7. (EJAMODIMA16.3JAB)** MARQUE NOS RELÓGIOS ABAIXO OS HORÁRIOS QUE FAZEM PARTE DE SUA ROTINA.



ACORDA

SAI PARA TRABALHAR

ALMOÇA


VAI DORMIR

**QUESTÃO 8 (EJAMODIMA15.3JAB)** OBSERVE AS GRAVURAS SUGERIDAS E ESCREVA O QUE PODEMOS COMPRAR POR:



Turbine seu conhecimento

Para medir o "peso" usamos o **quilo**.  
Circule os objetos que são vendidos por **quilo**.



METRO

QUILO

LITRO

---

---

---

---

---



---

---

---

---

---



---

---

---

---

---

<https://www.soescola.com/2016/12/nocoas-de-medidas-atividades-para-imprimir.html>

**QUESTÃO 9. (EJAMODIMA19.3JAB)** DONA JOANA FOI AO MERCADO COM UMA CÉDULA DE R\$50,00 E COMPROU OS ALIMENTOS ABAIXO. OBSERVE A TABELA COM OS ALIMENTOS E VALORES DAS COMPRAS DE DONA JOANA.



A) QUANTO ELA GASTOU?

- ( ) R\$ 27,50
- ( ) R\$ 27,30
- ( ) R\$ 27,40

B) QUANTO RESTOU PARA DONA JOANA?

- ( ) R\$ 22,62
- ( ) R\$ 22,70
- ( ) R\$ 22,65

ALIMENTOS	VALORES
LEITE	R\$ 5,40
FEIJÃO	R\$ 7,90
ARROZ	R\$ 4,60
CAFÉ	R\$ 4,50
BOLACHA	R\$ 3,20
MARGARINA	R\$ 1,70



# CADERNO DE ATIVIDADES



Turbine seu conhecimento



## TURBINE + AINDA

### QUESTÃO 10.

(EJAMODIHI03.2JAB)

QUAIS ESPAÇOS DE CONVIVÊNCIAS EXISTEM NA SUA COMUNIDADE PARA DISCUSSÃO E PROTEÇÃO DE DIREITOS?