

NOME: _____

ESCOLA _____



SECRETARIA MUNICIPAL DE EDUCAÇÃO



CADERNO DE ATIVIDADES

2ª UNIDADE

Turbine seu conhecimento

Anos Iniciais – 3º Ano



LÍNGUA PORTUGUESA 3º ANO

QUESTÃO 1 - (EF03LP02.3JAB)

Faça um X na alternativa que mostra onde está escrito o nome que termina com o mesmo som de **Tatiana**.

- (A) Humberto
- (B) Juliana
- (C) Manuel
- (D) Patrícia

QUESTÃO 2 – (EFO1LPO4JAB)

Marque um X na opção que possui apenas consoantes:

- (A) SLPO
- (B) GXLC
- (C) ETUY
- (D) ARTK



QUESTÃO 3 - (EF03LPO5.1JAB)

Observe a figura abaixo.



Agora, marque a alternativa que tem a primeira sílaba do nome da figura.

- (A) CA
- (B) FA
- (C) FU
- (D) MA

QUESTÃO 4. - (EF03LP05.3JAB)

Escreva o nome dos brinquedos no diagrama:




Diagrama de palavras cruzadas com as seguintes pistas:

- 1 (vertical): 6 letras
- 2 (vertical): 3 letras
- 3 (vertical): 3 letras
- 4 (horizontal): 6 letras
- 5 (vertical): 3 letras
- 6 (vertical): 6 letras
- 7 (horizontal): 3 letras
- 8 (horizontal): 3 letras

Imagens de brinquedos e jogos para identificação:

- 1: Um papagaio (Kite)
- 2: Uma boneca (Doll)
- 3: Uma bola (Ball)
- 4: Um jogo de dominó (Domino)
- 5: Um pião (Top)
- 6: Um jogo de boliche (Bowling)
- 7: Um jogo de dados (Dice)
- 8: Um jogo de cartas (Cards)



QUESTÃO 5 - (EFO3LPO5.3JAB)

As borboletas são insetos muito interessantes. Elas também estão presentes nas historinhas, nos textos, poemas e nas cantigas.

Leia o trecho da cantiga abaixo e em seguida reescreva, separando corretamente as palavras que estão juntas.


BORBOLETINHATÁNACOOZINHA.
FAZENDOCHOCOLATEPARAMADRINHA.



QUESTÃO 6 - (EF15LP18.1JAB)

Relacione corretamente uma frase para cada imagem.

Fonte: Pinterest



- () Cascão adora soltar pipa.
- () Mônica lê revistinhas todos os dias.
- () Magali comprou um sorvete enorme.
- () Mônica e Cebolinha brincam juntos sem brigar.
- () Cascão ganhou uma bola de futebol.



QUESTÃO 7 - (EF15LP14.2JAB)

Observe a tirinha a seguir:



Marque um X na alternativa correta:

- (A) A história contada na tirinha indica que Magali salvou o gatinho.
- (B) A história contada na tirinha indica que o gatinho ficou feliz com a atitude da Magali.
- (C) A história contada na tirinha indica que Magali é gulosa.
- (D) A história contada na tirinha indica que Magali ficou triste.

QUESTÃO 8 - (EF03LP01.2JAB)

Observe a capa deste livro.



Faça um x no quadradinho que mostra onde está escrito o nome da autora do livro.


- (A) CECÍLIA
- (B) FERNANDA LOPES DE ALMEIDA
- (C) GATO QUE PULAVA EM SAPATO
- (D) SAPATO



TURBINE + AINDA

QUESTÃO 9 – (EF15LP01.2JAB) - Desafio – Língua Portuguesa

Pesquise com seus familiares algum conto do conhecimento deles. Em seguida, escolha o que você mais gostou e escreva esse texto.



QUESTÃO 10 – (EF02CI04.2JAB) - Desafio de Ciências

Escolha dois animais e descreva as semelhanças e diferenças entre eles.





MATEMÁTICA 3º ANO


QUESTÃO 1. (EF03MA19.2JAB)

Igor nasceu com 51 centímetros de medida de altura. No mês seguinte, a medida da altura de Igor aumentou 5 centímetros. Qual dos instrumentos de medida a seguir pode ter sido usado para medir a altura de Igor?

- (A) balança.
- (B) relógio.
- (C) fita métrica.
- (D) termômetro.

QUESTÃO 2. (EF03MA07.2JAB)

Tenho 20 cerejas para colocar em 4 tortas. Cada torta deve ter a mesma quantidade.





Quantas cerejas terão cada torta? _____



QUESTÃO 3. (EF03MA24.3JAB)

Observe o preço de cada objeto e depois responda:

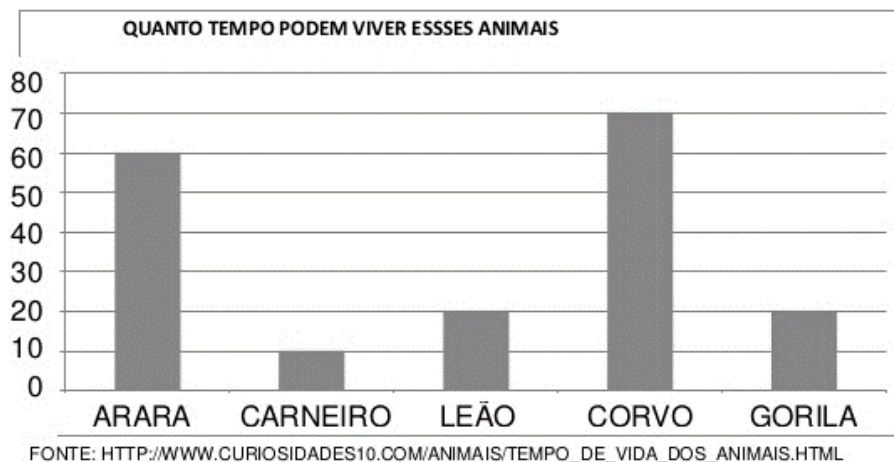
 2 reais	 30 reais	 70 reais	 7 reais
--	---	--	--

A) Qual é o objeto mais barato? _____

B) Qual é o objeto mais caro? _____

QUESTÃO 4. (EF03MA27.4JAB)

Veja o gráfico que a professora de Mariani apresentou à turma:



Agora, responda:

(A) Qual animal vive mais tempo? _____

(B) Qual o animal que vive menos tempo? _____


(C) O gorila vive quantos anos? _____

(D) Quantos anos o corvo vive mais que o leão? _____



QUESTÃO 5. (EF03MA13.3JAB)

Ganhei um presente no meu aniversário e veio embrulhado numa caixa de sapato. Essa caixa de sapato nos faz lembrar de:



- (A) um cubo.
- (B) uma esfera.
- (C) um paralelepípedo.
- (D) um cone.

<https://www.slideshare.net/ssuser858330/apostila-matematica-24593435?related=1>

QUESTÃO 6. (EF03MA03.1JAB)

Vamos nos divertir, resolvendo os probleminhas:

(A) Sara leu 5 gibis pela manhã e 9 à tarde.

Quantos Gibis ela leu no total?



(B) Luan e Amanda estão brincando juntos. Ele trouxe 25 cartas e ela 16 tampinhas.

Quantos itens eles têm juntos?

















(C) Emerson fotografou 29 borboletas grandes e chegaram mais 17 pequenas. Quantas borboletas Emerson fotografou?



QUESTÃO 7. (EF03MA24.3JAB)

Natália, Lavínia e Juliana ganharam dinheiro de seu pai. Observe a imagem e responda as questões.

A) Quantos reais tem cada criança?

NATÁLIA	LAVÍNIA	JULIANA
		
   	    	   
____ REAIS	____ REAIS	____ REAIS

B) Quem tem **mais** dinheiro: Natália ou Lavínia?

C) Quanto uma tem **a mais** que a outra?

QUESTÃO 8. (EF02MA16.2JAB)

João jogou bola com o papai no quintal de casa. Na hora de medir a barrinha, o pai de João mediu com os próprios pés. E a barrinha dele mediu 6 pés.

Sabendo que João é menor que o pai, marque a alternativa que explica o que aconteceu quando João mediu a barrinha dele usando os próprios pés:

- (A) A barrinha de João também mediu 6 pés.
- (B) A barrinha de João mediu mais pés, pois os pés de João são menores que o do pai.
- (C) A barrinha de João mediu menos pés, pois os pés de João são maiores que o do pai.
- (D) A barrinha de João mediu 4 pés, pois os pés de João são do mesmo tamanho que o do pai.



TURBINE + AINDA

QUESTÃO 9. – (EF03HI05.1JAB) - Desafio de História

Você vai procurar saber qual o nome da rua da sua casa, em seguida irá perguntar aos seus familiares a origem do nome desta rua e escrever fazendo um pequeno texto.

QUESTÃO 10. – (EF03GE02.1JAB) - Desafio de Geografia

Você assistiu a aula da TV escola que falava sobre LUGARES DE VIVÊNCIA DO CAMPO E DA CIDADE. Agora faça uma representação do campo e da cidade através de um desenho.

CAMPO

CIDADE