



ESCOLA:


NOME:


ANO: 2º DO ENSINO FUNDAMENTAL/TURMA:

TURNO:

--	--	--	--	--

**1º SIMULADO DE 2018**

**LÍNGUA PORTUGUESA**

1	A	<input checked="" type="radio"/>	C	D
---	---	----------------------------------	---	---

Você deverá pintar apenas uma alternativa

1	A	B	C	D
2	A	B	C	D
3	A	B	C	D
4	A	B	C	D
5	A	B	C	D
6	A	B	C	D
7	A	B	C	D
8	A	B	C	D
9	A	B	C	D
10	A	B	C	D

**MATEMÁTICA**

1	A	<input checked="" type="radio"/>	C	D
---	---	----------------------------------	---	---

Você deverá pintar apenas uma alternativa

1	A	B	C	D
2	A	B	C	D
3	A	B	C	D
4	A	B	C	D
5	A	B	C	D
6	A	B	C	D
7	A	B	C	D
8	A	B	C	D
9	A	B	C	D
10	A	B	C	D

## QUESTÃO 01

 Observe as placas.

 Faça um X no quadradinho que mostra a placa que contém somente letras.

(A)



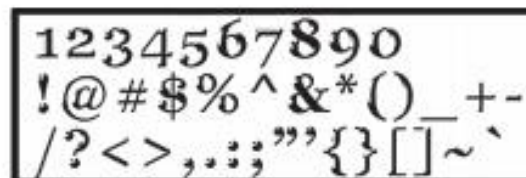
(B)



(C)



(D)



---

## QUESTÃO 02

 **Faça um X no quadradinho que mostra as letras: P, F, V.**

(A) 

P	B	M
---	---	---

(B) 

V	F	T
---	---	---

(C) 

F	N	D
---	---	---

(D) 


P	F	V
---	---	---

---

**QUESTÃO 03**

 **Leia a palavra abaixo.**

*Escola*

 **Faça um X no quadradinho onde aparece a palavra que você leu escrita de outra forma.**


(A)  ESCOLA

(B)  escolha

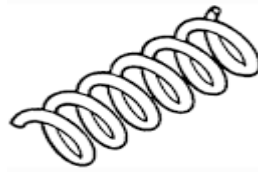
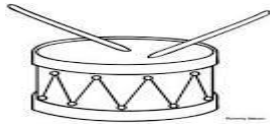
(C)  ESCOVA

(D)  espora


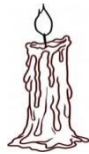
**QUESTÃO 04**

 **Faça um X no quadradinho onde aparecem as duas figuras nas quais as palavras rimam.**

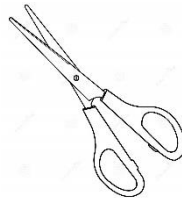

(A)




(B)



(C)



(D)



---

**QUESTÃO 05**

 **Observe a figura abaixo:**



 **Marque um X no quadradinho que está escrito o nome da figura.**

(A)  CAMA

(B)  DAMA

(C)  FAMA

(D)  LAMA

---

**QUESTÃO 06**

 **Veja a cena abaixo.**



 **Faça um X na frase que indica o que acontece na cena.**

- (A)  O MENINO JOGA ARGOLA.
- (B)  O MENINO JOGA BOLA.
- (C)  O MENINO TEM UMA MOLA.
- (D)  O MENINO VIU A CAMISOLA.



---

## QUESTÃO 07

 **Leia o texto:**

ABELHAS PASSAM A MAIOR PARTE DA VIDA (CERCA DE 7 MESES) VISITANDO FLORES PARA COLETAR PÓLEN E NÉCTAR, USADOS NA FABRICAÇÃO DE CERA E DE MEL. O MEL E O PÓLEN SÃO A BASE DA ALIMENTAÇÃO DESSES INSETOS.

PARADIZO, S. Abelhas X Vespas. Revista Recreio. n. 662, 15 nov. 2012 (fragmento).

 **Qual é a base da alimentação das abelhas?**

(A)  FLORES E NÉCTAR.


(B)  MEL E PÓLEN.

(C)  CERA E PÓLEN.

(D)  MEL E CERA.

**QUESTÃO 08**

 **Observe a imagem e responda.**



 **A figura mostra:**

- (A)  PESSOAS NA FILA DO BANCO.
- (B)  UMA CRIANÇA NA FILA DO SUPERMERCADO.
- (C)  UM IDOSO ATRAVESSANDO A RUA.
- (D)  AS DIFERENTES IDADES DA PESSOA.

**QUESTÃO 09**

 **Observe o cartaz.**



Disponível em: <http://bibliotecamedicinauff.com.br>. Acesso: 23 dez. 2013.

 **Marque um X no quadradinho que mostra o assunto desse texto.**

- (A)  BRINCADEIRA DE SUPER-HERÓI.
- (B)  CAMPANHA DE VACINAÇÃO.
- (C)  DIVERSÃO NO PARQUE.
- (D)  VENDA DE FANTASIAS.

---

## QUESTÃO 10

 **Leia o texto.**

**QUERIDA,  
VOU TRABALHAR ATÉ MAIS TARDE  
HOJE.  
JANTE COM AS CRIANÇAS.  
UM BEIJO,  
RICARDO**


 **Esse texto é:**

- (A)  UM BILHETE.
- (B)  UMA CARTA.
- (C)  UMA POESIA.
- (D)  UMA RECEITA.

## QUESTÃO 01

 Ana estava brincando no parque.

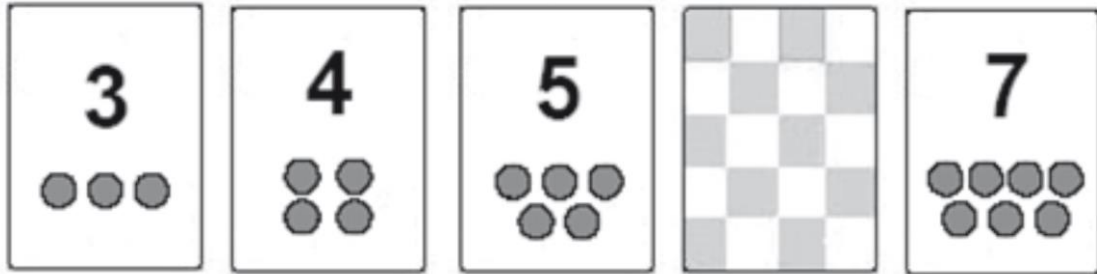


 Faça um X no quadradinho que mostra quantas pedras separam Ana de seus amigos.

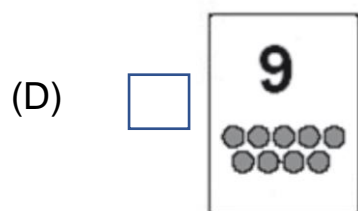
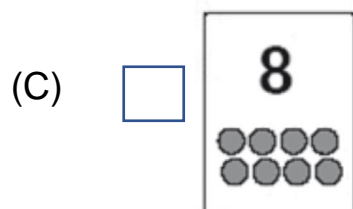
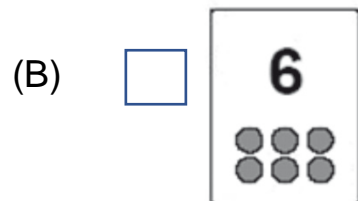
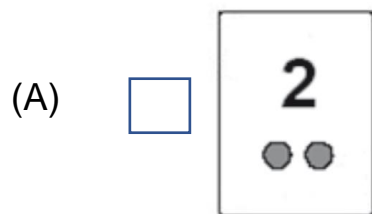
- (A)  15
- (B)  13
- (C)  12
- (D)  11

**QUESTÃO 02**

🔊 Os cartões estão arrumados em ordem crescente, mas um deles ficou virado.



🔊 Faça um X no quadradinho do cartão que está virado.

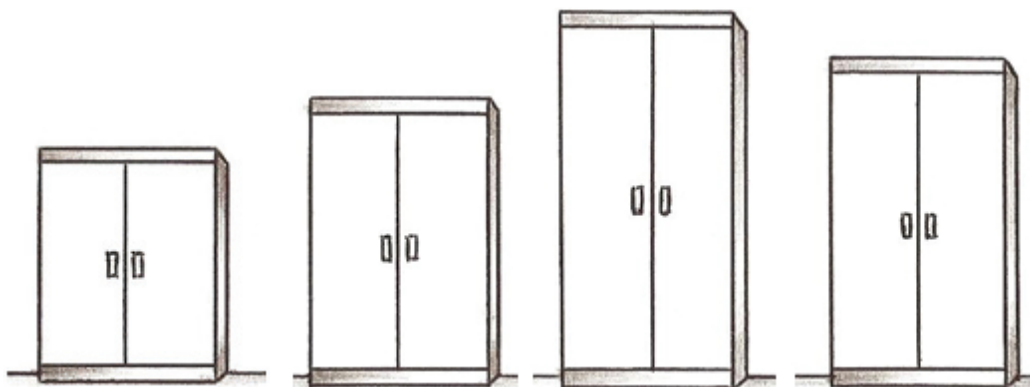


---

**QUESTÃO 03**

🔊 **Veja os armários de uma sala de aula.**

🔊 **Faça um X no quadradinho do armário mais alto da sala de aula.**



(A)

(B)

(C)

(D)

### QUESTÃO 04

 O quadro mostra a quantidade de alunos por turma em uma escola.

TURMA	NÚMERO DE ALUNOS
1º ANO	24
2º ANO	28
3º ANO	21
4º ANO	33

 Faça um X no quadradinho que mostra a turma que tem mais alunos.

- (A)  1º ano.
- (B)  2º ano.
- (C)  3º ano.
- (D)  4º ano.



---

**QUESTÃO 05**

🔊 Este é o número de crianças que foram ao passeio da escola:


**32**

🔊 Marque um X no quadradinho em que está escrito o número de crianças.

- (A)  TRINTA E DOIS
- (B)  VINTE E TRÊS
- (C)  TRÊS E DOIS
- (D)  DOIS E TRÊS

**QUESTÃO 06**

 **Veja as canetas que Ana comprou.**



 **Faça um X no quadradinho que representa o número de canetas que Ana comprou.**

(A)  3

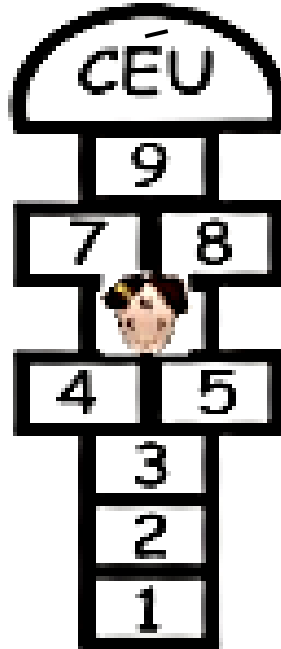
(B)  4

(C)  7

(D)  8

**QUESTÃO 07**

 **Veja a brincadeira de Maria.**



 **Faça um X no quadradinho do número em que Maria está na brincadeira.**

(A)  7

(B)  6

(C)  5

(D)  1

## QUESTÃO 08

🔊 Paula recebeu dezoito reais.

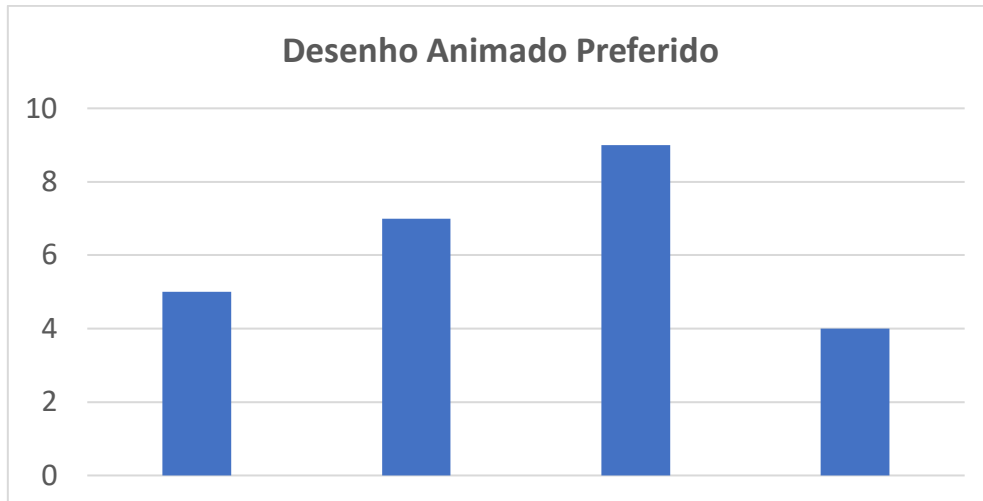
🔊 Faça um X no quadradinho que mostra a quantia que Paula recebeu.

- (A)  
- (B)  
- (C)  
- (D)  


### QUESTÃO 09


🔊 Na turma do segundo ano, a professora perguntou aos estudantes que desenho animado eles mais gostavam.


🔊 O gráfico representa o resultado desta pesquisa.




🔊 Qual foi o desenho animado mais votado?


(A)  

(B)  

(C)  

(D)  

## QUESTÃO 10

 A mãe de Rafael comprou tecido para fazer sua calça de uniforme.



 O instrumento utilizado para medir o tecido foi

(A)



(B)



(C)



(D)

