

NOME: _____
ESCOLA: _____



SECRETARIA MUNICIPAL DE EDUCAÇÃO



CADERNO DE ATIVIDADES MARÇO
Turbine seu conhecimento
- 2º ANO -

PORTUGUÊS 2º ANO

QUESTÃO 1 LEIA COM ATENÇÃO O TRECHO DO LIVRO O CABELO DE LELÊ:

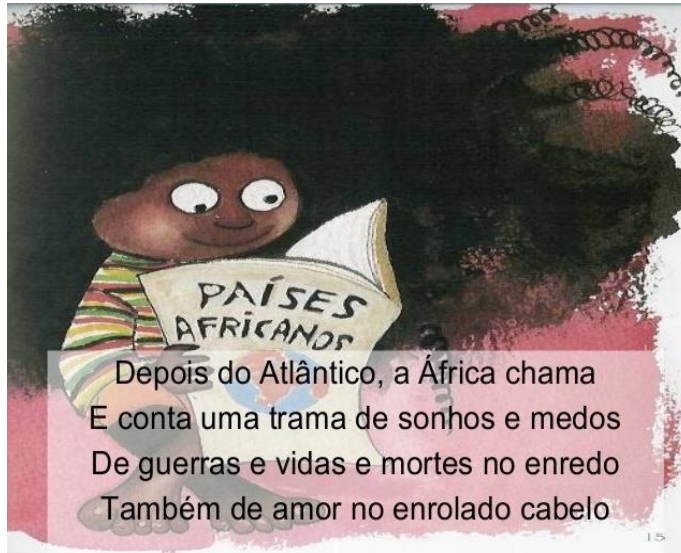


Imagem adaptada disponível em <https://www.amazon.com.br/cabelo-lele>

ESSE TEXTO SERVE PARA? MARQUE UM X NA RESPOSTA CORRETA.

- A) INFORMAR
- B) DIVERTIR
- C) CONTAR UMA HISTÓRIA
- D) FAZER UM CONVITE

QUESTÃO 2 LEIA A PALAVRA:

AMOR

QUANTAS SÍLABAS OU PEDACINHOS TEM A PALAVRA QUE VOCÊ LEU?
MARQUE UM X NA RESPOSTA CORRETA.

- A) 3
- B) 2
- C) 4
- D) 5

QUESTÃO 3 OBSERVE:



Imagem adaptada disponível em <https://www.elo7.com.br/convite-digital-chapeuzinho-vermelho>

ESSE TEXTO É:

- A) UM POEMA
- B) UM CARTAZ
- C) UM CONVITE
- D) UMA TIRINHA

QUESTÃO 4 ESCREVA A QUANTIDADE DE SÍLABAS OU PEDACINHOS DAS PALAVRAS.

- A) LOBO _____
- B) ÁRVORE _____
- C) CESTA _____
- D) CHAPÉU _____



QUESTÃO 5 CIRCULE O NOME DA FIGURA



Imagem adaptada disponível em <https://pt.wikipedia.org/wiki/elefante>

- A) FOCA
- B) CACHORRO
- C) ELEFANTE
- D) GATO

QUESTÃO 6 OBSERVE O TÍTULO DO LIVRO:




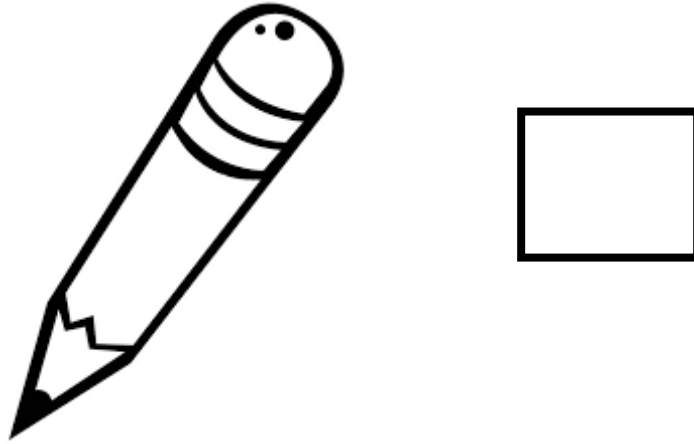
Imagem adaptada disponível em <https://www.amazon.com.br/cabelo-lele>

MARQUE A OPÇÃO EM QUE O TÍTULO ESTÁ ESCRITO CORRETAMENTE:

- A) OCABELODELELÊ
- B) O CABELODELELÊ
- C) O CABELO DE LELÊ
- D) OCABELO DELELÊ



QUESTÃO 7 QUAL A SÍLABA INICIAL DA FIGURA? ESCREVA NO QUADRO ABAIXO.



QUESTÃO 8 A PALAVRA ABAIXO RIMA COM:

PRIMAVERA

MARQUE UM X NA ALTERNATIVA CORRETA.

- A) BALÃO
- B) CONVITE
- C) ESFERA
- D) MESA



QUESTÃO 9 CIRCULE SOMENTE O OBJETO QUE O SEU NOME TEM 3 SÍLABAS.



QUESTÃO 10 ABAIXO ESTÃO AS LETRAS DO ALFABETO, ESCOLHA 10 LETRAS E ESCREVA PALAVRAS QUE INICIE COM ELAS.



fonte: <https://www.google.com/search?q=alfabeto>

1)	2)
3)	4)
5)	6)
7)	8)
9)	10)

MATEMÁTICA 2º ANO

QUESTÃO 1 SE JUNTAR, QUANTO VAI DÁ?



CASCÃO GANHA DO SEU PAI
VÁRIAS MOEDAS TODA SEMANA.
ENTÃO VAMOS AJUDÁ-LO A CONTAR
E SABER QUANTO ELE JUNTOU
EM 4 SEMANAS

1ª SEMANA



R\$

2ª SEMANA



R\$


3ª SEMANA



R\$

Imagem adaptada disponível em <https://www.nossoclubinho.com.br/atividades>

QUESTÃO 2 OBSERVE AS CRIANÇAS E RESPONDA:



SÉRGIO

PAULA

HUGO

QUAL TEM MAIS DINHEIRO? _____

QUEM TEM MENOS? _____

QUANTO PAULA TEM? -










QUANTO TEM OS 3 JUNTOS? _____

QUANTO SERGIO TEM A MAIS QUE
PAULA? _____

Imagem adaptada disponível em <https://br.pinterest.com>



QUESTÃO 3 QUAIS OS NUMERAIS QUE ESTÃO FALTANDO?

1	2	3		5
	7		9	
11		13		15
	17		19	

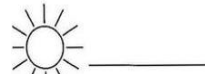


Imagem adaptada disponível em: <https://adoletadoabc.blogspot.com>

QUESTÃO 4 PINTE APENAS OS RETÂNGULOS QUE TEM AS CONTAS COM RESULTADO DA SOMA 8:

$$2 + 5$$

$$4 + 4$$

$$3 + 1$$

$$1 + 7$$

$$5 + 3$$

$$6 + 2$$

$$3 + 3$$

$$4 + 3$$

$$8 + 0$$

$$1 + 5$$



QUESTÃO 5 COLOQUE OS NÚMEROS 0 A 5 NOS TRACINHOS DE FORMA QUE A SOMA SEJA SEMPRE 7.

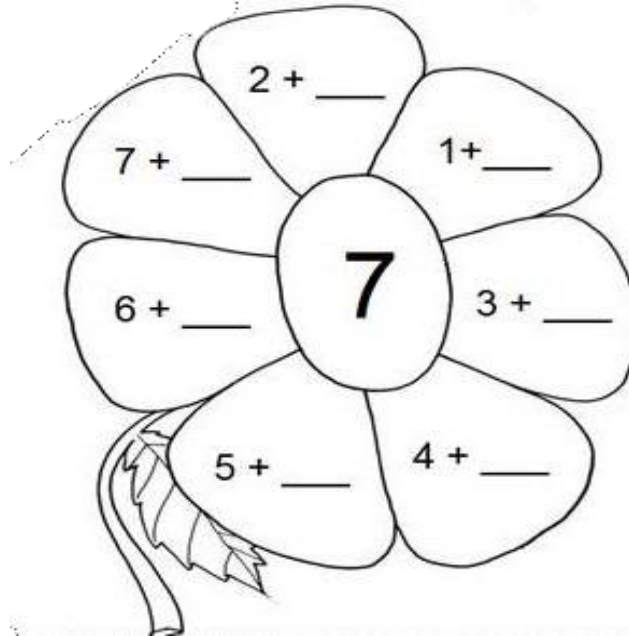


Imagem adaptada disponível em <https://br.pinterest.com>

QUESTÃO 6 PARA INDICAR ORDEM, POSIÇÃO OU LUGAR, USAMOS OS NUMERAIS ORDINAIS. CONHEÇA OS NUMERAIS ORDINAIS ATÉ O 10º.

1º - PRIMEIRO	6º - SEXTO
2º - SEGUNDO	7º - SÉTIMO
3º - TERCEIRO	8º - OITAVO
4º - QUARTO	9º - NONO
5º - QUINTO	10º - DÉCIMO

OBSERVE E RESPONDA:

Imagem adaptada disponível em [https:// Proaisesilvaartedeeducar.blogspot.com](https://Proaisesilvaartedeeducar.blogspot.com)



- A) FLÁVIO É O _____ DA FILA.
- B) ANITA É A _____ DA FILA.
- C) INÊS É A _____ DA FILA.
- D) CARLOS É O _____ DA FILA.



QUESTÃO 7 PINTE OS VAGÕES DE ACORDO COM A LEGENDA.




Imagem adaptada disponível em <https://br.pinterest.com>

- A) O 1º VAGÃO DE VERMELHO
- B) O 3º VAGÃO DE AZUL
- C) O 5º VAGÃO DE VERDE
- D) O 7º VAGÃO DE AMARELO
- E) O 8º VAGÃO DE AZUL
- F) O 9º VAGÃO DE ROXO
- G) E OS DEMAIS DE LARANJA

QUESTÃO 8 COMPLETE A SEQUÊNCIA NUMÉRICA SEGUINDO A:

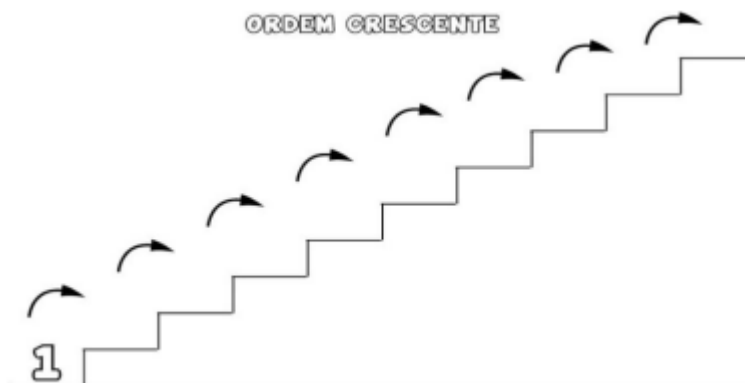
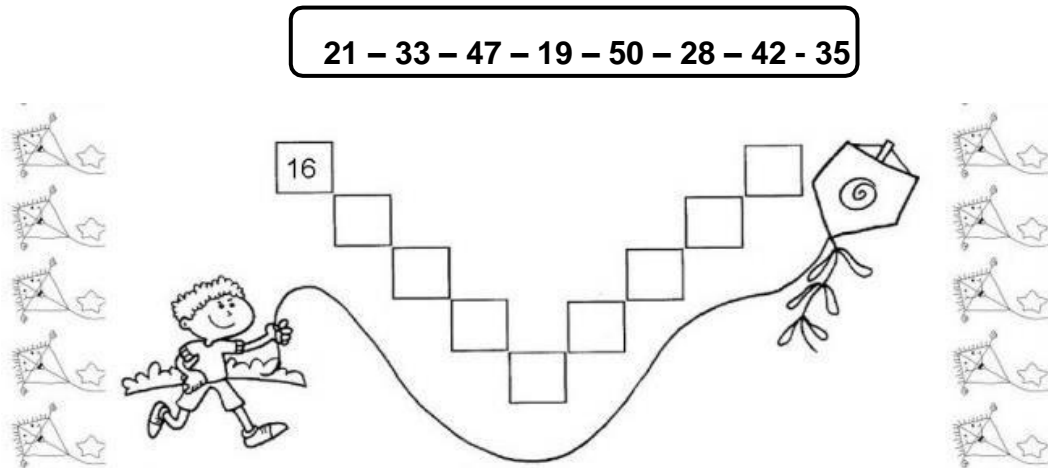


Imagem adaptada disponível em <https://atividadespedagogicas.net>



QUESTÃO 9 OBSERVE OS NUMERAIS EM DESTAQUE E ESCREVA-OS EM ORDEM CRESCENTE NOS QUADROS ABAIXO:

Imagem adaptada disponível em <https://br.pinterest.com>



QUESTÃO 10 PINTA A PAISAGEM CONFORME INDICAÇÃO ABAIXO. DEPOIS RESPONDA AS QUESTÕES.

AMARELO LARANJA VERMELHO AZUL

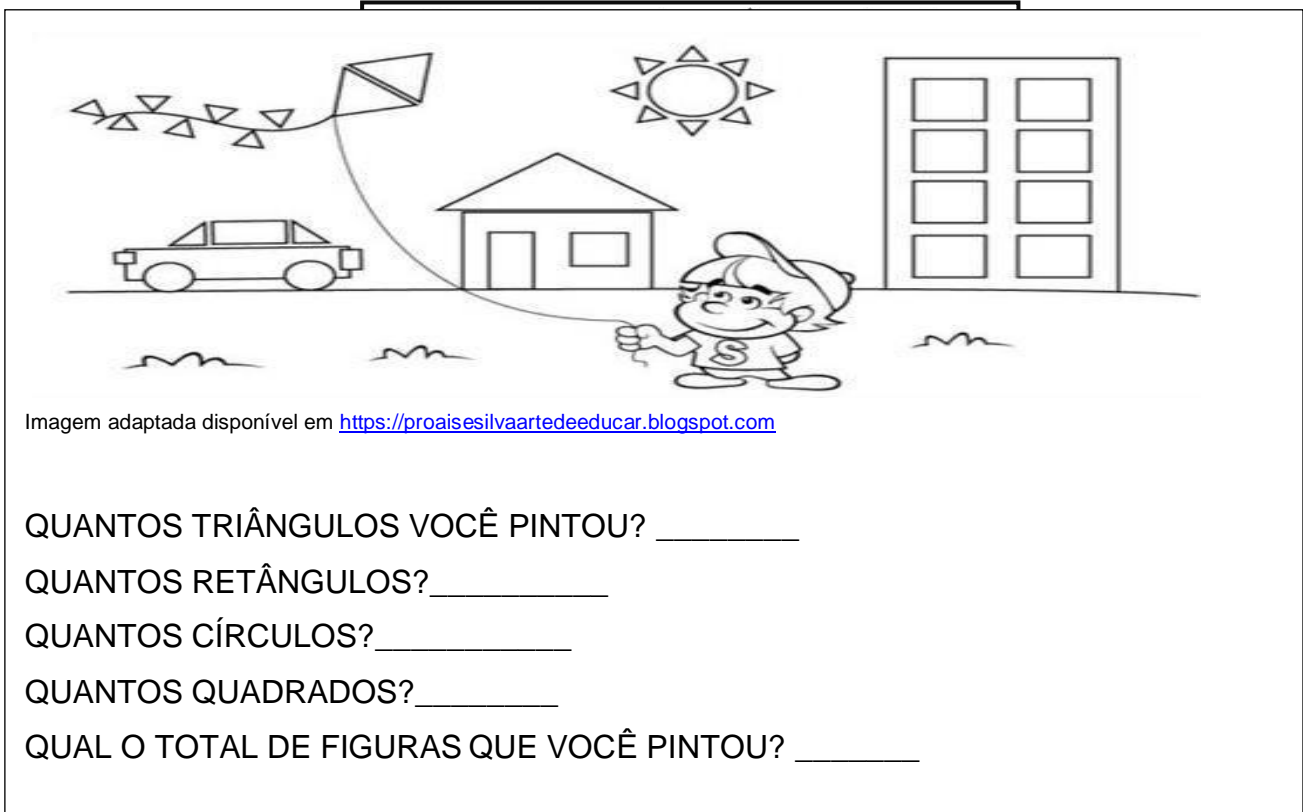


Imagem adaptada disponível em <https://proaisilvaartedeeducar.blogspot.com>

QUANTOS TRIÂNGULOS VOCÊ PINTOU? _____

QUANTOS RETÂNGULOS? _____

QUANTOS CÍRCULOS? _____

QUANTOS QUADRADOS? _____

QUAL O TOTAL DE FIGURAS QUE VOCÊ PINTOU? _____