

NOME: _____

ESCOLA _____



SECRETARIA MUNICIPAL DE EDUCAÇÃO



CADERNO DE ATIVIDADES MARÇO

Turbine seu conhecimento

- 5º ANO -



Leia o texto abaixo atentamente e responda as questões a seguir:



Ilustração: Fabiana Salomão

Chiquinha Gonzaga

Nasceu no dia 17 de outubro de 1847 na cidade do Rio de Janeiro. Filha de José Basileu Alves Gonzaga, primeiro-tenente. Sua mãe, Rosa Maria Neves Lima, por ser mestiça e filha de escrava foi rejeitada pela família do marido. Chiquinha lutou muito para fazer o que mais amava, música. Sofreu preconceitos machistas, mas isso não impediu que ela lutasse pelo seu sonho. Se tornou a primeira mulher brasileira compositora e regente e se destacou por ser a primeira pianista de choro. Criou a primeira marcha carnavalesca (Ô Abre Alas, 1899) e lutou pela abolição da escravatura.

Questão 1. O texto que você acabou de ler conta a história de uma pessoa apaixonada por:

- a. Livros
- b. Quadros
- c. Música
- d. Borboletas


Questão 2. A personagem principal do texto é:

- a. Rosa Maria Neves
- b. Gonzaga
- c. Princesa Isabel
- d. Chiquinha Gonzaga



Questão 3. Você percebeu que o nome **CHIQUINHA**, começa com **CH**?. Então vamos montar uma cruzadinha com outras palavras que comecem com **CH**.

a) Complete a cruzadinha abaixo:



b) Escreva aqui as palavras que foram criadas na cruzadinha:

1-		
2-		
3-		
4-		
5-	6-	7-

c) Escreva a palavra que tem o maior número de letras: _____

d) Escreva a palavra que a sílaba termina com **CH**: _____

Questão 4. De acordo com o texto, Chiquinha Gonzaga sofreu preconceito por:

- Ser negra
- Ser branca
- Ser compositora e pianista
- Ser mestiça

Vamos ver agora o que Mafalda tem para nos ensinar?



Imagem: <http://redacaoemrede.blogspot.com/2016/03/ideias-uma-charge-de-quino-sobre-o.html>

Questão 5 Pense sobre a fala de Mafalda no quadrinho acima e responda qual alternativa NÃO REPRESENTA uma importante função da leitura:

- a. A leitura é importante para nos informarmos
- b. A leitura é importante para nossa aprendizagem
- c. A leitura é importante para nos proporcionar momentos de lazer
- d. A leitura é importante para acreditarmos em notícias falsas

Questão 6 O que Mafalda quer dizer nesse quadrinho é que:

- a. Quem não lê não se informa, por isso acredita no que os outros dizem
- b. Quem não lê corre risco de vida
- c. Quem não lê se torna perigoso
- d. Quem não lê não sabe de nada



Turbine seu conhecimento

Questão 7 Pensando na importância da leitura como um direito humano e uma forma de entretenimento, escolha um livro de literatura infantil que você ainda não tenha lido e após a leitura desse livro compartilhe essa leitura conosco preenchendo a ficha de leitura abaixo:

Ficha de leitura	
Título:	_____
Autor:	_____ Ilustrador: _____
Por que escolheu este livro?	_____
Gostou? Justifique sua resposta:	_____
Resumo do livro lido:	_____ _____ _____ _____ _____ _____ _____

Questão 8

"O QUE É, O QUE É???"

Tente descobrir a adivinhação abaixo e pinte a resposta correta:

NO CAMPO ME CRIEI, CERCADO DE VERDES LAÇOS, QUEM MAIS CHORA POR MIM É QUEM ME FAZ EM PEDAÇOS		
CEGONH	SEL	CEBOLA



Questão 9 No dia 22 de agosto – Dia do folclore, aprendemos sobre vários hábitos e costumes de tradição cultural repassados pelas gerações que fazem parte da cultura e da história do nosso povo. Relembre algum conto sobre o folclore que você já escutou e conte com suas palavras nas linhas abaixo:

Questão 10 Após ler o texto e imagem abaixo, responda:



Mauricio de Sousa, criador da Turma da Mônica, disse que colocou o Cascão para lavar as mãos no **combate ao coronavírus** com o objetivo de passar uma mensagem positiva e alertar sobre a importância da higiene pessoal no combate à disseminação do vírus. O personagem é conhecido por não gostar de tomar banho e estar sempre “sujinho”. Além de lavar as mãos, Cascão, que tem medo de água, também está tomando banho e encomendou até sabonetes.

Fonte: <https://www.coronaviruspandemia.com.br/cascao-passa-a-tomar-banho-e-lavar-as-maos-durante-crise/>

a) O que você achou da atitude do Cascão? _____

b) O que você tem feito para se proteger desse novo vírus (Corona vírus)?



MATEMÁTICA

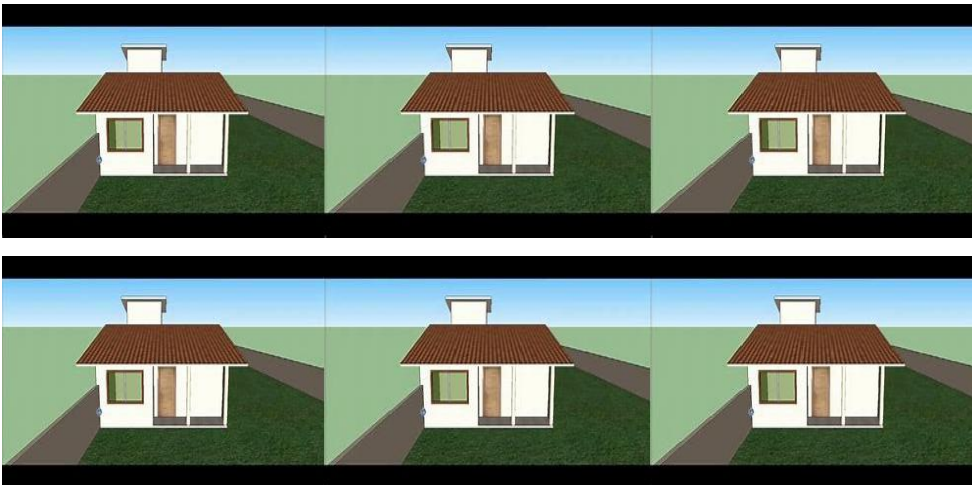
Questão 01. Observe a sequência e ajude a Mônica a descobrir qual é o último número do quadro.



25		75		125
		200		

- A () 200
- B () 215
- C () 250
- D () 275

Questão 02. Existe uma sequência de casas abaixo, no entanto, a numeração da primeira é composta de duas centenas e as demais você precisa acrescentar 4 dezenas ao número da casa anterior para descobrir qual é o número da casa seguinte.



Qual é a numeração correta das casas:



Turbine seu conhecimento

Questão 03. João quer comprar um computador sabendo que o computador custa R\$ 1.874,00 quantas cédulas ele vai precisar das cédulas que estão expostas abaixo?



()



()



()




()

Questão 04. Descubra o número de cada uma das situações abaixo.

a) Um estacionamento tem capacidade para estacionar alguns carros, esse número tem quatro algarismos: dois deles são o 3, outro vale 1000 e outro vale 50. Qual é o número de carros que cabem nesse estacionamento?

b) O número máximo de pessoal que cabem nesses carros é composto por 6 unidades de milhar, 7 centenas, 6 dezenas e 5 unidades. Que número é esse?





Turbine seu conhecimento

Questão 05. A Tabela a seguir mostra o número de veículos que passaram por uma rodovia no último feriadão da independência. Observe a quantidade de veículos que passaram nas primeiras três horas do dia.

Veículos por período

Período	Quantidade de veículos
1° hora	1789
2° hora	2675
3° hora	3678

a) Ao todo, quantos veículos passaram por essa rodovia nas três primeiras horas desse dia?

b) Se na terceira hora desse dia o número de veículos dobrasse, quantos veículos teriam passado pela rodovia nessas três horas?

Questão 06. Mariana ganhou um livro de presente de aniversário e ficou muito feliz com o presente. Analise as situações abaixo e responda ao que se pede.

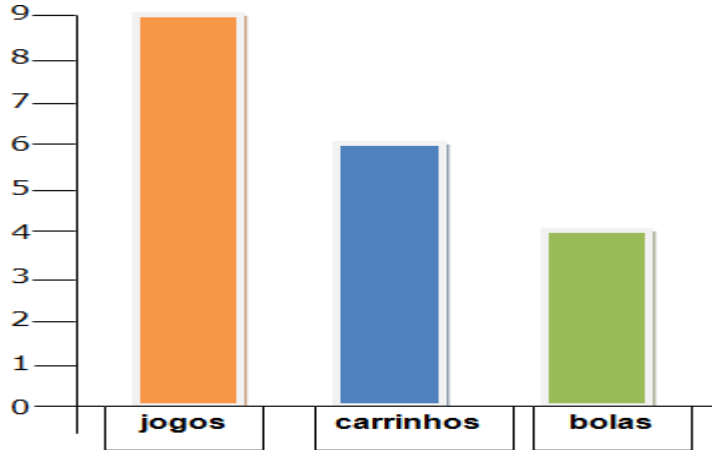
a) Mariana leu 105 páginas nos dois primeiros dias e percebeu que faltam 235 páginas para terminar. Quantas páginas têm esse livro?

b) Se Mariana lesse apenas 50 páginas nos dois primeiros dias quantas páginas ficariam faltando para ela ler?





Questão 07. Observe o gráfico de brinquedos do Luís. Cada barra corresponde a um tipo de brinquedo.

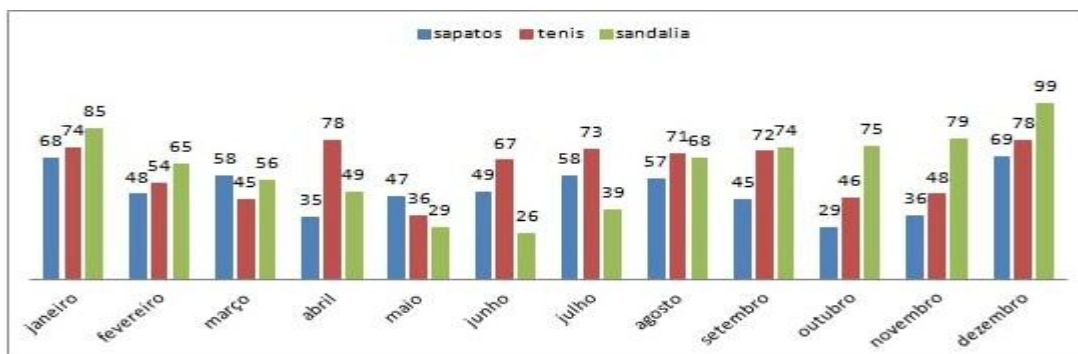


<https://acessaber.com.br/atividades>

Agora responda:

- a) Quantas bolas e carrinhos o Luís tem? _____
- b) Quantos brinquedos o Luís tem no total? _____



Questão 08. Uma loja de calçados vendeu uma determinada quantidade de sapatos no ano passado, analise o gráfico e responda os itens abaixo:

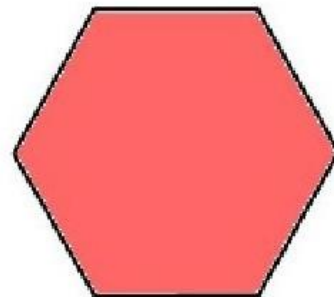




<https://acessaber.com.br/ativid>

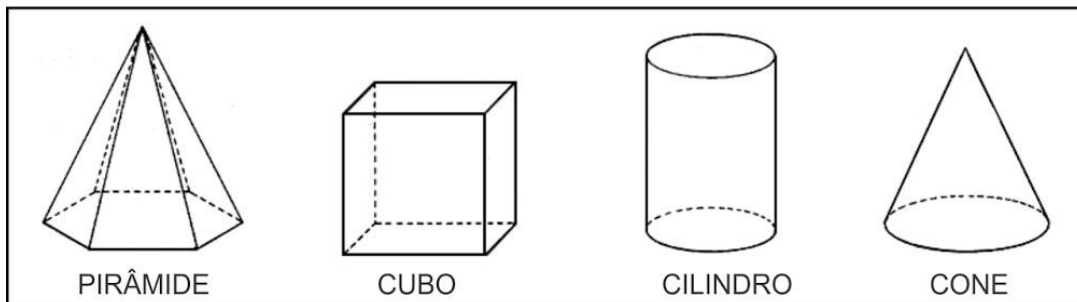
- a) Qual foi o calçado mais vendido em janeiro? _____
- b) Qual foi o mês que vendeu mais sandálias? _____
- c) Qual foi o modelo de calçado menos vendido? _____

Questão 09. Escreva os nomes das figuras geométricas abaixo:





Questão 10. Encontre os nomes das figuras geométricas no caça palavras:



A	P	I	R	Â	M	I	D	E	X
G	I	K	O	B	O	C	U	B	O
L	Q	S	O	I	N	P	T	Y	U
F	G	C	I	V	B	C	O	N	E
L	P	G	C	Z	A	E	U	O	N
P	L	M	S	I	L	I	M	D	R
C	I	L	I	N	D	R	O	P	D