



CADERNO DE ATIVIDADES



Turbine seu conhecimento

NOME: _____

ESCOLA: _____



SECRETARIA MUNICIPAL DE EDUCAÇÃO



CADERNO DE ATIVIDADES – 2ª UNIDADE

Turbine seu Conhecimento

- MÓDULO II -



LÍNGUA PORTUGUESA MÓDULO II

QUESTÃO 1. (EJAMODIILP30.1JAB) COMPLETE AS PALAVRAS COM **S** OU **SS** E ESCREVA OS NOMES DAS FIGURAS NA CRUZADINHA.

1 - O__O 7 - PE__OA 13 - TRAVE__A 19 - TRAVE__ÃO

2 - __ORVETE 8 - VANE__A 14 - __ABIA 20 - __APATO

3 - PÊ__EGO 9 - VA__OURA 15 - TRAVE__EIRO 21 - PÁ__ARO

4 - __EDEX 10 - __ERROTE 16 - __UCO 22 - __INO

5 - PA__AS 11 - MA__A 17 - CARRO__EL 23 - CÁ__IO

6 - __ABONETE 12 - __OL 18 - __ALADA 24 - __OPA

QUESTÃO 2. (EJAMODILP13.2JAB) USE AS SÍLABAS DA PRIMEIRA PALAVRA PARA FORMAR OUTRAS, TROCANDO A PRIMEIRA SÍLABA DAS PALAVRAS ABAIXO:

JA	CA
----	----

SA	LA	DA

PA	NE	LA



QUESTÃO 3. (EJAMODI-IILP1601JAB) OBSERVE E LEIA O TEXTO A SEGUIR:



ESSE TEXTO É:

- A) UMA NOTÍCIA
- B) UM CARTAZ
- C) UMA REPORTAGEM

QUESTÃO 4. (EJAMODI-IILP01.1JAB) OBSERVE O TÍTULO DE ELEITOR E RESPONDA:



- A) QUAL O NOME DO ELEITOR? _____
- B) QUAL A DATA DE NASCIMENTO? _____
- C) QUAL A ZONA E A SEÇÃO EM QUE ELE VOTA? _____
- D) QUAL O MUNICÍPIO? _____



QUESTÃO 5. (EJAMODI-IIIIP01.3JAB) AGORA É SOBRE VOCÊ. PEGUE SEU TÍTULO DE ELEITOR E PESQUISE AS SEGUINTE INFORMAÇÕES:

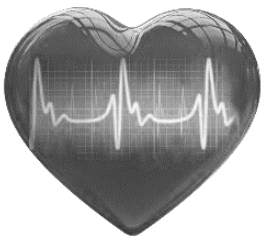
A) NÚMERO DE INSCRIÇÃO _____

B) ZONA _____





C) SEÇÃO _____





D) DATA DE EMISSÃO _____

QUESTÃO 6. (EJAMODILP02.1JAB) ESCREVA O NOME DAS FIGURAS:




QUESTÃO 7. (EJAMODILP05.4JAB) COMPLETE AS PALAVRAS COM AS LETRAS QUE FALTAM.

<p>__TABAQUE</p> 	<p>__ERIMBAU</p> 
<p>__APOEIRA</p> 	<p>__ENDÊ</p> 

<p>__NHAME</p> 	<p>__ILÓ</p> 
<p>__UNDU</p> 	<p>__ACACO</p> 



QUESTÃO 8. (EJAMODILP09.1JAB) DESCUBRA OUTRAS PALAVRAS DENTRO DAS PALAVRAS EM DESTAQUE. OBSERVE O MODELO:



BISCOITO

BANCADA

BALANÇA

QUESTÃO 9. (EJAMODI-IILP14.1JAB) LEIA A TIRINHA DE ARMANDINHO E RESPONDA.



A EXPRESSÃO NO ROSTO DE ARMANDINHO NO ÚLTIMO QUADRINHO É:

- A) ALEGRE
- B) ENTUSIASMADO
- C) DECEPCIONADO



CADERNO DE ATIVIDADES



Turbine seu conhecimento

QUESTÃO 10. (EJAMODILP02.1JAB) LEIA E ESCREVA AS PALAVRAS NO QUADRO DE ACORDO COM A SÍLABA INICIAL:

POLEGAR PUNHO PEDRA PIABA PEDAÇO POLUIÇÃO PIPOCA PUDIM PAÍS
PÁGINA PEDAL PINHEIRO POEIRA PURO POLÍCIA PADARIA PAPAGAIO

PO	PA	PI	PU	PE

AGORA COMPLETE AS FRASES USANDO AS PALAVRAS DO QUADRO ACIMA:

- A) A _____ PRENDEU O LADRÃO.
- B) COMPREI O PÃO NA _____.
- C) O MEU _____ É O BRASIL.
- D) EU TENHO UM _____ NO QUINTAL.
- E) O _____ DA MINHA BIBICLETA QUEBROU.
- F) O _____ É DE LEITE.



MATEMÁTICA MÓDULO II

QUESTÃO 1. (EJAMODIIMA11.1JAB) DESCUBRA O SEGREDO E COMPLETE A SEQUÊNCIA DOS NÚMEROS ABAIXO:

2	4	6					
	20		24		28		32
34		38		42		46	

QUESTÃO 2. (EJAMODIIMA01.03JAB) LIGUE FAZENDO A CORRESPONDÊNCIA:

Duas dezenas e seis unidades	5
Uma dezena e uma unidade	26
Uma dezena	11
Meia dezena	10

QUESTÃO 3. (EJAMODIIMA19.3JAB) CALCULE MENTALMENTE E MARQUE UM X NA RESPOSTA CORRETA.



Qual é o valor?

- 25 reais
- 30 reais
- 37 reais
- 35 reais



CADERNO DE ATIVIDADES



Turbine seu conhecimento

QUESTÃO 4. (EJAMODIIMA09.1JAB) ORGANIZE OS NÚMEROS ABAIXO EM ORDEM CRESCENTE.

--	--	--	--	--	--	--	--

QUESTÃO 5. (EJAMODIIMA22.6JAB) O RELÓGIO ABAIXO INDICA A HORA QUE ROBERTO INICIOU SUA ATIVIDADE ESCOLAR. ELE DEMOROU UMA HORA PARA TERMINAR. MARQUE UM X NA ALTERNATIVA QUE INDICA A HORA QUE ELE TERMINOU.



- (A) nove e dez
- (C) onze e dez

- (B) dez e dez
- (D) doze e dez

QUESTÃO 6. (EJAMODIIMA22.3JAB) PREENCHA O CALENDÁRIO COM OS DIAS DO MÊS ATUAL E RESPONDA:

DOMINGO	SEGUNDA-FEIRA	TERÇA-FEIRA	QUARTA-FEIRA	QUINTA-FEIRA	SEXTA-FEIRA	SÁBADO

A) ESTAMOS NO MÊS DE: _____

B) ESTAMOS NO ANO DE: _____

C) ESTE MÊS TEM _____ DIAS.

QUESTÃO 7. (EJAMODIMA21.2JAB) DANIEL É COMERCIANTE. ELE RECEBEU ESTAS CAIXAS DE BRINQUEDOS COMO MOSTRA A FIGURA ABAIXO:



NO ESTOQUE JÁ EXISTIAM ALGUNS BRINQUEDOS, COMO MOSTRA A TABELA:

boneca	carros	aviões	barcos	piões
50	66	37	42	73

CALCULE O TOTAL DE BRINQUEDOS QUE TERÁ NO ESTOQUE AGORA:

BONECAS = _____


CARROS = _____

AVIÕES = _____

BARCOS = _____

PIÕES = _____

QUESTÃO 8. (EJAMODIIMA03.1JAB) REPRESENTE COM ALGARISMOS, LEVANDO EM CONSIDERAÇÃO DA DIREITA PARA A ESQUERDA AS ORDENS DAS UNIDADES, DEZENAS E CENTENAS. VEJA O EXEMPLO.





CADERNO DE ATIVIDADES



Turbine seu conhecimento

QUESTÃO 9. (EJAMODIIMA24.4JAB) PEDRO GASTOU NO RESTAURANTE “BOM APETITE” R\$ 6,80 COM O ALMOÇO E R\$ 1,50 COM REFRIGERANTE. PARA PAGAR, ELE USOU O VALE REFEIÇÃO NO VALOR DE R\$ 10,00. CALCULE:

A) O TOTAL DA DESPESA DE PEDRO? _____

B) O TROCO DE PEDRO? _____

C) SE PEDRO PEDIR O TROCO EM BALAS E CADA BALA CUSTA R\$ 0,10, QUANTAS BALAS ELE VAI RECEBER? _____

CÁLCULO



CADERNO DE ATIVIDADES



Turbine seu conhecimento



TURBINE + AINDA

QUESTÃO 10.

(EJAMODIICI04.3JAB)

REFLITA E DESCREVA COMO A INTERFERÊNCIA DO SER HUMANO PREJUDICA O MEIO AMBIENTE.