

NOME: _____

ESCOLA: _____



SECRETARIA MUNICIPAL DE EDUCAÇÃO



CADERNO DE ATIVIDADES

IV UNIDADE

Turbine seu conhecimento

Anos Iniciais – 1º Ano

LÍNGUA PORTUGUESA 1º ANO

QUESTÃO 1 - (EF15LP14.1JAB)

LEIA A TIRINHA:



MARQUE UM X NA LETRA QUE INDICA O QUE A AÇÃO DO HOMEM IRÁ PROVOCAR AO MEIO AMBIENTE.

(A) CUIDADO AO MEIO AMBIENTE.

(B) POLUIÇÃO AO MEIO AMBIENTE.

QUESTÃO 2 – (EF01LP8.2JAB)

CIRCULE AS FIGURAS CUJO O NOME TERMINA COM O MESMO SOM QUE A PALAVRA **CÃO**.



QUESTÃO 3 - (EF01LP26.1JAB)

OBSERVE A CAPA DO LIVRO E RESPONDA.



Texto disponível em: <https://sme.pontagrossa.pr.gov.br/wp-content/uploads/2020/05/L%C3%ADngua-Portuguesa>

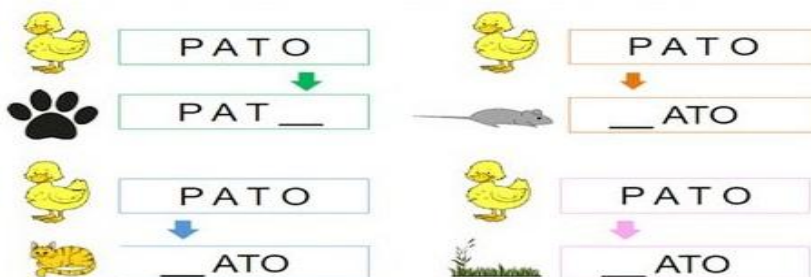
- QUAL O TÍTULO DO LIVRO?

- QUAL O NOME DA PESSOA QUE ESCREVEU O LIVRO?

-QUAL O NOME DA PESSOA QUE FEZ AS ILUSTRAÇÕES (DESENHOS) DO LIVRO?

QUESTÃO 4 - (EF01LP02.1JAB)

TROQUE AS LETRAS INDICADAS PARA FORMAR O NOME DAS FIGURAS.





QUESTÃO 5 - (EF01LP07.2JAB)

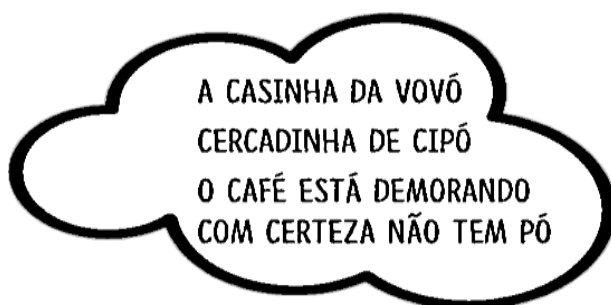
OBSERVE O QUADRO ABAIXO E REENSCREVA AS PALAVRAS INICIADAS POR VOGAIS E EM ORDEM ALFABÉTICA.

INFELIZ - COLORIDO - UM - PATETA - GATO

ÁGUA - OLHAVA - BOTAVA - RIR - ESCURIDÃO


QUESTÃO 6 - (EF01LP16.1JAB)

LEIA A PARLENDA ESCRITA NA NUVEM E COMPLETE O TEXTO DA CASINHA COM AS PALAVRAS QUE FALTAM.



QUESTÃO 7 - (EF01LP02.1JAB)

ESCREVA O NOME DE CADA FIGURA NA CRUZADINHA DE ACORDO COM A NUMERAÇÃO.



QUESTÃO 8 - (EF01LP20.1JAB)

VAMOS CANTAR A MÚSICA DA MENTIRA DA BARATA?

A MENTIRA DA BARATA


A BARATA DIZ QUE TEM SETE SAIAS DE FILÓ! É MENTIRA DA BARATA ELA TEM É UMA SÓ!



A BARATA DIZ QUE TEM UM ANEL DE FORMATURA! É MENTIRA DA BARATA ELA TEM É CASCA DURA!



A BARATA DIZ QUE TEM UM SAPATO DE VELUDO E É MENTIRA DA BARATA O PÉ DELA É PELUDO!



DE ACORDO COM O TEXTO RESPONDA:

- A BARATA DIZ QUE TEM MUITAS COISAS. COM AJUDA DOS SEUS FAMILIARES, ESCREVA TODAS AS COISAS QUE ELA DIZ QUE TEM.



TURBINE + AINDA

QUESTÃO 09 (EF01LP03.2JAB) - DESAFIO DE LÍNGUA PORTUGUESA

ESCREVA DUAS PALAVRAS QUE RIMAM COM GATO E CIRCULE O SOM DAS RIMAS.

QUESTÃO 10 - (EF01CI05.1JAB)


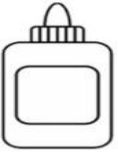



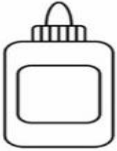





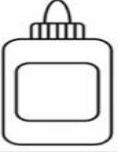

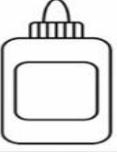


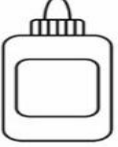



PESQUISE E ESCREVA JUNTO COM ALGUÉM DA SUA FAMÍLIA, O DIA , O MÊS E O ANO QUE VOCÊ NASCEU.

DIA _____ MÊS _____ ANO _____

MATEMÁTICA 1º ANO


QUESTÃO 1 - (EF01MA07.1JAB)

COMPLETE COM OS NÚMEROS QUE FALTAM.

QUESTÃO 2 - (EF01MA12.2JAB)


MARQUE UM X NO ANIMAL QUE ESTÁ ENTRE AS ÁRVORES.



QUESTÃO 5. - (EF01MA12.2JAB)


ESQUERDA OU DIREITA?

- PINTE SOMENTE QUEM ESTÁ INDO PARA ESQUERDA.



QUESTÃO 6. (EF01MA12.1JAB)

- AGORA PINTE SOMENTE QUEM ESTÁ INDO PARA DIREITA.







QUESTÃO 7. - (EF01MA12.3JAB)

A CASA É O LUGAR QUE CONVIVEMOS COM NOSSA FAMÍLIA. NO DIAGRAMA ABAIXO A LOCALIZAÇÃO DE CADA OBJETO É IDENTIFICADA COM UMA LETRA E UM NÚMERO. POR EXEMPLO, O CARRO ESTÁ LOCALIZADO EM C4.


DE ACORDO COM A FIGURA, MARQUE A ALTERNATIVA QUE INDICA A LOCALIZAÇÃO DA CASA.

- (A) C, 3
- (B) C, 1
- (C) B, 2
- (D) A, 4

4				
3				
2				
1				
	A	B	C	D

QUESTÃO 8. - (EF01MA14.2JAB)

OBSERVE AS FORMAS GEOMÉTRICAS E VEJA A FIGURA QUE ALEX DESENHOU. AGORA, FAÇA O SEU DESENHO USANDO AS FIGURAS GEOMÉTRICAS AO LADO DA FIGURA DE ALEX.



Triângulo



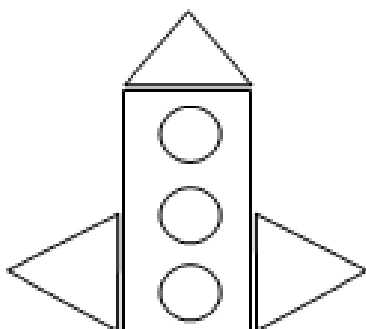
Quadrado



Círculo



Retângulo

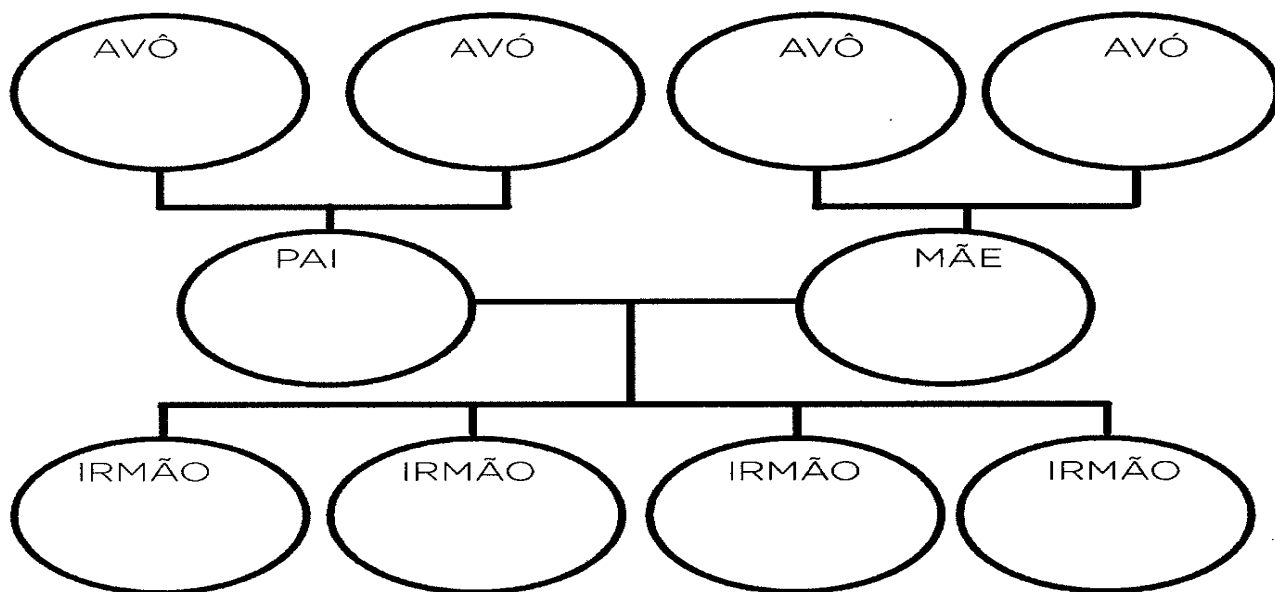




TURBINE + AINDA

QUESTÃO 09 (EF01HI02.1JAB) - DESAFIO DE HISTÓRIA

CONSTRUA A SUA ÁRVORE GENEALÓGICA ESCRIVENDO OS NOMES DOS SEUS FAMILIARES. SE PUDER, COLE FOTOS OU DESENHE.



QUESTÃO 10. - (EF02GE02.3JAB) – DESAFIO DE GEOGRAFIA

FAÇA UM BONITO DESENHO DO ESPAÇO DE VIVÊNCIA QUE VOCÊ MAIS GOSTA DE FREQUENTAR. DEPOIS, ESCREVA O NOME DESSE ESPAÇO E DE QUAL TIPO ELE É: PÚBLICO OU PRIVADO.

NOME DO ESPAÇO DE VIVÊNCIA: _____

TIPO: _____

