


## LÍNGUA PORTUGUESA 3º ANO

**QUESTÃO 1.** Encaixe na cruzadinha o nome das figuras.



Escolha algumas palavras da cruzadinha e construa frases.

---




---



---

<https://br.pinterest.com/pin/774830310863146740/>

**QUESTÃO 2.** Escreva os nomes dos brinquedos na cruzadinha.



<https://br.pinterest.com/pin/774830310863146740/>

**QUESTÃO 3.** Encontre as palavras a seguir no caça palavras (BALEIA, LUA-MAR-NAVIO-ONDA).



<https://br.pinterest.com/pin/774830310863146740/>

**QUESTÃO 4.** Pinte a figura cujo nome começa com o mesmo som que o nome do desenho em destaque.



<https://br.pinterest.com/pin/774830310863146740/>



**QUESTÃO 5.** Uma carta para um dia especial, mas para saber o que está escrito terá que decifrá-la.

LIMA MENSAGEM PARA UM DIA MUITO ESPECIAL, O QUE SERÁ?

-LHO     -MANTE     -ALMOFA  
 -I +ES     -DO +VERIA     -ROTE  
 -MATE +DOS     -SO     -MANTE +S!  
 -QUEDAS +BÊNS À     -MATE +DAS     -A  
 -I +ES!

---

---

---

---

---

---

---

---

<http://umaboanavegada.com.br/tag/carta-enigmatica/>

**QUESTÃO 6.** Encontre as palavras no caça palavras e circule-as, depois escreva-as abaixo de cada figura.

CAÇA-PALAVRAS										
C	A	R	R	O	P	X	C			
P	O	R	C	O	I	V	A			
L	F	K	J	H	C	S	M			
L	B	O	L	A	O	T	A			
U	M	N	B	O	L	O	A			
A	C	A	S	A	É	Z	N			
Z	E	B	R	A	S	T	E			
O	V	E	L	H	A	M	L			
S	O	R	V	E	T	E	B			
P	I	R	U	L	I	T	O			

<https://br.pinterest.com/pin/774830310863146740/>



**QUESTÃO 7.** Ligue as palavras a quantidade de letras que possui.

JARDIM	8 LETRAS
FLORES	3 LETRAS
BORBOLETAS	4 LETRAS
PASSARINHOS	5 LETRAS
OVOS	7 LETRAS
CARACOL	6 LETRAS
SOL	10 LETRAS
LAGARTO	11 LETRAS
CIGARRA	

Qual a quantidade de letras que mais se repetiu?

\_\_\_\_\_

Quais palavras são escritas com essa quantidade de letras?

\_\_\_\_\_

<https://br.pinterest.com/pin/774830310863146740/>

**QUESTÃO 8.** Complete as lacunas com os nomes das figuras, deixando o texto em rima.

## A CASA

ESSA CASA É DO **CACO**  
 QUEM MORA NELA É O \_\_\_\_\_.  
 ESSA CASA É TAO **BONITA**  
 QUEM MORA NELA É A \_\_\_\_\_.  
 ESSA CASA É DE **CIMENTO**  
 QUEM MORA NELA É O \_\_\_\_\_.  
 ESSA CASA É DE **TELHA**  
 QUEM MORA NELA É A \_\_\_\_\_.  
 ESSA CASA É DE **LATA**  
 QUEM MORA LÁ É UMA \_\_\_\_\_.  
 ESSA CASA É **ELEGANTE**  
 QUEM MORA NELA É O \_\_\_\_\_.  
 E DESCOBRI DE REPENTE  
 QUE NÃO FALEI DE CASA DE \_\_\_\_\_.



<https://br.pinterest.com/pin/774830310863146740/>

**QUESTÃO 9.** Escreva o nome do conto o qual pertence cada imagem abaixo:


**QUESTÃO 10.** Complete as lacunas usando as sílabas do balão.


BO CO LA  
JA CA PA FO  
TE BE  
MO DA MI

A\_\_BADO CE\_\_LA CA\_\_SETA CA\_\_LO SALA\_\_ TER\_\_METRO  
 \_\_REDE AN\_\_NA \_\_MIDA PA\_\_NHA \_\_BUTICABA \_\_GUETE  
 A\_\_GO \_\_DARIO \_\_NELA \_\_RETA MA\_\_ PI\_\_MA FA\_\_  
 \_\_LHO \_\_ALHADO \_\_ME \_\_SOURO \_\_DARIA POMA\_\_  
 FOR\_\_GA \_\_LEFONE MA\_\_RRÃO AL\_\_FADA \_\_MA A\_\_LHA  
 \_\_ELHO \_\_PEL \_\_SACO \_\_LHA \_\_LEVISÃO \_\_CADA TU\_\_NO

<https://br.pinterest.com/pin/774830310863146740/>



**QUESTÃO 11.** Vamos completar as palavras!



JANE\_\_\_ TIJO\_\_\_ MOE\_\_\_

JIBÓI\_\_\_ JACA\_\_\_ PIJA\_\_\_

CAPACE\_\_\_ NOVE\_\_\_ CADEA\_\_\_

LÁ\_\_\_ CANE\_\_\_ TELEFO\_\_\_

CORU\_\_\_ DOMI\_\_\_ VE\_\_\_

JAVA\_\_\_ NOI\_\_\_ DETETI\_\_\_

<https://br.pinterest.com/pin/774830310863146740/>

**QUESTÃO 12.** Ordene as sílabas e descubra quais palavras irá formar.

NA - NA - BA	CA - XI - A - BA	NE - NO - VE	NE - CA - BO
_____	_____	_____	_____
FO - NE - TE - LE	BE - LO - CA	TA - VI - MI - NA	E - CU - CA
_____	_____	_____	_____
A - NO - PI	LI - TO - PA	NU - DO - CA	BO - LA - CE
_____	_____	_____	_____
JA - MA - PI	TI - JO - LO	LA - PA - NE	A - CA - DO - DE
_____	_____	_____	_____

<https://br.pinterest.com/pin/774830310863146740/>

**QUESTÃO 13.** Leia o texto.

Dona Baratinha

Lá no alto da colina  
Tem uma casa pequenina.

Que além de uma porta  
Tem também uma janelinha  
Que está sempre fechadinha.

E quem será que mora nela?  
Pois é a Dona Baratinha  
Que vive ali tão sozinha.

(Desconhecido)



Após a leitura, responda:

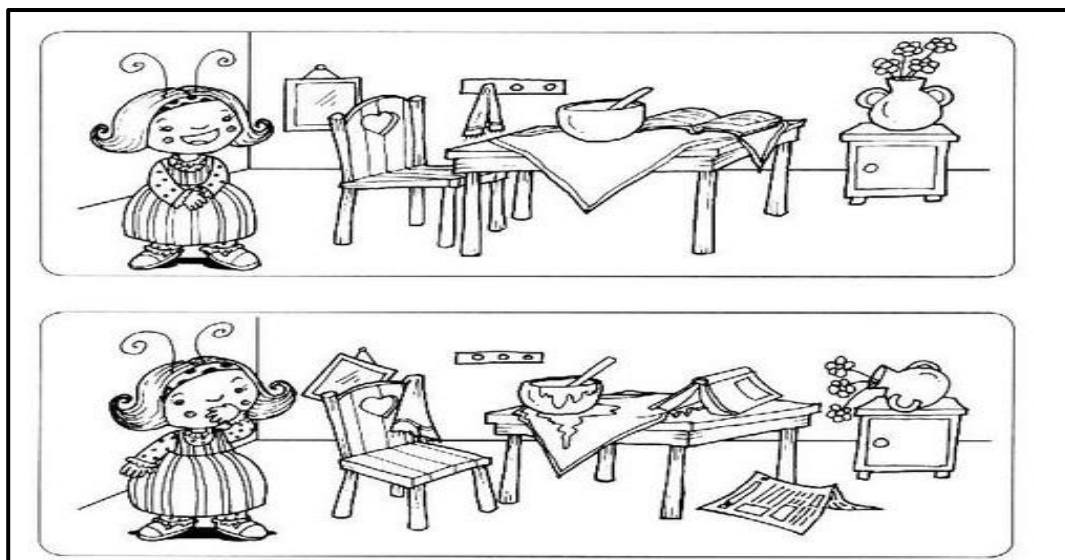
Esse texto é:

( ) Um diário ( ) Um poema ( ) Um convite

<https://br.pinterest.com/pin/774830310863146740/>

**QUESTÃO 14.** Jogo das 7 diferenças. Dona Baratinha não gosta de nada fora do lugar.

Compare as duas cenas e pinte as diferenças.



<http://espacoaprendente.blogspot.com/2012/06/jogos-desafios-e-atividades-para.html>

**QUESTÃO 15.** Labirinto é uma atividade prazerosa e de coordenação motora. Leve os animais ao seu ambiente natural.



<http://www.campogrande.ms.gov.br/planurb/atividades-ludicas-educacao-ambiental/>

**QUESTÃO 16.** Código secreto. Decifre os códigos e descubra as consequências das queimadas para a população e o meio ambiente.

A = 👍	F = ⚡	L = ☁	P = 🏠	T = ▲	Ã = 🎵
D = ✖	G = ❤	N = 🍂	R = ★	U = 🎯	Ó = 🏠
E = ☺	I = \$	O = 🔒	S = ➡	Ç = ✖	

☺ ★ 🔒 ➡ 🎵 🔒

☐ ☐ ☐ ☐ ☐ ☐

❤ 👍 ➡ ☺ ➡ 🏠 🔒 ☁ 🎯 ☺ 🍂 ▲ ☺ ➡

☐ ☐ ☐ ☐ ☐ ☐ ☐ ☐ ☐ ☐ ☐ ☐ ☐ ☐

🏠 ☺ ★ ✖ 👍 ✖ ☺ ✖ 👍 🎯 🍂 👍

☐ ☐ ☐ ☐ ☐ ☐ ☐ ☐ ☐ ☐ ☐ ☐ ☐ ☐

✖ 🔒 ☺ 🍂 ✖ 👍 ★ ☺ ➡ 🏠 \$ ★ 👍 ▲ 🏠 ★ \$ 👍

☐ ☐ ☐ ☐ ☐ ☐ ☐ ☐ ☐ ☐ ☐ ☐ ☐ ☐ ☐ ☐ ☐ ☐ ☐ ☐

<http://www.campogrande.ms.gov.br/planurb/atividades-ludicas-educacao-ambiental/>






**QUESTÃO 17.** Qual dos caminhos leva o jardineiro até a árvore?



<http://www.campogrande.ms.gov.br/planurb/atividades-ludicas-educacao-ambiental/>

**QUESTÃO 18.** Você lembra qual resíduo pertence a cada depósito? Ligue os resíduos ao destino correto.



Azul

Vermelha

Verde

Amarela




<http://www.campogrande.ms.gov.br/planurb/atividades-ludicas-educacao-ambiental/>



Turbine seu conhecimento

**QUESTÃO 19.** Você conhece o jogo da velha? Chame alguém da família para jogar junto. Um escolhe o ( X ) o outro ( O ). Ganha quem completar uma linha, uma coluna ou uma diagonal com o mesmo símbolo. Aproveite.



<https://br.pinterest.com/pin/774830310863146740/>


**QUESTÃO 20.** Pinte o desenho e acrescente o que falta.



<http://www.campogrande.ms.gov.br/planurb/atividades-ludicas-educacao-ambiental/>


## MATEMÁTICA 3º ANO

**QUESTÃO 01.** Complete o quadro abaixo com os numerais de 1 a 9. Atenção! A soma dos três quadrinhos (vertical, horizontal ou diagonal) precisa ser igual a 15.



<https://atividadespedagogicasuzano.com.br/3-ano-desafios-matematicos--pdf/em>

**QUESTÃO 02.** Descubra qual criança consegue chegar na escola, seguindo caminho do labirinto conforme sequência das setas abaixo.




<https://atividadespedagogicasuzano.com.br/3-ano-desafios-matematicos--pdf/em>



Turbine seu conhecimento

**QUESTÃO 03.** Desafio. Será que consegue descobrir a casa de cada um? As dicas são: A Ana mora na primeira casa à direita. O Diogo mora na casa à direita da casa de Beto. A Inês mora na primeira casa à esquerda. O Beto mora na casa do meio. Pinte cada caminho de cor diferente.



<https://atividadespedagogicasuzano.com.br/3-ano-desafios-matematicos--pdf/em>

**QUESTÃO 04.** Observe o peso de cada criança e responda as perguntas:



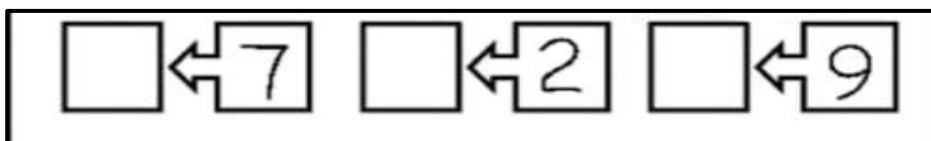
- A) Quem pesa mais? \_\_\_\_\_
- B) Quem é mais leve? \_\_\_\_\_
- C) Quantos quilos Paulo tem a mais que Luísa? \_\_\_\_\_
- D) Quanto pesa Marcos e José juntos? \_\_\_\_\_

<https://www.educacaoetransformacao.com.br/atividades-de-matematica/>

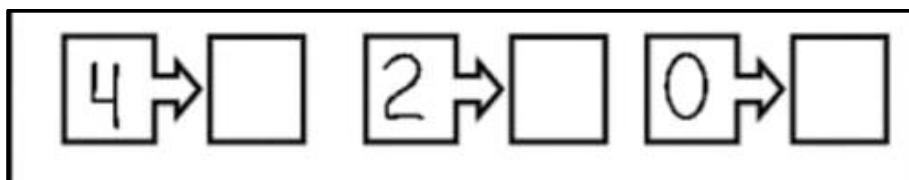


**QUESTÃO 05.** Complete os quadradinhos seguindo as pistas:

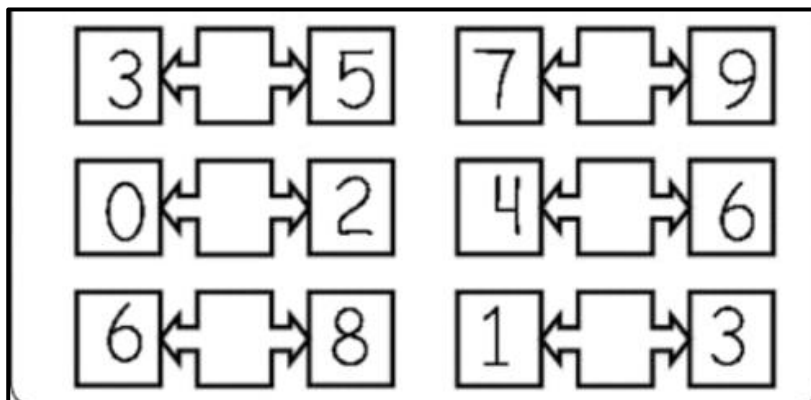
A) Quem vem antes



B) Quem vem depois




C) Quem está entre



<https://br.pinterest.com/pin/774830310863146740/>


**QUESTÃO 06.** Escreva o numeral que completa a sequência para montar o quebra cabeça.



<https://br.pinterest.com/pin/774830310863146740/>







**QUESTÃO 07.** Ajude o Chaveco a pintar o resultado correto de cada adição.



$9+3$	13	12	16	15	20
$10+8$	16	20	18	14	19
$9+6$	15	14	12	10	21
$14+7$	16	21	18	25	30
$20+2$	25	17	22	19	29
$12+1$	15	25	13	25	14

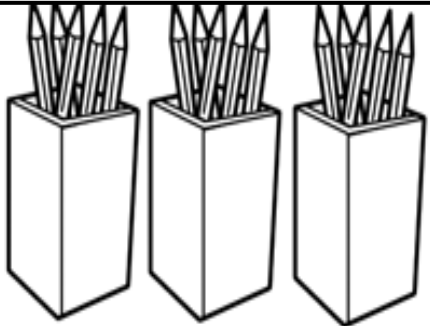
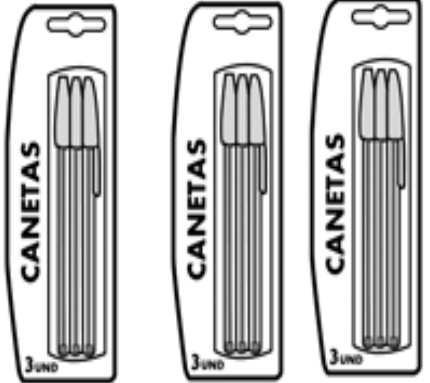
<https://br.pinterest.com/pin/774830310863146740/>

**QUESTÃO 08.** Observe a tabela abaixo e marque com (X) a resposta correta.

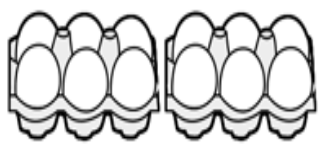

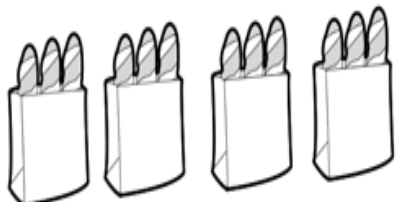
Preço	Paguei com	Recebi de troco
 <b>R\$ 25,00</b>	R\$ 50,00	<input type="checkbox"/> R\$15,00 <input type="checkbox"/> R\$75,00 <input type="checkbox"/> R\$ 3,00 <input type="checkbox"/> R\$25,00
 <b>R\$ 68,00</b>	R\$ 80,00	<input type="checkbox"/> R\$22,00 <input type="checkbox"/> R\$13,00 <input type="checkbox"/> R\$148,00 <input type="checkbox"/> R\$12,00
 <b>R\$ 19,00</b>	R\$ 20,00	<input type="checkbox"/> R\$1,00 <input type="checkbox"/> R\$11,00 <input type="checkbox"/> R\$39,00 <input type="checkbox"/> R\$2,00
 <b>R\$ 86,00</b>	R\$ 100,00	<input type="checkbox"/> R\$186,00 <input type="checkbox"/> R\$14,00 <input type="checkbox"/> R\$86,00 <input type="checkbox"/> R\$26,00

<https://br.pinterest.com/pin/774830310863146740/>

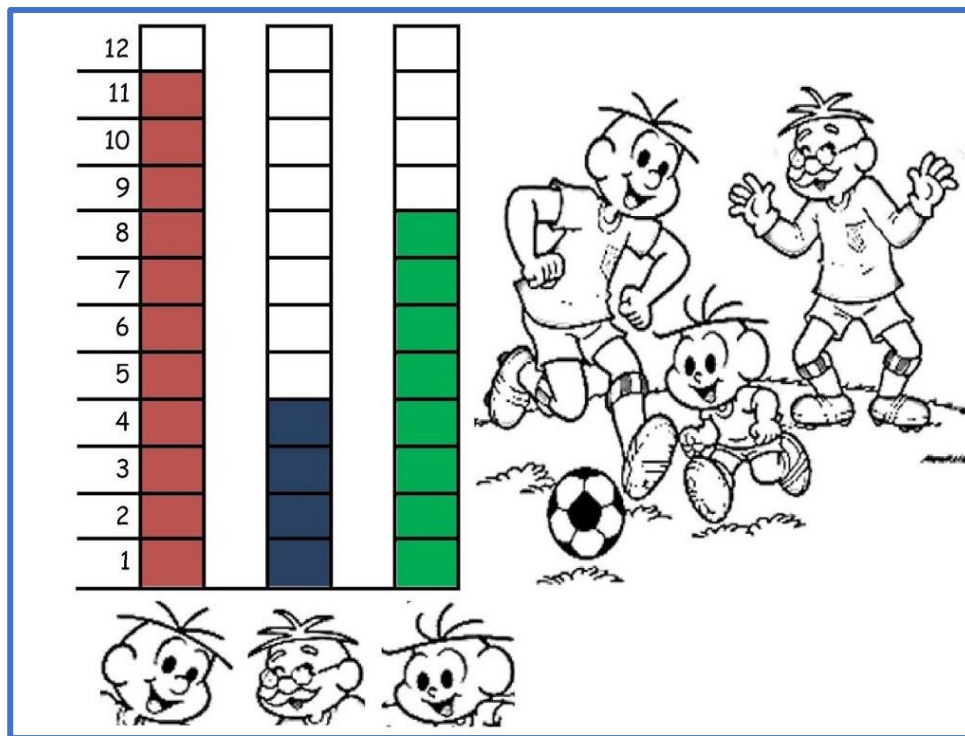
**QUESTÃO 09.** Observe as figuras. Complete a sentença para calcular o total.

ADIÇÃO:	<input type="text"/> + <input type="text"/> + <input type="text"/> = <input type="text"/>	
MULTIPLICAÇÃO:	<input type="text"/> x <input type="text"/> = <input type="text"/>	
TOTAL DE LÁPIS:	<input type="text"/>	
B. QUANTAS CANETAS TEM NO TOTAL?		
ADIÇÃO:	<input type="text"/> + <input type="text"/> + <input type="text"/> = <input type="text"/>	
MULTIPLICAÇÃO:	<input type="text"/> x <input type="text"/> = <input type="text"/>	
TOTAL DE LÁPIS:	<input type="text"/>	

**QUESTÃO 10.** Ligue a multiplicação com a figura correspondente.

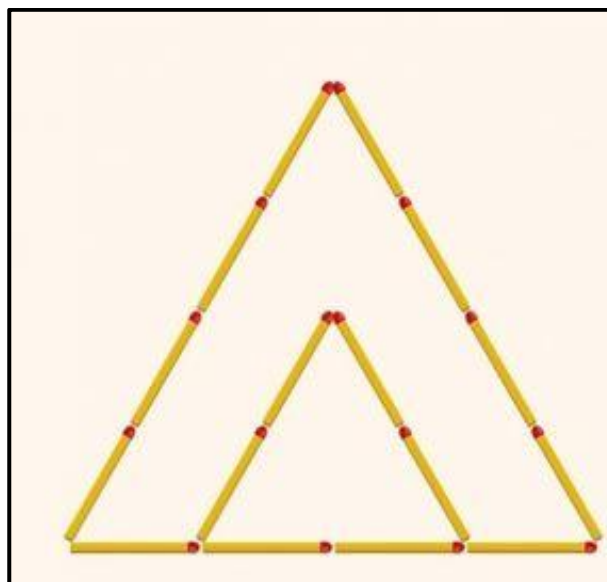
<b>4 X 3</b> •	•	
<b>2 X 2</b> •	•	
<b>6 X 2</b> •	•	

**QUESTÃO 11.** Papai Cebola, o Cebolinha e o vovô jogaram uma partida de futebol. Veja a quantidade de gols que cada um marcou.



- A) Quem marcou mais gols? \_\_\_\_\_
- B) Quem marcou menos gols? \_\_\_\_\_
- C) Qual foi o total de gols dessa partida? \_\_\_\_\_

**QUESTÃO 12.** Desafio dos palitos de fósforos. Reposicione 2 palitos para formar 3 triângulos.



<https://br.pinterest.com/pin/774830310863146740/>






Turbine seu conhecimento

**QUESTÃO 13.** Vamos resolver! Quais números estão faltando nos espaços em branco para que a sentença esteja correta?

	-	3	=	
+		+		+
7	-		=	5
=		=		=
10	-		=	

5	+		=	7
+				-
	+	1	=	
=				=
8	-		=	


**QUESTÃO 14.** Os meninos estão construindo um robô gigante! Tente encontrar no meio da bagunça, uma taça, três maçanetas, uma tomada, uma antena de televisão, um garfo, uma lâmpada, e uma seta. Circule cada item.






Turbine seu conhecimento

**QUESTÃO 15.** Quem vai chegar primeiro na escalada? Aquele que debaixo para cima, terminar a conta com o menor resultado. Vamos resolver. Atenção aos sinais. Pinte quem conseguiu o menor resultado.



<http://companheirosdaeducacao.blogspot.com/2013/11/menino-maluquinho-diversas-atividades.html>

**QUESTÃO 16.** Enigma. Coloque os números 1, 2, 3, 4, 5 e 6 nos coraçõezinhos do triangulo abaixo de modo em que a soma em cada lado seja 10




<http://educandocomaprofessoravanesa.blogspot.com/2013/05/desafios-de-matematica-para-o-5-ano.html>



Turbine seu conhecimento

**QUESTÃO 17.** Desafio. Siga as dicas e descubra os nomes e em que lugar de classificação cada criança chegou na gincana da escola.



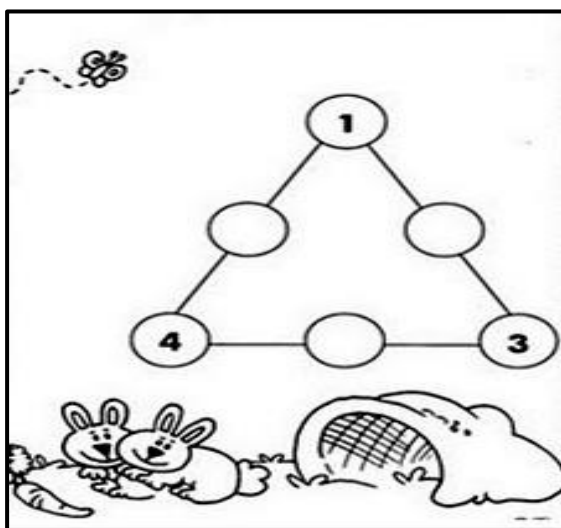
\_\_\_\_\_

\_\_\_\_\_

- 1) Lorena ficou entre Fabiano e marcos.
- 2) Denise não é a terceira e nem quarta colocada.
- 3) Fabiano teve ótima classificação, mas não ficou no primeiro lugar.
- 4) Larissa não está em último lugar.
- 5) Marcos não foi o primeiro lugar e nem o último.

<http://educandocomaprofessoravanesa.blogspot.com/2013/05/desafios-de-matematica-para-o-5-ano.html>

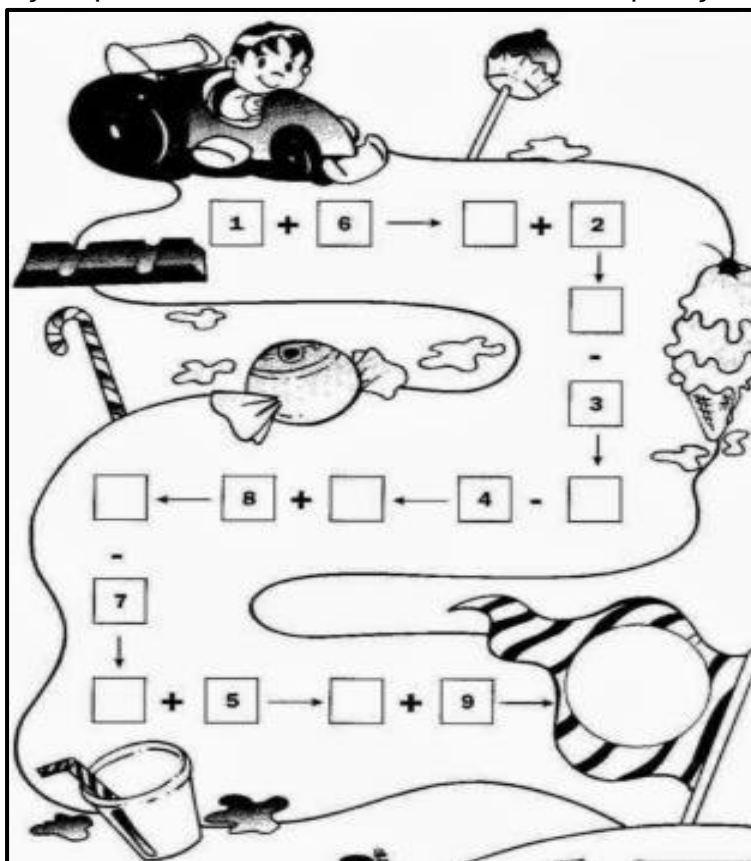
**QUESTÃO 18.** João e Maria adoram brincar com os coelhos. Para chegar até os coelhos, eles precisam atravessar uma cerca triangular que fica perto da toca. Vamos ajuda-los? Siga as instruções abaixo:



A soma de todos os lados da cerca triangular tem que ser 8. Para chegar à toca, bastar encontrar as parcelas que faltam.

<http://www.educarx.com/2013/09/atividades-de-matematica-3-ano-do.html>

**QUESTÃO 19.** Faça o percurso do carrinho, resolvendo as operações indicadas.



<http://educandocomaprofessoravanesa.blogspot.com/2013/05/desafios-de-matematica-para-o-5-ano.html>

**QUESTÃO 20.** Pinte a imagem seguindo as dicas abaixo.

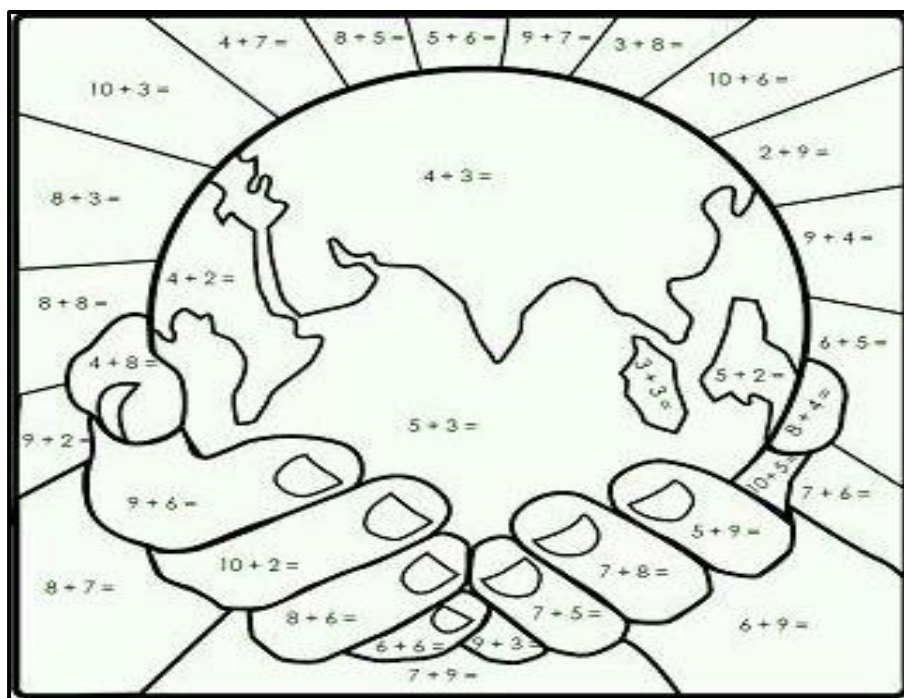
Resultado 11- Laranja

Resultado 16 e 13 – Amarelo

Resultado 6 e 7- Verde

Resultado 8- Azul

Resultado 15, 14 e 12-  
Marrom ou Bege



<http://www.educarx.com/2013/09/atividades-de-matematica-3-ano-do.html>