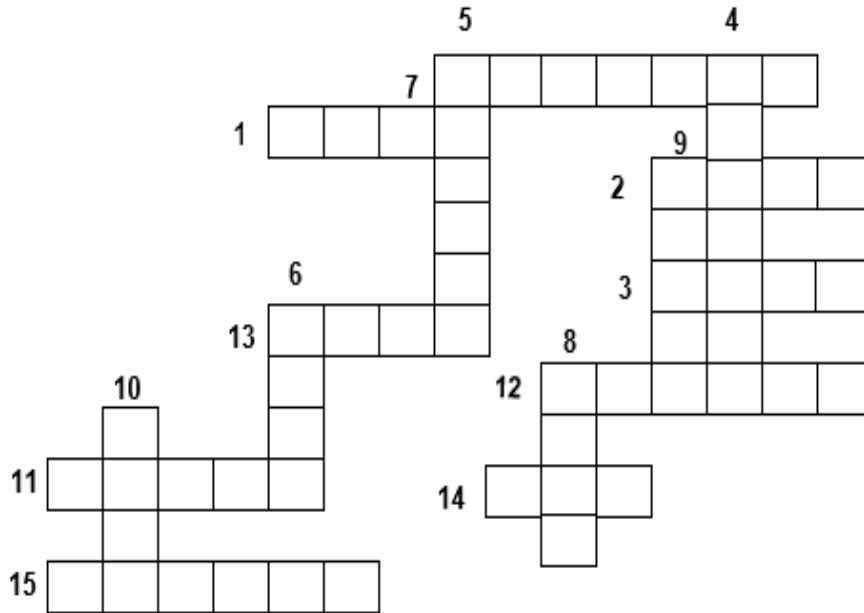




LÍNGUA PORTUGUESA MÓDULO I

QUESTÃO 1. ESCREVA OS NOMES COM A LETRA T NA CRUZADINHA ABAIXO:



- 1 -TATU
- 2 -TELA
- 3 -TAPA
- 4 -TAPETE
- 5 -TOMATE
- 6 -TOCA
- 7 -TUCANO
- 8 -TEIA
- 9 -TITIA
- 10-TEMA
- 11-TERRA
- 12-TOALHA
- 13-TUBO
- 14-TIA
- 15-TAMBOR

QUESTÃO 2. ENCONTRE NO DIAGRAMA ABAIXO OS MUNICÍPIOS DE PERNAMBUCO

J	A	B	O	A	T	Ã	O	U	E	S	C	A	D	A	N
E	D	V	T	E	W	T	Y	G	H	J	N	S	A	F	B
B	S	C	F	D	W	Q	O	L	I	N	D	A	Z	G	X
E	S	G	R	A	V	A	T	Á	T	Y	O	Ç	B	L	R
Z	X	D	C	N	M	P	U	K	L	Q	E	W	P	D	E
E	A	S	D	C	A	R	U	A	R	U	G	Ç	M	C	C
R	V	B	E	A	S	X	F	Ç	U	B	W	X	Z	R	I
R	X	W	Q	B	L	K	L	P	E	R	V	C	D	A	F
O	A	S	G	O	H	T	R	J	K	W	E	I	O	M	E
S	Z	C	X	V	T	I	P	O	J	U	C	A	R	E	Q

- BEZERROS
- CABO
- ACURUARU
- ESCADA
- GRAVATÁ
- IPOJUCA
- JABOATÃO
- OLINDA
- RECIFE



QUESTÃO 3. COMPLETE O NOME DAS FIGURAS COM A SÍLABA QUE FALTA



CA _____



CA _____ LO



BA _____ NA



_____ SA















CO _____ JA









_____ SOU _____

QUESTÃO 4. CIRCULE A LETRA INICIAL DO NOME DE CADA FIGURA:

 <p>E P A H J</p>	 <p>F R M A P</p>	 <p>M T U S K</p>	 <p>K G S T L</p>
 <p>N K P H S</p>	 <p>Z P B M G</p>	 <p>P J M O S</p>	 <p>K J D C R</p>
 <p>T Y M J H</p>	 <p>M S K R T</p>	 <p>F M G C R</p>	 <p>P H K H P</p>



QUESTÃO 5. OBSERVE AS LETRA E MONTE OS NOMES DAS FIGURAS ABAIXO:

 <div style="border: 1px solid black; width: 100px; height: 15px; margin: 5px 0;"></div> <p style="text-align: center;">E R R O F</p>	 <div style="border: 1px solid black; width: 100px; height: 15px; margin: 5px 0;"></div> <p style="text-align: center;">J R R O A</p>	 <div style="border: 1px solid black; width: 100px; height: 15px; margin: 5px 0;"></div> <p style="text-align: center;">U L B E</p>
 <div style="border: 1px solid black; width: 100px; height: 15px; margin: 5px 0;"></div> <p style="text-align: center;">C A F A</p>	 <div style="border: 1px solid black; width: 100px; height: 15px; margin: 5px 0;"></div> <p style="text-align: center;">A N P A L A</p>	 <div style="border: 1px solid black; width: 100px; height: 15px; margin: 5px 0;"></div> <p style="text-align: center;">O P O C</p>

FIGURAS DISPONÍVEIS EM <https://br.pinterest.com/>

QUESTÃO 6. ENCONTRE NO DIAGRAMA ABAIXO O NOME DAS PROFISSÕES:

G	A	R	I	D	P	I	N	T	O	R	W	Y	A	Q	P	R	G
M	S	D	F	G	H	J	K	L	Ç	Z	C	X	M	C	O	V	F
B	C	O	Z	I	N	H	E	I	R	A	N	P	B	M	R	S	A
B	Z	X	C	V	B	N	W	Q	E	R	T	Y	U	F	T	H	X
A	S	D	F	G	H	J	K	L	Ç	M	Z	E	L	F	E	V	I
B	S	P	E	D	R	E	I	R	O	F	H	V	A	B	I	Q	N
Á	S	D	R	Y	W	U	O	P	K	B	V	C	N	F	R	D	E
X	R	Z	Z	C	K	Q	W	R	T	N	X	V	T	B	O	S	I
W	E	L	E	T	R	I	C	I	S	T	A	X	E	S	A	B	R
Z	F	C	T	Y	U	O	P	Ç	N	B	M	C	D	G	P	N	A
C	R	B	W	E	R	D	I	A	R	I	S	T	A	V	S	E	J

AMBULANTE
 BABÁ
 COZINHEIRA
 DIARISTA
 ELETRICISTA
 FAXINEIRA
 GARI
 PEDREIRO
 PINTOR
 PORTEIRO



QUESTÃO 7. ORGANIZE A LISTA DE COMPRAS EM ORDEM ALFABÉTICA.

CAFÉ	BATATA
AÇACAR	LEITE
FARINHA	TOMATE
MACARRÃO	DETEGENTE
PÃO	GOIBADA



FIGURAS DISPONÍVEIS EM <https://br.pinterest.com/>

QUESTÃO 8. LIGUE AS PALAVRAS COM AS FIGURAS CORRESPONDENTES:


FEIJÃO



ARROZ



MACARRÃO



PÃO



QUESTÃO 9. SEPRE AS SÍLABAS DAS PALAVRAS ABAIXO:



--	--	--

CANECA



--	--	--

PANELA



--	--	--

XÍCARA



--	--

PRATO



--	--

FOGÃO

FIGURAS DISPONÍVEIS EM <https://br.pinterest.com/>

QUESTÃO 10. ESCRAVA O NOME DAS FIGURAS ABAIXO:



FIGURAS DISPONÍVEIS EM <https://br.pinterest.com/>

QUESTÃO 11: ESCRAVA O NOME DA FIGURAS INICIADAS COM A LETRA P

QUESTÃO 12: ESCREVA O NOME DAS FIGURAS E DEPOIS ENCONTRE-AS NO DIAGRAMA ABAIXO: FIGURAS DISPONÍVEIS EM <https://br.pinterest.com/>

B	O	L	A	F	A
Q	W	G	D	S	D
A	Y	B	O	L	O
Z	G	J	Ã	V	M
X	H	K	Ç	F	N
E	B	A	L	D	E
W	X	V	P	Q	W
R	T	C	B	G	X
B	S	V	A	R	P
O	A	S	C	H	Ç
N	E	T	I	O	L
É	Z	O	A	I	P
X	C	Y	P	W	O
M	R	B	O	C	A









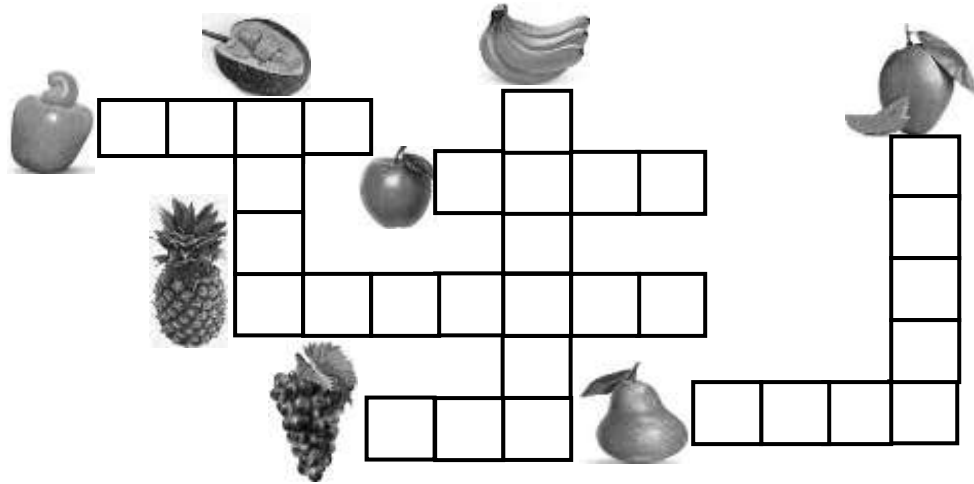






QUESTÃO 13. ESCREVA O NOME DAS FRUTAS NA CRUZADINHA:

- ABACAXI
- BANANA
- CAJU
- JACA
- MAÇÃ
- MANGA
- PERA
- UVA



FIGURAS DISPONÍVEIS EM <https://br.pinterest.com/>

QUESTÃO 14. LEIA AS PALAVRAS E LIGUE A FIGURA CORRESPONDENTE:



LÂMPADA

LUVA

LUA

LIXEIRA

LEITE

LATA

LEQUE

LANTERNA

LAÇO

LAPIS




FIGURAS DISPONÍVEIS EM <https://br.pinterest.com/>



QUESTÃO 19. FALE UM POUCO SOBRE VOCÊ :

QUAL O SEU NOME?
QUAL A CIDADE ONDE VOCÊ MORA?
EM QUE VOCÊ TRABALHA?
ONDE VOCÊ ESTUDA?
O QUE VOCÊ MAIS GOSTA DE FAZER?

QUESTÃO 20. FAÇA UMA LISTA DE COISAS QUE SE GUARDA NA GELADEIRA.



1 _____

2 _____

3 _____

4 _____

5 _____

6 _____

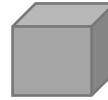
7 _____

8 _____



MATEMÁTICA MÓDULO I

QUESTÃO 1. CIRCULE OS OBJETOS DE ACORDO COM OS SÓLIDOS GEOMÉTRICOS DO MESMO FORMATO.

A. OS OBJETOS QUE LEMBRAM UM CUBO.

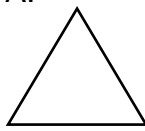


B. OS OBJETOS QUE LEMBRAM UM PARALELEPÍPEDO.



FIGURAS DISPONÍVEIS EM <https://br.pinterest.com/>

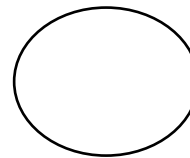
QUESTÃO 2. PINTE AS FIGURAS GEOMÉTRICAS DO TAPETE DE ACORDO COM A LEGENDA.




AZUL



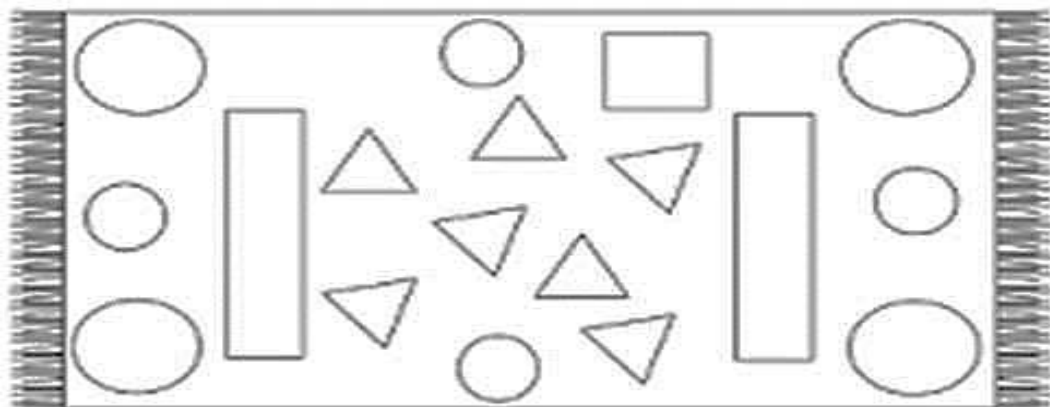
AMARELO



VERDE



VERMELHO



FIGURAS DISPONÍVEIS EM <https://br.pinterest.com/>



QUESTÃO 3. DONA ANA COMPROU OS PRODUTOS ABAIXO PARA A SUA FILHA. OBSERVE OS PREÇOS E CIRCULE AS CÉDULAS QUE JUNTAS REPRESENTAM A QUANTIA CERTA.








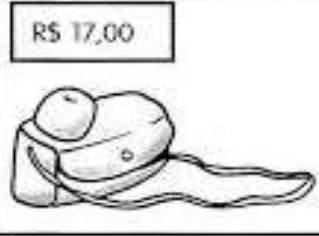























 <p>R\$ 85,00</p>			
			
<p>R\$ 17,00</p> 			
			

FIGURA DISPONÍVEL EM www.atividadespedagogicas.net


QUESTÃO 4. EM NOSSO DIA A DIA USAMOS AS CÉDULAS E MOEDAS PARA TRANSAÇÕES DE COMPRA E VENDA. MOSTRE QUE VOCÊ É CAPAZ ESCRREVENDO AS QUANTIAS EM REAIS.

	 	R\$ _____
	   	
	    	R\$ _____
   		

FIGURAS DISPONÍVEIS EM <https://www.smartkids.com.br/>



QUESTÃO 5. NO DECORRER DE CADA MÊS SE COMPRA VÁRIOS PRODUTOS PARA SEREM USADOS EM CASA. CIRCULE OS PRODUTOS QUE SE COMPRA POR QUILO:



FIGURAS DISPONÍVEIS EM <https://br.pinterest.com/>

QUESTÃO 6. MARQUE COM UM (X) NOS INSTRUMENTOS UTILIZADOS PARA MEDIR O PESO.



FIGURAS DISPONÍVEIS EM <https://br.pinterest.com/>



QUESTÃO 7. O CARTEIRO DEIXOU VARIAS CARTAS NO MESMO ENDEREÇO. PARA DESCOBRIR O NÚMERO DE ENDEREÇO TEMOS QUE EFETUAR AS ADIÇÕES PARA COLOCAR CADA CARTA NA CAIXA DE CORREIO CERTA. VAMOS LIGAR?

	•	•	
	•	•	
	•	•	
	•	•	

FIGURA DISPONÍVEL EM <https://www.soescola.com/>

QUESTÃO 8. OBSERVE O QUADRO VALOR DE LUGAR E REALIZE AS OPERAÇÕES DE FORMA CORRETA.

$\begin{array}{r} \text{D} \text{U} \\ \hline 12 \\ + 34 \\ \hline \end{array}$	$\begin{array}{r} \text{D} \text{U} \\ \hline 23 \\ + 41 \\ \hline \end{array}$	$\begin{array}{r} \text{D} \text{U} \\ \hline 17 \\ + 32 \\ \hline \end{array}$	$\begin{array}{r} \text{D} \text{U} \\ \hline 78 \\ - 21 \\ \hline \end{array}$	$\begin{array}{r} \text{D} \text{U} \\ \hline 89 \\ - 13 \\ \hline \end{array}$	$\begin{array}{r} \text{D} \text{U} \\ \hline 45 \\ - 34 \\ \hline \end{array}$
---	---	---	---	---	---

IMAGEM DISPONÍVEL EM <http://ensinoia.com/>



QUESTÃO 9. RACIOCINE E COMPLETE CADA CONJUNTO DE FORMA QUE NO FINAL A SOMA DE CADA UM SEJA 4. SEI QUE VOCÊ CONSEGUE:

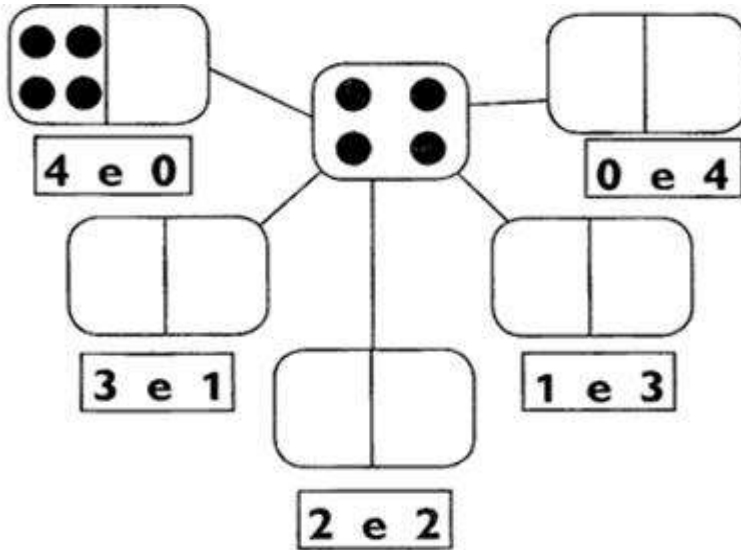


FIGURA DISPONÍVEL EM <http://ensinoia.com/>

QUESTÃO 10. COMPLETE A SEQUÊNCIA CONTANDO DE 2 EM 2.

2	4	6					
	20			26			
34			40				48

IMAGEM DISPONÍVEL EM <http://ensinoia.com/>



QUESTÃO 11. REALIZE ESSAS OPERAÇÕES COM ATENÇÃO OBSERVANDO OS SINAIS:

+ 3		- 2		+ 4	
2	5	6	4	1	5
4		5		0	
5		3		5	
3		4		1	

FIGURA DISPONÍVEL EM <https://atividadespedagogicas.net/>










QUESTÃO 12. LIGUE OS NUMERAIS A SUA FORMA ESCRITA EM PALAVRAS.

15	VINTE E NOVE
21	QUINZE
18	VINTE E TRÊS
29	DOZE
12	VINTE E UM
23	DEZOITO

IMAGEM DISPONÍVEL EM <http://deixemamaeepapai.blogspot.com>



QUESTÃO 13. OBSERVE O QUADRO ABAIXO COM ATENÇÃO:

1	2	3	4	5	6		8	9	10
	12	13		15		17	18		20
21		23	24		26		28	29	

SUBSTITUA OS SÍMBOLOS PELOS NUMERAIS CORRESPONDENTES ACIMA.














































					
					
					

IMAGEM DISPONÍVEL EM <http://deixemamaepapai.blogspot.com/>

QUESTÃO 14. CONTE E COLOQUE OS NUMERAIS NO QUADRO VALOR DE LUGAR.

											
											
										D	U

QUANTOS GRUPOS DE 10? ____ QUANTOS SOBRARAM? ____

											
											
										D	U

QUANTOS GRUPOS DE 10? ____ QUANTOS SOBRARAM? ____

QUESTÃO 15. QUEM VEM ANTES E DEPOIS DOS NUMERAIS ABAIXO?

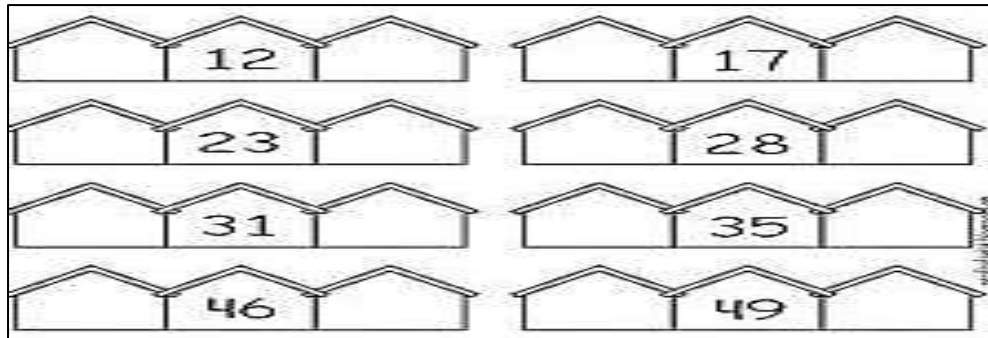


IMAGEM DISPONÍVEL EM <http://deixemamaepapai.blogspot.com/>

QUESTÃO 16. UM ALUNO DO MÓDULO II PEDIU SUGESTÃO AOS AMIGOS DA ESCOLA SOBRE LUGARES PARA PASSEIOS QUE FARÁ APÓS A PANDEMIA COM A NAMORADA. OBTEVE OS SEGUINTE RESULTADOS NA TABELA:

CIRCO 	8
ZOOLOGICO 	5
PARQUE 	7
CINEMA 	11

IMAGENS DISPONÍVEIS EM <https://atividadespedagogicas.n>

AGORA PINTE NO GRÁFICO DE ACORDO COM AS INFORMAÇÕES DA TABELA ACIMA E RESPONDA AS PERGUNTAS ABAIXO:

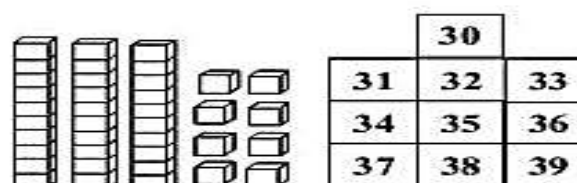
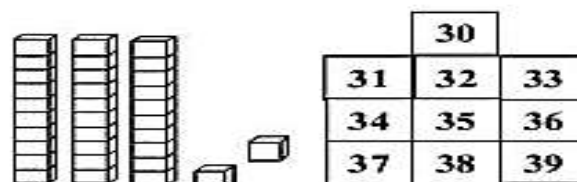
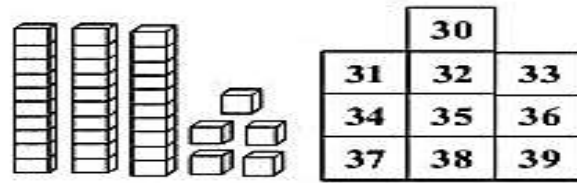
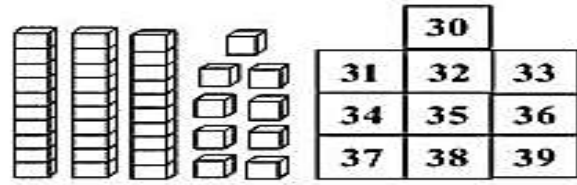
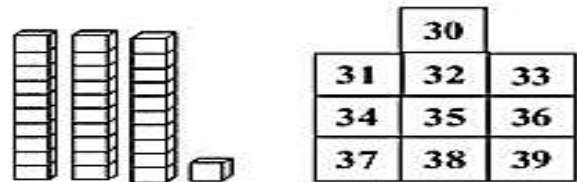
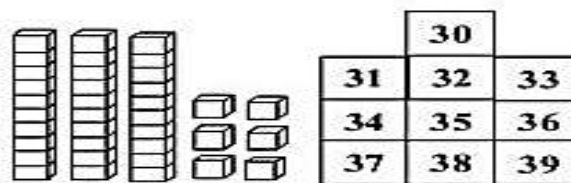
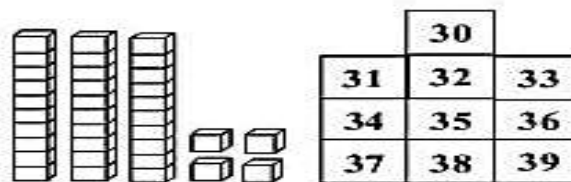

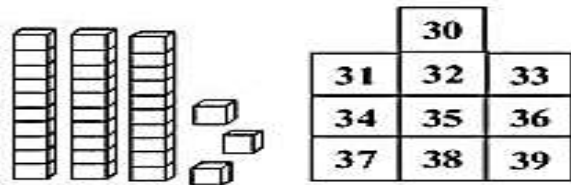
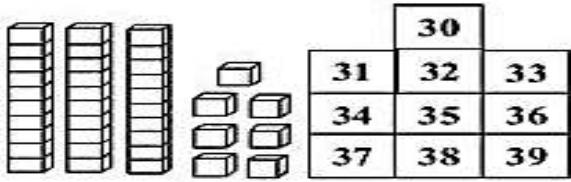
- A) AONDE O ESTUDANTE LEVARÁ SUA NAMORADA? _____
- B) QUAL FOI O SEGUNDO COLOCADO?

- C) QUANTOS VOTOS A MAIS O PRIMEIRO COLACADO TEVE EM REALÇÃO AO SEGUNDO COLOCADO? _____

CIRCO	ZOO	PARQUE	CINEMA



QUESTÃO 17. OBSERVE AS QUANTIDADES INDICADAS NO MATERIAL DOURADO E PINTE NO QUADRO O VALOR CORRESPONDENTE:



IMAGENS DISPONÍVEIS EM <https://atividadespedagogicas.n>

QUESTÃO 18. RESOLVA AS SUBTRAÇÕES:

$$\begin{array}{r} 56 \\ -24 \\ \hline \end{array}$$

$$\begin{array}{r} 65 \\ -31 \\ \hline \end{array}$$

$$\begin{array}{r} 93 \\ -52 \\ \hline \end{array}$$

$$\begin{array}{r} 88 \\ -65 \\ \hline \end{array}$$

$$\begin{array}{r} 38 \\ -13 \\ \hline \end{array}$$

$$\begin{array}{r} 45 \\ -34 \\ \hline \end{array}$$

$$\begin{array}{r} 91 \\ -20 \\ \hline \end{array}$$

$$\begin{array}{r} 83 \\ -42 \\ \hline \end{array}$$

$$\begin{array}{r} 77 \\ -14 \\ \hline \end{array}$$

$$\begin{array}{r} 76 \\ -34 \\ \hline \end{array}$$

$$\begin{array}{r} 49 \\ -22 \\ \hline \end{array}$$

$$\begin{array}{r} 38 \\ -21 \\ \hline \end{array}$$

$$\begin{array}{r} 85 \\ -24 \\ \hline \end{array}$$

$$\begin{array}{r} 56 \\ -31 \\ \hline \end{array}$$

$$\begin{array}{r} 88 \\ -14 \\ \hline \end{array}$$

IMAGENS DISPONÍVEIS EM <https://atividadespedagogicas.n>





QUESTÃO 19. RESOLVA AS SITUAÇÕES PROBLEMA ABAIXO:

A) FLÁVIA GANHOU 26 LIVROS PARA A SUA COLEÇÃO. ELA JÁ POSSUÍA 32. COM QUANTOS LIVROS FLÁVIA FICOU?

B) NUM ÁLBUM HAVIA 56 FOTOGRAFIAS. ELZA DEU 15 PARA A SUA MÃE. QUANTAS FOTOGRAFIAS TÊM AGORA NO ÁLBUM?

QUESTÃO 20. TESTE SUA PERCEPÇÃO VISUAL PROCURANDO 7 ERROS NA IMAGEM ABAIXO:



© SMARTKIDS