







Turbine seu conhecimento

LÍNGUA PORTUGUESA MÓDULO I

QUESTÃO 1. ESCREVA O NOME DAS FRUTAS E CIRCULE AS VOGAIS.

 _____	 _____
 _____	 _____

QUESTÃO 2. VAMOS LER AS FRASES E COMPLETÁ-LAS COM OS NOMES DAS FIGURAS.

A) JANE SAIU PARA COMPRAR _____.



B) O PREGO FUROU O PNEU DA MINHA _____.



C) O _____ ROEU O SACO DE PÃO.










D) PRECISO DE CEM TIJOLOS PARA TERMINAR O _____.





Turbine seu conhecimento

QUESTÃO 3. ESCREVA O NOME DE CADA FIGURA E COM AS SÍLABAS INICIAIS FORME UMA NOVA PALAVRA. VEJA O MODELO.

 TOMADA _____	 CASA _____	TOCA _____
 _____	 _____	_____
 _____	 _____	 _____

QUESTÃO 4. CIRCULE OU PINTE A RESPOSTA CORRETA DAS ADIVINHAÇÕES ABAIXO:

A) QUE FICA EM VOLTA DE QUALQUER PESSOA?

CINTO	RUA	PIJAMA
--------------	------------	---------------





B) QUE SOBE E DESCE, MAS NÃO SAI DO LUGAR?

CARRO	ESCADA	PISCINA
--------------	---------------	----------------



Turbine seu conhecimento

QUESTÃO 5. COMO VOCÊ BEM SABE AS PLACAS TAMBÉM NOS INFORMAM. ASSINALE A INFORMAÇÃO QUE A IMAGEM QUER TRANSMITIR:

	
<input type="checkbox"/> PROIBIDO FUMAR!	<input type="checkbox"/> É PERMITIDO ENTRADA DE CACHORRO.
<input type="checkbox"/> É PERMITIDO FUMAR.	<input type="checkbox"/> PROIBIDO ENTRADA DE CACHORRO.
	
<input type="checkbox"/> CUIDADO! PISO MOLHADO.	<input type="checkbox"/> PERMITIDO O USO DE CELULAR.
<input type="checkbox"/> PODE PASSAR.	<input type="checkbox"/> PROIBIDO O USO DO CELULAR.

QUESTÃO 6. JOGO ORTOGRÁFICO - LEIA CADA PALAVRA E COMPLETE O QUADRO ABAIXO.

COMPRA GROSSO VIDRO GRUDE PRÊMIO PREÇO COFRE
 ABRAÇO FRANGO BRILHO TREZE CREME LÁGRIMA GRIPE

BR	
DR	
GR	
PR	
FR	
TR	
CR	



Turbine seu conhecimento

QUESTÃO 7. ORDENE OS NOMES DE ALGUNS TIMES DE FUTEBOL DE PERNAMBUCO E ESCREVA-OS CORRETAMENTE NA LINHAS ABAIXO.

TACRUZSAN

COTINAU

TPREOILNA

TRALCEN



QUESTÃO 8. FAÇA UM X NO QUADRADINHO DA PLACA ONDE APARECE SOMENTE LETRAS:

ÚLTIMA
SAÍDA
A 200 m

RUA
ALBERTO MATOSO





QUESTÃO 9. COMPLETE AS PALAVRAS DAS FRASES COM GU OU QU E DEPOIS RELEIA COM ATENÇÃO.

EN ANTO AS CRIANÇAS BRINCAVAM DE EIMADA NA ADRA,
NÓS FICAMOS OLHANDO O BAR INHO QUE NAVEGAVA CALMAMENTE
PELA LAGOA.

A MÃE DE ILHERME COMPROU UM A ÁRIO PARA DECORAR
O ARTO DELE.

TODOS FICARAM PREOCUPADOS COM A ALIDADE DO IBE COM
 EIJO SERVIDO NO JANTAR.

O PE ENO HENRI E ESTÁ ANSIOSO PARA GANHAR UMA
 ITARRA DE BRIN EDO.

QUESTÃO 10. COLOQUE A LETRA N NAS PALAVRAS E FAÇA CONFORME O MODELO:

EX: NUCA – NUNCA - NUN-CA

A) TROCO – TRO ___ CO - _____

B) MUDO – MU ___ DO - _____

C) CATO – CA ___ TO - _____

D) VETO – VE ___ TO - _____



Turbine seu conhecimento

QUESTÃO 11. VAMOS LER A PARLENDA? SE NÃO CONSEGUI SOZINHO PEÇA

AJUDA! DEPOIS RESPONDA AS QUESTÕES ABAIXO:

O DOCE PERGUNTOU
PRO DOCE
QUAL É O DOCE MAIS
DOCE QUE O DOCE DE
BATATA-DOCE?

O DOCE RESPONDEU
PRO DOCE QUE O
DOCE MAIS DOCE QUE
O DOCE DE BATATA-
DOCE É O DOCE DE
BATATA-DOCE!



figura disponível em: <https://www.tudogostoso.com.br/>

- A) CIRCULE A PALAVRA **DOCE** NO TEXTO.
- B) QUANTAS VEZES A PALAVRA **DOCE** APARECEU NO TEXTO? _____
- C) DE QUE É FEITO O DOCE? _____
- D) QUE OUTRO TIPO DE DOCES VOCÊS CONHECEM? ESCREVA OS NOMES.
-
-







QUESTÃO 12. MARQUE COM UM X TODAS AS FIGURAS QUE COMEÇAM COM A MESMA LETRA DA PALAVRA DOCE.



Figuras disponíveis em: <https://br.pinterest.com/>



QUESTÃO 13. INDIQUE OS NÚMEROS DE SÍLABAS DAS PALAVRAS:

 <input type="text"/>	 <input type="text"/>	 <input type="text"/>
 <input type="text"/>	 <input type="text"/>	 <input type="text"/>

QUESTÃO 14. DESCUBRA NO CAÇA-PALAVRAS O CONTRÁRIO DAS PALAVRAS ABAIXO:

GRANDE LARGO FRIO RASO BONITO FINO POBRE CERTO

P	E	Q	U	E	N	O	O	Ç
R	R	U	A	U	I	P	Ç	G
I	R	E	G	R	O	S	S	O
C	A	N	R	F	E	I	O	S
O	D	T	T	D	R	T	J	K
J	O	E	O	F	U	N	D	O
I	O	P	Ç	T	J	L	O	S
E	S	T	R	E	I	T	O	O



Turbine seu conhecimento

QUESTÃO 15. COMPLETE OS VERSOS DA PARLENDIA ESCRREVENDO EM CADA ESPAÇO A PALAVRA QUE RIMA.

EX: O CACHIMBO É DE BARRO.

BATE NO JARRO

JARRO
CARROÇA
CARRO

O JARRO É DE OURO,
BATE NO _____

CAVALO
TOURO
BOTE

O TOURO É VALENTE,
CHIFRA A _____

ÁRVORES
BICHOS
GENTE


A GENTE É FRACO,
CAI NO _____

LAGO
ALMOFADA
BURACO

O BURACO É FUNDO,
ACABOU-SE O _____

PLANETA
UNIVERSO
MUNDO

QUESTÃO 16. AS FRUTAS AUMENTAM A NOSSA IMUNIDADE, POIS POSSUEM MUITAS VITAMINAS. ESCRIVAM NA CRUZADINHA OS NOMES DAS FRUTAS:





Turbine seu conhecimento

QUESTÃO 17. LEIA A CANTIGA O CRAVO E A ROSA E RESPONDA AS QUESTÕES

ABAIXO MARCANDO COM UM (X) A RESPOSTA CERTA:

O CRAVO BRIGOU COM A ROSA,
DEBAIXO DE UMA SACADA.

O CRAVO SAIU FERIDO
E A ROSA, DESPEDAÇADA.

O CRAVO FICOU DOENTE,
A ROSA FOI VISITAR.

O CRAVO TEVE UM DESMAIO
E A ROSA PÔS-SE A CHORAR.



- A) QUEM BRIGOU COM A ROSA? () O CRAVO () A PAPOULA
B) O CRAVO E A ROSA ESTAVAM DEBAIXO DA: () JANELA () SACADA () ÁRVORE
C) QUEM TEVE UM DESMAIO? () O CRAVO () A ROSA
D) QUEM FICOU CHORANDO? () A ROSA () O CRAVO

QUESTÃO 18. CIRCULE O NOME DE CADA FIGURA:




figura disponível em: <https://br.pinterest.com/>



Turbine seu conhecimento

QUESTÃO 19. ENCONTRE NO CAÇA-PALAVRAS OS NOMES DOS ANIMAIS

DOMÉSTICOS ABAIXO:

GALINHA PAVÃO BURRO CABRA CÃO CANÁRIO

COELHO OVELHA PORCO PATO VACA HAMSTER



figura disponível em: <http://2.bp.blogspot.com/>

QUESTÃO 20. NESSES DIAS QUE PASSAMOS EM CASA NOS DÁ UMA FOME NÃO É MESMO? VAMOS ORGANIZAR ESSA LISTA DE ALIMENTOS NA ORDEM DO ALFABETO?

MACARRÃO ARROZ FEIJÃO BIFE ESPINAFRE

FRANGO PEIXE BATATA OVO ALFACE

1. _____
2. _____
3. _____
4. _____
5. _____

6. _____
7. _____
8. _____
9. _____
10. _____



figura disponível em: <https://br.pinterest.com/>



MATEMÁTICA MÓDULO I

QUESTÃO 1. MARQUE COM UM X A DEZENA MAIS PRÓXIMA AOS NUMERAIS DADOS:

17	10	20	30	40
----	----	----	----	----


51	30	40	50	60
----	----	----	----	----

78	60	70	80	90
----	----	----	----	----

66	50	60	70	80
----	----	----	----	----

11	10	20	30	40
----	----	----	----	----

QUESTÃO 2. RESOLVA UTILIZANDO A ADIÇÃO:

+	2	6	8	3	9	7	
6							
9							
5							
8							
7							
4							



CADERNO DE ATIVIDADES 3



Turbine seu conhecimento

QUESTÃO 3. ESCREVA O ANTECESSOR E O SUCESSOR DOS NUMERAIS:

	34	
	23	
	43	
	13	

	44	
	54	
	76	
	65	

	66	
	87	
	33	
	32	

QUESTÃO 4. RESOLVA OS PROBLEMAS:

A) NA VÉSPERA DE SÃO JOÃO FIZEMOS UMA FESTA NA NOSSA SALA. SEU BALBINO ENCOMENDOU 42 COXINHAS E 55 EMPADINHAS. QUANTOS SALGADOS ELE ENCOMENDOU?

D	U

RESPOSTA: SEU BALBINO ENCOMENDOU _____ SALGADOS.

B) PARA ENFEITAR A FESTA DE SÃO JOÃO A PROFESSORA RENATA FEZ 34 BANDEIRINHAS VERDES E 46 BANDEIRINHAS AMARELAS. QUANTAS BANDEIRINHAS ELA FEZ AO TODO?

D	U

RESPOSTA: RENATA FEZ AO TODO _____ BANDEIRINHAS.



QUESTÃO 7. QUAL A METADE DOS NUMERAIS ABAIXO?

20	
12	
30	
10	
44	

50	
100	
200	
22	
40	

QUESTÃO 8. MARQUE COM UM X A ESCRITA CORRETA DOS NUMERAIS ABAIXO:

	QUARENTA E QUATRO
26	OITENTA E OITO
	VINTE E SEIS
	VINTE E TRÊS

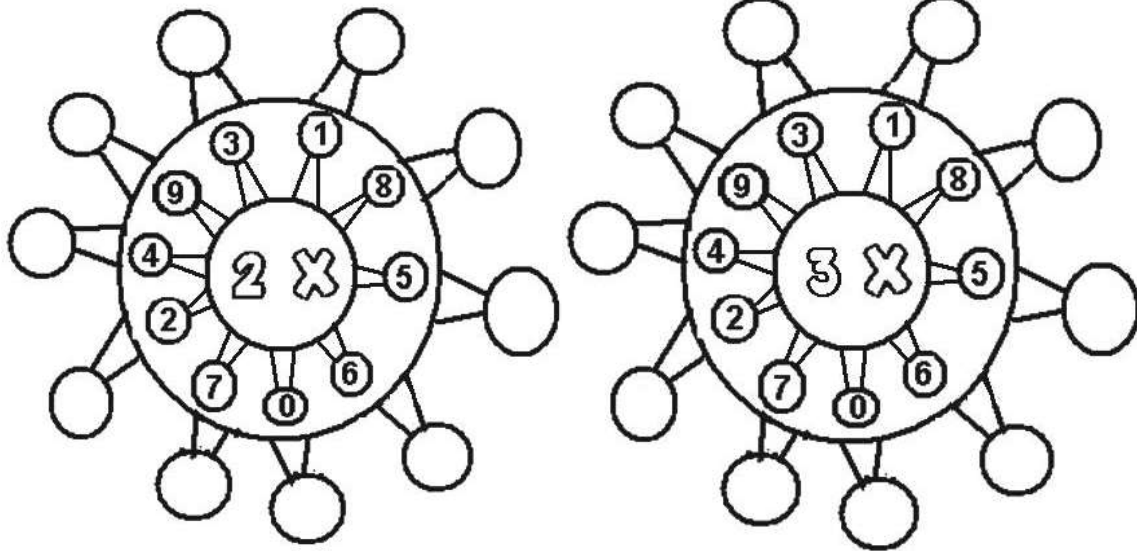
	OITENTA E SETE
87	NOVENTA E NOVE
	VINTE E CINCO
	SETENTA E SETE

	OITENTA E UM
66	CINQUÊTA E DOIS
	QUATORZE
	SESSENTA E SEIS

	NOVENTA E QUATRO
49	QUARENTA E NOVE
	QUARENTA E OITO
	CINQUENTA



QUESTÃO 9. VAMOS CALCULAR A TABUADA. TENHA ATENÇÃO!



figuras disponíveis em: misturadealegria.blogspot.com.br

QUESTÃO 10. ESCREVA OS NUMERAIS QUE SERÃO SOMADOS PARA QUE O RESULTADO SEJA 6 E 9.

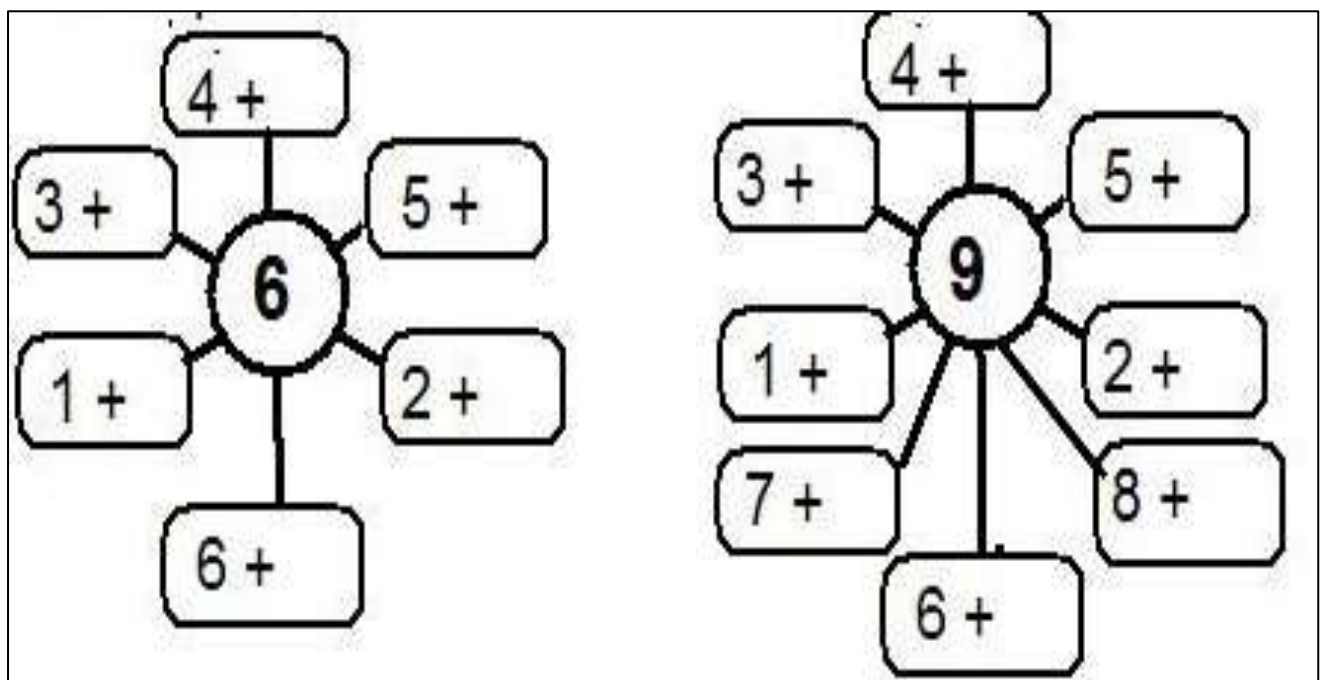


figura disponível em: misturadealegria.blogspot.com.br



QUESTÃO 11. PINTE NAS CALCULADORAS OS RESULTADOS DAS ADIÇÕES ABAIXO.

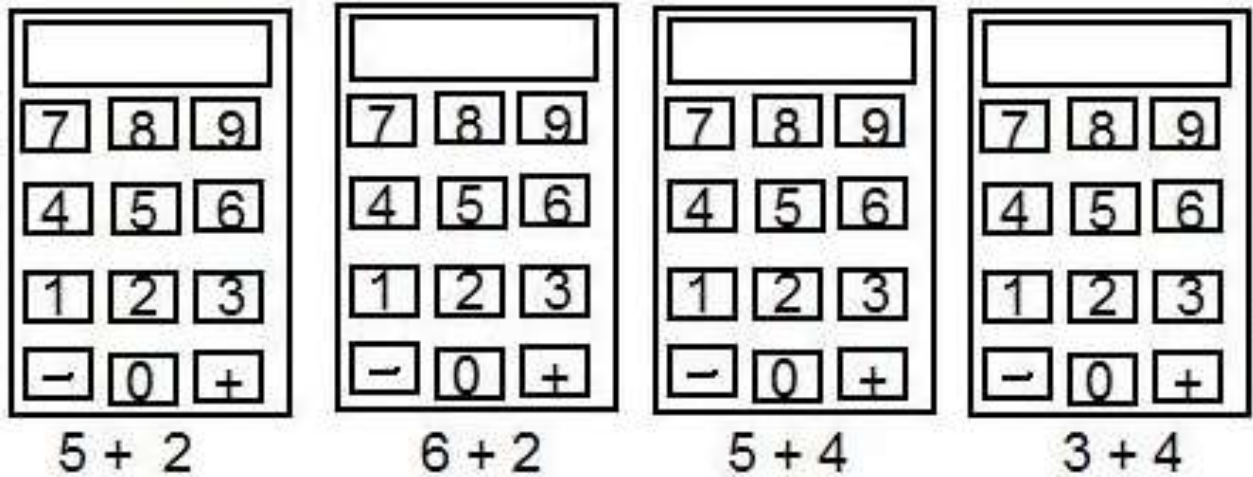
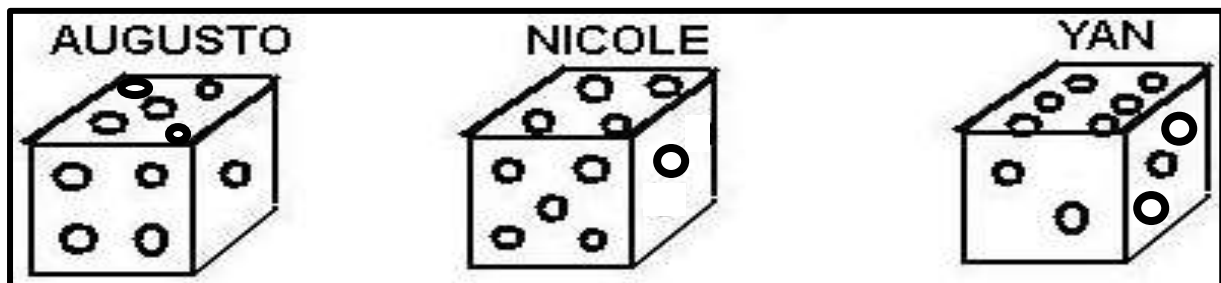


figura disponível em: misturadealegria.blogspot.com.br

QUESTÃO 12. OBSERVE OS DADOS ABAIXO E RESPONDA AS QUESTÕES A SEGUIR:



- A) O DADO DE AUGUSTO CAIU NO NÚMERO _____.
- B) O DADO DE NICOLE CAIU NO NÚMERO _____.
- C) O DADO DE YAN CAIU NO NÚMERO _____.
- D) QUAL DELES CAIU NO MAIOR NÚMERO? _____.
- E) E NO MENOR NÚMERO? _____.
- F) QUAL A SOMA DOS TRÊS JUNTOS?
- G) FAÇA A OPERAÇÃO. _____ + _____ + _____ = _____

disponível em: misturadealegria.blogspot.com.br



Turbine seu conhecimento

QUESTÃO 13. A SOGRA DE PEDRO RESOLVEU FAZER A COMPRA ABAIXO.

OBSERVE O QUE ELA COMPROU E RESPONDA AS QUESTÕES:

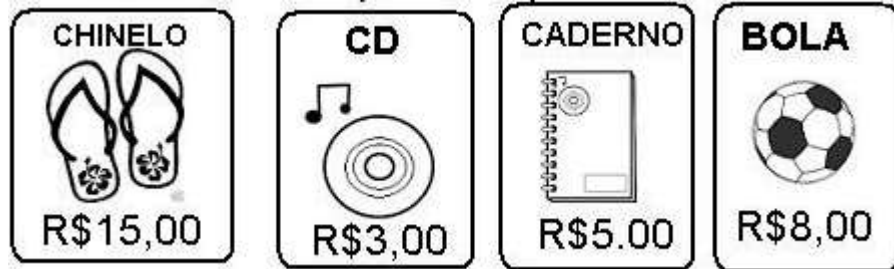


Figura disponível em: misturadealegria.blogspot.com.br

A) QUANTO CUSTA EM REAIS?

O CHINELO _____ O CD _____

O CADERNO _____ A BOLA _____

B) QUAL DOS PRODUTOS CUSTA MAIS? _____

C) QUAL DOS PRODUTOS CUSTA MENOS? _____

D) QUANTO A SOGRA DE PEDRO GASTOU? _____

QUESTÃO 14. CIRCULE OS PRODUTOS QUE COMPRAMOS POR QUILO:



figura disponível em: 1.bp.blogspot.com



QUESTÃO 15. DÊ O DOBRO DOS NUMERAIS ABAIXO:

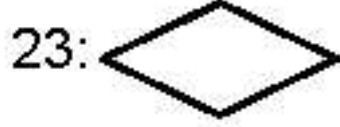
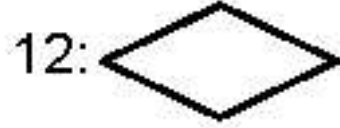
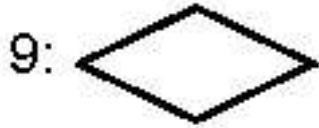


Figura disponível em: misturadealegria.blogspot.com.br

QUESTÃO 16. PINTE DE ACORDO COM AS CORES E O NUMERAL RESPECTIVO:

(5) VERMELHO

(7) LARANJA

(10) VERDE

(6) AZUL

(9) AMARELO

(12) CINZA

(8) MARRON

(13) ROSA

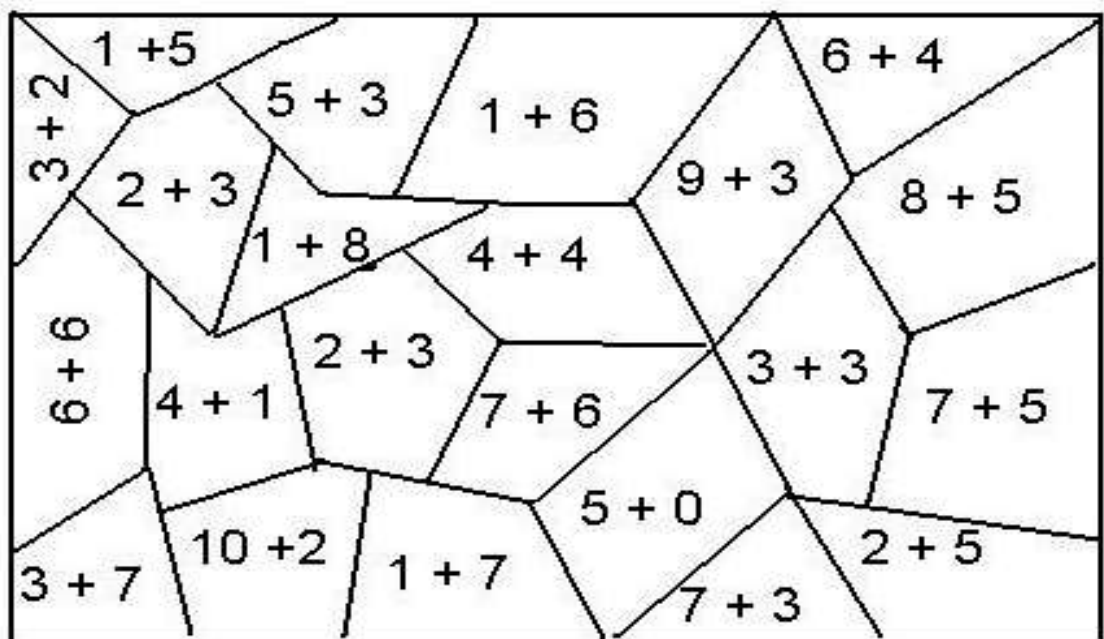


figura disponível em: misturadealegria.blogspot.com.br



QUESTÃO 17. A COSTUREIRA MARIA ESTÁ MEDINDO UMA FITA PARA PREGAR NA BARRA DE UMA SAIA DE UMA ROUPA JUNINA. AJUDE MARIA NESTE TRABALHO ANOTANDO QUANTOS CENTÍMETROS TEM CADA FITA:

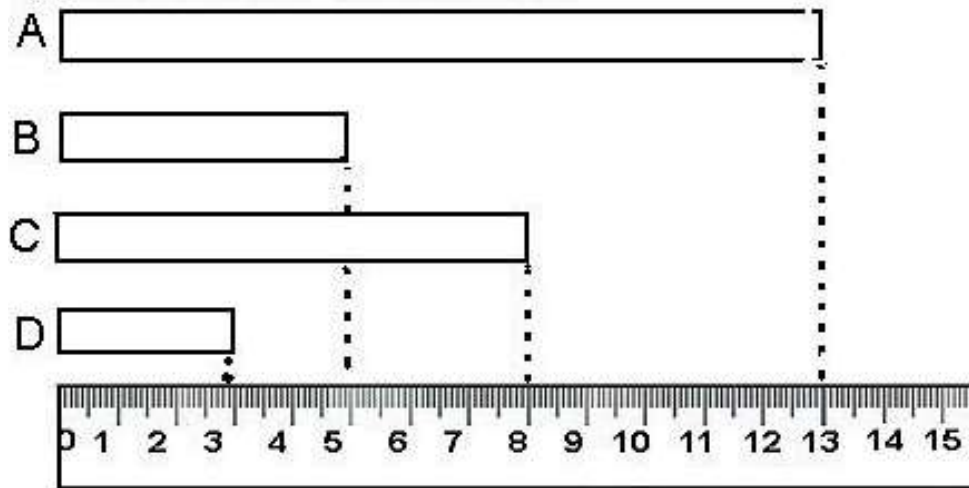


figura disponível em: misturadealegria.blogspot.com.br

A) FITA A _____ C) FITA C _____

B) FITA B _____ D) FITA D _____

E) QUAL DAS FITAS MEDE MAIS? _____

F) QUAL DAS FITAS MEDE MENOS? _____

QUESTÃO 18. VAMOS RESOLVER AS OPERAÇÕES E DEPOIS ESCREVER (V)

PARA VERDADEIRO E (F) PARA FALSO?

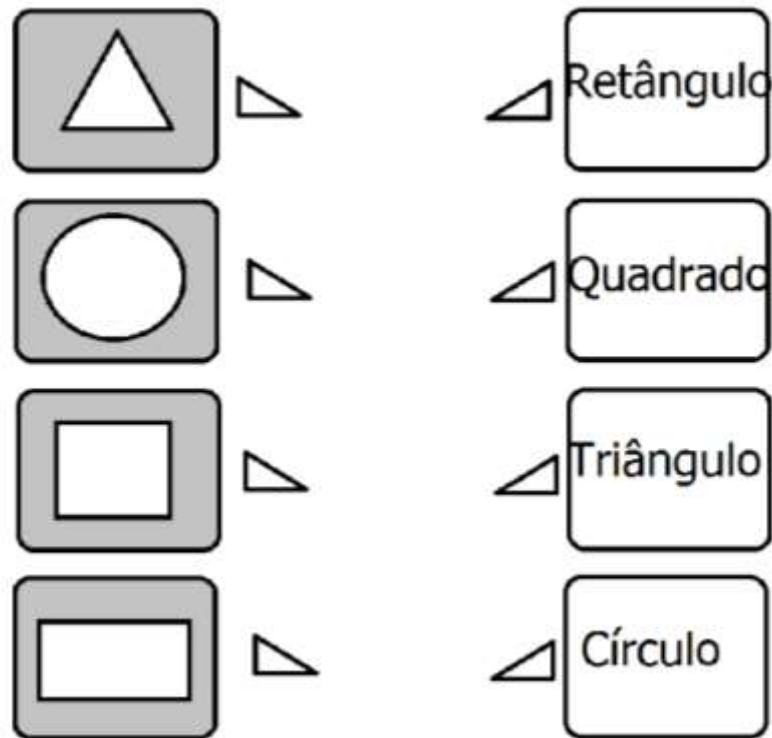
$9 - 4 = 5$	$10 - 2 = 9$	$11 - 3 = 8$
<input type="checkbox"/>	<input type="checkbox"/>	<input type="checkbox"/>
$9 - 9 = 2$	$7 - 3 = 4$	$8 - 3 = 6$
<input type="checkbox"/>	<input type="checkbox"/>	<input type="checkbox"/>

figura disponível em: misturadealegria.blogspot.com.br



Turbine seu conhecimento

QUESTÃO 19. LIGUE AS FORMAS GEOMÉTRICAS A SEU NOME CORRETO.



QUESTÃO 20. CONTE AS CONTAS DO ÁBACO E ESCREVA OS NUMERAIS FORMADOS.

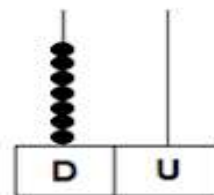
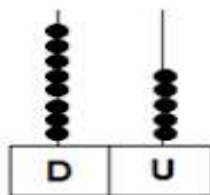
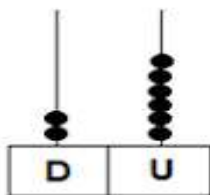
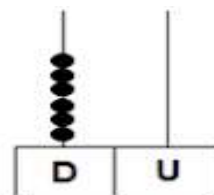
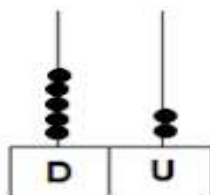
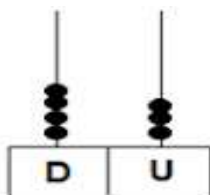


figura disponível em: <https://www.ahoradecolorir.com.br/>