



LÍNGUA PORTUGUESA MÓDULO – II

QUESTÃO 1. (EJAMODI-IILP04.2JAB) LEIA O TEXTO E DEPOIS RESPONDA À PERGUNTA.


PREVISÃO DO TEMPO

ANTES DE SAIR DE CASA, REBECA LIGOU A TV.
REBECA VIU A PREVISÃO DO TEMPO E PENSOU QUE
ERA MELHOR LEVAR GUARDA-CHUVA.

PODEMOS DIZER, A PREVISÃO DO TEMPO NA TV MOSTROU QUE

- A) () PODE FAZER BOM TEMPO.
- B) () PODE CHOVER
- C) () PODE VENTAR MUITO
- D) () PODE SER UM DIA SECO.

QUESTÃO 2. (EJAMODILP25.3JAB) OBSERVE A TIRINHA E EM SEGUIDA RESPONDA.



<https://www.google.com>

NO TERCEIRO QUADRINHO, AS ESTRELINHAS INDICAM QUE DEPOIS DE TEREM SIDOS ATINGIDOS PELA MÔNICA, O ANJINHO E O CEBOLINHA ESTAVAM:

- A) () MAL HUMORADOS
- B) () FRUSTADOS
- C) () SENTINDO DORES
- D) () ARREPENDINDOS



Turbine seu conhecimento

QUESTÃO 3. (EJAMODI-IIP04.3JAB) LEIA O TEXTO COM ATENÇÃO.

RIR FAZ BEM PARA A SAÚDE

O HÁBITO DE RIR ULTRAPASSA OS LIMITES DA ALEGRIA, POIS AUXÍLIA PESSOAS QUE APRESENTAM QUADROS DEPRESSIVOS E SÍNDROME DO PÂNICO. SEGUNDO PESQUISADORES, A RISADA PODE ELEVAR O ASTRAL, A AUTOESTIMA E O AMOR PRÓPRIO DAS PESSOAS. A PESSOA BEM-HUMORADA ENCONTRA RESPOSTAS CRIATIVAS QUANDO O LADO DIREITO DO CÉREBRO É ESTIMULADO E ELE, CONSEQUENTEMENTE, DESPERTA A INTUIÇÃO, O SENTIMENTO, A PERCEPÇÃO E A SENSAÇÃO.

FONTE: BRASIL ESCOLA [HTTP://WWW.BRASILESCOLA.COM/](http://www.brasilecola.com)

A IDEIA APRESENTADA NO TEXTO É A DE QUE

- A) () RIR PREJUDICA A SAÚDE
- B) () RIR É BOM PARA SAÚDE
- C) () O MAU HUMOR FAVORECE A CRIATIVIDADE
- D) () SOMENTE A AUTOESTIMA SE ELEVA COM A RISADA

QUESTÃO 4. (EJAMODILP10.1JAB) LEIA A LISTA DE PRESENÇA E RESPONDA À PERGUNTA

LISTA DE PRESENÇA – EJA MÓDULO II						
	NOME DO ALUNO	DATA DA AULA				
	AMANDA FONSECA					
	BRUNO OLIVEIRA					
	CAROLINA VIANA					
	EDUARDO ROCHA					

SEGUINDO A ORDEM ALFABÉTICA, QUAL NOME COMPLETA A LISTA?

- A) () BIANCA OLIVEIRA
- B) () DANIELA DA SILVA
- C) () MILENA GONÇALVES
- D) () RENATA COSTA



Turbine seu conhecimento

QUESTÃO 5. (EJAMODIILP10.2JAB) ESCREVA O ANTÔNIMO DAS PALAVRAS USANDO OS PREFIXOS **IN / IM** DE ACORDO COM OS MODELOS.

POTENTE – IMPORTANTE

FELICIDADE – INFELICIDADE

PERMEÁVEL – _____

FIDELIDADE – _____

PERFEIÇÃO – _____

CONVENIENTE – _____

SALUBRIDADE – _____

FERTILIDADE – _____

PERFEITO – _____

QUESTÃO 6. RESPONDA:

A) **(EJAMODIILP31.1JAB)** COMPLETE AS PALAVRAS COM AS SÍLABAS ABAIXO:

PA	ME	CO	FA	DO
----	----	----	----	----

SA____TO _____CADA _____MINÓ SALA_____

GIRA_____ _____LITO SA__LA MA_____

B) **(EJAMODIILP36.3JAB)** MARQUE A ALTERNATIVA COM A PONTUAÇÃO CORRETA:

A) () COMO VOCÊ ESTÁ!

B) () COMO VOCÊ ESTÁ?

C) () COMO VOCÊ ESTÁ.



Turbine seu conhecimento

QUESTÃO 7. (EJAMODILP03.1JAB) LEIA O TEXTO E RESPONDA AS QUESTÕES 7 A 9.

SAUDADE

SAUDADE...

SAUDADE DE OLHAR PARA VOCÊ.

SAUDADE DE FALAR COM VOCÊ.

SAUDADE DE BRINCAR COM VOCÊ.

MAS, O QUE ME CONFORTA

É A CERTEZA QUE VOU TE VER.



SÔNIA CASTANHA

QUAL A PALAVRA QUE MAIS SE REPETE NO TEXTO ACIMA?

- A) () VOCÊ
- B) () SAUDADE
- C) () COM
- D) () BRINCAR

QUESTÃO 7. (EJAMODILP06.1JAB) QUANTAS SÍLABAS TEM A PALAVRA SAUDADE?

- A) () 1 SÍLABA
- B) () 2 SÍLABAS
- C) () 3 SÍLABAS
- D) () 4 SÍLABAS

QUESTÃO 8. (EJAMODILP03.2JAB) QUAIS PALAVRAS DO TEXTO RIMAM COM A PALAVRA OLHAR?

- A) () FALAR E BRINCAR
- B) () FALAR E VOCÊ
- C) () VOCÊ E BRINCAR
- D) () VER E VOCÊ



Turbine seu conhecimento

QUESTÃO 9. (EJAMODILP15.1JAB) NO TRECHO, “MAS, O QUE ME CONFORTA É A CERTEZA QUE VOU TE VER.”

A PALAVRA QUE SUBSTITUI O TERMO CONFORTA É:

- A) () APAVORA
- B) () ACALENTA
- C) () DESPERTA
- D) () DESESPERA
- E) () RAIVA

QUESTÃO 10. (EJAMODIMA01.1JAB) LEIA O TEXTO E RESPONDA.

O PRESENTE DA MAMÃE

JOSÉ É UM FILHO MUITO DEDICADO. ELE TEM 32 ANOS E 3 FILHOS.

ELE FOI À UMA LOJA, NA RUA 13, COMPRAR O PRESENTE DA SUA MÃE E COMPROU UMA SANDÁLIA, NÚMERO 38, NO VALOR DE 80 REAIS.

JOSÉ SÓ CHEGOU EM CASA ÀS 15 HORAS.

CHEGOU CANSADO, MAS FELIZ POR TER COMPRADO UM LINDO PRESENTE PARA MAMÃE.



SÔNIA CASTANHA

ESCREVA ABAIXO OS NÚMEROS QUE REPRESENTAM CADA ITEM:

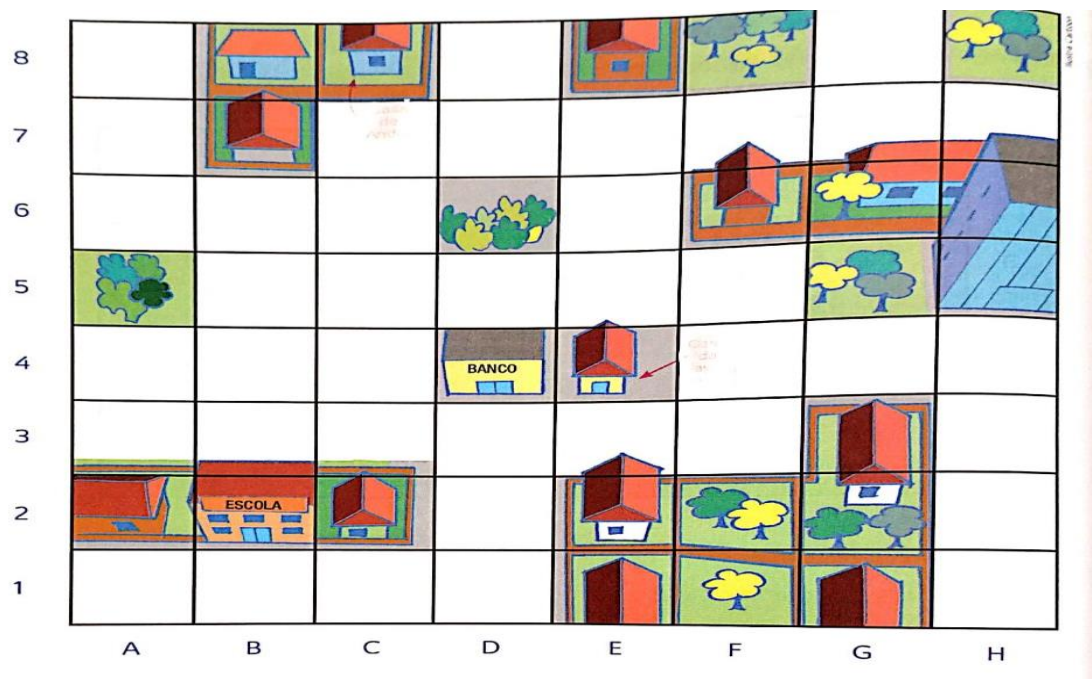
- A) IDADE JOSÉ: _____
- B) NÚMERO DE FILHOS DE JOSÉ: _____
- C) NOME DA RUA: _____
- D) NÚMERO DA SANDÁLIA: _____



Turbine seu conhecimento

FORAM PINTADAS _____ LINHAS COM _____ QUADRINHOS CADA, NUM TOTAL DE _____ QUADRINHOS.

QUESTÃO 3. (EJAMODIMA12.5JAB) ESTE É UM ESQUEMA DO BAIRRO ONDE ANDRÉ MORA.



MALBARES ALFABETIZAÇÃO MATEMÁTICA-ALFABETIZAÇÃO MATEMÁTICA-1ª EDIÇÃO, 2º ANO FT- PÁG 164.

QUAL É A LOCALIZAÇÃO:

- A) DO BANCO? _____
B) DA ESCOLA? _____

QUESTÃO 4. (EJAMODIIMA05.1JAB) CALCULE E MARQUE A RESPOSTA CORRETA:

$$125 + 30 + 200 - 130 - 50 + 150$$



Turbine seu conhecimento

- A) () 300
- B) () 325
- C) () 415
- D) () 500

QUESTÃO 5. RESOLVA OS PROBLEMAS ABAIXO:

- A) **(EJAMODIIMA07.1JAB)** JOÃO TEM 12 ANOS DE IDADE, SEU PAI TEM QUATRO VEZES A SUA IDADE E SUA MÃE TEM TRÊS VEZES A SUA IDADE. QUAL A IDADE DO PAI E DA MÃE DE JOÃO?

- B) **(EJAMODIIMA06.1JAB)** ANA FOI À FEIRA E COMPROU 10 TOMATES, 12 BANANAS, 8 CEBOLAS, 7 BATATAS, 11 CENOURAS, 6 MAÇÃS, 5 PERAS, 9 GOIABAS E 2 MELÕES. QUANTOS ALIMENTOS ANA COMPROU AO TOTAL?

QUESTÃO 6. VAMOS RESOLVER AS SITUAÇÕES PROBLEMAS ABAIXO?

- A) **(EJAMODIMA09.1JAB)** ESCREVA OS NÚMEROS ABAIXO NA ORDEM CRESCENTE (DO MENOR PARA O MAIOR).

32	3	13	38	80	15
----	---	----	----	----	----

-
- B) **(EJAMODIIMA01.02JAB)** OBSERVE OS NÚMEROS:



Turbine seu conhecimento

32	3	13	38	80	15
----	---	----	----	----	----

DESSA SEQUÊNCIA, QUAL O **MENOR** E **MAIOR** NÚMERO?

- A) () 3 e 38
 B) () 15 e 38
 C) () 3 e 80
 D) () 13 e 80



QUESTÃO 7. (EJAMODIMA07.4JAB) ESCREVA OS NÚMEROS ABAIXO NO QUADRO VALOR DE LUGAR

15	27	30	11																
<table border="1" style="display: inline-table; text-align: center;"><tr><td>D</td><td>U</td></tr><tr><td> </td><td> </td></tr></table>	D	U			<table border="1" style="display: inline-table; text-align: center;"><tr><td>D</td><td>U</td></tr><tr><td> </td><td> </td></tr></table>	D	U			<table border="1" style="display: inline-table; text-align: center;"><tr><td>D</td><td>U</td></tr><tr><td> </td><td> </td></tr></table>	D	U			<table border="1" style="display: inline-table; text-align: center;"><tr><td>D</td><td>U</td></tr><tr><td> </td><td> </td></tr></table>	D	U		
D	U																		
D	U																		
D	U																		
D	U																		

QUESTÃO 8. (EJAMODIMA07.4JAB) OBSERVE A INFORMAÇÃO ABAIXO E RESPONDA A QUESTÃO.


VOCÊ SABIA?

- UM ELEMENTO É CHAMADO DE UNIDADE.
- UM GRUPO DE DEZ ELEMENTOS É CHAMADO DE DEZENA.
- UM GRUPO DE CEM ELEMENTOS É CHAMADO DE CENTENA.

Centena
100

Dezena
10

Unidade
1







<https://www.google.com>

COMPLETE A TABELA DE ACORDO COM A INFORMAÇÃO ACIMA.



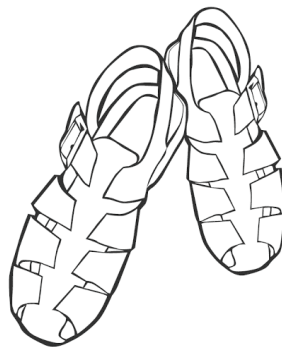
Turbine seu conhecimento

Palitos	Dezena(s)	Unidade(s)	Total
	2	2	22
			
			
			

QUESTÃO 9. (EJAMODIMA19.3JAB) RESPONDA A SITUAÇÃO PROBLEMA:

A SANDÁLIA QUE JOSÉ COMPROU PARA SUA MÃE CUSTOU 80 REAIS. SE ELE PAGOU COM UMA NOTA DE 100 REAIS, QUANTO ELE RECEBEU DE TROCO?

- A) R\$ 20,00
- B) R\$ 80,00
- C) R\$ 100,00
- D) R\$ 180,00



TURBINE + AINDA

QUESTÃO 10.

(EJAMODIIHI01.1JAB)

FAÇA UMA LISTA COM O NOME DOS GRUPOS SOCIAIS A QUE VOCÊ PERTENCE.



CADERNO DE ATIVIDADES



Turbine seu conhecimento