

NOME: _____

ESCOLA: _____



SECRETARIA MUNICIPAL DE EDUCAÇÃO



**CADERNO DE ATIVIDADES
TURBINE SEU CONHECIMENTO
3ª UNIDADE
ANOS FINAIS –9º ANO**

LÍNGUA PORTUGUESA – 9º ANO

QUESTÃO 1 (EF69LP03.1JAB)



PRAIA DE PIEDADE, NO JABOATÃO, VOLTA A SER PALCO DO NASCIMENTO DE FILHOTES DE TARTARUGA-MARINHA

No fim da tarde desta terça-feira (13), 378 filhotes de tartaruga-marinha, da espécie pente, realizaram o percurso da faixa de areia até o mar da praia de Piedade, no Jaboatão dos Guararapes. Os filhotes saíram de quatro ninhos que vinham sendo monitorados pelo Núcleo de Monitoramento de Animais Marinhos e Silvestres (Moamas), ligado à Secretaria Executiva de Bem-Estar Animal da Prefeitura do Jaboatão dos Guararapes.

A orla do município, por ser considerada ponto de reprodução de diversas espécies de tartarugas-marinhas, é alvo de monitoramento intensivo, realizado 24 horas por dia. O ato da soltura é um momento especial, normalmente acompanhado por alunos de escolas das redes pública e privada, mas diante da pandemia do novo coronavírus, o encontro precisou ser suspenso.

De acordo com o Moamas, Jaboatão registra, em média, mais de 30 ninhos de tartarugas-marinhas por ano. O trabalho de proteção desses nascedouros tem garantido a preservação das espécies, ameaçadas de extinção devido, principalmente, à pesca com rede de arrasto, artefato que, ao se enroscar no animal, acaba levando-o a óbito. Por isso a prefeitura tem intensificado as ações educacionais junto à população e, principalmente, à comunidade.

Fonte: PREFEITURA DO JABOATÃO DOS GUARARAPES - Disponível em: <<https://jaboatao.pe.gov.br/praiade-piedade-no-jaboatao-volta-a-ser-palco-do-nascimento-de-filhotes-de-tartaruga-marinha/>> Acesso: 15 de mai. 2021.

De acordo com as características presentes no texto, podemos concluir que é

- (A) uma charge
- (B) uma tirinha
- (C) uma notícia
- (D) uma carta

QUESTÃO 2 (EF69LP55.1JAB)

Leia a tirinha a seguir:



A linguagem da tirinha expõe:

- (A) devido à linguagem do Chico Bento, a professora e ele não conseguem se comunicar.
- (B) A linguagem exposta na tirinha é culta, pois esses personagens estão dentro de uma instituição escolar.
- (C) Expressões como “pruquê”, “num”, “arguma” devem ser banidos na comunicação em qualquer contexto.
- (D) A fala de Chico Bento faz o uso coloquial (não padrão) da língua, motivado por diversos fatores (regional, escolaridade, idade, financeiro etc.).
- (E) Não ocorre algum tipo de problema com a linguagem usada por Chico Bento, podendo ser utilizada em qualquer contexto social, como trabalhos escolares, situações formais etc.

QUESTÃO 3 (EF09LP02.1JAB)

Observe o cartum a seguir para responder às questões 03 e 04.



Disponível em: <https://fazdecontaquesei.blogspot.com.br/2012/08/a-inclusao-da-tecnologia-na-educacao.html>. Acesso em: 21 jan. 2018.

O cartum acima:

- (A) apresenta aos pais que os atuais alunos têm se preocupado muito com as leituras na escola.
- (B) mostra que muitos alunos desconhecem algumas obras literárias importantes.
- (C) informa que alguns alunos estão mais preocupados em brincar do que ler um bom livro.
- (D) critica o uso que as crianças têm feito da tecnologia, priorizando-a e deixando de lado a leitura de livros.



QUESTÃO 4 (EF69LP54.1JAB)

Os personagens do cartum apresentam diferentes reações diante do livro. Por meio das expressões faciais e corporais dos personagens é possível afirmar que eles sentem

- (A) alegria, euforia e curiosidade.
- (B) medo, receio e curiosidade.
- (C) ódio, raiva e curiosidade.
- (D) medo, alegria e euforia.

QUESTÃO 5 (EF89LP16.1JAB)

Leia:

Por que formigas são tão importantes?

As formigas são superimportantes para a natureza. Uma das coisas que elas fazem é dispersar sementes. Isso significa que elas carregam sementinhas de plantas de uma parte para outra, e isso ajuda mais plantas a nascerem por aí! É um trabalho bem legal.

Elas também ajudam a controlar os pulgões, um tipo de inseto bem pequenininho, chamado de piolho de planta – e que fazem mal para as plantas. Além disso, elas ajudam na absorção de nutrientes no solo. “Ao fazer os ninhos, elas facilitam a entrada de ar e água em lugares do solo que não entrariam naturalmente”, explica Carla Ribas, professora do curso de Ciências Biológicas da Universidade Federal de Lavras (UFLA).

Tá vendo? As formigas têm vários trabalhos importantes para plantas, animais e para a gente! Elas são muito importantes no mundo.

Luiza Lages. Disponível em: <<https://minasfazciencia.com.br/infantil>>. (Com adaptação).

O advérbio na frase: “Por que formigas são tão importantes?” intensifica o sentido de

- (A) um verbo.
- (B) um adjetivo.
- (C) um advérbio.
- (D) um pronome.



QUESTÃO 6 (EF89LP16.1JAB)

Reescreva as frases a seguir, empregando no presente do indicativo os verbos indicados:

- (A) Não duvide de Arthur, pois ele sempre _____ sua palavra. (manter)
- (B) Não sei por que, mas eles _____ de tudo. (descrever)
- (C) Sempre que há qualquer rixa entre nós, mamãe _____ para apaziguar os ânimos.
(intervir)
- (D) Eu espero que aquelas senhoras me _____ uma boa gorjeta – disse o garçom. (dar)
- (E) Essas caixas _____ livros de literatura. (conter)
- (F) O ditador e sua família _____ o poder há anos no país. (deter)

QUESTÃO 7 (EF89LP16.1JAB)

Na frase “Ele estava bem preocupada”, o termo sublinhado é:

- (A) um advérbio de negação.
- (B) um advérbio de modo.
- (C) um advérbio de intensidade.
- (D) um advérbio de tempo.

QUESTÃO 8 (EF09LP08.1JAB)

Solo dos Pampas

Na região dos pampas, o solo é fértil. Por isso, esses campos são normalmente procurados para desenvolvimento de atividades agrícolas.

Ainda mais férteis são as áreas com solo do tipo “terra roxa”, batizado assim devido ao nome que receberam dos italianos que vieram para o Brasil trabalhar na lavoura. Por causa de sua cor avermelhada, eles chamavam o solo de *terra rossa*, pois em italiano, *rosso* é vermelho. Só que quem começou a chamar de terra roxa não sabia italiano e acabou confundindo *rosso* com roxo por causa do som da palavra...

Em áreas de planalto, os solos são também avermelhados, mas não possuem a fertilidade da terra roxa. Na planície litorânea, o solo é bastante arenoso.

Algumas áreas dos pampas estão sofrendo processo de desertificação, devido à retirada da vegetação nativa e sua substituição por monoculturas ou pastos.

Denise Moraes. Fragmento de “Biomás Campos Sulinos”. Disponível em: <<http://www.invivo.fiocruz.br/>>.

Identifique o segmento que contém uma conjunção:

- (A) “Na região dos pampas, o solo é fértil.”
- (B) “[...] italianos que vieram para o Brasil trabalhar na lavoura.”
- (C) “[...] e acabou confundindo *rosso* com roxo por causa do som da palavra...”
- (D) “Na planície litorânea, o solo é bastante arenoso.”

QUESTÃO 9 (EF69LP03.1JAB)

Como ocorre o processo de pirâmide invertida no gênero textual notícia?

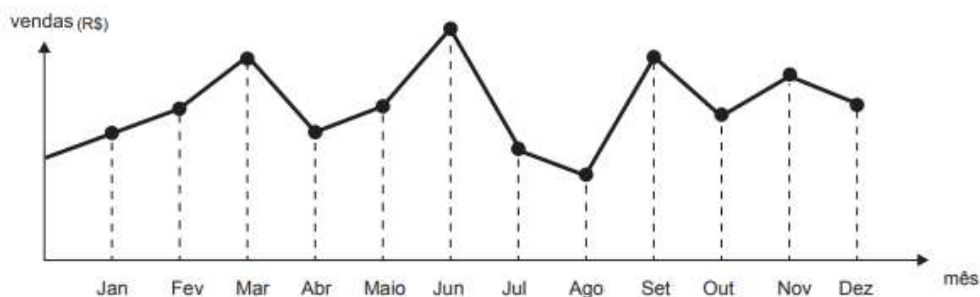
QUESTÃO 10 (EF69LP03.1JAB)

Quais as diferenças básicas entre a notícia e a reportagem?

MATEMÁTICA – 9º ANO

QUESTÃO 1 (EF09MA21.1JAB)

O dono de uma farmácia resolveu colocar à vista do público o gráfico mostrado a seguir, que apresenta a evolução do total de vendas (em Reais) de certo medicamento ao longo do ano de 2011.



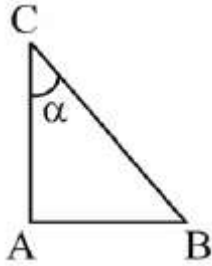
De acordo com o gráfico, os meses em que ocorreram, respectivamente, a maior e a menor venda absoluta em 2011 foram:

- (A) Março e Abril
- (B) Março e Agosto
- (C) Agosto e Setembro
- (D) Junho e Agosto



QUESTÃO 2 (EF09MA12.2JAB)

Considere o triângulo ABC abaixo. Realizando uma rotação de 90° no sentido horário em torno do vértice A, observaremos que:



- (A) as medidas de \overline{AB} e α se mantêm.
- (B) a medida de \overline{AB} se mantém mas a de α não.
- (C) a medida de α se mantém mas a de \overline{AB} não.
- (D) as medidas de \overline{AB} e α irão alterar-se.

QUESTÃO 3 (EF09MA02.2JAB)

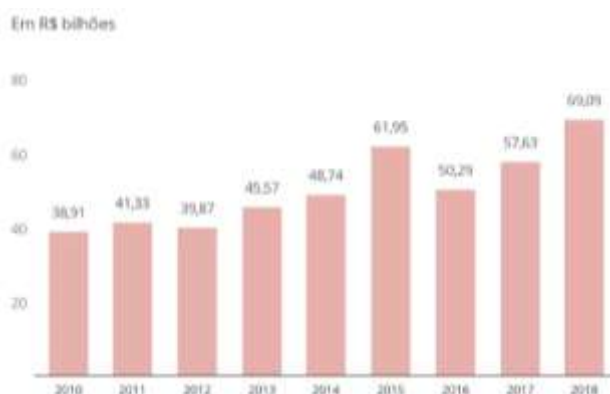
Os 2 ângulos formados pelos ponteiros de um relógio às 8 horas medem



- (A) 60° e 120°
- (B) 120° e 160°
- (C) 120° e 240°
- (D) 140° e 220°

QUESTÃO 4 (EF09MA21.1JAB)

O gráfico a seguir representa o lucro anual dos quatro maiores bancos do Brasil de 2010 até 2018.





Marque a alternativa que possui a afirmação incorreta:

- (A) No ano de 2010 os bancos obtiveram o menor lucro no período apresentado.
- (B) No ano de 2018 os bancos obtiveram o maior lucro no período apresentado.
- (C) A média do lucro dos anos de 2016 e 2017 é 53,96 bilhões.
- (D) O maior lucro dos bancos foi no ano de 2015.

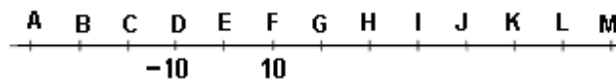
QUESTÃO 5 (EF08MA01.2JAB)

Uma das principais provas de velocidade do atletismo é a prova dos 400 metros rasos. No campeonato Mundial de Sevilha, em 1999, o atleta Michael Johnson venceu essa prova, com a marca de 43,18 segundos. Esse tempo, em segundo, escrito em notação científica é:

- (A) $0,4318 \times 10^2$
- (B) $4,318 \times 10^1$
- (C) $43,18 \times 10^0$
- (D) $431,8 \times 10^{-1}$

QUESTÃO 6 (EF09MA01.3JAB)

Na reta numérica da figura abaixo, o ponto D corresponde ao número inteiro -10 e o ponto F, ao número inteiro 10 .

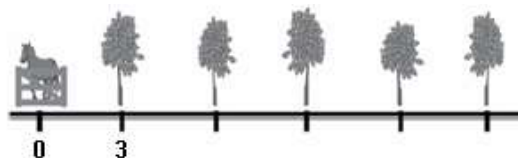


Nessa reta, os pontos correspondentes aos inteiros 50 e -30 são respectivamente:

- (A) J e H
- (B) H e J
- (C) B e A
- (D) J e B

QUESTÃO 7 (EF09MA01.3JAB)

Jeremias plantou uma fileira de cinco árvores frutíferas distanciadas 3 metros uma da outra. Veja abaixo a representação dessas árvores.



Qual é a distância entre a quinta árvore e a porteira?

- (A) 15 m
- (B) 12 m
- (C) 9 m
- (D) 6 m



QUESTÃO 8 (EF09MA03.5JAB)

Nas Lojas Baratão, um fogão pode ser vendido de duas formas: à vista por R\$ 399,00 ou em 12 parcelas iguais de R\$ 36,50. Os amigos Paulo e Roberto compraram, cada um, um fogão nessa loja: Paulo, à vista e Roberto, à prazo. Assinale a alternativa que mostra a quantia que Roberto pagou a mais do que Paulo.


- (A) R\$ 32,50. (C) R\$ 37,30.
(B) R\$ 35,00. (D) R\$ 39,00.



TURBINE + AINDA

QUESTÃO 9 (EF09MA03.5JAB)

Um aquário no formato de um cubo possui 4096 dm^3 de água. Qual é a aresta desse aquário?



QUESTÃO 10 (EF09MA09.5JAB)

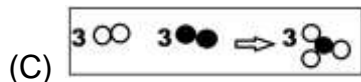
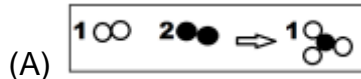
Quanto mede o lado de uma região quadrada se a área dessa região menos a medida do lado é igual a 870?



CIÊNCIAS – 9º ANO

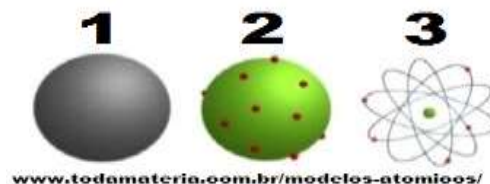
QUESTÃO 1 (EF09CI02.2JAB)

Considerando que os círculos claros e escuros representem átomos diferentes, qual dos esquemas abaixo representa uma reação química balanceada?



QUESTÃO 2 (EF09CI03.1JAB)

Os modelos atômicos 1, 2 e 3 foram representados respectivamente pelos cientistas:



- (A) Dalton, Newton, Einstein
- (B) Dalton, Thomson, Rutherford
- (C) Rutherford, Bohr, Dalton
- (D) Newton, Einstein, Thomson

QUESTÃO 3 (EF09CI03.2JAB)

O núcleo atômico é constituído de:

- (A) prótons e elétrons
- (B) eletrosfera e prótons.
- (C) nêutrons e prótons.
- (D) elétrons e nêutrons.

QUESTÃO 4 (EF09CI03.2JAB)

Com relação ao modelo atômico de Bohr, a afirmativa FALSA é:

- (A) Cada órbita eletrônica corresponde a um estado estacionário de energia.
- (B) O elétron emite energia ao passar de uma órbita mais interna para uma mais externa.
- (C) O elétron gira em órbitas circulares em torno do núcleo.
- (D) O elétron, no átomo, apresenta determinados valores de energia.



QUESTÃO 5

Tente descobrir o que representa o número **2** na “**equação replay**” e anote no caderno sua resposta.

Anote também quem são os **REAGENTES** e os **PRODUTOS** dessa reação química.



HISTÓRIA 9º ANO

QUESTÃO 1 (EF09HI10.1JAB)

Entre os anos de 1780 e 1914 a história foi marcada por duas revoluções industriais. A primeira aconteceu entre 1780 e 1850. Já a segunda estendeu-se entre 1850 e 1914. A segunda Revolução Industrial teve como fonte de energia principal o petróleo e ficou caracterizada pelo uso dos motores de combustão interna e motores elétricos. Sobre esse processo marque a alternativa que contém a informação correta.

- (A) Na segunda revolução industrial a principal fonte de energia utilizada foi o carvão vegetal e mineral.
- (B) As máquinas a vapor surgiram em 1914.
- (C) Os motores de combustão interna foram produtos das inovações tecnológicas produzidas durante a segunda revolução industrial.
- (D) O petróleo foi utilizado na primeira revolução industrial.



QUESTÃO 2 (EF09HI02.1JAB)

Assim que tomaram o poder em 1889, os militares responsáveis pela Proclamação da República organizaram uma Assembleia Constituinte para organizar uma nova constituição para o Brasil. Entre as determinações dessa nova constituição constava que as províncias passariam a ser chamadas de estados e o Brasil de Estados Unidos do Brasil, a extinção do poder moderador, um mandato de quatro anos para o presidente sem direito a reeleição, separação entre estado e igreja sem a existência de uma religião oficial e instituição do casamento civil. Marque abaixo a alternativa que contém uma dessas características.

- (A) O Brasil passaria a ser chamado de República Federativa do Brasil
- (B) Os poderes do Estado se dividiam em poder moderador, legislativo, executivo e judiciário.
- (C) O catolicismo permaneceu como religião oficial do Brasil
- (D) O presidente tinha um mandato de quatro anos sem direito a reeleição.

QUESTÃO 3 (EF09HI28.1JAB)

A Guerra Fria dividiu o mundo em dois blocos de influências de duas superpotências. Quais foram essas duas superpotências?

- (A) Japão e China
- (B) Estado e China
- (C) Estados Unidos e Rússia
- (D) Rússia e China

QUESTÃO 4 (EF09HI28.1JAB)

Durante a Guerra Fria, o mundo ficou dividido em dois blocos econômicos. Assinale abaixo a alternativa que define a ideologia dos Estados Unidos e da União Soviética respectivamente:

- (A) Socialista e Comunista
- (B) Socialista e Capitalista
- (C) Capitalista e Comunista
- (D) Capitalista e Feudalismo



QUESTÃO 3 (EF09GE01.1JAB)

No Brasil colônia, a pecuária teve um papel decisivo na

- (A) ocupação das áreas litorâneas.
- (B) expulsão do assalariado do campo.
- (C) formação e exploração dos minifúndios.
- (D) fixação do escravo na agricultura
- (E) expansão para o interior

QUESTÃO 4 (EF09GE01.1JAB)

Como não se tratava de regiões aptas para a produção de gêneros tropicais de grande valor comercial, como o açúcar ou outros, foi-se obrigado para conseguir povoadores (...) a recorrer às camadas pobres ou médias da população portuguesa e conceder grandes vantagens aos colonos que aceitavam ir-se estabelecer lá. O custo do transporte será fornecido pelo Estado, a instalação dos colonos é cercada de toda a sorte de providências destinadas a facilitar e garantir a subsistência dos povoadores; as terras a serem ocupadas são previamente demarcadas em pequenas parcelas, (...) fornecem-se gratuitamente ou a longo prazo auxílios vários (instrumentos de trabalho, sementes, animais, etc.)”.

(Prado Júnior, C. História econômica do Brasil. 27 ed. S. Paulo: Brasiliense, 1982. p. 95-6)

Com base no texto, é possível afirmar que o autor se refere:

- (A) à colonização do sertão nordestino através da pecuária.
- (B) à ocupação da Amazônia através das drogas do sertão.
- (C) à expansão para o interior paulista pelas entradas e bandeiras.
- (D) à colonização do Sul através da pecuária.
- (E) ao povoamento das Capitanias Hereditárias.



TURBINE + AINDA

QUESTÃO 5 (EF09GE01.2JAB)

Descubra qual foi a importância de Pernambuco, na II Grande Guerra Mundial.



LÍNGUA INGLESA – 9º ANO

QUESTÃO 1 (EF08LI05.2JAB)

Responda a pergunta abaixo, de acordo com a leitura do texto.

BUY A NEW CAR

Linda wants to buy a new car. She has an old car. Her old car is a white Honda. Linda wants to buy a new Honda. She wants to buy a new red Honda. She has saved \$ 1,000. She will use \$ 1,000 to help buy the new car. She will give \$ 1,000 to the Honda dealer. The Honda dealer will give her a contract to sign. The contract will require her to pay \$ 400 a month for seven years. Her new red Honda hers will cost Linda a lot of money. But that's okay, because Linda makes a lot of money.

(Texto retirado de: <https://www.eslfast.com/supereasy/se/supereasy013.htm>)

- (A) Linda está satisfeita com a marca de carro que ela tem? _____
- (B) Linda recebeu um prêmio em dinheiro para comprar um carro novo? _____
- (C) A compra do carro ocorreu na informalidade (sem documentação)? _____
- (D) Linda recebe um bom salário? _____

QUESTÃO 2 (EF09LI16.1JAB)

Passé as frases abaixo para a forma negativa.

- A) You should be dancing. _____
- B) John should stay here. _____
- C) Karl should have a new car. _____
- D) I should listen to you. _____

QUESTÃO 3

Leia e depois responda a questão:

Why am I compelled to write? Because the writing saves me from this complacency I fear. Because I have no choice. Because I must keep the spirit of my revolt and myself alive. Because the world I create in the writing compensates for what the real world does not give me. By writing I put order in the world, give it a handle so I can grasp it.

ANZALDÚA, G. E. Speaking in tongues: a letter to third

Gloria Evangelina Anzaldúa, falecida em 2004, foi uma escritora americana de origem mexicana que escreveu sobre questões culturais e raciais. Na citação, o intuito da autora é evidenciar as

- (A) compensações advindas da escrita.
- (B) possibilidades de mudar o mundo real.
- (C) escolhas que ela faz para ordenar o mundo.
- (D) maneiras de ela lidar com seus medos.



QUESTÃO 4 (EF09LI01.1JAB)

BIOGRAPHY

Pelé was born in 1940. He was a Brazilian soccer player. He is known as King Pelé, enchanted the world with his dribbles and passes. He worked as World Soccer Ambassador. He was elected the “Athlete of the Century”. He led the Santos Football Club, where he worked for two decades, more fortunate than forty bowls. He was top scorer of the Paulista championship, won the title 11 times, where 9 were consecutive. He was top scorer of the Libertadores, the Brazil Cup and the Rio São Paulo Tournament. He made his debut in the Brazilian National Team with only 17 years, incomplete, from 1971. He played in the New York Cosmos from 1975 to 1977. He was Sports Minister between 1995 and 1998. He won titles in several parts of the world.

How did he become known?

- (A) Soccer Player.
- (B) top scorer.
- (C) World Soccer Ambassador.
- (D) King Pelé.



TURBINE + AINDA

QUESTÃO 5

Qual é a melhor tradução para as frases abaixo?

Você não tem que carregar esse peso.

Você deve usar uniforme.



ARTE/MÚSICA – 9º ANO

QUESTÃO 1 (EF08AR01.2JAB)

A Pintura Egípcia, embora seja uma arte estilizada é também uma arte de atenção ao pormenor, de detalhe realista, que tenta apresentar o aspecto mais revelador de determinada entidade, embora com restritos ângulos de visão. Para esta representação são só possíveis três pontos de vista pela parte do observador: de frente, de perfil e de cima, e que cunham o estilo de um forte componente de estática, de uma imobilidade solene. Com ênfase no texto, podemos afirmar que a pintura egípcia obedece a regras:

- (A) Abstratas.
- (B) Figurativas.
- (C) Estilizadas.
- (D) Verossímeis.
- (E) Frontalistas.

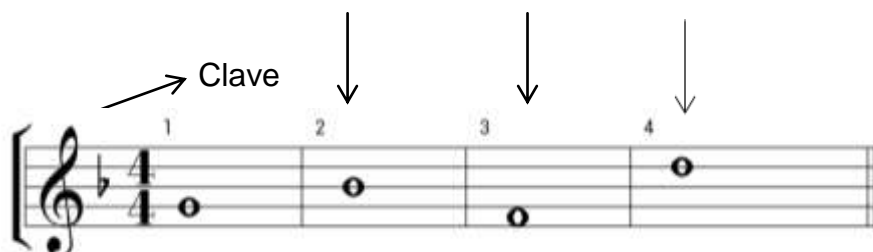
QUESTÃO 2 (EF09AR33.1JAB)

Entre os principais artistas da Jovem Guarda estão alguns que, a posteriori, tornaram-se ícones da música popular brasileira. Dentre eles, destacam-se:

- (A) Caetano Veloso, Chico Buarque e Milton Nascimento
- (B) Nara Leão, Elis Regina e Wanderleia
- (C) Xuxa Meneguel, Sérgio Mallandro e João Gordo.
- (D) Roberto Carlos, Erasmo Carlos e Jerry Adriani.

QUESTÃO 3 (EF09AR22.1JAB)

Tomando como base a primeira nota, que está escrita no primeiro compasso, na 2ª linha, e tem o mesmo nome da clave, responda: Qual o nome das notas dos compassos seguintes, escritas na 3ª linha, 1º espaço e na 4ª linha?



- (A) SI, FÁ e RÉ
- (B) DÓ, LÁ e MI
- (C) LÁ, SI e DÓ
- (D) RÉ, LÁ e FÁ



QUESTÃO 4 (EF09AR20.1JAB)

Sabendo-se que a distância entre duas teclas brancas com uma preta entre as duas é de **1 tom**, e a distância entre duas teclas brancas sem uma preta entre as duas, é de $\frac{1}{2}$ (**meio**) tom, responda: Quantos tons tem da tecla 1 (**DÓ**), até a tecla 4 (**FÁ**)?



DÓ 4

- (A) 1 tom
- (B) 2 tons
- (C) $2 \frac{1}{2}$ tons e meio
- (D) $3 \frac{1}{2}$ tons e meio



TURBINE + AINDA

QUESTÃO 5 (EF09AR02.3JAB)

Na aula sobre Performance

Diga algo que

Você faz e gosta _____

Você faz e não gosta _____

Você não faz e gosta _____

Você não faz e não gosta _____



EDUCAÇÃO FÍSICA – 9º ANO

QUESTÃO 1 (EF08EF01.1JAB)

O Tênis é considerado um esporte de rede, pois tem como objetivo bater a bola para o lado da quadra do adversário, por cima da rede. Sabendo disso, assinale a alternativa em que aponta o instrumento utilizado para jogar Tênis:

- (A) Taco.
- (B) Mãos.
- (C) Raquete.
- (D) Bastão.

QUESTÃO 2 (EF08EF02.1JAB)

O Voleibol é um esporte de rede, que tem como objetivo para pontuar atravessar a bola por cima da rede e fazer com que ela toque o chão no lado da quadra do adversário. Sobre o Voleibol marque a opção **CORRETA**:

- (A) O voleibol tem competições oficiais masculina, feminina e mista.
- (B) A altura da rede varia em relação a competições masculinas e femininas.
- (C) A bola de voleibol tem o mesmo peso da bola de basquete.
- (D) No Voleibol, é proibido tocar a bola com os pés.

QUESTÃO 3 (EF09EF04.1JAB)

O Brasil já teve tenistas de destaque mundial. Qual dos citados abaixo é um brasileiro que teve destaque no Tênis:

- (A) Gustavo Borges.
- (B) Rafael Nadal.
- (C) Gustavo Kuerten.
- (D) Roger Federer.

QUESTÃO 4 (EF09EF04.1JAB)

O Voleibol é um esporte de rede muito popular no Brasil. Qual a opção **INCORRETA** em relação ao Voleibol no país?

- (A) Atualmente, é um dos esportes mais populares no país. Porém, até os anos 1980, o Voleibol não era tão valorizado no Brasil.
- (B) Até hoje a Seleção masculina de voleibol nunca conquistou uma medalha de ouro olímpica.
- (C) O Voleibol ganhou destaque no Brasil após conquistar uma medalha de prata em 1984.
- (D) A Confederação Brasileira de Voleibol (CBV) é um órgão que já passou por escândalos de corrupção.



QUESTÃO 5 (EF09EF02.1JAB)

Organizar um mini-torneio de dominó (baralho, dama, 'par ou ímpar', etc.) entre você e as pessoas que moram contigo e registrar a atividade.

1. DEFINIR REGRAS E FORMATO DE COMPETIÇÃO

Exemplo:

- a. REGRAS HABITUAIS DO DOMINÓ (duplas, 6 peças para cada pessoa, batida normal vale 1 ponto, a partida acaba em 6 pontos, etc.);
- b. ELIMINATÓRIAS SIMPLES (a dupla que perder está eliminada e a vencedora segue na competição)

Pensar em uma premiação.

2. FAZER UMA TABELA COM OS CONFRONTOS.

3. EXECUTAR O MINI-TORNEIO

Vivenciar os papéis de atletas, árbitro(s), treinador(es) e torcedor(es).

Registrar as disputas (fotos, vídeos ou texto);

4. PREMIAÇÃO E REGISTRO FINAL

Realizar uma cerimônia de premiação;

Escrever um texto jornalístico sobre o evento.