

## LÍNGUA PORTUGUESA 2º ANO

**QUESTÃO 1.** ENCONTRE NO CAÇA-PALAVRAS OS NOMES DE PERSONALIDADES NEGRAS IMPORTANTES PARA NOSSA HISTÓRIA. MAS ATENÇÃO... OS NOMES DESSAS PESSOAS SÃO COMPOSTOS POR MAIS DE UMA PALAVRA. VOCÊ DEVERÁ ENCONTRAR APENAS O **PRIMEIRO NOME**.

**CHIQUINHA** GONZAGA – **PIXINGUINHA** – **RUTH** DE SOUZA – **IVONE** LARA – **MARIA** FIRMINA  
 - **ANA** DAS CARRANÇAS – **CAROLINA** MARIA DE JESUS –  
**MACHADO** DE ASSIS – **MILTON** SANTOS – **ZUMBI** – **ADHEMAR** FERREIRA DA SILVA

M	A	C	H	A	D	O	U	F	X	P	S	I	S
A	Y	P	N	R	N	P	I	Y	G	R	S	S	T
C	H	I	Q	U	I	N	H	A	O	N	B	A	A
F	K	X	G	T	V	P	P	M	N	R	Z	D	I
G	J	I	K	H	O	M	K	D	Z	F	U	H	A
N	Ç	N	N	G	N	L	A	R	A	G	M	E	L
M	Q	G	B	U	E	N	K	T	G	H	B	M	E
Ç	E	U	V	S	M	A	R	L	A	K	I	A	I
L	V	I	R	Y	N	U	X	H	S	D	D	R	J
O	C	N	N	K	X	N	L	M	P	L	J	J	A
P	U	H	S	Z	Y	G	Ç	I	L	M	D	E	D
U	U	A	T	N	T	Y	P	B	M	A	E	S	I
A	N	A	J	S	N	D	M	A	M	R	W	U	N
W	R	T	R	A	J	U	A	S	D	I	Q	S	H
D	O	F	C	A	R	O	L	I	N	A	Y	I	O
M	I	L	T	O	N	X	D	T	L	S	V	O	P

**QUESTÃO 2.** SEPARE AS PERSONALIDADES ACIMA DE ACORDO COM O QUADRO A SEGUIR.

HOMENS	MULHERES

**QUESTÃO 3.** LEIA A LETRA DA CANÇÃO E PREENCHA OS QUADROS AO LADO COM O QUE SE PEDE:

## Normal É Ser Diferente

Jair Oliveira

TÃO LEGAL, OH MINHA GENTE  
PERCEBER QUE É MAIS FELIZ QUEM COMPREENDE  
QUE AMIZADE NÃO VÊ COR  
NEM CONTINENTE  
E O NORMAL ESTÁ NAS COISAS DIFERENTES

AMIGO TEM DE TODA COR, DE TODA RAÇA  
TODA CRENÇA, TODA GRAÇA  
AMIGO É DE QUALQUER LUGAR  
TEM GENTE ALTA, BAIXA, GORDA, MAGRA

MAS O QUE ME AGRADA É  
QUE UM AMIGO A GENTE ACOLHE SEM PENSAR  
PODE SER IGUALZINHO A GENTE  
OU MUITO DIFERENTE

TODOS TEM O QUE APRENDER E O QUE ENSINAR  
SEJA CARECA OU CABELUDO  
OU MESMO DE OUTRO MUNDO  
TODO MUNDO TEM DIREITO DE VIVER E SONHAR

VOCÊ NÃO É IGUAL A MIM  
EU NÃO SOU IGUAL A VOCÊ  
MAS NADA DISSO IMPORTA  
POIS A GENTE SE GOSTA  
E É SEMPRE ASSIM QUE DEVE SER (BIS)

TÍTULO DA CANÇÃO:

---

---

NOMES DE DOIS MELHORES  
AMIGOS OU AMIGAS SEU:

---

---

VOCÊ DEVE TER MUITOS  
SONHOS! ESCREVA DOIS  
DELES AQUI:

---

---

---

---

**QUESTÃO 4.** DESCUBRA A PALAVRA ESCONDIDA NA FAIXA. VEJA AS DICAS E DESVENDE O MISTÉRIO. DEPOIS A ESCREVA NA FRENTE DA FAIXA:

COMEÇA COM A LETRA R	A ÚLTIMA SÍLABA É TO
É UMA AÇÃO QUE DEVEMOS PRATICAR COM O OUTRO.	A SÍLABA DO MEIO É <b>PEI</b>
POSSUI 8 LETRAS	TODOS PRECISAMOS DISSO





**QUESTÃO 5.** VOCÊS SABEM QUEM É A ANA DAS CARRANCAS? VAMOS CONHECER UM POUCO SOBRE ELA?



ANA LEOPOLDINA DOS SANTOS, A ANA DAS CARRANCAS, NASCEU NO DIA 18 DE FEVEREIRO DE 1923, EM SANTA FILOMENA, DISTRITO DE OURICURI, NO SERTÃO DO ARARIPE, DIVISA DE PERNAMBUCO COM O PIAUÍ. FILHA DE JOAQUIM INÁCIO DE LIMA, AGRICULTOR, E MARIA LEOPOLDINA DOS SANTOS, COM QUEM APRENDEU A ARTE DE MOLDAR O BARRO. ELA FICOU FAMOSA POR PRODUZIR ARTESANATO EM BARRO, ESPECIALMENTE AS CARRANCAS.

IMAGEM DISPONÍVEL EM : <https://i.pinimg.com/originals/af/5c/ff/af5cff7362e682ff5c09fcd349e9622a.jpg>

ONDE ANA NASCEU?

ELA APRENDEU A MOLDAR O BARRO COM QUEM?

EM QUAL MÊS DO ANO ANA NASCEU?

VOCÊ CONHECE OUTRA PESSOA QUE TAMBÉM NASCEU NESSE MÊS?

QUAL É O NOME DO LUGAR ONDE ANA NASCEU?

**QUESTÃO 6.** ANA NASCEU NA CIDADE DE OURICURI. VOCÊS SABIAM QUE ESSA CIDADE FAZ PARTE DO ESTADO ONDE MORAMOS? O NOME DO NOSSO ESTADO É PERNAMBUCO, ABAIXO ANOTAMOS OS NOMES DE ALGUMAS CIDADES QUE FAZEM PARTE DE PERNAMBUCO, VAMOS ANALISAR A ESCRITA DE CADA UMA DELAS?

CIDADE DE PERNAMBUCO	QUANTIDADE DE SÍLABAS	QUANTIDADE DE LETRAS
OURICURI		
JABOATÃO		
RECIFE		
MORENO		

EM QUAL CIDADE VOCÊ MORA? ESCREVA AQUI O NOME DELA.

**QUESTÃO 7.** ABAIXO TEMOS O MAPA DO NOSSO ESTADO DE PERNAMBUCO, NELE LOCALIZAMOS A CIDADE ONDE ANA NASCEU E A CIDADE ONDE A NOSSA ESCOLA ESTÁ LOCALIZADA, MAS FALTA COMPLETAR AS PALAVRAS, VAMOS LÁ?

O	U						
---	---	--	--	--	--	--	--



J	A								

**QUESTÃO 8.** ANA FICOU FAMOSA POR FAZER MUITAS CARRANCAS COM ARGILA, ABAIXO VOCÊ PODE OBSERVAR A OBRA DA ARTISTA:



- ✓ AGORA, REGISTRE A ÚLTIMA SÍLABA DA PALAVRA CARRANCA.
- ✓ ESCREVA OUTRAS PALAVRAS QUE COMECEM COM A ÚLTIMA SÍLABA DA PALAVRA CARRANCA.

--

## LEIA O TEXTO

VOCÊ SABE COMO FAZER MASSINHA DE MODELAR?

MATERIAL NECESSÁRIO:

- 1 COPO COM ÁGUA
- 1 COLHER DE CHÁ DE SAL
- 1 COLHER DE SOPA DE ÓLEO DE COZINHA
- 500 GRAMAS DE FARINHA DE TRIGO

MODO DE FAZER:

- EM UMA BACIA COLOQUE A FARINHA O SAL E O ÓLEO
- MISTURE TUDO COM AS MÃOS ATÉ FORMAR UMA MASSA
- ACRESCENTE A ÁGUA E CONTINUE MISTURANDO

Fonte: <https://www.dicasmiudas.com.br/receita-de-massinha-de-modelar/>

**QUESTÃO 9.** ESSE TEXTO É

- (A) BILHETE      (B) CARTA      (C) CONVITE      (D) RECEITA

**QUESTÃO 10.** LEIA O TEXTO ABAIXO.



- O TEXTO QUE VOCÊ LEU É UM CONVITE DE:  
(A) CASAMENTO  
(B) FESTA JUNINA  
(C) FORMATURA  
(D) ANIVERSÁRIO

AGORA IDENTIFIQUE NO CONVITE E RESPONDA:

A) DE QUEM É A FESTA?

B) QUANDO SERÁ A FESTA?

C) QUAL A DURAÇÃO DA FESTA?

## MATEMÁTICA 2º ANO

**QUESTÃO 1.** RESOLVA AS OPERAÇÕES E PINTE APENAS O RESULTADO CORRETO:

$5+7=$	12
	15
	11

$7+6=$	17
	13
	16

$12+7=$	12
	19
	17

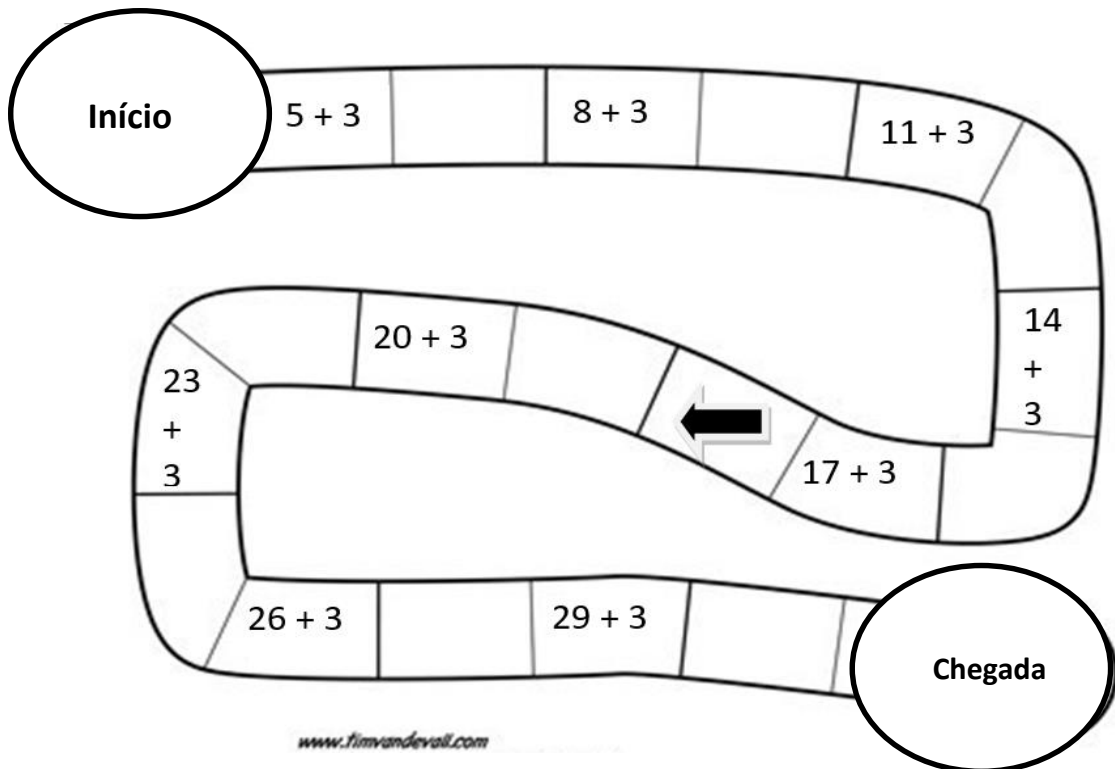
$10+7=$	27
	13
	17

$17+3=$	17
	27
	20

$9+6=$	15
	16
	19

**QUESTÃO 2.** DESCUBRA O SEGREDO! FAÇA AS OPERAÇÕES E COMPLETE A TRILHA. DEPOIS VÁ PINTANDO OS RESULTADOS COM AS CORES INDICADAS:

NÚMERO PAR	NUMERO IMPAR
VERMELHO	AMARELO








DESCOBRIU O SEGREDO?



**QUESTÃO 3.** CAIO CONVIDOU OS AMIGOS DA ESCOLA PARA JOGAR UMA PARTIDA DE FUTEBOL NUM CAMPINHO AO LADO DA CASA DELE. CAIO PEDIU QUE A MÃE PREPARESSSE UMA SALADA DE FRUTAS PARA ELE E OS AMIGOS. COMO ESTAVA FALTANDO ALGUNS INGREDIENTES ELA TEVE QUE IR ÀS COMPRAS. VEJA A LISTA DAS FRUTAS QUE A MÃE DE CAIO COMPROU:

- 4 MAÇÃS
- 1 MAMÃO
- 2 ABACAXIS
- 4 BANANAS
- 6 LARANJAS

PREENCHA A TABELA SEGUINDO O EXEMPLO PARA DESCOBRIR QUANTO ELA GASTOU.

FRUTA	VALOR UNITÁRIO	QUANTIDADE	VALOR TOTAL
	R\$ 3,00	2 UNIDADES	R\$ 6,00
	R\$ 2,00		
	R\$ 0,50		
	R\$ 0,50		
	R\$ 0,25		

**QUESTÃO 4.** RESPONDA:

QUAL A FRUTA MAIS CARA?

QUAL DESSAS FRUTAS É A SUA PREFERIDA?

QUANTO A MÃE DE CAIO GASTOU NO TOTAL?

**QUESTÃO 5.** VOCÊS CONHECEM O ADHEMAR FERREIRA DA SILVA? VAMOS LER UM POUCO SOBRE ELE?

ADHEMAR FERREIRA DA SILVA FOI O RESPONSÁVEL PELA PRIMEIRA MEDALHA DE OURO CONQUISTADA PELO ATLETISMO BRASILEIRO.

O ATLETA NASCEU EM SÃO PAULO, NO BAIRRO DA CASA VERDE EM 29 DE SETEMBRO DE 1927. ELE COMEÇOU NO SALTO TRIPLO EM 1948, AOS 18 ANOS.

FONTE: <https://www.geledes.org.br/adhemar-ferreira-da-silva-o-joao-pulo/> (ADAPTADO)

AGORA, VAMOS ORGANIZAR AS INFORMAÇÕES SOBRE ADHEMAR EM UMA TABELA?

### A VIDA DO ADHEMAR

NOME COMPLETO	DATA DE NASCIMENTO	EM QUAL CIDADE NASCEU	QUAL IDADE ELE TINHA QUANDO COMEÇOU NO SALTO TRIPLO?

CONTE PARA ALGUÉM DA SUA FAMÍLIA SOBRE O QUE VOCÊ ACHOU MAIS INTERESSANTE SOBRE A VIDA DO ADHEMAR.

**QUESTÃO 6.** ABAIXO ESTÃO ANOTADOS OS MESES DO ANO, MARQUE UM X NO MÊS EM QUE ADHEMAR NASCEU.

JANEIRO	FEVEREIRO	MARÇO	ABRIL
MAIO	JUNHO	JULHO	AGOSTO
SETEMBRO	OUTUBRO	NOVEMBRO	DEZEMBRO

E VOCÊ? NASCEU EM QUAL MÊS? PROCURE E PINTE NO QUADRO ACIMA.



**QUESTÃO 7.** VOCÊS FICARAM CURIOSOS SOBRE O ESPORTE QUE ADHEMAR PRATICAVA? VAMOS LER MAIS UM POUQUINHO?

## SALTO TRIPLO

O SALTO TRIPLO É UMA COMBINAÇÃO DE TRÊS SALTOS SUCESSIVOS QUE TERMINAM COM A QUEDA EM UMA CAIXA DE AREIA. A PROVA COMEÇA COM UMA CORRIDA DE IMPULSO. OS SALTOS SÃO INVALIDADOS CASO O ATLETA PISE NA BORDA OU EM ALGUM PONTO DA TÁBUA DE IMPULSÃO.

FONTE: <http://www.dicionarioolimpico.com.br/atletismo/cenario/salto-triplo> (ADAPTADO)

ABAIXO, OBSERVE A DISTÂNCIA QUE ADHEMAR CONSEGUIU ATINGIR EM DIFERENTES CAMPEONATOS:

### AS CONQUISTAS DO ADHEMAR NO SALTO TRIPLO

ANO	1947	1948	1952
CAMPEONATOS	TROFÉU BRASIL	OLIMPÍADAS DE LONDRES	OLIMPÍADAS DE HELSINQUE
DISTÂNCIAS ALCANÇADA*	13 METROS	14 METROS	16 METROS

\*A ANOTAÇÃO DA DISTÂNCIA É APROXIMADA, NÃO REGISTRAMOS NÚMEROS DECIMAIS.

FONTES: <http://antigo.acordacultura.org.br/herois/herois/adhemarferreirada-silva>  
<https://www.geledes.org.br/adhemar-ferreira-da-silva-o-joao-pulo/>

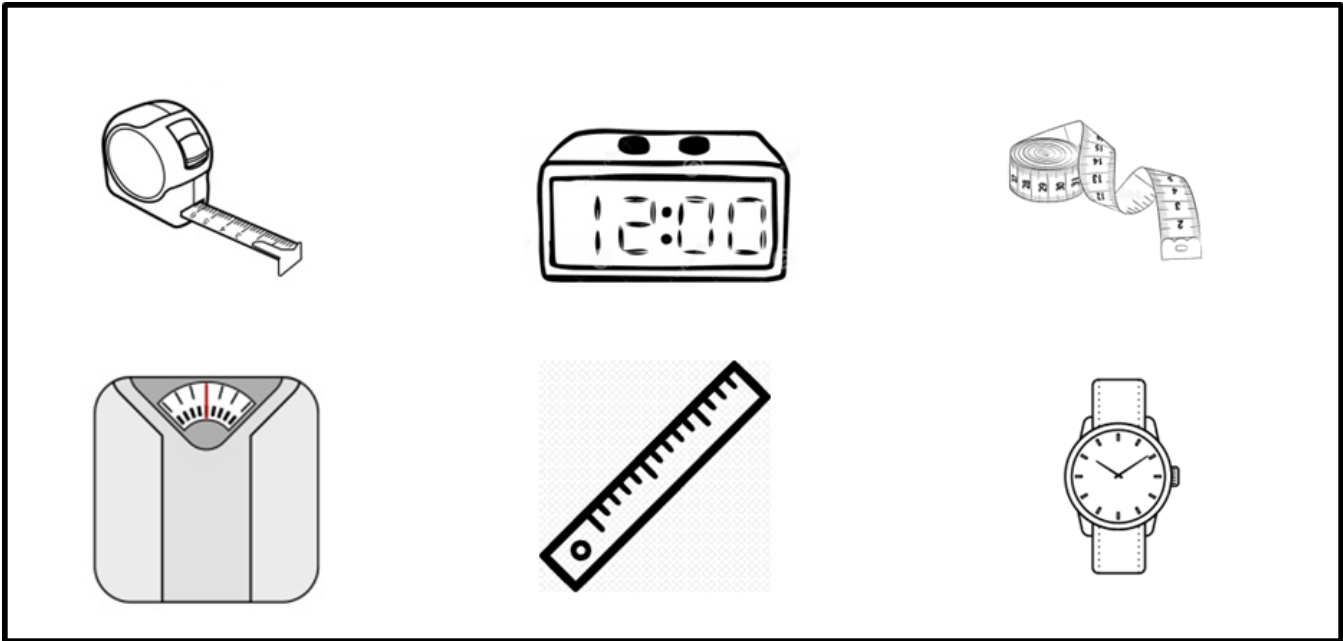
▪ EM QUAL ANO ADHEMAR CONSEGUIU ATINGIR A MAIOR DISTÂNCIA NO SALTO TRIPLO?

▪ EM 1947 ELE ATINGIU 13 METROS DE DISTANCIA, EM 1952 ELE ATINGIU QUANTOS METROS A MAIS?

**QUESTÃO 8.** DEPOIS DE CONHECEREM A HISTÓRIA DE ADHEMAR FERREIRA, ISABELA E GUSTAVO RESOLVERAM BRINCAR DE SALTO EM DISTÂNCIA. OBSERVE O DESENHO E CIRCULE QUEM DEU O SALTO MAIS DISTANTE:



**QUESTÃO 9.** OBSERVE ABAIXO NO QUADRO ALGUNS INSTRUMENTOS DE MEDIR. CIRCULE AQUELES QUE PODEM SER USADOS PARA MEDIR SALTOS EM DISTÂNCIA:



**QUESTÃO 10.** VAMOS BRINCAR DE SALTAR?

NOME DA BRINCADEIRA: **COBRINHA**

O QUE PRECISA PARA BRINCAR? CORDA

QUANTIDADE DE PARTICIPANTES? 4 OU MAIS PESSOAS

COMO BRINCAR?

- DUAS PESSOAS SEGURAM AS PONTAS DE UMA CORDA COMPRIDA, SENTADAS NO CHÃO.
- ELAS COMEÇAM A FAZER UM MOVIMENTO DE COBRINHA COM A CORDA NO CHÃO.
- AS CRIANÇAS DA FILA COMEÇAM A PULAR A COBRINHA
- DE VEZ EM QUANDO A DUPLA QUE MOVIMENTA A CORDA LEVANTA A COBRINHA DO CHÃO.
- QUEM TOCAR NA CORDA SAI DA BRINCADEIRA.



<https://www.smartkids.com.br/colorir/desenho-pular-corda-cobrinha>

FONTE: <http://mapadobrinca.folha.com.br/brincadeiras/corda/210-cobrinha> (ADAPTADA)

QUANTAS PESSOAS PARTICIPARAM DA SUA BRINCADEIRA?

QUEM CONSEGUIU PULAR A COBRINHA MAIS TEMPO SEM TOCAR NA CORDA?