

2º SIMULADO 2018 DA REDE MUNICIPAL DO

JABOATÃO DOS GUARARAPES



**LÍNGUA PORTUGUESA**

**MATEMÁTICA**

**5º ANO DO ENSINO FUNDAMENTAL**

NOME:


TURMA:

TURNO:

ESCOLA:


ALUNO(A):


ANO: 5º ENSINO FUNDAMENTAL/ TURMA:

TURNOS:

## 2º SIMULADO DE 2018

### LÍNGUA PORTUGUESA

1	<input type="radio"/>	<input checked="" type="radio"/>	<input type="radio"/>	<input type="radio"/>
---	-----------------------	----------------------------------	-----------------------	-----------------------

Você deverá pintar apenas uma alternativa

1	<input type="radio"/>	<input type="radio"/>	<input type="radio"/>	<input type="radio"/>
2	<input type="radio"/>	<input type="radio"/>	<input type="radio"/>	<input type="radio"/>
3	<input type="radio"/>	<input type="radio"/>	<input type="radio"/>	<input type="radio"/>
4	<input type="radio"/>	<input type="radio"/>	<input type="radio"/>	<input type="radio"/>
5	<input type="radio"/>	<input type="radio"/>	<input type="radio"/>	<input type="radio"/>
6	<input type="radio"/>	<input type="radio"/>	<input type="radio"/>	<input type="radio"/>
7	<input type="radio"/>	<input type="radio"/>	<input type="radio"/>	<input type="radio"/>
8	<input type="radio"/>	<input type="radio"/>	<input type="radio"/>	<input type="radio"/>
9	<input type="radio"/>	<input type="radio"/>	<input type="radio"/>	<input type="radio"/>
10	<input type="radio"/>	<input type="radio"/>	<input type="radio"/>	<input type="radio"/>

### MATEMÁTICA

1	<input type="radio"/>	<input checked="" type="radio"/>	<input type="radio"/>	<input type="radio"/>
---	-----------------------	----------------------------------	-----------------------	-----------------------

Você deverá pintar apenas uma alternativa

1	<input type="radio"/>	<input type="radio"/>	<input type="radio"/>	<input type="radio"/>
2	<input type="radio"/>	<input type="radio"/>	<input type="radio"/>	<input type="radio"/>
3	<input type="radio"/>	<input type="radio"/>	<input type="radio"/>	<input type="radio"/>
4	<input type="radio"/>	<input type="radio"/>	<input type="radio"/>	<input type="radio"/>
5	<input type="radio"/>	<input type="radio"/>	<input type="radio"/>	<input type="radio"/>
6	<input type="radio"/>	<input type="radio"/>	<input type="radio"/>	<input type="radio"/>
7	<input type="radio"/>	<input type="radio"/>	<input type="radio"/>	<input type="radio"/>
8	<input type="radio"/>	<input type="radio"/>	<input type="radio"/>	<input type="radio"/>
9	<input type="radio"/>	<input type="radio"/>	<input type="radio"/>	<input type="radio"/>
10	<input type="radio"/>	<input type="radio"/>	<input type="radio"/>	<input type="radio"/>

**AGORA VOCÊ IRÁ RESPONDER AS QUESTÕES DE LÍNGUA PORTUGUESA**

Leia o texto abaixo.



**QUESTÃO 01**

No primeiro quadrinho desse texto, os meninos estão correndo porque

- (A) estão brincando de pega-pega.
- (B) estão com medo da menina.
- (C) querem chegar em casa.
- (D) querem nadar no rio.

Leia o texto abaixo para responder as questões 2 e 3:

**O outro príncipe sapo**

Era uma vez um sapo.

Certo dia, quando estava sentado na sua vitória-régia, viu uma linda princesa descansando à beira do lago. O sapo pulou dentro da água, foi nadando até ela e mostrou a cabeça por cima das plantas aquáticas.

“Perdão, ó linda princesa”, disse ele com sua voz mais triste e patética.

“Será que eu poderia contar com vossa ajuda?”

A princesa estava prestes a dar um salto e sair correndo, mas ficou com pena daquele sapo com sua voz tão triste e patética. Assim, ela perguntou:

“O que posso fazer para te ajudar, sapinho?”

“Bem”, disse o sapo. “Na verdade, eu não sou um sapo, mas um belo príncipe transformado em sapo pelo feitiço de uma bruxa malvada. E esse feitiço só pode ser quebrado pelo beijo de uma linda princesa”.

A princesa pensou um pouco, depois ergueu o sapo nas mãos e lhe deu o beijo.

“Foi só uma brincadeira”, disse o sapo.

Pulou de volta no lago, e a princesa enxugou a baba de sapo dos seus lindos lábios. **Fim.**



SCIESZKA, Jon. O patinho realmente feio e outras histórias malucas. Companhia das Letrinhas: São Paulo, 1997.

**QUESTÃO 02**

De acordo com esse texto, a princesa foi

- (A) brincalhona.
- (B) inocente.
- (C) malvada.
- (D) teimosa.

**QUESTÃO 03**

No trecho, “ o sapo pulou dentro da água, foi nadando até ela e mostrou a cabeça por cima das plantas aquáticas”, a palavra destacada se refere a

- (A) água.
- (B) cabeça.
- (C) princesa.
- (D) vitória-régia.

Leia o texto abaixo.

**S.O.S. Planeta, Água**

Apesar de todos os seres vivos e a natureza precisarem de água doce, as principais fontes de abastecimento não têm sido tratadas como deveriam. Por isso, ela já está fazendo falta em muitos países.

O Dia Internacional da Água Doce, 22 de março, foi criado para chamar atenção sobre o assunto e descobrir meios de utilizar melhor esse recurso natural, combatendo a poluição, protegendo rios e nascentes, economizando e reaproveitando a água.

Como não dá para imaginar a vida sem água, é muito importante não deixar torneiras abertas, não lavar carros e calçadas, não jogar lixos nas ruas, rios e córregos e consertar rapidinho qualquer tipo de vazamento.

Revista Sítio do Picapau Amarelo. Ano 9, março, 2003. p.6.

**QUESTÃO 04**

De acordo com esse texto, é importante não deixar torneiras abertas porque

- (A) deve-se controlar o uso da água.
- (B) deve-se reaproveitar a água.
- (C) é necessário tratar a água.
- (D) é preciso combater a poluição.

Leia o texto abaixo.

**VOCÊ NÃO TEVE A SORTE DE NASCER  
COM A CASA PRÓPRIA NAS COSTAS?**



**"A Construtora Boa Casa" tem casas e apartamentos nos melhores bairros.**

Adaptado de "Português, uma proposta para o letramento", SOARES, M. Livro 2.

### QUESTÃO 05

O autor escreveu esse texto para

- (A) vender a sorte das pessoas.
- (B) vender animais pequenos.
- (C) vender bastantes tartarugas.
- (D) vender casas e apartamentos.

Leia o texto abaixo para responder as questões 6 e 7:

#### No alto das árvores

O bicho-preguiça é um mamífero que só é encontrado nas florestas da América Central e do Sul. Ele vive no alto das árvores, alimentando-se, basicamente, de folhas e, às vezes, de flores e frutos.

Raramente, ele desce ao chão. E, quando o faz, é com muito cuidado, porque é tão acostumado a vida na árvore que, quando está no chão, pode ser facilmente capturado por seus inimigos naturais, como a onça.

Mas, para fazer suas necessidades, o que acontece uma vez por semana, não tem outra saída. Ele desce devagarzinho pelo tronco da árvore e, quando chega no chão, faz um buraquinho no solo com sua pequena, curta e dura cauda.

No buraquinho, ele deposita suas fezes e urina, cobrindo-as com folhas secas. Depois, é claro, volta para o alto das árvores.

Revista Ciência Hoje das Crianças - nº 62 ano9, p.13.

2º Simulado de Língua Portuguesa e Matemática (5º Ano do Ensino Fundamental)

### QUESTÃO 06

O bicho-preguiça se alimenta, principalmente, de

- (A) flores.
- (B) folhas.
- (C) frutos.
- (D) sementes.

### QUESTÃO 07

A finalidade desse texto é

- (A) demonstrar.
- (B) divertir.
- (C) informar.
- (D) refletir.

Leia o texto abaixo.

#### Dever de casa

Joãozinho chega em casa e já ia subindo até seu quarto, mas antes seu pai o chamou e disse:

\_Pô, Joãozinho, se eu continuar fazendo todos os seus deveres a professora vai notar!

E Joãozinho responde:

\_Já notou. Hoje mesmo ela disse que era impossível eu fazer tanta coisa errada sozinho.

Acesso em: 05/10/2008.

### QUESTÃO 08

O que torna esse texto engraçado é

- (A) a preocupação do pai com a professora desconfiada.
- (B) a reclamação do pai ao filho por não ter feito a tarefa.
- (C) o menino ter chegado em casa sem falar com seu pai.
- (D) o pai ter feito os deveres do filho de forma errada.

Leia o texto abaixo para responder as  
questões 9 e 10:

ERA UMA **VEZ...**  
**A formiga e a pomba**

Uma formiga foi à margem do rio para beber água e, sendo arrastada pela forte correnteza, estava prestes a se afogar. Uma pomba que estava numa árvore sobre a água arrancou uma folha e a deixou cair na correnteza perto dela. A formiga subiu na folha e flutuou em segurança até a margem.

Pouco tempo depois, um caçador de pássaros veio por baixo da árvore e se preparava para colocar varas com visgo perto da pomba que repousava nos galhos alheia ao perigo.

A formiga, percebendo sua intenção, deu-lhe uma ferroadinha no pé. Ele imediatamente deixou cair sua armadilha e, isso deu chance para que a pomba voasse para longe a salvo.

Autor: Esopo

**Moral da História:**

Quem é grato de coração sempre encontrará oportunidades para mostrar sua gratidão.

**QUESTÃO 09**

De acordo com esse texto, quem estava prestes a se afogar?

- (A) A formiga.
- (B) A pomba.
- (C) O caçador.
- (D) Os pássaros.

**QUESTÃO 10**

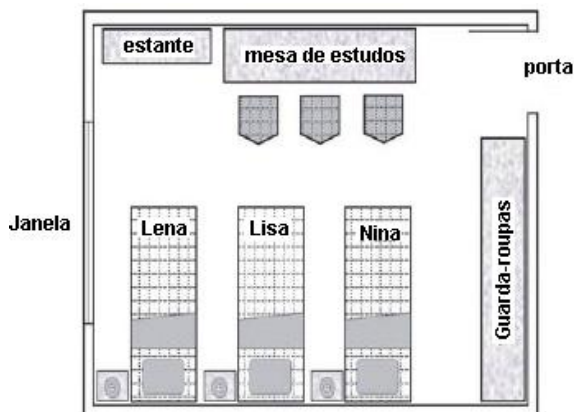
Nesse texto, a formiga se salvou porque

- (A) estava numa árvore.
- (B) queria beber água.
- (C) se agarrou à folha da árvore.
- (D) se manteve à margem do rio.

**AGORA VOCÊ IRÁ RESPONDER AS  
QUESTÕES DE MATEMÁTICA**

**QUESTÃO 01**

Observe a figura abaixo. Ela representa o quarto de Lena, Lisa e Nina visto de cima.

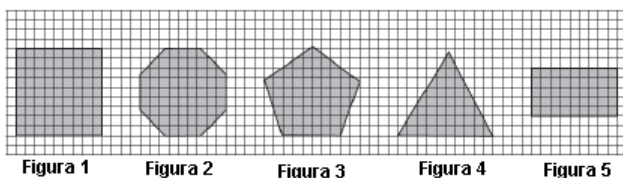


De acordo com essa vista, que móvel fica mais distante da janela do quarto?

- (A) Guarda-roupas
- (B) Estante
- (C) Mesas de estudos
- (D) Cama da Lena

**QUESTÃO 02**

Veja as figuras abaixo.

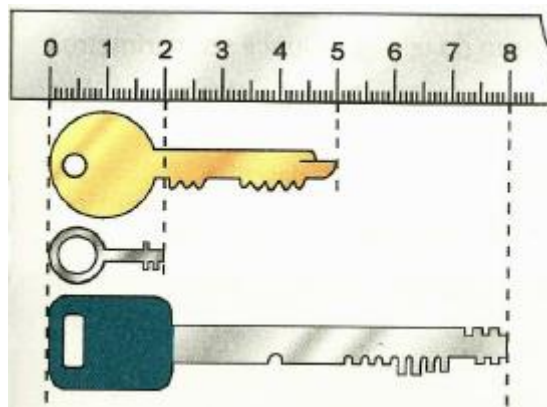


Quais dessas figuras são quadriláteros?

- (A) 1 e 4
- (B) 2 e 3
- (C) 1 e 5
- (D) 4 e 5

**QUESTÃO 03**

A ilustração abaixo indica o tamanho das chaves.



Qual a diferença em centímetros da chave maior para a chave menor?

- (A) 2 cm
- (B) 5 cm
- (C) 6 cm
- (D) 8 cm

**QUESTÃO 04**

Ana estava jogando vídeo game. Na primeira partida, Ana fez 436 pontos. Na segunda, fez 896 pontos. Na terceira partida, perdeu 576 pontos. Quantos pontos Ana fez ao final dessas três partidas?

- (A) 756
- (B) 844
- (C) 856
- (D) 866

### QUESTÃO 05

Veja a ilustração que mostra as moedas que Maria tem.




Ela quer trocar essas moedas por notas de R\$ 1,00. Com quantas notas de R\$ 1,00 Maria ficará?

- (A) 2
- (B) 3
- (C) 4
- (D) 5

### QUESTÃO 06

Francisco está com febre.

Veja a ilustração do termômetro que marca a temperatura dele.



Esse termômetro está marcando

- (A) 39° C.
- (B) 39,3° C.
- (C) 39,5° C.
- (D) 40° C.

### QUESTÃO 07

Um grupo de alunos organizou uma Olimpíada de Matemática.

A tabela apresenta o número de inscritos.

	6º ano	7º ano	8º ano	9º ano
meninas	17	19	13	12
meninos	16	11	19	16

De acordo com os dados da tabela, o maior número de inscritos pertence ao

- (A) 9º ano.
- (B) 8º ano.
- (C) 7º ano.
- (D) 6º ano.

### QUESTÃO 08

Carlos adora ver televisão. Todos os dias ele passa 3 horas na frente da TV.



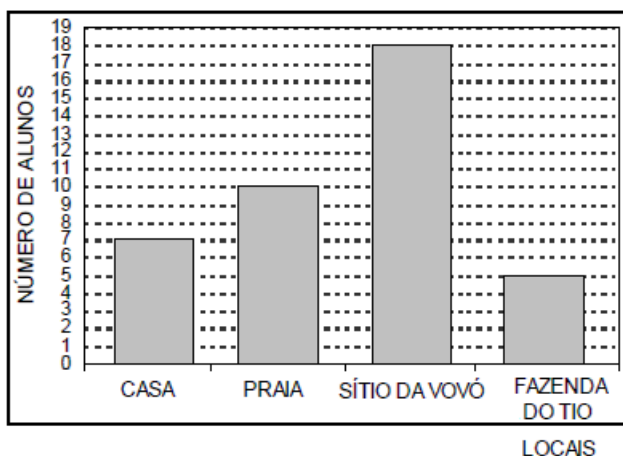
Por quantos minutos ele assiste à televisão por dia?

- (A) 180 minutos
- (B) 240 minutos
- (C) 90 minutos
- (D) 60 minutos

### QUESTÃO 09

No final do ano, os alunos do 5º ano fizeram uma pesquisa na sala para saber onde cada um ia passar as férias. Cada aluno podia escolher um só lugar.

O gráfico mostra o resultado da pesquisa.

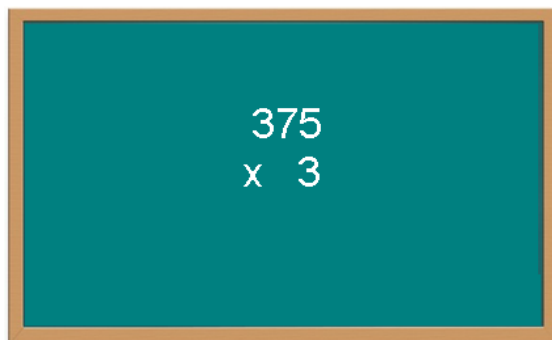


Qual dos locais foi o menos escolhido pelos alunos para passarem as férias?

- (A) Casa
- (B) Fazenda do tio
- (C) Praia
- (D) Sítio da vovó

### QUESTÃO 10

Paula fez a multiplicação a seguir e apagou o resultado.


$$\begin{array}{r} 375 \\ \times 3 \\ \hline \end{array}$$

O resultado da multiplicação que Paula apagou é

- (A) 915.
- (B) 925.
- (C) 1115.
- (D) 1125.