

NOME: _____

ESCOLA _____



SECRETARIA MUNICIPAL DE EDUCAÇÃO



CADERNO DE ATIVIDADES MARÇO 2021

Turbine seu conhecimento

- 4º ANO -



CADERNO DE ATIVIDADES

Turbine seu conhecimento



LÍNGUA PORTUGUESA 4º ANO

QUESTÃO 01 LEIA ATENTAMENTE O TEXTO ABAIXO E RESPONDA A INTERPRETAÇÃO:

A velhinha que dava nome às coisas

Era uma vez uma velhinha que adorava dar nome às coisas.

Ela apelidou seu velho carro de Beto. A velha poltrona onde descansava apelidou de Frida. Chamava a velha cama onde dormia de Belinha. E à sua casa deu o nome de Glória.

Toda manhã ela se levantava de Belinha, tomava uma xícara de café sentada em Frida, trancava Glória e dirigia Beto até o correio. Ela sonhava em receber uma carta de alguém, mas tudo o que recebia eram contas.

A velhinha nunca recebia nenhuma carta porque todos os seus amigos já haviam morrido. Isso a preocupava. Ela não gostava da idéia de estar só, sem nenhum amigo, sem ninguém a quem ela pudesse chamar pelo nome.

Então ela começou a dar nome às coisas.

Cynthia Rylant. Em: A velhinha que dava nome às coisas. SP, 1997.

Em quantos parágrafos este texto foi escrito?

Qual é o título deste texto?

Quem é a personagem principal?

O que a velhinha fazia?

Por que ela começou a dar nome às coisas?



CADERNO DE ATIVIDADES

Turbine seu conhecimento



QUESTÃO 02 NUMERE A 2ª COLUNA DE ACORDO COM A 1ª:

<input type="checkbox"/> A PONTO FINAL	<input type="checkbox"/> INDICA QUE ALGUÉM VAI FALAR
<input type="checkbox"/> B VÍRGULA	<input type="checkbox"/> INDICA A FALA DO PERSONAGEM
<input type="checkbox"/> C PONTO DE EXCLAMAÇÃO...	<input type="checkbox"/> FINALIZA FRASES INTERROGATIVAS
<input type="checkbox"/> D PONTO DE INTERROGAÇÃO	<input type="checkbox"/> EXPRESSA ESPANTO, SURPRESA E DOR.
<input type="checkbox"/> E TRAVESSÃO	<input type="checkbox"/> INDICA QUE A FASE TERMINOU
<input type="checkbox"/> F DOIS PONTOS	<input type="checkbox"/> PEQUENA PAUSA NA LEITURA

QUESTÃO 03 O QUE SÃO ADJETIVOS E COMO ELES SÃO CLASSIFICADOS? DÊ EXEMPLOS:

QUESTÃO 04 OBSERVE O MODELO E COMPLETE COM O GRAU SUPERLATIVO DE CADA ADJETIVO:

ÁGIL = AGILÍSSIMO

FÁCIL = _____

BAIXO = _____

ALTO = _____

FELIZ = _____

VELOZ = _____

AMÁVEL = _____

LIMPO = _____

MAL = _____

CÉLEBRE = _____

FIEL = _____



QUESTÃO 05 CIRCULE OS NUMERAIS DAS FRASES E CLASSIFIQUE- OS EM: **CARDINAL, ORDINAL, FRACIONÁRIO E MULTIPLICATIVO.**

- a) COMPREI MEIA DÚZIA DE MAÇÃS. _____
- b) OS MENINOS RECEBERÃO O DOBRO DA QUANTIA EM DINHEIRO.


















- c) O AÇOUGUEIRO PESOU OITO QUILOS DE FÍGADO.

- d) MEU PRIMO GANHOU O SEXTO LUGAR NA CORRIDA.

QUESTÃO 06 COMPLETE O QUADRO COM OS PRONOMES PESSOAIS:

PESSOAIS DO CASO RETO	PESSOAIS DO CASO OBLÍQUO	DE TRATAMENTO

QUESTÃO 07 CLASSIFIQUE OS PRONOMES, USANDO SÍMBOLOS:

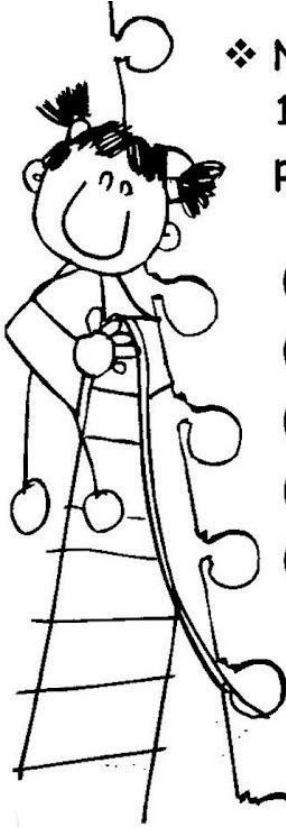
Caso Reto 	Caso Oblíquo 	Tratamento 
 vocês	 comigo	 mim
 eles	 senhor	 tu
 nós	 lhe	 contigo
 conosco	 senhora	 eu
 me	 se	



*"O meu coração exulta pelo Deus vivo."
(Salmos 84:2)*



QUESTÃO 08



❖ Numere a 2ª coluna de acordo com a 1ª, encontrando os antônimos das palavras.



- | | |
|-----------------|--------------------|
| (1) noite | () desonesto |
| (2) honesto | () fácil |
| (3) barulho | () desobediente |
| (4) difícil | () silêncio |
| (5) obediente | () dia |




QUESTÃO 09

❖ Faça frases com o sinônimo das palavras abaixo.



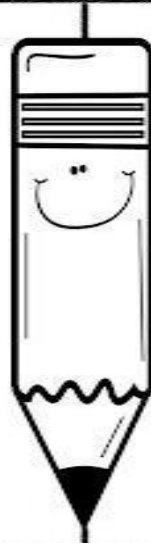
 caminhar	 macio	 feliz	 saltar	 residir
<hr/>				
<hr/>				
<hr/>				
<hr/>				



QUESTÃO 10 COMPLETE A TABELA CORRETAMENTE:

- Complete as palavras abaixo com *s*, *x* ou *z*.

ca _____ amento
confu _____ ão
a _____ ul
e _____ emplo
repre _____ a
nature _____ a
_____ umbido
te _____ ouva
_____ angado
e _____ ame
a _____ a



a _____ ar
e _____ ótico
limpe _____ a
curio _____ o
de _____ enho
vi _____ ita
e _____ ibido
a _____ eite
_____ angado
e _____ istir
rapo _____ a

CADERNO DE ATIVIDADES

Turbine seu conhecimento

MATEMÁTICA 4º ANO

QUESTÃO 01 RESOLVA AS ADIÇÕES

a) $523 + 258 =$	e) $640 - 152 =$
b) $686 + 136 =$	f) $818 - 209 =$
c) $477 + 299 =$	g) $961 - 308 =$
d) $348 + 179 =$	h) $466 - 215 =$

C	D	U

C	D	U

C	D	U

C	D	U

C	D	U

C	D	U



C	D	U

C	D	U



CADERNO DE ATIVIDADES

Turbine seu conhecimento

QUESTÃO 02

☞ Preencha o quadro com o produto.

X	1	2	3	4	5	6	7	8	9	10
2							14			
3										
4		8								
5										
6										
7										70
8										
9						54				

QUESTÃO 03 EFETUE AS OPERAÇÕES:

864 \div 4 _____	895 \div 5 _____	984 \div 3 _____	480 \div 2 _____
492 \div 12 _____	228 \div 12 _____	936 \div 13 _____	6528 \div 32 _____



CADERNO DE ATIVIDADES

Turbine seu conhecimento

QUESTÃO 04 ESCREVA OS NÚMEROS POR EXTENSO E COLOQUE-OS NAS ORDENS CORRETAS:

		C	D	U
128	→ Cento e vinte e oito	1	2	8
87	→			
137	→			
37	→			
8	→			
235	→			
179	→			
153	→			
104	→			
26	→			
92	→			
204	→			
159	→			

QUESTÃO 05 ESCREVA O SUCESSOR E O ANTECESSOR DOS NÚMEROS ABAIXO, PORÉM UTILIZANDO A NUMERAÇÃO ROMANA. OBSERVE O EXEMPLO:

X 11 XII

A) _____ 15 _____ B) _____ 31 _____ C) _____ 99 _____

D) _____ 2 _____ E) _____ 25 _____ F) _____ 43 _____

G) _____ 51 _____ H) _____ 78 _____ I) _____ 88 _____

CADERNO DE ATIVIDADES

Turbine seu conhecimento

QUESTÃO 06 PREENCHA O CALENDÁRIO DO MÊS QUE ESTAMOS PARA DEPOIS RESPONDER AS PERGUNTAS ABAIXO:

DOMINGO	SEGUNDA-FEIRA	TERÇA-FEIRA	QUARTA-FEIRA	QUINTA-FEIRA	SEXTA-FEIRA	SÁBADO

- A) EM QUAL ANO ESTAMOS? _____
- B) EM QUAL MÊS? _____
- C) PINTE DE VERMELHO O QUADRINHO QUE INDICA O DIA DE HOJE.
- D) QUAL É O NOME DO PRIMEIRO DIA DA SEMANA? _____
- E) QUAL É O NOME DO ÚLTIMO DIA DA SEMANA? _____
- F) QUANTOS DOMINGOS TEM ESTE MÊS? _____
- G) QUANTOS DIAS TEM UMA SEMANA? _____

QUESTÃO 07

Calcule o preço dos produtos abaixo:



12 pagamentos de R\$195,00

Operação



12 pagamentos de R\$48,00

Operação



12 pagamentos de R\$34,00

Operação



12 pagamentos de R\$179,00

Operação



12 pagamentos de R\$73,00

Operação

CADERNO DE ATIVIDADES

Turbine seu conhecimento

QUESTÃO 08

Preço	Paguei com	Recebi de troco
 R\$ 25,00	R\$ 50,00	<input type="checkbox"/> R\$ 15,00 <input type="checkbox"/> R\$ 75,00 <input type="checkbox"/> R\$ 3,00 <input type="checkbox"/> R\$ 25,00
 R\$ 68,00	R\$ 80,00	<input type="checkbox"/> R\$ 22,00 <input type="checkbox"/> R\$ 13,00 <input type="checkbox"/> R\$ 148,00 <input type="checkbox"/> R\$ 12,00
 R\$ 19,00	R\$ 20,00	<input type="checkbox"/> R\$ 1,00 <input type="checkbox"/> R\$ 11,00 <input type="checkbox"/> R\$ 39,00 <input type="checkbox"/> R\$ 2,00
 R\$ 86,00	R\$ 100,00	<input type="checkbox"/> R\$ 186,00 <input type="checkbox"/> R\$ 14,00 <input type="checkbox"/> R\$ 86,00 <input type="checkbox"/> R\$ 26,00

QUESTÃO 09 SOBRE O NOSSO SISTEMA DE MEDIDAS RESPONDA:

A) O PRINCIPAL INSTRUMENTO QUE MEDIMOS A MASSA É A:

B)) O _____ É A PRINCIPAL UNIDADE DE MEDIDA DE COMPRIMENTO.

C) O _____ É A PRINCIPAL UNIDADE DE MEDIDA DE CAPACIDADE.

D) O _____ É A PRINCIPAL UNIDADE DE MEDIDA DE MASSA.

E) COM O _____ E _____ É POSSÍVEL MEDIRMOS O TEMPO.

QUESTÃO 10 QUANTOS CENTÍMETROS FALTAM PARA COMPLETAR UM METRO?

A-50 CENTÍMETROS:

B-40 CENTÍMETROS:

C -30 CENTÍMETROS :