

3º SIMULADO 2018 DA REDE MUNICIPAL DO

JABOATÃO DOS GUARARAPES



# LÍNGUA PORTUGUESA

# MATEMÁTICA

## 5º ANO DO ENSINO FUNDAMENTAL

NOME:


TURMA:

TURNO:

ESCOLA:


ALUNO(A):


ANO: 5º ENSINO FUNDAMENTAL/ TURMA:

TURNO:

**3º SIMULADO DE 2018**

**LÍNGUA PORTUGUESA**

1	A	<input checked="" type="radio"/>	C	D
---	---	----------------------------------	---	---

Você deverá pintar apenas uma alternativa

1	A	B	C	D
2	A	B	C	D
3	A	B	C	D
4	A	B	C	D
5	A	B	C	D
6	A	B	C	D
7	A	B	C	D
8	A	B	C	D
9	A	B	C	D
10	A	B	C	D

**MATEMÁTICA**

1	A	<input checked="" type="radio"/>	C	D
---	---	----------------------------------	---	---

Você deverá pintar apenas uma alternativa

1	A	B	C	D
2	A	B	C	D
3	A	B	C	D
4	A	B	C	D
5	A	B	C	D
6	A	B	C	D
7	A	B	C	D
8	A	B	C	D
9	A	B	C	D
10	A	B	C	D

**AGORA VOCÊ IRÁ RESPONDER AS  
QUESTÕES DE LÍNGUA PORTUGUESA**

Leia o texto abaixo.

**O Desenhista**

A professora pegou Joãozinho na sala de aula desenhando caricaturas de seus amiguinhos. Tomou seu caderno e disse:

– Vamos mostrar para a diretora e ver o que ela acha disso!

Chegando na sala da diretora, após esta olhar com atenção para os desenhos, exclamou:

– Muito bonito isso, não é, seu Joãozinho?

Respondeu Joãozinho com a maior naturalidade do mundo:

– Bonito e bem desenhado. Na verdade, eu sempre soube que era um grande artista, mas a modéstia me impedia de falar sobre o assunto. Mas agora, vindo da senhora, sei que é sincero, por isso fico muito contente!

sitededicadas.uol.com.br, 19 de maio de 2008.

**QUESTÃO 01**

O que Joãozinho estava desenhando?

- (A) A diretora.
- (B) A professora.
- (C) Os amiguinhos.
- (D) Os artistas.

Leia o texto abaixo.



Disponível em: <http://www.monica.com.br/cookpage/cookpage.cgi?! pag=comics/tirinhas/tira244>>. cesso em: 14 ago. 2010.

**QUESTÃO 02**

Nesse texto, a menina que deu o susto queria

- (A) brincar com a amiga.
- (B) chamar a amiga.
- (C) dar emoção na leitura da amiga.
- (D) pedir para a amiga colher uma maçã.

Leia o texto abaixo.

### Caipora

É um Mito do Brasil que os índios já conheciam desde a época do descobrimento. Índios e Jesuítas o chamavam de Caiçara, o protetor da caça e das matas.

Seus pés voltados para trás servem para despistar os caçadores, deixando-os sempre a seguir rastros falsos. Quem o vê, perde totalmente o rumo, e não sabe achar o caminho de volta. É impossível capturá-lo. Para atrair suas vítimas, ele, às vezes, chama as pessoas com gritos que imitam a voz humana. É também chamado de pai ou Mãe-do-mato, Curupira e Caapora. Para os índios Guaranis, ele é o Demônio da Floresta. Às vezes é visto montando um porco do mato.

<http://www.arteducação.pro.br>

### QUESTÃO 03

De acordo com esse texto, os pés voltados para trás da Caipora sevem para

- (A) atrair suas vítimas.
- (B) despistar caçadores.
- (C) montar um porco do mato.
- (D) proteger as matas.

Leia o texto abaixo.

### Domingão

Domingo, eu passei o dia todo de bode. Mas, no começo da noite, melhorei e resolvi bater um fio para o Zeca.

— E ai, cara? Vamos ao cinema?

— Sei lá, Marcos. Estou meio pra baixo....

— Eu também tava, cara. Mas já estou melhor!

E lá fomos nós. O ônibus atrasou, e nós pagamos o maior mico, porque, quando chegamos, o filme já tinha começado. Teve até um mané que perguntou se a gente tinha chegado para a próxima sessão.

Sáimos de lá, comentando:

— Que filme massa!

— Maneiro mesmo!

Mas já era tarde, e nem deu para contar os últimos babados pro Zeca. Afinal, segunda-feira é de trampo e eu detesto queimar o filme com o patrão. Não vejo a hora de chegar de novo para eu agitar um pouco mais.

CAVÉQUIA. Márcia Paganini. In:  
<http://ensinocomalegria.blogspot.com>

### QUESTÃO 04

Os dois personagens que conversam nesse texto são

- (A) adultos.
- (B) crianças.
- (C) idosos.
- (D) jovens.

**Leia o texto abaixo.**

### **O disfarce dos bichos**

Você já tentou pegar um galhinho seco e ele virou bicho, abriu asas e voou? Se isso aconteceu é porque o graveto era um inseto conhecido como “bicho-pau”. Ele é tão parecido com o galhinho, que pode ser confundido com o graveto.

Existem lagartas que se parecem com raminhos de plantas. E há grilos que imitam folhas. Muitos animais ficam com a cor e a forma dos lugares em que estão. Eles fazem isso para se defender dos inimigos ou capturar outros bichos que servem de alimento. Esses truques são chamados de mimetismo, isto é, imitação.

O cientista inglês Henry Walter Bates foi quem descobriu o mimetismo. Ele passou 11 anos na selva amazônica estudando os animais.

MAVIAEL MONTEIRO, José. Bichos que usam disfarces para defesa. FOLHINHA, 6 NOV. 1993.

### **QUESTÃO 05**

O bicho-pau se parece com

- (A) florzinha seca.
- (B) folhinha verde.
- (C) galhinho seco.
- (D) raminho de planta.

**Leia o texto abaixo.**

### **A raposa e as uvas**

Uma raposa passou por baixo de uma parreira carregada de lindas uvas. Ficou logo com muita vontade de apanhar as uvas para comer.

Deu muitos saltos, tentou subir na parreira, mas não conseguiu.

Depois de muito tentar foi-se embora, dizendo:

— Eu nem estou ligando para as uvas. Elas estão verdes mesmo...

(ROCHA, Ruth. *Fábula de Esopo*. São Paulo, FTD, 1992.)

### **QUESTÃO 06**

O motivo por que a raposa não conseguiu apanhar as uvas foi que

- (A) a parreira era muito alta.
- (B) a raposa não quis subir na parreira.
- (C) as uvas ainda estavam verdes.
- (D) as uvas eram poucas.

Leia o texto abaixo.

Gaivota	
5	Estou sobrevoando Imenso mares azuis... Afasto-me da vida Quando de encontro Vou ao mar...
	Bato as asas E vou em busca de horizontes...
10	Mas quando vem a chuva, O frio toma conta de mim. É nesse instante que procuro buscar Um sol de alegria e de longas promessas...
15	Mas... com o sol Vem o vendaval Que passa E com ele vou também...

(TERSARIOL, Alpheu. *Técnicas de Expressão Escrita*. São Paulo: Li-Bra Empresa Editorial Ltda. p.238.)

### QUESTÃO 07

No trecho “E com ele vou também...”(v. 15), a palavra “ele” está no lugar de

- (A) frio.
- (B) mar.
- (C) sol.
- (D) vendaval.

Leia o texto abaixo.

### O ELEFANTE

O Juquinha e outros dois garotos foram levados ao diretor do zoológico por causa de uma baita briga.

O diretor começa o interrogatório:

\_ Quem é você e por que está aqui?

\_ Eu sou Juquinha e joguei amendoim nos elefantes.

Então o diretor perguntou ao segundo:

\_ Quem é você e por que está aqui?

\_ Eu sou Joãozinho e joguei amendoim nos elefantes.

Então o diretor perguntou ao terceiro menino, que estava todo machucado:

\_ Quem é você e por que está aqui?

\_ Eu sou o Amendoim.

(Fonte: DOMENICO, Guca; SARRUMOR, Laert. O elefante. In: Um campeonato de piadas. São Paulo: Nova Alexandria, 1999.)

### QUESTÃO 08

O texto é engraçado porque

- (A) Juquinha e seus amigos foram levados para o diretor do zoológico.
- (B) o terceiro menino estava todo machucado.
- (C) o terceiro menino tinha apelido de Amendoim.
- (D) os meninos jogaram amendoim no elefante.

**Leia o texto abaixo.**

### **A pipa Pepita**

ZeZito era o dono de Pepita, uma pipa verde e rosa, de carinha graciosa.

ZeZito preparou Pepita para concorrer no grande campeonato de pipas. Fitas coloridas saíam de suas pontas.

O dia amanheceu. O Sol estava forte e o céu azul. De toda parte chegava gente grande, gente pequena, com suas pipas de todos os jeitos. Tinha pipa-estrela, pipa-bicho, pipas de todos os jeitos.

Um apito deu o sinal e as pipas voaram no céu. Ele ficou colorido, como um dia de carnaval.

Pepita foi subindo...

Passou por várias nuvens e deixou as outras pipas para trás. Lá no alto, Pepita gritou:

— Até um dia, ZeZito! Vou fazer um grande vôo.

Se você olhar para o céu nas noites estreladas, verá Pepita, com seus cabelos de fita.

GOES, Lúcia Pimentel. A pipa Pepita. São Paulo: Scipione, 1988.

### **QUESTÃO 09**

No final dessa história, ZeZito

- (A) preparou a pipa para o campeonato.
- (B) perdeu sua colorida pipa.
- (C) ganhou o campeonato.
- (D) ficou olhando as pipas no céu.

**Leia o texto abaixo.**

### **Feias, sujas e imbatíveis** (fragmento)

As baratas estão na Terra há mais de 200 milhões de anos, sobrevivem tanto no deserto como nos polos e podem ficar até 30 dias sem comer. Vai encarar?

Férias, sol e praia são alguns dos bons motivos para comemorar a chegada do verão e achar que essa é a melhor estação do ano. E realmente seria, se não fosse por um único detalhe: as baratas. Assim como nós, elas também ficam bem animadas com o calor. Aproveitam a aceleração de seus processos bioquímicos para se reproduzirem mais rápido e, claro, para passearem livremente por todos os cômodos de nossas casas.

Nessa época do ano, as chances de dar de cara com a visitante indesejada, ao acordar durante a noite para beber água ou ir ao banheiro, são três vezes maiores.

Revista *Galileu*. Rio de Janeiro: Globo, Nº 151, Fev. 2004, p.26.

### **QUESTÃO 10**

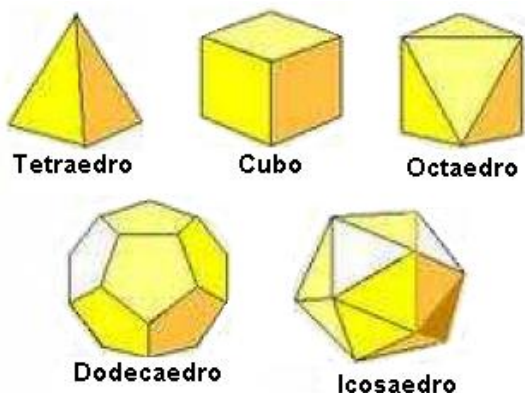
No trecho “Vai encarar?” (l. 2), o ponto de interrogação tem o efeito de

- (A) questionar.
- (B) desafiar.
- (C) avisar.
- (D) apresentar.

**AGORA VOCÊ IRÁ RESPONDER AS  
QUESTÕES DE MATEMÁTICA**

**QUESTÃO 01**

Os poliedros de Platão são aqueles que possuem características em comum, como é o caso do tetraedro, hexaedro, octaedro, dodecaedro e icosaedro. Abaixo temos a ilustração desses cinco sólidos geométricos.

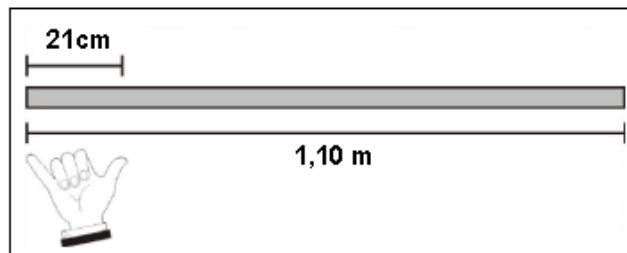


Quantas faces possui o tetraedro?

- (A) 12
- (B) 8
- (C) 6
- (D) 4

**QUESTÃO 02**

Carlos quer medir uma tábua e, para isso, está usando seu palmo, que mede 21 cm.



Assim sendo, essa tábua deve conter

- (A) mais de 4 palmos e menos de 5 palmos.
- (B) exatamente 5 palmos.
- (C) mais de 5 palmos e menos de 6 palmos.
- (D) exatamente 6 palmos.

**QUESTÃO 03**

O tempo de gestação de uma chinchila é de aproximadamente 120 dias.



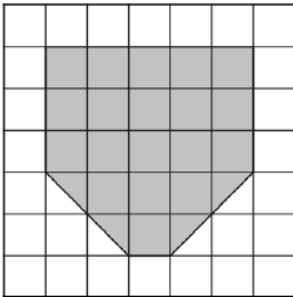
Quantos meses esse período representa aproximadamente?

- (A) 3 meses
- (B) 4 meses
- (C) 5 meses
- (D) 6 meses



**QUESTÃO 04**

Observe a figura abaixo.



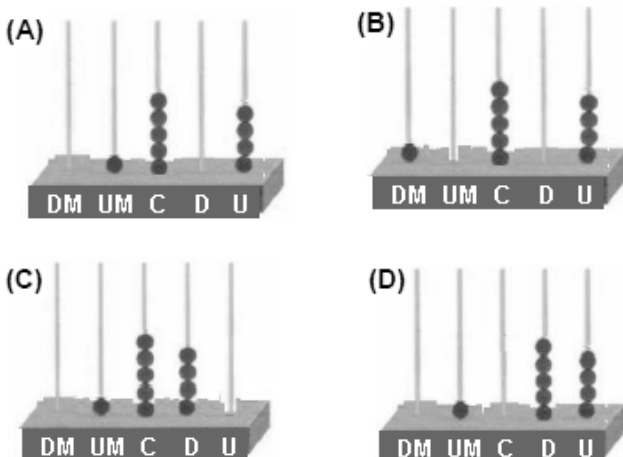
Considerando cada quadrinho da figura como unidade de medida, a área da região pintada é

- (A) 19.
- (B) 21.
- (C) 23.
- (D) 28.

**QUESTÃO 05**

Flávio representou o número 1540 no ábaco.

Marque o ábaco que corresponde a esse número.



**QUESTÃO 06**

Resolva a operação abaixo.

$$980 - 587$$

O resultado dessa operação é

- (A) 393.
- (B) 397.
- (C) 403.
- (D) 407.

**QUESTÃO 07**

A tabela abaixo mostra o resultado de uma pesquisa sobre o esporte que os estudantes mais gostam.

<b>ESPORTES QUE OS ESTUDANTES MAIS GOSTAM</b>		
	Meninos	Meninas
Futebol	150	76
Voleibol	100	139
Natação	105	60
Basquete	135	22

Qual esporte foi o mais votado?

- (A) Basquete.
- (B) Futebol.
- (C) Natação.
- (D) Voleibol.

### QUESTÃO 08

Cassia e Patrícia fizeram as tarefas de casa juntas. Uma das questões resolvidas é a que está no quadro.



A resposta correta é

- (A) 31.
- (B) 37.
- (C) 77.
- (D) 78.

### QUESTÃO 09

Uma pesquisa feita em uma escola, envolvendo os 500 alunos, demonstrou que 25% deles usavam óculos. Quantos alunos usavam óculos?

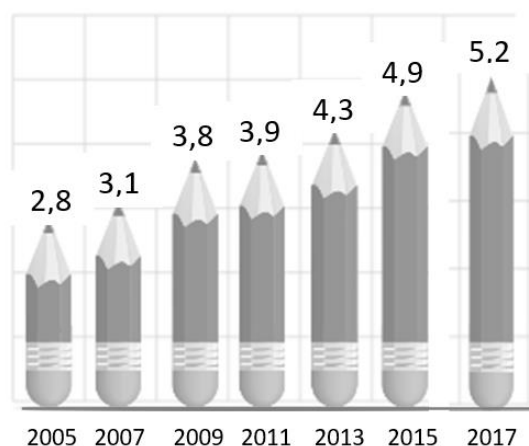
- (A) 125
- (B) 250
- (C) 500
- (D) 625



### QUESTÃO 10

O gráfico representa a evolução histórica do IDEB da Rede Municipal do Jaboatão dos Guararapes nos Anos Iniciais.

**EVOLUÇÃO HISTÓRICA IDEB  
ANOS INICIAIS**



Entre os anos de 2007 e 2009, o IDEB dos Anos Iniciais teve o maior crescimento. Esse crescimento foi de

- (A) 0,3.
- (B) 0,7.
- (C) 3,9.
- (D) 6,9.