

NOME: _____

ESCOLA: _____



SECRETARIA MUNICIPAL DE EDUCAÇÃO



CADERNO DE ATIVIDADES

3ª UNIDADE

Turbine seu conhecimento

Anos Iniciais – 1º Ano



LÍNGUA PORTUGUESA 1º ANO

QUESTÃO 1. (EF01LP03.1JAB)

PINTE A PALAVRA QUE REPRESENTA CADA IMAGEM:



HORTA
JARDINEIRO
JARDIM



MENINO
MELANCIA
METRALHA



PLATÉIA
PLANETA
PLACA

QUESTÃO 2 (EF01LP03.1JAB)

LIGUE CADA FIGURA A SUA LETRA INICIAL E AO SEU NOME:



M

BOLO



B

PIPOCA



P




MILHO






QUESTÃO 6 (EF01LP07.1JAB)

COMPLETE O NOME DAS FIGURAS COM A LETRA INICIAL CORRESPONDENTE:

A)

	G		G		G
	P		P		P
____ATO	M	____ATO	M	____ATO	M

B)

	B		B		B
	C		C		C
____OLA	M	____OLA	M	____OLA	M

QUESTÃO 7. (EF12LP04.2JAB)

LEIA O TEXTO COM AJUDA DE UM ADULTO.

As Borboletas

Branças
Azuis
Amarelas
E pretas
Brincam
Na luz
As belas
Borboletas
Borboletas brancas
São alegres e francas.




Borboletas azuis
Gostam muito de luz.

As amarelinhas
São tão bonitinhas!

E as pretas, então...
Oh, que escuridão!




MARQUE A ALTERNATIVA CORRETA. O TEXTO FALA SOBRE:

- (A) BORBOLETAS
- (B) ALEGRIA
- (C) BRINCADEIRAS
- (D) FESTA




QUESTÃO 09 (EF01LP13.2JAB) - DESAFIO DE LÍNGUA PORTUGUESA

LEIA AS PALAVRAS ABAIXO, DESCUBRA NOVAS PALAVRAS E AS ESCREVA. EM SEGUIDA DESENHE O QUE DESCOBRIU.

PALAVRA	NOVA PALAVRA	DESENHO
GALHO		
SAPATO		
GALINHA		
TUCANO		
CAMALEÃO		

QUESTÃO 10 (EF01CI02.1JAB) - DESAFIO DE CIÊNCIAS

OBSEVE O DESENHO. ESCREVA O NOME DAS PARTES DO CORPO HUMANO.





MATEMÁTICA 1º ANO

QUESTÃO 1 (EF01MA17.2JAB)

OBSERVE O CALENDÁRIO DO MÊS DE MAIO DE 2021 E RESPONDA:

Domingo	Segunda-feira	Terça-feira	Quarta-feira	Quinta-feira	Sexta-feira	Sábado	
						1	
2	3	4	5	6	7	8	
9	10	11	12	13	14	15	
16	17	18	19	20	21	22	
23	24	25	26	27	28	29	
30	31						

Calendários Michel Zbinden / 62DS

https://www.google.com/url?sa=i&url=https%3A%2F%2Fwww.pinterest.com%2Fpin%2F657666351826097490%2F&psig=AOvVaw1fxjBIU04i0cuVttTw_2yX&ust=1621619947387000&source=images&cd=vfe&ved=0CAMQjB1qFwoTCNjQt5vr2PACFQAAAAAdAAAAABAD

- A) QUANTOS SÁBADOS TÊM O MÊS DE MAIO? _____
- B) QUANTOS DOMINGOS TÊM O MÊS DE MAIO? _____
- C) QUAL O ANO QUE ESTAMOS? _____

QUESTÃO 2 (EF01MA17.2JAB)

COM AJUDA DE UM ADULTO LEIA EM VOZ ALTA OS MESES DO ANO:




Fonte: <https://onlinecursosgratuitos.com/24-atividades-sobre-meses-do-ano-para-imprimir/>

- ❖ PINTE DE VERMELHO O MÊS DO SEU ANIVERSÁRIO.
- ❖ QUAL É O PRIMEIRO MÊS DO ANO? _____.
- ❖ QUAL É O MÊS DA FESTA JUNINA? _____.



QUESTÃO 3. (EF01MA08.2JAB)

SOME OS ELEMENTOS E DESCUBRA O RESULTADO:

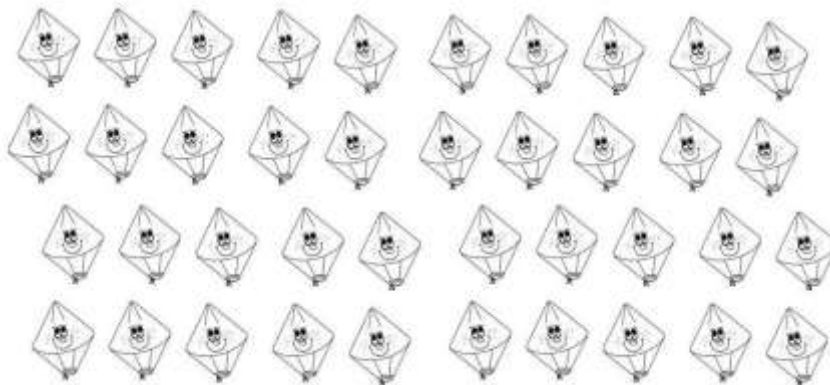


www.ensinar-aprender.com.br

QUESTÃO 4. (EF01MA07.1JAB)

CIRCULE OS BALÕES FORMANDO GRUPOS COM 10 ELEMENTOS:


10

 ELEMENTOS



QUESTÃO 7. (EF01MA08.1JAB)

ROSINHA E CHICO BENTO ESTÃO ESTUDANDO JUNTOS. ELE TROUXE 4 LIVROS E ELA 3 LIVROS. QUANTOS LIVROS ELES TÊM JUNTOS?



Fonte: <https://www.tudodesenhos.com/d/rosinha-e-chico-bento-na-escola>

ROSINHA E CHICO BENTO TÊM _____ LIVROS JUNTOS.

QUESTÃO 8 (EF01MA05.1JAB)

DESCUBRA O ANTECESSOR E O SUCESSOR. DEPOIS PINTE O QUADRADINHO ANTECESSOR DE AZUL E O SUCESSOR DE VERMELHO.

	2	
	5	
	8	
	3	



CADERNO DE ATIVIDADES



Turbine seu conhecimento



TURBINE + AINDA

QUESTÃO 9. (EF01HI01.5JAB) – DESAFIO DE HISTÓRIA

CONTE A SUA HISTÓRIA ATRAVÉS DE UMA LINHA DO TEMPO, DESENHANDO OU COLANDO FOTOGRAFIAS NO SEU CADERNO OU FOLHA. CONSIDERE OS ACONTECIMENTOS PRINCIPAIS COLOCANDO O ANO DE CADA ACONTECIMENTO, A IDADE QUE VOCÊ ESTAVA EM CADA OCASIÃO, PARTINDO DO SEU NASCIMENTO ATÉ A ATUALIDADE.

QUESTÃO 10. (EF02GE01.1JAB) – DESAFIO DE GEOGRAFIA

ESCREVA O NOME DA SUA ESCOLA E O BAIRRO ONDE ELA ESTÁ LOCALIZADA.

NOME DA ESCOLA	NOME DO BAIRRO

COMO É A SUA ESCOLA?

ESCOLHA O SEU ESPAÇO FAVORITO DA SUA ESCOLA E DESENHE BEM BONITO.

